

İLKOKUL1  
.com

Faydalı Olması  
Dileklerimizle...

Emrah&Elvan PEKŞEN

## 2/.... Sınıfı Türkçe Dersi Değerlendirme Sınavı

Adı-Soyadı:

Puan:

Düştüğümüzde bazen bir kemiğimiz kırılır. Kemik kendini yeniler. Ancak, kolumuzu fazla hareket ettirsek kemik iyileşmez ya da yanlış kaynar. Kolumuzun hareket etmemesi ve sabit kalması için alçıya almak gerekir. Kemik alçıya alındığında hızlı ve düzgün iyileşir. Bazen doktor kemiği alçıya alamaz. Kırık çok küçüktür veya kırığın olduğu kemik alçıya uygun değildir. O zaman doktor, kırığa atel takar ya da o bölgeyi sargıya alır.

1 -2-3-4. Soruları Yukarıdaki Metne Göre Cevaplayınız.

1. Ne zaman kemiğimiz kırılabilirmiş?

2. Kırık kemik bazen neden iyileşmemiş?

3. Bazen doktorlar kırığı neden alçıya almıyormuş?

4. Doktorlar kırığı alçıya almayınca ne yapıyorlarmış?

5. "Annem bulaşıkları yıkadı, ben de tabakları rafa dizdim." Cümlesinde altı çizili sözcüğü bu cümledeki anlamından farklı bir anlamda cümlede kullanın.

6. Aşağıya küçük harflerle alfabemizi yazınız.

7. Aşağıdaki sözcükleri alfabetik sıraya diziniz.

Alya - Çınar - Elvan - Esen - Birgül

Kedi - Zebra - Maymun - Eşek - At

8. Aşağıdaki sözcüklerde ünlü harfleri bulup yazınız.

Fenerbahçe → \_\_\_\_\_

Beşiktaş → \_\_\_\_\_



## 2/.... Sınıfı Matematik Dersi Değerlendirme Sınavı

Adı-Soyadı: .....

Puan: 9-10 ve 17. soru  
10 puan,  
diğerleri 5'er puan

1. Aşağıdaki boşluğa bir deste çiçek ve bir düzine kalem çiziniz.

Çiçek : \_\_\_\_\_


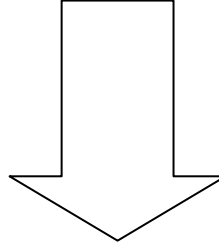
Kalem : \_\_\_\_\_

2. İki basamaklı en büyük sayı ile iki basamaklı en küçük sayının farkını işlem yaparak bulunuz.

3. "86.", doğal sayısında birler basamağındaki rakamın 4 katı kaçtır ? işlem yaparak bulalım.

4. "  $75 - 27 = ?$  ", yandaki çıkarma işlemi yaparak sonucu en yakın onluğa yuvarlayınız.

5. Aşağıdaki şekillerin simetri eksenini çiziniz.



6. Serkan 23 Nisan'da sınıfını süslemek için 82 bayrak alıyor. Bayrakların 17 tanesini 2/A sınıfına hediye ediyor. Geriye kalan bayrak sayısını bulalım.

7. Otoparkta 8 tane otomobil, 4 tane motosiklet ve 3 tane de minibüs vardır. Buna göre otoparkta toplam kaç tekerlek vardır?

8. 4 birlik ve 8 onluktan oluşan sayı kaçtır?



## 2/.... Sınıfı Hayat Bilgisi Dersi Değerlendirme Sınavı

Adı-Soyadı: .....

Puan:

1. Aşağıdaki ifadelerden doğru olanların başına "D", yanlış olanların başına "Y" yazınız.

- ( ) Bilinçli tüketici, açıkta satılan yiyecekleri alır.  
 ( ) Reklamı yapılan bütün ürünler kaliteli.  
 ( ) Sağlıklı büyümek ve gelişmek için spor yapmaya gerek yoktur.  
 ( ) Aileyi ilgilendiren konularda kararları sadece bir kişi vermelidir.  
 ( ) Ağzımızda yemek varken konuşmamalıyız.

2. Aşağıya duyu organlarımızı yazınız.


- 1 ..... 2 .....  
 3 ..... 4 .....  
 5 .....

3. Aşağıda tanımı verilen organların isimlerini altlarına yazalım.

Nefes alıp  
vermemizi  
sağlar.

Tüm vücudumuza kanı  
pomplar.

4. Aşağıdaki numaralandırılmış afetlerin isimlerini yazınız.



- 1 ..... 2 .....  
 3 ..... 4 .....

5. Atatürk ile ilgili bilgileri yazınız.

Doğduğu Şehir: .....

Öldüğü Şehir: .....

Anıtkabir Nerede: .....

Annesinin Adı: .....

Babasının Adı: .....

6 Ana yönleri aşağıya yazınız.

- 1 ..... 2 .....  
 3 ..... 4 .....

