

1. DÖNEM 2. KDS



ALİ NERKİZ
DENEME SINAVLARI

3. Sınıf

1. DÖNEM

2. KAZANIM DEĞERLENDİRME

SINAVI

*Eğitimde Feda Edilecek
Tek Bir Fert Yoktur.*

ÖĞRENCİNİN
ADI SOYADI
SINIFI
OKULU

;

H. Atatürk

.....

: 3 / NO :

: İLKOKULU

ANDS

TÜRKÇE TESTİ

BU BÖLÜMDE CEVAPLAYACAĞINIZ SORU SAYISI 15'TİR. CEVAPLAMAYA İSTEDİĞİNİZ SORUDAN BAŞLAYABİLİRSİNİZ. CEVAPLARINIZI CEVAP KAĞIDININ TÜRKÇE BÖLÜMÜNE İŞARETLEYİNİZ. **BAŞARILAR.**

HIRSIZIN HIÇ MI SUÇU YOK?

Bir Pazar gecesi Nasreddin Hoca'nın eşeği çalınmış. Ertesi gün can sıkıntısı içinde durumu komşularına anlatınca her kafadan bir ses çıkmaya başlamış. Birisi :

- Hocam, demiş. Niye ahırın kapısına iyi bir kilit takmadın sanki ?

Köyün muhtarı :

- Evine hırsız giriyor da senin nasıl haberin olmuyor? diye konuşmuş.

Caminin imamı da :



- Hocam demiş, kusura bakma ama eşeğin çalınmasına en büyük sebep yine sensin.

Çünkü doğru dürüst bir ahırın bile yok. Nerden baksan dökülüyor. Hoca en sonunda dayanamamış kızmış :

- Yahu demiş, iyi, güzel de kabahatin hepsi benim mi? Hırsızın hiç mi suçu yok ?

Not: 1. 2. ve 3. soruları metne göre cevaplayınız.

1. Metinde bahsedilen hayvan aşağıdakilerden hangisidir?



2. Metnin ana karakteri kimdir?

a. Muhtar

b. Nasreddin Hoca

c. Komşu

3. Nasreddin Hoca'nın hayvanı ne zaman çalınmıştır?

a. Salı sabahı

b. Cuma akşamı

c. Pazar gecesi



“Babam, gece gündüz demeden çalışıyordu.”

4. Yukarıdaki altı çizili kelimelerdeki anlam ilişkisi aşağıdakilerden hangisinde vardır?

a. Öğrenci



Talebe

b. Zayıf



Şişman

c. Hikaye



Öykü

5. Aşağıdakilerden hangisi olumsuz cümledir?

- a. Murat dün çok kötü bir şey yapmış.
- b. Cuma günü parka gitmeyeceğim.
- c. Hafta sonu buralara yağmur yağdı.

6. Alfabemizin ilk ve son harfi aşağıdakilerden hangisinde doğru olarak verilmiştir?

- a. a – z
- b. a – j
- c. a - y

7. Aşağıdaki çocuklardan hangisinin söylediği cümlede daha çok hece vardır?



Cumhuriyet, yirmi dokuz ekim bin dokuz yüz yirmi üçte ilan edildi.



Atatürk, bin sekiz yüz seksen bir yılında, Selanik’te doğdu.



Okulların açıldığı ilk hafta “İlköğretim Haftası”dır.



8. Aşağıdaki ifadelerin hangisi doğrudur?

- Alfabemizde ince ünlü harfler, “a,ı,o,u”dur.
- Türkçe sözcüklerde “m” harfi kullanılmaz.
- Türkçe sözcüklerde “ğ” harfi kelimenin ilk harfi olamaz.



Ali bahçeye oynamaya çıktı. Canı çok sıkılıyordu. Aklından “Bir arkadaşım olsa da oynasam !” diye geçirdi. Bu sırada önüne bir şey düştü. Ali önce korktu. Sonra düşen şeye doğru baktı. Bir de ne görsün? Bu bir güvercindi.



9. Yukarıdaki metinde hikâye unsurlarından hangisi yoktur?

- Kahraman
- Zaman
- Yer

“Öğretmenim bana hikaye kitabı armağan etti.”

10. Yukarıdaki cümlede altı çizili sözcüğün eş anlamlısı aşağıdakilerden hangisidir?

a.



b.



c.



1- mirasıdır

2- bu

3- atalarımızın

4- vatan

5- bize

11. Yukarıdaki kelimelerle kurallı ve anlamlı bir cümle oluşturulduğunda sıralama nasıl olur?

a. 2-5-4-3-1

b. 1-2-3-4-5

c. 2-4-5-3-1



12. Aşağıdakilerden hangisi tümce (cümle) değildir?
- Bugünün işini yarına bırakma.
 - Hayatta en hakiki mürşit, ilimdir.
 - Yarın sabah okula gidip

Kaban – Kağıt - - Kasap

13. Yukarıdaki sözcükler alfabetik sıralamaya göre sıralanmıştır. Buna göre noktalı yere aşağıdakilerden hangisi gelmelidir?
- Kaya
 - Kale
 - Keman

14. Aşağıdakilerden hangisinde noktalama işaretleri doğru kullanılmıştır?
- Babasını görünce çok şaşırılmıştı!
 - Ali, öğretmenine soru sordu?
 - Okulumu çok seviyorum.

Öpmek istiyorum hep o şefkatli elleri.
Yerimde sayıyordum alıp geçtin ileri.
Bana hep sen öğrettin o güzel bilgileri.
Benim bilgi kaynağım, sevgili öğretmenim.

HAKKI ÇELEBİ

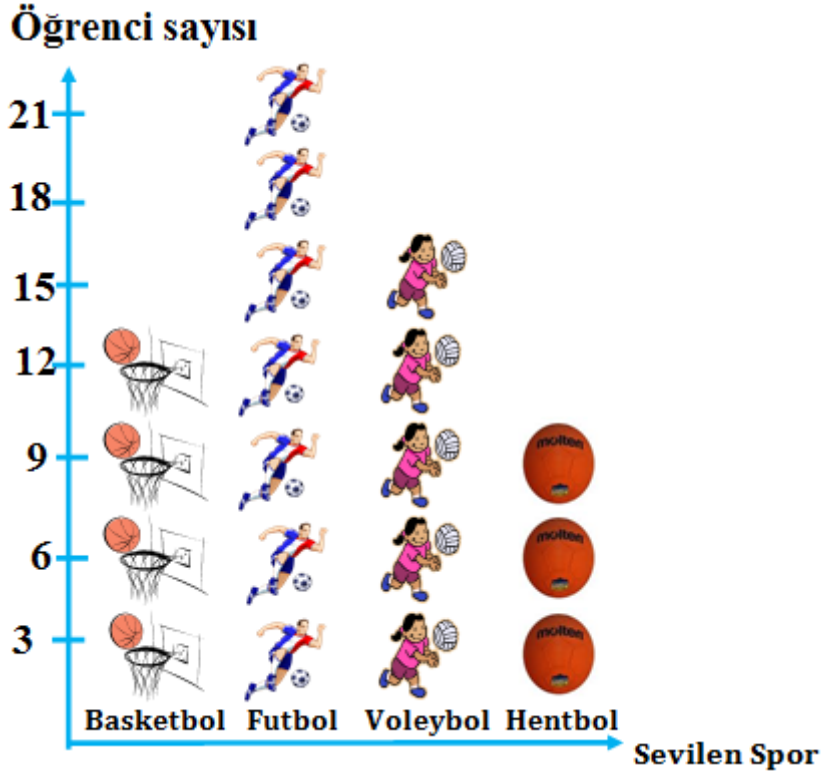
15. Yukarıdaki şiirin konusu aşağıdakilerden hangisidir?
- Eğitim
 - Şefkat
 - Öğretmen

TÜRKÇE TESTİ BİTMİŞTİR.



MATEMATİK TESTİ

BU BÖLÜMDE CEVAPLAYACAĞINIZ SORU SAYISI 15'TİR. CEVAPLAMAYA İSTEDİĞİNİZ SORUDAN BAŞLAYABİLİRSİNİZ. CEVAPLARINIZI CEVAP KÂĞIDININ MATEMATİK BÖLÜMÜNE İŞARETLEYİNİZ. **BAŞARILAR.**



Grafik: Yeşildam İlkokulu Öğrencilerinin Sevdiği Sporlar

Not: Her şekil 3 öğrenciyi göstermektedir.

NOT: 1,2,3, ve 4. Soruları tabloya göre cevaplayınız

- Öğrencilerin en sevdiği spor dalı hangisidir?
a. Futbol b. Basketbol c. Voleybol
- En çok sevilen spor dalı, en az sevilen spor dalından ne kadar fazladır?
a. 12 b. 1 c. 7
- Grafiğe göre Yeşildam İlkokulu'nda toplam kaç öğrenci vardır?
a. 19 b. 63 c. 57



4. Yukarıdaki verilere göre hazırlanan sıklık tablosu aşağıdaki-
lerden hangisidir?

a.

BASKETBOL	4
FUTBOL	7
VOLEYBOL	5
HENTBOL	3

b.

BASKETBOL	12
FUTBOL	21
VOLEYBOL	15
HENTBOL	9

c.

BASKETBOL	12
FUTBOL	18
VOLEYBOL	9
HENTBOL	15

284	689	248	306	75
-----	-----	-----	-----	----

5. Yukarıdaki sayılar hangi seçenekte büyükten küçüğe doğru
sıralanmıştır?

- a. 75 – 248 – 284 – 306 – 689
b. 689 – 306 – 248 – 284 – 75
c. 689 – 306 – 284 – 248 – 75

6. 7 birlik 9 yüzlükten oluşan sayı hangisidir?

- a. 709 b. 79 c. 907

7. 786 sayısının basamak değerlerinin toplamı kaçtır?

- a. 21 b. 786 c. 14

8. 17 sayısının Romen Rakamı ile yazılışı aşağıdakilerden
hangisidir?

- a. XVII b. XIX c. XVIII



9. Yandaki tabloya göre en çok ekmek satılan gün ile en az ekmek satılan gün arasındaki fark kaçtır?

- a. 39
b. 14
c. 51

Tablo: Satılan Ekmek Sayısı

Günler	Ekmek sayısı
Pazartesi	135
Salı	98
Çarşamba	110
Perşembe	149
Cuma	108

Pirinçli İlkokulu'nda 481 erkek öğrenci, erkek öğrencilerden 117 eksik kız öğrenci vardır.

10. Buna göre Pirinçli İlkokulu'nda toplam kaç öğrenci vardır?

- a. 598 b. 364 c. 845



11. Aşağıdaki işlemlerden hangisinin sonucu tektir?

a.

$$476-162$$



b.

$$189+271$$



c.

$$647-326$$



4	9	7	12	10	15	13	?	?	21
---	---	---	----	----	----	----	---	---	----

12. Yukarıdaki örüntüye göre soru işaretlerinin yerine sırasıyla hangi sayılar gelmelidir?

a. 11 – 19

b. 18 – 16

c. 18 – 20

13. Bir köyde keçilerin sayısı 160, ineklerin sayısı 195'tir. Köydeki kuzuların sayısı inek ve keçilerin toplamından 145 fazladır. Buna göre bu köyde kaç **kuzu** vardır?

a. 355

b. 500

c. 340

	6 yüzlük	5 onluk	3 birlik
—	2 yüzlük	7 onluk	5 birlik
<hr/>			

14. Yukarıdaki işlemin sonucu kaçtır?

a. 378

b. 928

c. 488



15. Yukarıdaki işlemde  ve  yerine hangi sayılar gelmelidir?

a.  140

190

b. 190

110

c. 190

140

MATEMATİK TESTİ BITMİŞTİR.



HAYAT BİLGİSİ TESTİ

BU BÖLÜMDE CEVAPLAYACAĞINIZ SORU SAYISI 10'DUR. CEVAPLAMAYA İSTEDİĞİNİZ SORUDAN BAŞLAYABİLİRSİNİZ. CEVAPLARINIZI CEVAP KAĞIDININ HAYAT BİLGİSİ BÖLÜMÜNE İŞARETLEYİNİZ. **BAŞARILAR.**

- Arkadaşımızın düşüncelerini kabul etmezsek dahi duymalıyız.
- Fiziksel farklılıklarla etmek doğru bir davranış değildir.

1. Yukarıdaki cümlelerde noktalı yerlere aşağıdaki ifadelerden hangisini yazamayız?

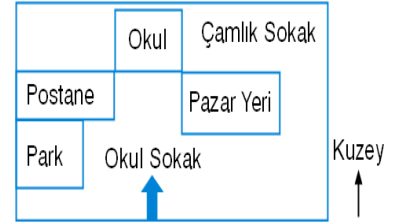
- a. Fiziksel b. saygı c. alay

2. Atatürk, aşağıdaki okullardan hangisine annesinin isteği üzerine gitmiştir?

- a. Şemsi Efendi İlkokulu.
b. Mahalle mektebi.
c. Askeri ortaokul.

3. Krokiye göre park, postanenin neresindedir?

- a. Doğusunda b. Kuzeyinde c. Güneyinde



4. Sevdiklerimizi özel günlere çağırmanın en güzel yolu hangisidir?

- a. Mektup b. Mesaj c. Davetiye

“Atatürk, 29 1923'te ilan etti.”

5. Yukarıdaki cümlede noktalı yerlere hangileri gelmelidir?

- a. Ocak – Kurtuluş Savaşı'nı
b. Ekim – Cumhuriyet'i
c. Nisan – TBMM'yi



“Bahçede koşarken arkadaşım düştü ve bacağı kanadı.”

6. Bu sözleri söyleyen Mustafa'nın ilk yapması gereken iş nedir?

- Hemen oradan uzaklaşmalıdır.
- Önce sakin olmalıdır.
- Öğretmenine haber vermelidir.


7. Yarın müzik dersi olan Furkan çantasına hangisini koymalıdır?

a.



Sulu boya

b.



Cetvel takımı

c.



Flüt

8. Aşağıdakilerden hangisi demokrasi kavramı ile ilgili değildir?

- Kulüp başkanını öğrencilerin seçmesi
- Oynanacak oyunu öğrencilerin seçmesi.
- Öğretmenin sevdiği öğrenciyi başkan seçmesi.

9. Aşağıdakilerden hangisi yanlı bir davranıştır?

- Hande'nin sadece sevdiği arkadaşlarını oyunda oynatması.
- Elif'in oyunda ebe olması.
- Emre'nin sınıf başkanlığına aday olması.

10. Okul kurallarının konulmasının nedeni aşağıdakilerden hangisi olamaz?

- güvenlik
- düzen
- kötülük

HAYAT BİLGİSİ TESTİ BITMİŞTİR.



FEN BİLİMLERİ TESTİ

BU BÖLÜMDE CEVAPLAYACAĞINIZ SORU SAYISI 10'DUR. CEVAPLAMAYA İSTEDİĞİNİZ SORUDAN BAŞLAYABİLİRSİNİZ. CEVAPLARINIZI CEVAP KAĞIDININ FEN BİLİMLERİ BÖLÜMÜNE İŞARETLEYİNİZ. **BAŞARILAR.**

1. Dünya'yı gemisiyle dolaşarak Dünya'nın yuvarlak olduğu ispatlayan denizci kimdir?

a. Biruni

b. Macellan

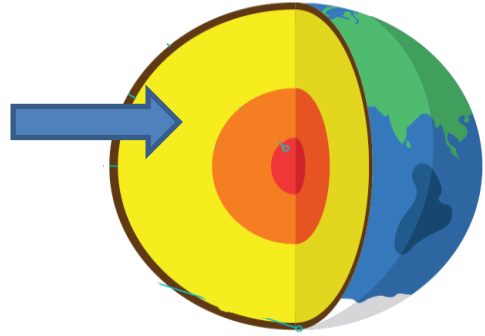
c. Pisagor

2. Yanda ok ile gösterilen katman hangisinde doğru olarak verilmiştir?

a. Manto

b. Çekirdek

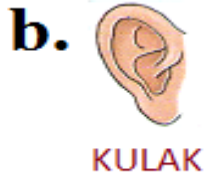
c. Yer kabuğu



3. Aşağıdaki bilgilerden hangisi yanlıştır?



4. Derste öğretmenini dinleyen Işıl hangi duyu organına ihtiyaç duymaz?



5. Bütün duyu organlarımız vücudumuzun hangi bölümünde yer alır?

a. Baş

b. Gövde

c. Kollar ve bacaklar

Efe: Öğretmenim sınıf çok kötü kokuyor.

Öğretmen: Koku yerdeki çürük elmadan geliyor olmalı.

6. Bu konuşmada Efe ve öğretmen aşağıdaki duyu organlarından hangisini kullanmamıştır?



7. Kırmızı ışığı gören sürücünün aracıyla yaptığı hareket aşağıdakilerden hangisidir?


- a. Hızlanma
- b. Yavaşlama
- c. Sallanma



8. Hareketli bir cisme hareketi yönünde kuvvet uygulandığında cismin hareketi nasıl değişir?

- a. Hızlanır
- b. Yavaşlar
- c. durur

9. Aşağıdakilerden hangisine uygulanan kuvvet türü diğerlerinden farklıdır?



10. Aşağıdakilerden hangisi hareketli cisimlerin neden olabileceği doğal afetlerdendir?

- a. Koridorda koşarken arkadaşımızla çarpışmak
- b. Elektrikli aletlere elimizle dokunmak
- c. Dağın zirvesinde biriken karların yuvarlanarak aşağı düşmesi (çığ)

FEN BİLİMLERİ TESTİ BİTMİŞTİR.

İNGİLİZCE TESTİ

BU BÖLÜMDE CEVAPLAYACAĞINIZ SORU SAYISI 5'TİR. CEVAPLAMAYA İSTEDİĞİNİZ SORUDAN BAŞLAYABİLİRSİNİZ. CEVAPLARINIZI CEVAP KAĞIDININ İNGİLİZCE BÖLÜMÜNE İŞARETLEYİNİZ. **BAŞARILAR.**

1. Yukarıdaki çocuk hangisini söylüyor?

- a. Can I answer?
- b. I can play football.
- c. I win.



2. Aşağıdaki ifadelerden hangisi yandaki görsele aittir?

- a. Spin the Wheel.
- b. Spell the book.
- c. Answer the questions.




eleven - -thirteen - fourteen -- sixteen

3. Noktalı yerlere hangi sayılar gelmelidir?

- a. twelve – seventeen
- b. ten– eighteen
- c. twelve - fifteen

4. How many apples are there?

- a. Seventeen
- b. Eighteen
- c. Eleven



5. What is that?

- a. That is a train
- b. That is a picnic.
- c. That is a radio.



6. Yandaki görsele göre Furkan'ın cevabı ne olmalıdır?

- a. Let's play a game.
- b. Can I ask a question.
- c. b - a - l - l



7. Pepee, Bebe'nin nesidir?

- a. Brother
- b. Mother
- c. Father



?ook

spe??

e?even

?etter

whee?

8. Boş bırakılan yerlere hangi harf gelmelidir?

a. M

b. L

c. T

9. Who is she?

- a. She is uncle.
- b. She is father.
- c. She is grandmother.



10. Can, kızkardeşi Ela'yı nasıl anlatır?

- a. She is my sister.
- b. He is my cousin.
- c. She is my mother.



İNGİLİZCE TESTİ BITMİŞTİR.

4 ARALIK - DÜNYA MADENCİLER GÜNÜ

Bir avuç kömür için,
bir **ömür** verenlere

Selam olsun!
Dualarımız sizinle



İLKOKUL ETKİNLİKLERİ VE ALİ NERKİZ DENEME SINAVLARI

ANDS

<https://www.facebook.com/groups/andset>

