

STS



**ALİ NERKİZ
DENEME SINAVLARI**

3. Sınıf

..... **İLKOKULU**

3 / ... SINIFI

SENE BAŞI SEVİYE TESPİT SINAVI

Memleketi asıl aydınlığa boğacak sizsiniz"

ÖĞRENCİNİN ;

ADI SOYADI :

SINIFI :

NO :

19 Nisan Ulusal Egemenlik ve

Çocuk Bayramı Kutlu Olsun!

ANDS

4. Aşağıdaki cümlelerden hangisinde yazım yanlışı yapılmıştır?

- a. Muhabbet Kuşunun adını şerbet koymuş.
- b. Gaziantep'ten iki arkadaşım geldi.
- c. Şırnak'a giderken Mardin'e de uğradım.

il Murat'ın çalışıyormuş dışında babası

5. Yukarıdaki sözcüklerden kurallı ve anlamlı bir cümle oluşturulduğunda cümlenin ilk ve son sözcüğü aşağıdakilerden hangileri olur?

- a. Murat'ın – dışında
- b. Murat'ın – babası
- c. Murat'ın – çalışıyormuş

Anneme hediye alacağım bu pazar anneler günü.
Takım çok güzel oynadı bir türlü gol atamadı.

6. Yukarıdaki cümlelerde noktalı yerlere sırasıyla hangi ifadeler gelmelidir?

- a. ama – fakat
- b. çünkü – için
- c. çünkü - ama

Yere bal dökülmüş, böcekler üşüşüp yemeye başlamışlar. Ziyafet pek hoşlarına gitmiş, bir türlü ayrılmak istemiyorlarmış. Sonunda ayrılmak istemişler. İstemişler ama bu sefer de becerememişler. Ayakları bala yapışmış, bir türlü uçamamışlar. Oradan ayrılamayacaklarını anlayınca: “Ah! Bizim kara bahtımız. Biraz keyif yapacağız diye kendimize kıymışız da haberimiz yok.” demişler.

7. Yukarıdaki metinden hangi sonucu çıkarabiliriz?

- a. Böcekler balı sever.
- b. Yerlere bal dökmemeliyiz.
- c. Açgözlülük insanların başını derde sokabilir.

Galatasaray, pazar günü şampiyon oldu.

8. Yukarıdaki cümlede aşağıdaki sorulardan hangisinin yanıtı **yoktur?**

- a. Kim?
- b. Nasıl?
- c. Ne zaman?

Dün gece saatlerce yağmur

9. Yukarıdaki cümlede noktalı yere aşağıdakilerden hangisi gelebilir?

- a. yağmış
- b. yağıyor
- c. yağacak



Dün, dereден irili ufaklı on kadar balık yakaladık.

10. Yukarıdaki cümlede altı çizili sözcükler arasındaki anlam ilişkisi aşağıdakilerin hangisinde vardır?

- a. yoksul – fakir b. okul – mektep
c. hızlı – yavaş

11. Aşağıdaki olaylardan hangisi **en son** gerçekleşmiştir?

- a. Gösteri salonunu beraberce süslediler.
b. Kırtasiyeden süs malzemelerini aldılar.
c. Artık misafirleri karşılamaya hazırlardı.

12. Aşağıdaki çocuklardan hangisinin duygusu diğerlerinden **farklıdır**?



13. Aşağıdaki cümlelerin hangisinde daha fazla özel ad vardır?

- a. Türkiye'nin başkenti Ankara'dır.
- b. Ümmü, Şanlıurfa'da görev yapıyor.
- c. Aslı, Hatay'dan aldığı kedisinin adını Pamuk koymuş.

Bisiklet

Tuğba'nın babası, ona yeni bir bisiklet aldı. Bisiklet evin bahçesinde duruyordu. Tuğba, bunu arkadaşlarına da söyledi. Arkadaşları bisikleti çok beğendiler. Tuğba'ya güle güle kullan dediler. Daha sonra Tuğba ve arkadaşları beraber bisiklet sürdüler. Bisiklet sürmeyi bilmeyen Ayşe'ye bisiklet sürmesini öğrettiler.

NOT: 14. Ve 15. Soruyu metne göre cevaplayınız.

14. Bisikletin sahibi kimdir?

- a. Tuğba
- b. Ayşe
- c. Elif

15. Metinde hikâye unsurlarından hangisi yoktur?

- a. Yer
- b. Kahraman
- c. Zaman

TÜRKÇE TESTİ BİTMİŞTİR.



MATEMATİK TESTİ

BU BÖLÜMDE CEVAPLAYACAĞINIZ SORU SAYISI 15'TİR. CEVAPLAMAYA İSTEDİĞİNİZ SORUDAN BAŞLAYABİLİRSİNİZ. CEVAPLARINIZI CEVAP KÂĞIDININ MATEMATİK BÖLÜMÜNE İŞARETLEYİNİZ. **BAŞARILAR.**

Ulusal Egemenlik ve Çocuk Bayramı Nisan
Atatürk'ü anma, Gençlik ve Spor Bayramı Mayıs

1. Yukarıdaki ifadelerde noktalı yerlere gelmesi gereken sayıların **toplamı** kaçtır?

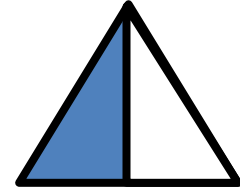


- a. 42
- b. 32
- c. 4

Ali, Şadiye, Mehmet ve Oktay adlı çocuklar eşit miktarda para toplayarak öğretmenlerine yandaki gömleği almışlardır.

2. Buna göre her bir çocuk kaç TL vermiştir?

- a. 2
- b. 4
- c. 7






3. Yukarıdaki şekillerin ne kadarının **boyalı** olduğu sırasıyla hangisinde doğru olarak verilmiştir?

a. $\frac{4}{1}, \frac{5}{3}, \frac{2}{1}$

b. $\frac{3}{4}, \frac{2}{5}, \frac{1}{2}$

c. $\frac{1}{4}, \frac{3}{5}, \frac{1}{2}$



4. Yukarıdaki cisimlerden kaç tanesi **silindir** modelidir?

a. 2

b. 3

c. 4



5. Yukarıdaki sayı örüntüsünün 4. ve 5. adımı kaçtır?

a. 20 – 21

b. 25 – 31

c. 26 – 33

6. Duygu, pazardan 47 cm kumaş aldı. Ne kadar daha kumaş alırsa kumaşlarının toplamı 95 cm olur?

a. 48

b. 50

c. 45

1 yıl 12 mevsimdir.

04:45 → Saat dördü çeyrek geçiyor demektir.

1 yılda 52 hafta vardır.

2 hafta 14 gündür.

Haftanın üçüncü günü çarşambadır.


1 gün 24 saattir.

7. Yukarıdaki bilgilerden kaç tanesi doğrudur?

a. 4

b. 3

c. 2



8. Yukarıdaki elmalardan kaç çeyrek elma oluşur?

a. 8

b. 16



c. 32



9. Ankara'ya halasının yanına tatile giden Mesut, burada **4 hafta 3 gün** kalmıştır. Mesut'un halasının yanında geçirdiği süre kaç **gündür**?

- a. 23
- b. 28
- c. 31

Grafik: 2/A Sınıfında En Çok Sevilen Mevsim

Mevsimler	Öğrenci Sayısı
 Sonbahar	
 Kış	
 İlkbahar	
 Yaz	

NOT: Her şekil 3 öğrenciyi göstermektedir.

10. Yukarıdaki grafiğe göre, **yaz ve ilkbahar** mevsimini seven öğrencilerin toplamı, **kış ve sonbahar** seven öğrencilerin toplamından kaç **fazladır**?

- a. 1
- b. 3
- c. 6



Bir şişe, 4 bardak su alıyor.

Bir kova 7 şişe su alıyor.

11. Buna göre bir kova kaç bardak su alır?

- a. 3
- b. 11
- c. 28



12. Elif, 47 kilogramdır. Ece'nin kütlesi, Elif'ten 9 kg daha azdır. Buna göre, Elif ile Ece'nin kütlelerinin toplamı kaç kilogramdır?

- a. 38
- b. 56
- c. 85



13. Yukarıdaki 12 misketi 3 kardeş eşit olarak paylaşacaktır. Her bir kardeşe kaç misket düşer?

- a. 3
- b. 4
- c. 5



14. Manav Nilgün, günde 5 kg elma satmaktadır. Dükkândaki 84 kg elmadan bir hafta sonra kaç kg elma kalır?

- a. 49
- b. 79
- c. 34



15. Ümmü'nün parası yukarıda gösterilmiştir. Ümmü, 49 TL'ye bir çanta ve 26 TL'ye bir şapka alınca geriye kaç TL kalır?

- a. 75
- b. 39
- c. 13

MATEMATİK TESTİ BITMİŞTİR.



HAYAT BİLGİSİ TESTİ

BU BÖLÜMDE CEVAPLAYACAĞINIZ SORU SAYISI 10'DUR. CEVAPLAMAYA İSTEDİĞİNİZ SORUDAN BAŞLAYABİLİRSİNİZ. CEVAPLARINIZI CEVAP KÂĞIDININ HAYAT BİLGİSİ BÖLÜMÜNE İŞARETLEYİNİZ. **BAŞARILAR.**

1. Aşağıdaki ülkelerden hangisi komşumuz **değildir?**

- a. Bulgaristan b. Hindistan c. Gürcistan

2. Aşağıdaki milli bayramlarımızdan hangisi Kurtuluş Savaşı'nın başladığı günün yıl dönümüdür?

- a. Atatürk'ü Anma, Gençlik ve Spor Bayramı
b. Ulusal Egemenlik ve Çocuk Bayramı
c. Zafer Bayramı

3. Aşağıdaki halk oyunlarından hangisinin adı **yanlıştır?**

a.



Horon

b.



Kaşık

c.



Halay

4. Yandaki görsele göre hangisi **yanlıştır**?

- Postane, marketin doğusundadır.
- Alilerin evi, oyun parkının kuzeyindedir.
- Pastane, ekmek fırınının batısındadır.



5. Aşağıdakilerden hangisi çevre kirliliğine neden **olmaz**?

- Geri dönüşüm kutularına atılan eşyalar.
- Arabaların egzozlarından çıkan gazlar.
- Fabrika bacalarından çıkan dumanlar.

6. Doğal afetlerden hangisinin ismi **yanlış** verilmiştir?

a.



DEPREM

b.



HEYELAN

c.



SEL

7. Aşağıdakilerden hangisi vücudumuzu hastalıklara karşı daha güçlü yapar?

- a. Elma, Havuç, Limon b. Bal, Reçel, Pirinç
c. Tereyağ, Badem, Ay çekirdeği

8. Aşağıdakilerden hangisi oyun oynamak için güvenli yerlerden **değildir?**

- a. Oyun parkı b. Okul bahçesi
c. Yaya kaldırım

9. Aşağıdakilerden hangisi fiziksel özelliklerimiz arasında **yer almaz?**

- a. Göz rengi b. Dürüstlük
c. Saç uzunluğu

10. Aşağıdaki bilgilerden hangisi **yanlıştır?**

- a. Evimizdeki kaynakları tasarruflu kullanmak aile bütçemize katkı sağlar.
b. Ev adresimizi bilmeli ve tanımadığımız kişilere söylemeliyiz.
c. Aile bireylerimizle ve akrabalarımızla her zaman yardımlaşma ve dayanışma içinde olmalıyız.

HAYAT BİLGİSİ TESTİ BİTMİŞTİR.

İNGİLİZCE TESTİ

BU BÖLÜMDE CEVAPLAYACAĞINIZ SORU SAYISI **10**'DUR. CEVAPLAMAYA İSTEDİĞİNİZ SORUDAN BAŞLAYABİLİRSİNİZ. CEVAPLARINIZI CEVAP KAĞIDININ **İNGİLİZCE** BÖLÜMÜNE İŞARETLEYİNİZ. **BAŞARILAR.**


1. Can he climb a tree?

- a. Yes, she can.
- b. No, he can't.
- c. Yes, he can.



2. Can a turtle play basketball?

- a. Yes, it can.
- b. No, it can't.
- c. No, it can.



3. Do she like apples?



- a. Yes, she do.
- b. No, she don't.
- c. Yes, it play tennis.



4. How many purple scissors are there?

- a. There are two scissors.
- b. There are three scissors.
- c. There are four scissors.



5. How old is Berat? (8)

- a. He is seven.
- b. He is eight.
- c. He is nine.




6. What color is it?

- a. It is yellow and red.
- b. It is black and red.
- c. It is black and green.



7. This is my?

- a. hand
- b. head
- c. finger



8. Where is the cat?

- a. The cat is on the table.
- b. The cat is in the table.
- c. Tha cat is on the tree.




9. Let's

- a. skip
- b. swing
- c. skip a rope.



10. to the teacher.

- a. Look
- b. Read
- c. Listen



İNGİLİZCE TESTİ BİTMİŞTİR.



**YENİ EĞİTİM – ÖĞRETİM
YILINDA
TÜM ÖĞRETMEN,
ÖĞRENCİ VE
VELİLERİMİZE
BAŞARILAR DİİLİYORUZ.**

İLKOKUL ETKİNLİKLERİ VE ALİ NERKİZ DENEME SINAVLARI (KDS)

ANDS

<https://www.facebook.com/groups/andset/>