

1. DÖNEM 1. KDS



A

KİTAPÇIK TÜRÜ

ALİ NERKİZ
DENEME SINAVLARI

3. Sınıf

1. DÖNEM

1. KAZANIM DEĞERLENDİRME
SINAVI

29 Ekim Hürriyet
Bayramımız
her zamanımız
her kadu olsun

ÖĞRENCİNİN
ADI SOYADI
SINIFI
OKULU

.....
: 3 /
.....

NO :
İLKOKULU



ANDS

TÜRKÇE TESTİ

BU BÖLÜMDE CEVAPLAYACAĞINIZ SORU SAYISI 15'TİR. CEVAPLAMAYA İSTEDİĞİNİZ SORUDAN BAŞLAYABİLİRSİNİZ. CEVAPLARINIZI CEVAP KAĞIDININ TÜRKÇE BÖLÜMÜNE İŞARETLEYİNİZ. **BAŞARILAR.**




.....
Bir çocuk olsam,
Sarılırdım annemin kollarına.
Koşardım Samanyolu'nda.
Koşardım hiç durmadan
Nice güzel oyunlara...

Bir çocuk olsam,
En güzel şekilde
Sarılırdım kitaplara.
Koşardım umut yolunda.
Koşardım hiç durmadan
Nice güzel yıllara.

DERYA ALTINTREN

Not: 1. ve 2. soruları şiire göre cevaplayınız.

1. Şiirin ana duygusu aşağıdakilerden hangisidir?

- a.  Çocukluk özlemi
- b.  Anne sevgisi
- c.  Kitap sevgisi

2. Şiire en uygun başlık aşağıdakilerden hangisidir?

- a. Canım Kitaplarım
- b. Biricik Annem
- c. Bir Çocuk Olsam



Tilkinin biri, ormanda keklikle karşılaşmış. demiş ki: “Ey güzel keklik! Maşallah, bu ne güzellik! Bir de gözlerini kapat, öyle seyredeyim seni.” Keklik bu tatlı sözlere kanmış, gözünü kapatınca avlanmış. Üzüntü içinde demiş ki: ”Hele beni yaratıp da sana verene teşekkür et, sonra afiyetle yersin.”
Tilki de kekliği haklı bulmuş. Teşekkür edip ağzını açınca keklik uçup canını kurtarmış.

3. Yukarıdaki metinde hikâye unsurlarından hangisine yer **verilmemiştir?**

- a. Yer b. Zaman c. Olay

“Çok çalışacağım ve **öğretmen** olacağım.”

4. Yukarıdaki cümlede verilen altı çizili kelimenin eş anlamlısı hangi seçenekte verilmiştir?

- a. mektep b. talebe c. muallim

5. Yandaki tahtada verilen kelimeler **zıt anlamlılarıyla eşleştirildiğinde hangisi **boşta** kalır?**

- a. kötü
b. cesur
c. çirkin



Cumhuriyet hürriyet demek,
Cumhuriyet özgürce yaşamak,
Uygarlığa, çağdaşlığa
Durmadan yılmadan koşmak demek

Cumhuriyet mutluluk demek,
Cumhuriyet kol kola yürümek
Uygarlığa, çağdaşlığa
Durmadan yılmadan koşmak demek

Hasan Ali YÜCEL

6. Yukarıdaki şiir kaç kıta ve kaç dizeden oluşmaktadır?

- a. 2 kıta – 8 dize
- b. 8 kıta – 2 dize
- c. 4 kıta – 8 dize

7. Şiirin konusu aşağıdakilerden hangisidir?

- a. Bayrak
- b. Cumhuriyet
- c. Özgürlük

Kahvaltı yapmak için mutfağa gelen Murat, ekmeğin **bayat** olduğunu görünce çok üzüldü.

8. Yukarıdaki cümlede verilen altı çizili kelimenin zıt anlamlısı hangi cümlede kullanılmıştır?

- a. Dolaptaki yiyeceklerin hepsi bayatlamış.
- b. Üç haftadır okula gelemiyor.
- c. Usta, bize tazesinden iki kilo elma ver.



9. Aşağıdaki çocuklardan hangisinin adı sözlük sırasına göre diğerlerinden sonra gelir?




a. Serap



c. Mehmet



d. Defne



10. Yukarıdaki görseller oluş sırasına göre sıralandığında sıralama nasıl olmalıdır?


- a. 1 – 2 – 3
b. 3 – 2 – 1
c. 2 – 3 – 1

Herkese **nasihat**ler veren Nazan teyze, bugün de bana bir **öğüt** verdi.

11. Yukarıdaki cümlede altı çizili sözcükler arasındaki anlam ilişkisi aşağıdakilerin hangisinde vardır?

- a. gece – gündüz b. gıda – besin
c. hızlı – yavaş

12. Aşağıdaki çocuklardan hangisinin duygusu diğerlerinden **farklıdır**?



13. Aşağıdaki şiirde sözü edilen varlık hangisidir?

- a. Gökyüzü
b. Bayrak
c. Bulut

Atalarım gökten yere
İndirmişler ay yıldızı
Bir buluta sarmışlar ki
Rengi şafaktan kırmızı

Hasan Ali YÜCEL



Bir köylü kızı omzunda bir çömlek sütle komşu kasabadaki pazara gidiyormuş. Giderken bir yandan: “Bu sütü satar, parasıyla yüz tane yumurta alırım.” diye düşünmüş kendi kendine. “Yüz yumurtayı kuluçka tavukların altına koyar. En azından doksan beş civciv sahibi olurum. Civcivler büyür, piliç olur. Piliçleri satar, güzel bir kuzu alırım. Kuzu büyür, kocaman bir koç olur. Koçu satar, bir inekle dana alırım. Ne güzel oynar danacık çayırlarda. Bir o yana, bir bu yana...” derken sevinçle sıçramaya başlamış küçük kız. Omzundaki süt çömleği de yere düşüp kırılmış...

14. Köylü kız, kasabaya giderken ne yapıyordu?

- a. Yumurtaları sayıyordu.
- b. Hayal kuruyordu.
- c. Civcivlerini yemliyordu.

15. Metnin konusu nedir?

- a. Kasabadan köye yolculuk
- b. Sütçü kızın bir danayla dansı
- c. Hayalci bir kızın başına gelenler

TÜRKÇE TESTİ BİTMİŞTİR.



MATEMATİK TESTİ

BU BÖLÜMDE CEVAPLAYACAĞINIZ SORU SAYISI 15'TİR. CEVAPLAMAYA İSTEDİĞİNİZ SORUDAN BAŞLAYABİLİRSİNİZ. CEVAPLARINIZI CEVAP KÂĞIDININ MATEMATİK BÖLÜMÜNE İŞARETLEYİNİZ. **BAŞARILAR.**

Ulusal Egemenlik ve Çocuk Bayramı Nisan
Cumhuriyet Bayramı Ekim

1. Yukarıdaki ifadelerde noktalı yerlere gelmesi gereken sayıların **toplamı** kaçtır?

a. 52

b. 42

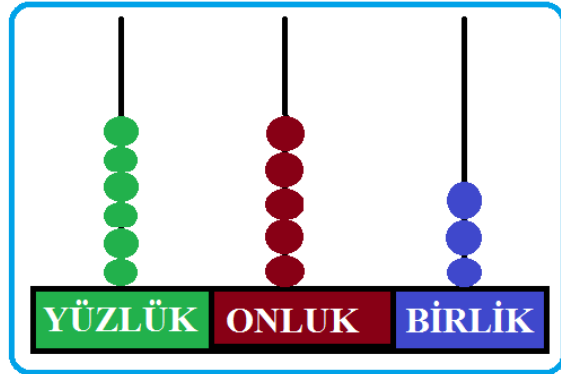
c. 32

2. Yandaki abaküste modellenen sayı kaçtır?

a. 763

b. 356

c. 653



3. Aşağıdaki örüntülerden hangisi yedişer fark şeklinde sıralanmıştır?

- a. $91 - 84 - 77 - 70 - 63 - 56 - 49$
b. $7 - 15 - 23 - 31 - 39 - 47 - 55$
c. $53 - 47 - 41 - 35 - 29 - 23 - 17$

4. 8 onluk, 5 birlik, 2 yüzlükten oluşan sayı kaçtır?

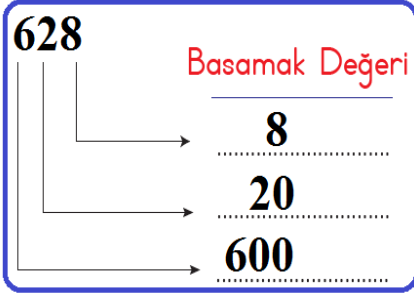
- a. 852 b. 285 c. 258

5. Aşağıdaki toplama işlemlerinin hangisinin sonucu tek sayıdır?

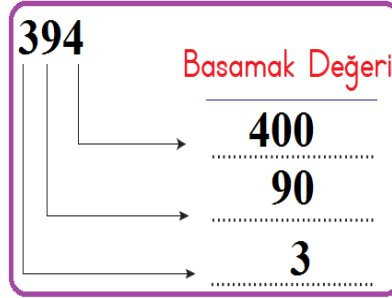
- a. $47 + 43$
b. $38 + 53$
c. $52 + 26$



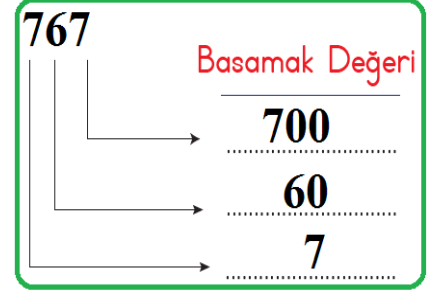
6. Aşağıdakilerden hangisinin basamak değeri **doğru** hesaplanmıştır?



a.



b.



c.

7. Yandaki sayılar bir kez kullanılarak yazılabilecek **üç** basamaklı en küçük doğal sayı kaçtır?

- a. 370
b. 307
c. 730



Üç basamaklı doğal sayıların en küçüğü ,
en büyüğü 'dur.

8. Yukarıdaki cümlede noktalı yerlere sırasıyla hangi sayılar gelmelidir?

- a. 100 – 900
- b. 101 - 999
- c. 100 – 999

9. Aşağıdaki sıralamalardan hangisi **yanlış yapılmıştır?**

- a. $312 < 371 < 486 < 749 < 800$
- b. $881 > 679 > 297 > 99 > 102$
- c. $444 > 365 > 291 > 112 > 49$

10. Aşağıdaki ritmik sayılardan hangisi **yanlıştır?**

- a. 16 – 24 – 32 – 40 – 48 – 56 – 64
- b. 14 – 21 – 28 – 35 – 42 – 49 – 56
- c. 18 – 24 – 32 – 36 – 42 – 48 – 54



11. Yandaki sayılardan kaç tanesi en yakın yüzlüğe yuvarlandığında 500 olur?

- a. 5
b. 4
c. 3

456	563
478	421
513	550

12. Aşağıda çözümlenmiş halde verilen toplama işlemlerinden hangisinin sonucu 756'ya eşittir?

- a.
$$\begin{array}{r} 5 \text{ yüzlük} + 2 \text{ onluk} + 8 \text{ birlik} \\ + 2 \text{ yüzlük} + 4 \text{ onluk} + 0 \text{ birlik} \\ \hline \end{array}$$
- b.
$$\begin{array}{r} 4 \text{ yüzlük} + 5 \text{ onluk} + 4 \text{ birlik} \\ + 3 \text{ yüzlük} + 3 \text{ onluk} + 2 \text{ birlik} \\ \hline \end{array}$$
- c.
$$\begin{array}{r} 6 \text{ yüzlük} + 3 \text{ onluk} + 3 \text{ birlik} \\ + 1 \text{ yüzlük} + 2 \text{ onluk} + 3 \text{ birlik} \\ \hline \end{array}$$



13. Aşağıdaki toplama işlemlerinden hangisinin sonucu 360'dan büyüktür?

- a. $219 + 137$
- b. $175 + 199$
- c. $248 + 104$

14. Aşağıdaki sayılardan hangisinin Romen rakamı ile yazılışı yanlış gösterilmiştir?

- a. XIV: 16
- b. XIX: 19
- c. XVIII: 18



15. Yukarıdaki sayı örüntüsünün 4. ve 5. adımı kaçtır?

- a. $79 - 73$
- b. $79 - 64$
- c. $72 - 61$

MATEMATİK TESTİ BİTMİŞTİR.






FEN BİLİMLERİ TESTİ

BU BÖLÜMDE CEVAPLAYACAĞINIZ SORU SAYISI 10'DUR. CEVAPLAMAYA İSTEDİĞİNİZ SORUDAN BAŞLAYABİLİRSİNİZ. CEVAPLARINIZI CEVAP KÂĞIDININ FEN BİLİMLERİ BÖLÜMÜNE İŞARETLEYİNİZ. **BAŞARILAR.**

Dünya'da bir yerden havalanan uçak, hep aynı yöne doğru uçarsa havalandığı noktaya ulaşır. Örneğin, İstanbul'dan kalkan bir uçak sürekli doğuya doğru uçtuğunda tekrar İstanbul'a gelir.

1. Yukarıdaki durum hangisinin sonucudur?

- a.  Uçağın çok hızlı gitmesinin
- b.  Dünya'nın şeklinin küreye benzemesinin
- c.  Uçağın pilotunun İstanbul'u çok sevmesinin




2. Havaya atılan topun, aşağı düşerken yaptığı hareket aşağıdakilerden hangisidir?

- a. Hızlanma
- b. Yavaşlama
- c. Sallanma



3. Yandaki görsele bakarak hangisini söyleyebiliriz?

- a. Dünya'nın hava, su ve kara katmanı vardır.
- b. Dünya'nın şekli kareye benzer.
- c. Su kürenin diğer adı taş küredir.



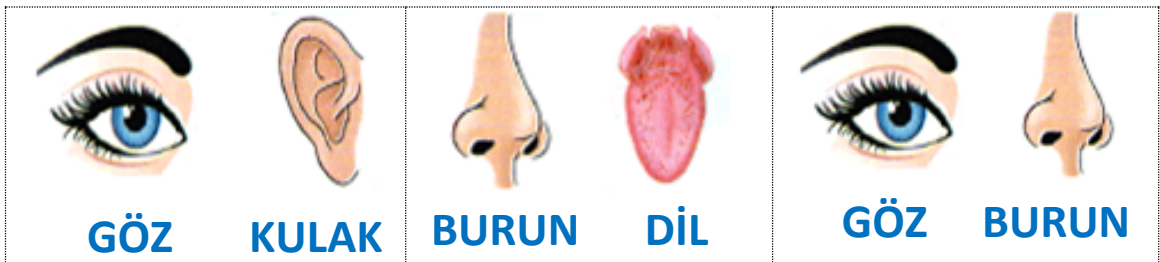
4. Görseldeki çocuk hangi katmanları hisseder?

- a. Hava katmanı
- b. Kara ve su katmanı
- c. Kara, su ve hava katmanı



“Kerim bahçeye çıkınca her yerin çok güzel koktuğunu fark etti. Biraz dikkat edince kokunun kırmızı güllerden geldiğini anladı.”

5. Kerim burada hangi duyu organlarını kullanmıştır?



a.

b.

c.



6. Hareket halindeki bir otomobilin tekerleğinin yaptığı hareket aşağıdakilerden hangisidir?

- a. Sallanma
- b. Dönme
- c. Yön değiştirme



7. Öğretmen çocuklara yandaki meyvenin tadını, kokusunu ve rengini sormuştur. Çocuklar, bu sorulara cevap verebilmek için hangi duyu organlarına ihtiyaç duymazlar?





- a. Kulak
- b. Göz
- c. Burun



8. Voleybol maçında iki takım arasında gidip gelen topun yaptığı hareket aşağıdakilerden hangisidir?

- a. Yön değiştirme
- b. Sallanma
- c. Yavaşlama






	MEHMET	Yapısında magma adı verilen sıcak ve akışkan bir madde olan katmanın adı ateş küredir.
	OKTAY	Dünya'nın en iç tabakasına ateş küre denir.
	AYŞE	Uzaktan gelen bir geminin önce dumanını, sonra bacasını ve son olarak da geminin kendisini görürüz.
	BEGÜM	Dünya yüzeyinin büyük bir kısmı karalarla kaplıdır.

9. Yukarıdaki çocuklardan hangilerinin verdiği bilgiler doğrudur?

- a. MEHMET ve OKTAY b. AYŞE ve BEGÜM
c. MEHMET ve AYŞE

10. Duyu organlarının sağlığı ile ilgili ifadelerden hangisi doğrudur?

- a.  Ders çalışacağımız ortamın ışığı çok kuvvetli olmalıdır.
- b.  Şiddetli sesler duyduğumuzda ağızımızı açmalıyız.
- c.  Burun kıllarımızı uzamadan kesmeliyiz.

FEN BİLİMLERİ TESTİ BİTTİ.



HAYAT BİLGİSİ TESTİ

BU BÖLÜMDE CEVAPLAYACAĞINIZ SORU SAYISI 10'DUR. CEVAPLAMAYA İSTEDİĞİNİZ SORUDAN BAŞLAYABİLİRSİNİZ. CEVAPLARINIZI CEVAP KÂĞIDININ HAYAT BİLGİSİ BÖLÜMÜNE İŞARETLEYİNİZ. **BAŞARILAR.**

- ▲ Arkadaşlarımla eşyalarını izin alarak kullanırım.
★ Derste öğretmenimi dikkatli dinlerim.
😊 Tenefüste sınıfta koşarak oynarım.
■ Sınıfta bağırarak konuşurum.

1. Yukarıdakilerden hangileri **olumsuz davranıştır**?

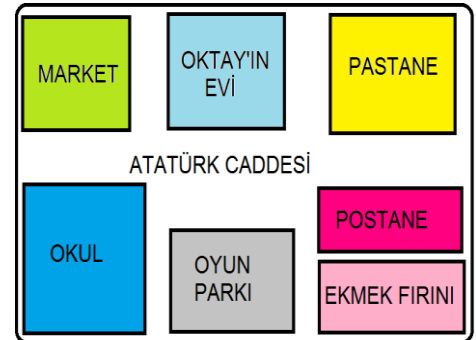
- a. ▲ ve ★ b. ■ ve 😊 c. ★ ve ■

2. Aşağıdaki ifadelerden hangisi **yanlıştır**?

- a. Bütün insanların güçlü ve zayıf yanları aynıdır.
b. Güçlü ve zayıf yanlarımızı bilmek kendimizi daha iyi tanımamızı sağlar.
c. Gelecekteki mesleğimizi seçerken güçlü ve zayıf yönlerimize göre seçmeliyiz.

3. Yandaki görsele göre Oktay'ın mahallesi ile ilgili aşağıdakilerden hangisini **söyleyemeyiz**?

- a. Oktay'ın evi Atatürk Caddesi üzerindedir.
b. Oktay'ın evinin yanında pastane ve market var.
c. Okulun yanında pastane var.



4. Bir okulda sosyal ve kültürel etkinlik olarak aşağıdakilerden hangisinin olması **beklenmez?**



Halk oyunları
kursu

a.



Televizyon
izleme kursu

b.



Basketbol kursu

c.

5. Yardımlaşma ve dayanışma ile ilgili verilen ifadelerden hangisi **yanlış bir davranıştır?**

- a. Depremde evi zarar gören akrabalarımızı evimizde misafir ediyoruz. Aynı duruma biz de düşebiliriz.
- b. Kitap ihtiyacı olan bir okul için kitap toplama kampanyası düzenledik.
- c. Ödevini yapmayı unutan arkadaşımın ödevini para karşılığında ben yapıyorum.

6. Arkadaşımızda olmasını **istemediğimiz özellikler aşağıdakilerden hangisinde doğru olarak verilmiştir?**

- a. Kıskanç, taraflı, öfkeli
- b. Çalışkan, dürüst, yardımsever
- c. Güvenilir, duyarlı, şakacı



7. Aşağıdaki ifadelerden hangisi **yanlıştır**?

- a. Yardımlaşma ve dayanışma, toplumda huzursuzluğa sebep olur.
- b. Yardımlaşma ve dayanışma, toplumda birlik beraberliğin artmasını sağlar.
- c. Yardımlaşma ve dayanışma sayesinde kendimizi karşımızdakinin yerine koyarak onu daha iyi anlarız.

8. Aşağıdakilerden hangisi istek ve ihtiyaçlarımızı ifade etmenin yollarından biri **değildir**?

- a. Dilekçe yazmak.
- b. Seçimde oy istemek veya oy kullanmak
- c. İstedığımızı yapmayan arkadaşlarla oynamamak

9. Aşağıdakilerden hangisi okulda katıldığımız sosyal ve kültürel etkinliklerin faydalarından **değildir**?

- a. Öz güvenimiz artar.
- b. Herkesten daha iyi olduğumuzu görürüz.
- c. Sosyal ilişkilerimiz güçlenir.

10. Arkadaşımızın aşağıdaki davranışlarından hangisi bizi **mutlu** eder?

- a. Kalemimi izin almadan kullanması.
- b. Sınıf başkanının tarafı davranması.
- c. Oyunda kazanan takımı tebrik etmesi.

HAYAT BİLGİSİ TESTİ BİTMİŞTİR.

İNGİLİZCE TESTİ

BU BÖLÜMDE CEVAPLAYACAĞINIZ SORU SAYISI 10'DUR. CEVAPLAMAYA İSTEDİĞİNİZ SORUDAN BAŞLAYABİLİRSİNİZ. CEVAPLARINIZI CEVAP KAĞIDININ İNGİLİZCE BÖLÜMÜNE İŞARETLEYİNİZ. **BAŞARILAR.**

1. Uyumak için yatağına yatan kıza babası ne söylemiş olabilir?

- a. Good night!
- b. Hello!
- c. How are you?



2. Görsele göre kız, sallanan çocuğa hangisini söylemiş olabilir?

- a. Good morning!
- b. See you!
- c. How are you?



What is your name?

3. Üstteki sorunun cevabı hangisi **olamaz**?

- a. Nice to meet you.
- b. My name is Seçil.
- c. I am Tarık.



Spell your
name,
please!

ŞADIYE



?

ALİ

4. Üstteki görsele göre Ali'nin Şadiye'ye cevabı aşağıdakilerden hangisidir?

- a. My name is Ali.
- b. A – L – İ
- c. I am Ali.



5. Yukarıdaki makasların sayısı kaçtır?

- a. twenty
- b. twelve
- c. eleven

How old are you, Furkan?

6. Furkan'ın cevabı aşağıdakilerden hangisidir?

- a. I'm eight years old.
- b. I'm seven years old.
- c. I'm nine years old.

9



7. Müge'nin aile bireylerinin sıralaması hangisidir?

- 1 2 3
- a. father — mother — sister
- b. mother — father — sister
- c. aunt — uncle — brother



8. This is Ümmü's

- a. grandfather
- b. family
- c. daughter



9. Eşleştirmelerin hangisi yanlıştır?

- a. father - dad
- b. mother - mum
- c. grandfather - granddad

10. Aşağıdakilerden hangisi yanlıştır?



Good afternoon

a.



Good morning

b.



Good evening

c.

İNGİLİZCE TESTİ BİTMİŞTİR.



29 Ekim
Cumhuriyet
bayramımız
kutlu olsun



*"Benim naçiz vücudum nasıl olsa bir gün toprak olacaktır.
Fakat Türkiye Cumhuriyeti ebediyen yaşayacaktır."*

K. Atatürk



1923 — ∞

ALİ NERKİZ DENEME SINAVLARI (KDS) VE 1-2-3-4. SINIF ETKİNLİKLERİ

ANDS

<https://www.facebook.com/groups/andset/>