

# 3. SINIF

## #EVDEKAL DENEME SINAVI



Bu sınavda 15 Türkçe, 15 Matematik, 10 Hayat Bilgisi, 10 Fen Bilimleri ve 10 İngilizce sorusu bulunmaktadır.

Adı-Soyadı: ..... Sınıfı: .../.... No: .....

## TÜRKÇE TESTİ

1 -ler eki almış "el" sözcüğü hangi cümlede farklı bir anlamdadır?

- A. Ellerini yıkamalısın.
- B. Eller havada oyunu oynadık.
- C. Eller beni anlamaz.

2 Aşağıdaki cümlelerin hangisinde anlamına uygun olmayan bir sözcük kullanılmıştır?

- A. Defter, içine yazı yazmak için kullanılır.
- B. Kalem, yazıları silmek için kullanılır.
- C. Kitaplar, içinde birçok bilgi barındırır.

3 Aşağıdakilerden hangisi anlamlı ve kurallı bir cümle değildir?

- A. Kalemin kırmızı artık yazmıyor.
- B. Peçete çok büyük.
- C. Bu yemek çok güzel.

Çok kitap okurum ..... kitap okumayı çok severim.

4 Yukarıdaki cümle aşağıdaki sözcüklerin hangisi ile tamamlanabilir?

- A. çünkü
- B. ama
- C. eğer

## TÜRKÇE TESTİ

5



- 📖 Okuyorum
- Öyle bir okula
- ▲ Sabah oldu

Cümle kutusuna yalnızca cümle olan sayıları atıyoruz. Buna göre hangi cümle dışarıda kalır?

- A. 📖      B. ■      C. ▲

6 Anlamalı ve kurallı bir cümle kurmak isteyen Zeynep hangi şıktaki cümleyi kurmalıdır?

- A. Yedim hızlıca yemeği.  
B. Otuz sayfa kitap okudum.  
C. Bugün çözdüm çok soru.

7

"Birkaç kelime konuştuk." cümlesinde altı çizili sözcüğün eş anlamlısı hangisidir?

- A. Cümle  
B. Sözcük  
C. Ek

8

Soru	Çok
Tatlı	Cevap
Az	Acı

Zıt anlamlı kelimeler eşleştirildiğinde nasıl bir şekil oluşur?

- A.      B.   
C.

## TÜRKÇE TESTİ

9, 10 ve 11. soruları aşağıdaki metne göre yanıtlayınız.

Kroki çizerken, kuş bakışı görünüş çizilir. Ölçü kullanılmaz. Kroki sayesinde adresleri kolaylıkla bulunur. Karmaşa yaşamayız. Herkes kroki çizebilir.

9 Metinde geçen "kuş bakışı görünüş" ile anlatılmak istenen hangisidir?

- A. Yüksekten bakış
- B. Yerden bakış
- C. Kuşa bakış

10 Krokinin amacı nedir?

- A. Adresleri kolayca bulmak
- B. Karmaşa çıkarmak
- C. Ölçülü çizim yapmak

11 Kroki ile ilgili bilgilerden hangisi yanlıştır?

- A. Kuş bakışı bir çizimdir.
- B. Ölçü kullanılır.
- C. Herkes kroki çizebilir.

12

Merhaba( ) Benim adım nokta( )  
Yuvarlak( ) küçük bir noktalama  
işaretiyim( )

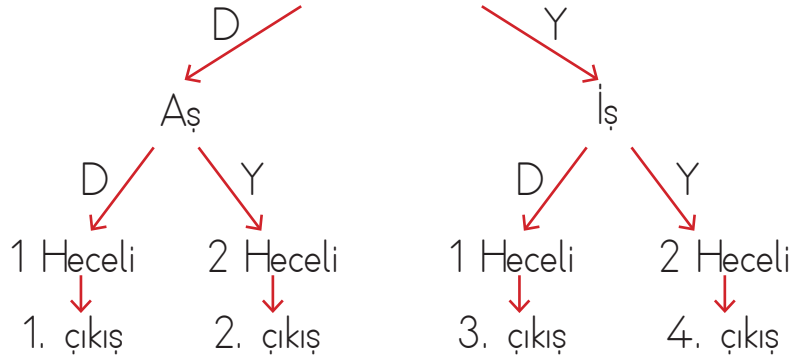
Yukarıdaki metinde kaç tane nokta kullanılır?

- A. 4
- B. 3
- C. 2

## TÜRKÇE TESTİ

13

Yemek kelimesinin eş anlamlısı



Yukarıdaki ifadelere göre doğru çıkış aşağıdakilerden hangisidir?

- A. 1. çıkış
- B. 2. çıkış
- C. 3. çıkış

14 Hangi seçenekte satır sonuna sığmayan sözcüklerin yazımında hata yapılmıştır?

- A. öğrenci
- B. öğrenci
- C. öğrenci

15

Okulumuz anne gibi,  
Açar bize kollarını.  
Sevgi, saygı, hoşgörülle  
Eğitir yavrularını.

Yukarıdaki şiir ile ilgili ifadelerden hangisi yanlıştır?

- A. Şiirde yavrular olarak bahsedilen kuşlardır.
- B. Okul anneye benzetilmiştir.
- C. 4 dize, 1 kıtadan oluşmuştur.

## MATEMATİK TESTİ

1 Hangi iki sayının toplamı tek sayıdır?

- A. Tek sayı + çift sayı  
B. Çift sayı + çift sayı  
C. Tek sayı + tek sayı

2, 4, 0

2 Yukarıdaki rakamlar ile yazılabilecek en büyük sayı A, en küçük sayı B olduğuna göre  $A + B$  kaçtır?

- A. 606  
B. 624  
C. 646

3 Bir okulda 210 erkek öğrenci, erkeklerden 23 fazla kız öğrenci olduğuna göre okul mevcudu kaçtır?

- A. 233  
B. 433  
C. 443

4 518 sayısının en yakın onluğa ve yüzlüğe yuvarlanması ile elde edilen sayıların farkı kaçtır?

- A. 10  
B. 20  
C. 120

$$\begin{array}{r} 208 \\ + 25 \\ \hline \end{array}$$

A

$$\begin{array}{r} 196 \\ + 246 \\ \hline \end{array}$$

B

5 Yukarıdaki işlemlerin sonuçlarına göre  $A+B$  işleminin sonucu kaçtır?

- A. 233  
B. 442  
C. 675

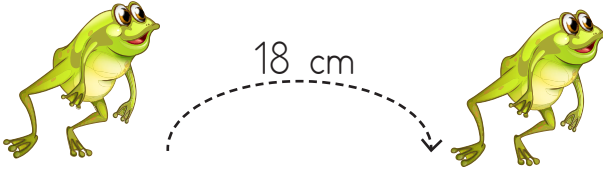
6 384 sayısının sayı değerleri toplamı kaçtır?

- A. 15  
B. 48  
C. 384

## MATEMATİK TESTİ

7 Bir balıkçı tuttuğu bir miktar balığın 102 tanesini sattı. Geriye 235 tane balık kaldığına göre, balıkçı en başta kaç tane balık tutmuştur?

- A. 122
- B. 337
- C. 384



8 Bir kurbağa her sıçramasında 18 cm ilerliyor. Buna göre kurbağa 6 defa sıçrarsa kaç cm ilerlemiş olur?

- A. 24 cm
- B. 108 cm
- C. 180 cm

9

$$(17+9)+121 = (130+5)+\blacksquare$$

Yukarıdaki işlemde  $\blacksquare$  yerine aşağıdaki sayılardan hangisi gelmelidir?

- A. 10
- B. 12
- C. 14

10 Bir ilkokulda, hayvanları koruma gününde sahihsiz 25 köpeğe mama verilmiştir. Her köpek 18 tane bisküvi yediğine göre toplam kaç bisküvi tüketilmiştir?

- A. 450
- B. 500
- C. 550

## MATEMATİK TESTİ

11 ve 12. soruları aşağıdaki sıklık tablosuna göre yanıtlayınız.

**Tablo:** Sınıf kitaplığımızda bulunan kitap sayısı

Kitap Türü	Sayısı
Roman	26
Şiir	23
Hikâye	30
Masal	25

11 Sınıf kitaplığımızda en çok bulunan kitap türü aşağıdakilerden hangisidir?

- A. Roman B. Hikâye  
C. Masal

12 Sınıf kitaplığımızda toplam kaç kitap bulunmaktadır?

- A. 100  
B. 98  
C. 104

13 5, 0, 8 rakamları kullanılarak yazılabilecek en büyük iki basamaklı sayı ile, en küçük üç basamaklı sayının farkı kaçtır?

- A. 765 B. 792  
C. 423

14 Tanesi 23 liradan 25 tane kitap aldık. Kaç lira ödemeniz gerekmektedir?

- A. 575  
B. 598  
C. 621

15 Bir sınıftaki öğrenciler 4 sırada üçerli, 8 sırada ikerli oturmaktadır.

Buna göre sınıfın mevcudu kaçtır?

- A. 12 B. 28 C. 36



## HAYAT BİLGİSİ TESTİ

1



Sıra arkadaşımı  
çok severim,  
çünkü .....

Yukarıdaki cümle aşağıdakilerin hangisi ile devam edemez?

- A. yalan söyler.
- B. dürüştür.
- C. hoşgörülüdür.

Murat şarkı söylerken sözleri unuttu. Sınıfta kimse ona gülmedi. Sözleri hatırlayan Murat şarkısına devam etti.



2 Bu durumda Murat'ın arkadaşları için hangisi söylenebilir?

- A. Kavgacıdırlar.
- B. Saygılıdırlar.
- C. Sabırsızdırlar.

3

Hangisi evdeki sorumluluklarını bilen Eliften beklenmeyen bir davranıştır?



- A. Odasını toplamak.
- B. Toz almak.
- C. Işıkları açık bırakmak.

4

Aşağıdaki teknolojik aletlerden hangisini tek başımıza kullanamayız?

- A. Fırın
- B. Bilgisayar
- C. Televizyon

## HAYAT BİLGİSİ TESTİ

5 Aşağıdaki davranışlardan hangisi aile bütçesi için zararlıdır?

- A. Alışveriş listesi yapmak.
- B. Her beğendiğimizi almak.
- C. Tutumlu olmak.

7 Bilinçli bir tüketici, yeni bir ürün alırken aşağıdakilerden hangisine dikkat etmesine gerek yoktur?

- A. Ürünün son kullanma tarihine
- B. Ürünün içerdiği maddelere
- C. Ürünün reklamına

6

Su, vazgeçilmez yaşam kaynağımızdır. Aynı zamanda temizlik içinde vazgeçilmezimizdir. Su olmazsa hayatta olmaz.



Hangisi su israfını önlemede etkilidir?

- A. Bozuk çeşmeleri tamir etmek.
- B. Sıcak havada kombiyi kısmak.
- C. Ütüyü işimiz bitince hemen kapatmak.

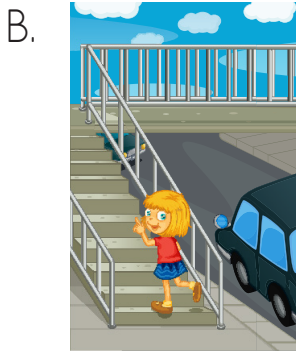
8 Eymen dün manava gitti. Manavda pırasa, karnabahar, lahana, portakal vardır.

Eymen'in manavda gördüğü meyve ve sebzelere bakarak hangi mevsimde olduğunu söyleyebiliriz?

- A. İlkbahar
- B. Kış
- C. Yaz

## HAYAT BİLGİSİ TESTİ

9 Aşağıdakilerden hangisi karşıdan karşıya geçmek için güvensiz bir geçiş yoludur?



10



Orman yangını vardı. Herkes panik içerisindeydi. Ayça hemen ..... numaralı hattı arayarak yardım istedi.

Ayça'nın Aradığı numara hangisidir?

A. 177

B. 110

C. 112

## FEN BİLİMLERİ TESTİ

1



Dünyanın küre şeklinde olduğunu gözlemledim.

Yukarıdaki bilgileri veren kişi aşağıdakilerden hangisidir?

- A. Galileo Galilei
- B. Kopernik
- C. Biruni

2

Yağmur kar gibi hava olayları oluşur. Atmosfer ve ozon tabakası buradadır.

Yukarıda bahsedilen katman hangisidir?

- A. Su tabakası
- B. Hava tabakası
- C. Kara tabakası

3

Bu akşam denizin sesini dinledim. Kokusunu içime çektim. Ne de güzel görünüyor?

Yukarıdaki cümleleri kuran Ali, hangi duyu organını kullanmamıştır?

- A. Kulak
- B. Göz
- C. Dil

4

- ☞ Sıklıkla banyo yapmak.
- ☞ Çok sıcak ve soğuk nesnelere uzak durmak.
- ☞ Dövme yapıştırmamak.

Yukarıdaki ifadeler hangi duyu organımızın sağlığı için gereklidir?

- A. Deri
- B. Göz
- C. Burun

5



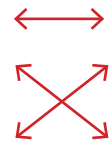
Hangisi diğerlerinden farklı bir hareket yapar?

- A. İleri atılan ok
- B. Geriye dönen araba
- C. Kalkış yapan uçak

## FEN BİLİMLERİ TESTİ

- 6 Dokunma Burun  
Tat Alma Deri  
Koklama Dil

Duyu organları ile görevleri eşleştirildiğinde nasıl bir şekil oluşur?

- A.  B.  C. 


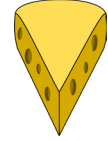

7 "Babam dolabı ..... hareketi ile ileri, ..... reketi ile geri hareket ettirdi." cümlesinde boşluklara hangi kelime gelmelidir?

- A. itme, çekme  
B. itme, sallama  
C. tutma, itme

8 Dünyanın katmanlarından hangisi en ağırdır?

- A. Çekirdek  
B. Atmosfer  
C. Magma

9 Aşağıdaki görsellerden hangisi diğerlerinden farklı hâdedir?

- A.  B.   
C. 

10 I. Maddelerin kokusunu burnumuz ile alırsız.

II. Pürüzlü yüzeylerin üzeri dümdüzdür.

III. Kırılgan maddeler eski haline dönebilir.

Yukarıda verilen ifadelerden hangisi veya hangileri doğrudur?

- A. I B. II ve III  
C. I ve III

## İNGİLİZCE TESTİ

1



Yukarıdaki görseli anlatan sözcük aşağıdakilerden hangisidir?

- A. Garage
- B. Bedroom
- C. Kitchen

2

sofa, television

Yukarıdaki sözcüklerle ilişkili olan oda aşağıdakilerden hangisidir?

- A. Bathroom
- B. Kitchen
- C. Living room

3



Where is the doctor?

Sorusunun cevabı aşağıdakilerden hangisi olmalıdır?

- A. She is at the zoo.
- B. She is at hospital.
- C. She is at cinema.

4

Tom: Where is the museum?

Chris: I'm sorry, \_\_\_\_\_.

Konuşmayı tamamlayan ifade hangisidir?

- A. In the park
- B. It's over there
- C. I don't know

5

Hangisi diğerlerinden farklıdır?




- A. Playroom
- B. Rectangle
- C. Round

## İNGİLİZCE TESTİ

6 Aşağıda verilen eşleştirmelerden hangisi yanlıştır?

- A.  → Shopping centre
- B.  → Bank
- C.  → Library

9 Aşağıdaki eşleştirmelerden hangisi doğrudur?

- A.  → on
- B.  → under
- C.  → in

7



"Where is the carpet?"

Sorusunun cevabı aşağıdakilerden hangisi olmalıdır?

- A. On the bed
- B. Under the bed
- C. In the bathroom

8



"My sister is in the \_\_\_\_\_."

Boşluğu hangi kelime ile doldurabiliriz?

- A. Kitchen
- B. Living room
- C. Garage

10



Görseldeki sözcük aşağıdakilerden hangisidir?

- A. Cup
- B. Shampoo
- C. Kettle

