

### 3. Sınıflar Sene Başı Hazır Bulunuşluk Sınavı

Adı-Soyadı: .....

1. Aşağıdaki sayıların okunuşlarını yazınız.

a. 28: **Yirmi sekiz** .....


b. 93: **Doksan üç** .....

2. Aşağıda okunuşu verilen doğal sayıları rakamla yazınız.

a. Kırk sekiz: **48** .....


b. Doksan: **90** .....

3. Aşağıdaki modellenen doğal sayıları bulup okunuşlarını yazınız.




Rakamla: **64** .....

Yazıyla: **Altmış dört** .....



Rakamla: **72** .....

Yazıyla: **Yetmiş iki** .....



Rakamla: **29** .....

Yazıyla: **Yirmi dokuz** .....

4. Aşağıda verilen kutuları örnekteki gibi doldurunuz.


45	
onluk	birlik
..4..	...5..
...kırk beş...	

85	
onluk	birlik
..8...	..5...
...Seksen bes...	

93	
onluk	birlik
9	3
doksan üç	

71	
onluk	birlik
7	1
...Yetmiş bir...	

5. Aşağıdaki elmaların bir düzine kadarını boyayınız.



6. Bir haftadaki günlerin sayısı bir düzineden kaç eksiktir?

a. 3

**b. 5**

c. 7

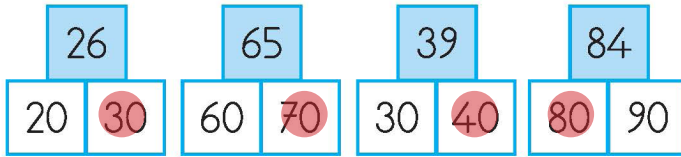
7. 2 düzine kalemin 5 eksiği kaç kalem eder?

$12 \times 2 = 24$ $24 - 5 = 19$ kalem eder.											


8. Aşağıdaki verilen sayıları karşılaştırarak boşluklara "küçüktür, büyüktür, eşittir" kelimelerinden uygun olanları yazınız.

- 48, 75 'ten ...küçüktür.
- 55, 41 'den ...büyüktür.
- 29, 29' a ...esittir.
- 81, 78' den ...büyüktür.
- 92, 99' dan ...küçüktür.

9. Aşağıdaki doğal sayılar hangi onluğa yakınsa o kutuyu boyayınız.



10. Aşağıdaki modellerden hangisi simetrik olarak iki eş parçaya ayrılabilir?



11. Aşağıdaki toplama ve çıkarma işlemlerini yapınız.

$$\begin{array}{r} 36 \\ + 44 \\ \hline 80 \end{array}$$
$$\begin{array}{r} 28 \\ + 53 \\ \hline 81 \end{array}$$
$$\begin{array}{r} 91 \\ - 45 \\ \hline 46 \end{array}$$
$$\begin{array}{r} 48 \\ - 38 \\ \hline 10 \end{array}$$

$$\begin{array}{r} 98 \\ - 29 \\ \hline 69 \end{array}$$
$$\begin{array}{r} 16 \\ + 33 \\ \hline 49 \end{array}$$
$$\begin{array}{r} 80 \\ - 28 \\ \hline 52 \end{array}$$
$$\begin{array}{r} 25 \\ + 39 \\ \hline 64 \end{array}$$

$$\begin{array}{r} 73 \\ - 38 \\ \hline 35 \end{array}$$
$$\begin{array}{r} 66 \\ + 37 \\ \hline 103 \end{array}$$
$$\begin{array}{r} 85 \\ - 23 \\ \hline 62 \end{array}$$
$$\begin{array}{r} 50 \\ + 49 \\ \hline 99 \end{array}$$

12. Efe'nin 18 lirası vardır. Babası ona 15 lira daha verirse Efe'nin kaç lirası olur?

$$18 + 15 = 33 \text{ lirası olur.}$$

13. Sınıfımızda 14 kız ve kızlardan 8 fazla sayıda erkek vardır. Buna göre sınıfımızın mevcudu kaç olur?

$$14 + 8 = 22 \text{ (erkek sayısı)}$$
$$14 + 22 = 36 \text{ (sınıf mevcudu)}$$

14. Bir kümeste 28 tane tavuk vardır. Tavuklardan 9 eksik sayıda civciv vardır. Buna göre kümeste kaç civciv vardır?

$$28 - 9 = 19 \text{ civciv vardır.}$$

15. Aşağıdaki işlemlerdeki verilmeyen terimleri bulup yazınız.


$$\begin{array}{r} 48 \\ + \boxed{25} \\ \hline 73 \end{array}$$
$$\begin{array}{r} \boxed{52} \\ - 36 \\ \hline 16 \end{array}$$
$$\begin{array}{r} \boxed{59} \\ + 25 \\ \hline 84 \end{array}$$
$$\begin{array}{r} 82 \\ - \boxed{55} \\ \hline 27 \end{array}$$

16. 54 sayısı ile hangi sayı ile toplarsak cevap 93 olur?

$$54 + \square = 93$$
$$93 - 54 = 39$$

17. Aşağıda verilen nesne grafiğine göre soruları cevaplayınız.

### Çiftlikteki Hayvanlar

Hayvan	Sayı
İnek	
Tavuk	
Tavşan	
Civciv	
Koyun	




(Her resim 2 hayvanı göstermektedir.)


- En fazla hayvan hangisidir? Civciv
- En az hayvan hangisidir? Koyun
- Kaç tane civciv vardır? 10
- Kaç tane inek vardır? 8
- Civcivler ile tavşanların sayıları toplamı kaçtır? 16

18. Bir havuzu su ile doldurmak isteyen Çınar, aşağıdakilerden hangisini kullanırsa havuzu daha çabuk doldurur?

- a.  b.  c. 

19. Aşağıdakilerden hangisi kilogram ile ölçülerek satılır?

- a.  b.  c. 



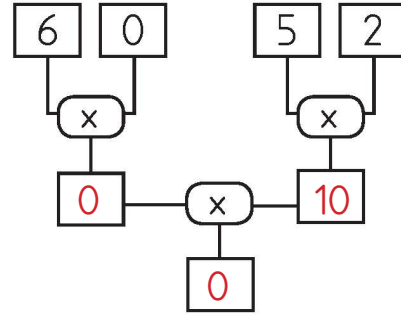
Yukarıdaki çiçeklerin sayısı aşağıdaki çarpma işlemlerinin hangisinde doğru verilmiştir?

- a.  $5 \times 5$  b.  $4 \times 5$  c.  $4 \times 4$

21. Aşağıdaki çarpma işlemlerini yapınız.

$$\begin{array}{r} 4 \\ \times 4 \\ \hline 16 \end{array} \quad \begin{array}{r} 8 \\ \times 2 \\ \hline 16 \end{array} \quad \begin{array}{r} 1 \\ \times 5 \\ \hline 5 \end{array} \quad \begin{array}{r} 7 \\ \times 4 \\ \hline 28 \end{array}$$

22. Aşağıdaki verilen şemalara göre kutulara gelecek sayıları bulunuz.



23. Ege 7 yaşındadır. Babasının yaşı Ege'nin yaşının 5 katı kadardır.

Buna göre Ege'nin babasının yaşı kaçtır?

$7 \times 5 = 35$  yaşındadır.

24. 6 inek ile 3 tavuğun ayak sayıları toplamı kaç olur?

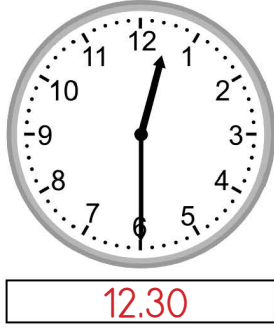
$6 \times 4 = 24$  (ineklerin ayak sayısı)  
 $3 \times 2 = 6$  (tavukların ayak sayısı)  
 $24 + 6 = 30$  toplam ayak sayısı



25. Aşağıdaki saatlerin kaç gösterdiğini altlarına yazınız.



09.30



12.30

26. Aşağıdaki saatlerin kaç gösterdiğini altlarına yazınız.

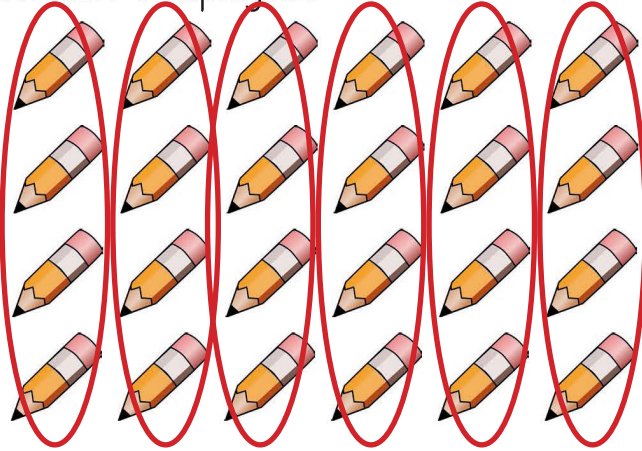


03:00



23:30

27. Aşağıdaki kalemleri dörderli gruplayıp soruları cevaplayınız.



Kalem sayısı: 24 .....

Oluşan grup sayısı: 6 .....

Artan kalem sayısı: 0 .....

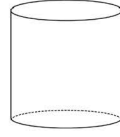
28. 15 lirayı 3 kişiye eşit olarak paylaşırsak kişi başına kaç lira düşer?

a. 15      b. 5      c. 3

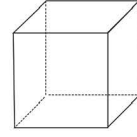
29. Aşağıdaki noktalı yerleri doğru bir şekilde doldurunuz.

- 1 bütün ..... 2 ..... yarım eder.
- 1 bütün ..... 4 ..... çeyrek eder.
- 4 çeyrek ..... 1 ..... bütün eder.
- 4 bütün ..... 8 ..... yarım eder.
- 8 çeyrek ..... 2 ..... bütün eder.

30. Aşağıdaki geometrik cisimlerin isimlerini altlarına yazınız.



silindir

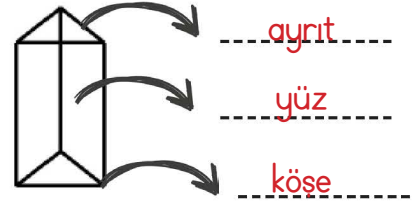


küp

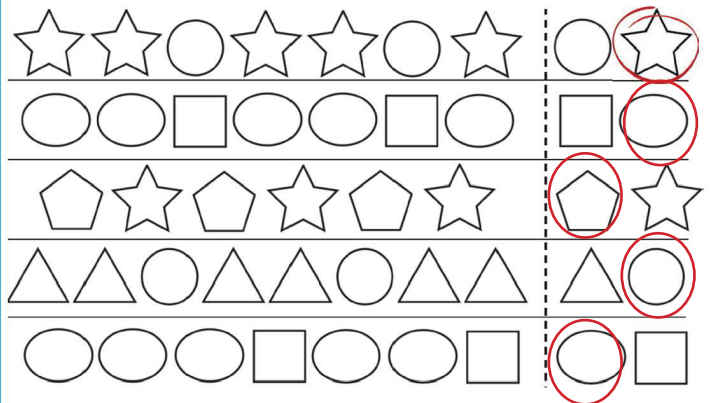


koni

31. Aşağıdaki noktalı yerlere "köşe", "ayrıt", "yüz" kelimelerini doğru bir şekilde yerleştiriniz.



32. Aşağıdaki örüntülerin kuralını bulunuz. Ardından örüntünün hangisiyle devam edeceğini örnekteki gibi yuvarlak içine alınız.







### 3. Sınıflar Sene Başı Hazır Bulunuşluk Sınavı

Adı-Soyadı: .....

#### ASLAN VE FARE

Mağarasında uyuyan bir aslan, üzerinden geçen bir fare yüzünden uyandı. Aslan buna çok sinirlendi ve fareyi yakaladı. Fare, korku içinde "Lütfen gitmemize izin ver, bir gün bu iyiliğin karşılığını ödeyeceğim." diye yalvardı. Küçük farenin aslana iyilik yapması fikri aslanı öyle eğlendirdi ki gülerek farenin gitmesine izin verdi.

Bir gün aslan, avcılarının ağına takıldı. Ne kadar uğraşsa da kurtulamadı ağdan ve başladı kükremeye. Aslanı duyan fare, koşarak onun yanına gitti. Zaman kaybetmeden başladı ipleri kemirmeye ve aslanı kavuşturdu özgürlüğüne. Fare "İşte!" dedi. "Sana borcumu ödeyeceğimi söyleyince gülmüştün bana. Bak sana olan borcumu ödedim."

#### 1-5. Soruları metne göre cevaplayınız.

- Aslan neden sinirlenmiş?  
Fare onu uyandırdığı için sinirlenmiş.
- Fare, aslanın elinden nasıl kurtulmuş?  
Aslana iyilik yapma sözü vermiş.
- Bu metnin başlığı neden "Aslan ile Fare" dir?  
Metinde bir aslan ve fareden bahsediliyor.
- Fare, aslana olan borcunu nasıl ödemiş?  
Aslanı avcılarının ağından kurtarmış.
- Bu hikayeden nasıl bir sonuç çıkarmalıyız?  
İyilik yaparsak gelecekte mutlaka onun karşılığını görürüz.

6. Aşağıdaki tabloyu örnekteki gibi doğru bir şekilde doldurunuz.

Kelime	Heceleri	Hece Sayısı	Ünlü Harfler
öğretmen	ög-ret-men	3	ö-e-e
arkadaş	ar-ka-daş	3	a-a-a
misafirlik	mi-sa-fir-lik	4	i-a-i-i
tesadüfen	te-sa-dü-fen	4	e-a-ü-e
alfabe	al-fa-be	3	a-a-e
kahramanlık	kah-ra-man-lık	4	a-a-a-ı

7. Aşağıdaki kelimelerin eş anlamlılarını karşlarına yazınız.

- kırmızı → al
- hatıra → anı
- hediye → armağan
- vazife → görev
- yıl → sene

8. Aşağıdaki kelimelerin zıt anlamlılarını karşlarına yazınız.

- hızlı → yavaş
- kısa → uzun
- yaşlı → genç
- zengin → fakir
- cevap → soru

9. Aşağıdaki sözcükleri sözlük sırasına koyduğumuzda en sonda hangisi yer alır?

- a. kedi b. fare c. balık

10. "kaz" sözcüğü aşağıdakilerin hangisinde diğerlerinden farklı bir anlamda kullanılmıştır?

- a. Belediye ekipleri evimizin önünü kazdı.  
b. Hayvanat bahçesinde kazları gördük.  
c. Kazı sonucunda tarihi eserlere ulaşıldı.

11. Aşağıdaki cümlelerin hangisinde "Nerede?" sorusunun cevabı vardır?

- a. Evin önündeki çocuklar akşam olunca evlerine gittiler.  
b. En sevdiğim pembe kazağım kayboldu.  
c. Öğretmenim beni tebrik etti.

12. Aşağıdaki cümlelerin hangisinde neden-sonuç ilişkisi kurulmamıştır?

- a. Çok üşüdüğü için kazak giydi.  
b. Bugün annem için çok çalıştım.  
c. Sert esen rüzgar yüzünden şemsiyem kırıldı.

13. Aşağıdaki cümlelerin hangisinde karşılaştırma yapılmıştır?

- a. Ben de babam gibi iyi futbol oynarım.  
b. Erkin çok yemek yiyor.  
c. Bizim okulumuz çok güzel.

14. Aşağıdakilerden hangisi özel isim değildir?

- a. Mustafa  
b. Atatürk İlkokulu  
c. Kitaplık

15. Aşağıdaki cümlelerde altı çizili sözcüklerden hangisi bir varlığın özelliğini belirtmemistir?

- a. Kırmızı gömleğimin üstü lekelenmiş.  
b. Ahmet, saatini kaybetmiş.  
c. Bozuk televizyonu tamire götürdük.

16. Aşağıdaki cümlelerin sonuna uygun olan noktalama işaretini koyunuz.

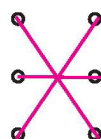
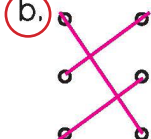
- İmdat, yüzme bilmiyorum  !  
● Bunları da alıyor musun  ?  
● Ne zaman tatile gideceğiz  ?  
● Yakınlarda güzel bir piknik alanı var  .  
● Eyvah, okula geç kaldım  !

17. Aşağıdaki kelimeleri okuyunuz. Kelimeler doğru yazılmışsa ✓ işareti, eğer yanlış yazılmışsa ✗ işareti koyunuz.

- Gazte  ✗      ● Öğretmen  ✓  
● Kalabalık  ✓      ● Yalançı  ✗  
● Herkez  ✗

18. Okuduğun kitabın adı nedir?      Dün gece  
Kitabı nerden aldın?      Kırtasiyeden  
Kitabı ne zaman bitirdin?      Küçük Prens

Yukarıdaki sorular ve yanıtları doğru eşleştirmesi nasıl olmalıdır?

- a.       b.       c. 