

# 1. DÖNEM 2. KDS



**ALİ NERKİZ  
DENEME SINAVLARI**

# 2. Sınıf

**1. DÖNEM**

**2. KAZANIM DEĞERLENDİRME**

**SINAVI**

*Eğitimde Feda Edilecek  
Tek Bir Fert Yoktur.*

**ÖĞRENCİNİN  
ADI SOYADI  
SINIFI  
OKULU**

; *H. Atatürk*  
: .....  
: 2 / ..... NO : .....  
: ..... İLKOKULU

**ANDS**

## TÜRKÇE TESTİ

BU BÖLÜMDE CEVAPLAYACAĞINIZ SORU SAYISI 15'TİR. CEVAPLAMAYA İSTEDİĞİNİZ SORUDAN BAŞLAYABİLİRSİNİZ. CEVAPLARINIZI CEVAP KAĞIDININ TÜRKÇE BÖLÜMÜNE İŞARETLEYİNİZ. **BAŞARILAR.**

### GÜVERCİN İLE KARINCA

Bir karınca dereye düşmüştü. Su içen güvercin onu gördü. Hemen gagasıyla bir çöp uzattı, Karınca çöpe tutunup kıyıya çıktı. Tam o sırada oradan geçen bir avcı güvercini görüp nişan aldı, Karınca da avcının ayağını ısırıldı. Adamın atışı boşa gitti. Böylece güvercin kurtuldu.

**NOT: 1. ve 2. Soruyu metne göre cevaplayınız.**

#### 1. Bu metnin konusu nedir?


- a. Hayvan sevgisi
- b. Orman sevgisi
- c. Yardımlaşma

#### 2. Metinle ilgili aşağıdaki sonuçlardan hangisine ulaşamayız?

- a. Karınca, güvercini kurtarmıştır.
- b. Güvercin, karıncayı kurtarmıştır.
- c. Avcı, güvercini kurtarmıştır.



### 3. Görsellerden hangisi metni anlatmaktadır?



Gülnur ve Sema, Yeşildam Ortaokulu'na atandı.

### 4. Yukarıdaki cümlenin **harf, hece ve sözcük sayısı** hangisinde doğru verilmiştir?

	HARF	HECE	SÖZCÜK
a.	43	17	9
b.	37	17	6
c.	37	21	6

### 5. Aşağıdaki kelimelerden hangisinin yazımı **doğrudur**?

a. tırafık

b. tiren

c. kılavuz



Bu akşam dedem ve anneannem bize gelecek.

6. Yukarıdaki cümlede aşağıdaki sorulardan hangisinin cevabı **yoktur**?

- Kim gelecek?
- Ne zaman gelecek?
- Nereden gelecek?



7. Aşağıdaki sözcüklerden hangisi sözlük sırasına göre **daha önce** gelir?



a. kurbağa



b. kurt



c. kurabiye

yağacakmış boyunca üç yağmur gün

8. Yukarıdaki kelimeler ile anlamlı ve kurallı bir cümle oluşturulduğunda **baştan üçüncü** kelime hangisi olur?

- üç
- yağmur
- gün

Yirmi Dokuz Ekim'de,  
Cumhuriyet kuruldu.  
Ulus özgür sesini,  
Tüm Dünya'ya duyurdu.

Cumhuriyet bizlere,  
Armağandır Ata'dan.  
Egemenlik sesleri,  
Yükseldi Ankara'dan

**Hülya ÖNEL**

**9. Şiire en uygun başlık aşağıdakilerden hangisidir?**

- a. Dünya Sevgisi
- b. Cumhuriyet
- c. Atatürk'üm

Ak saçlı adam, siyah elbiseli kadından borç para aldı.

**10. Yukarıdaki cümlede aşağıdaki kelimelerden hangisinin eş anlamlısı yoktur?**




- a. kırmızı
- b. beyaz
- c. kara

**11. Aşağıdaki cümlelerin hangisinde noktalama işareti doğru kullanılmıştır?**

- a. Türkiye'nin başkenti Ankara'dır.
- b. Ramazan öğretmen herkese, kitap gönderiyor?
- c. Ormanların, kralı. Aslan'dır.



**12. Yandaki görselde hangi çocuğun konuşmasında olayın geçtiği yer belirtilmiştir?**

a.	
b.	
c.	

Dere kenarında piknik yaptık.



Tuğçe boya kalemlerini kaybetmiş.

O filmi daha önce de izlemiştim.



Uzun kapıdan içeri girince, dostunu tam karşısında gördü.

**13. Yukarıdaki cümlede aşağıdaki kelimelerden hangisinin zıt anlamlısı yoktur?**

- a. düşman      b. görmemek      c. kısa

**14. Aşağıdaki kelimelerden hangisi hecelerine doğru ayrılmıştır?**

- a. mü-sa-ba-ka      b. İst-an-bul-lu      c. yet-iş-kin

**15. Aşağıdaki sözcüklerden hangisinin tek başına bir anlamı vardır?**

- a. çünkü      b. daha      c. yaşlı

**TÜRKÇE TESTİ BİTMİŞTİR.**





## MATEMATİK TESTİ

BU BÖLÜMDE CEVAPLAYACAĞINIZ SORU SAYISI 15'TİR. CEVAPLAMAYA İSTEDİĞİNİZ SORUDAN BAŞLAYABİLİRSİNİZ. CEVAPLARINIZI CEVAP KÂĞIDININ MATEMATİK BÖLÜMÜNE İŞARETLEYİNİZ. **BAŞARILAR.**

**1. Aşağıdaki sayıların toplamını tahmin edeceğiz.**

**Hangisinin tahmini sonucu diğerlerinden farklı olur?**

- a.  $24 + 41$       b.  $18 + 47$       c.  $32 + 27$

**2. Aşağıdaki öğrencilerden hangisi 63 sayısını göstermektedir?**



17 21 25 29 ... 37 ... 45

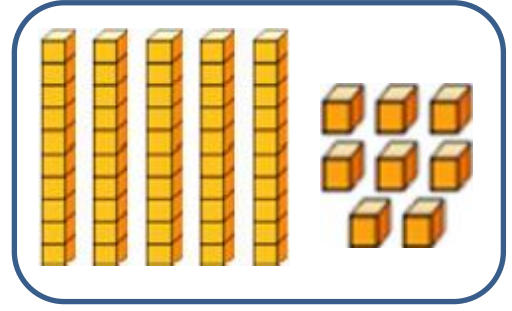
**3. Yukarıdaki örüntüde verilmeyen sayıların toplamı kaçtır?**

- a. 33      b. 41      c. 74



4. Yanda onluk taban bloklarıyla gösterilen sayı kaçtır?

- a. 58  
b. 85  
c. 13



5. Mehmet ile Deniz annelerine toplam kaç çiçek almıştır?

a.	20
b.	22
c.	24



6. Aşağıdaki çocuklardan hangisinin sonucu en küçüktür?

a. **SERTAN**

b. **KEZBAN**

c. **TUĞRUL**




a.


b.


c.



7. Aşağıdaki ritmik saymalardan hangisinde eksik bırakılan yere 26 sayısı gelmelidir?



- a. 
- b. 
- c. 

$$\begin{array}{r} 77 \\ - 35 \\ \hline \end{array}$$


$$\begin{array}{r} 68 \\ - 27 \\ \hline \end{array}$$


$$\begin{array}{r} 44 \\ - 13 \\ \hline \end{array}$$

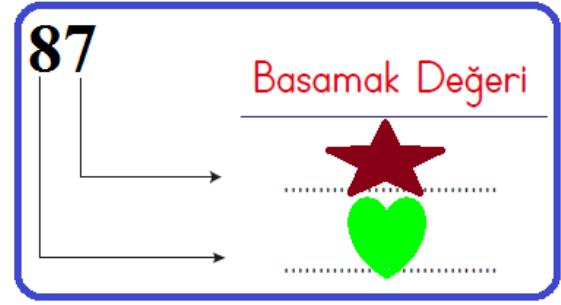

8. Yukarıdaki çıkarma işlemlerinin sonucu sırasıyla hangisinde doğru olarak verilmiştir?

			
a.	42	41	13
b.	24	14	31
c.	42	41	31







9. Yandaki şekle göre yerine gelmesi gereken sayıların toplamı kaçtır?

- a. 15  
b. 87  
10c. 78







10. Yandaki toplama işleminde yan yana ve alt alta yapılan işlemlerin sonucu sırasıyla hangisinde doğru olarak verilmiştir?





a. 

				
58	86	49	95	





b. 

				
58	86	94	59	

c. 

				
85	86	49	95	

(+)  $\longrightarrow$

16	42	
33	53	
		

$\downarrow$

**11.** Kalemliğinde bir miktar kalem olan Buse'ye annesi bir düzine daha kalem alınca toplam 21 kalemi oldu. **Buna göre, kalemliğinde ilk başta kaç kalem vardı?**

a. 12

b. 9

c. 6

**12.** Bir çıkarma işleminde eksilen 74, çıkan 58 ise fark kaçtır?

a. 16

b. 22

c. 26

**13.** Marketten 32 çikolata alan Mustafa çikolataların 25 tanesini sınıf arkadaşlarına dağıttı. **Mustafa'nın kaç çikolatası kaldı?**

a. 7

b. 17

c. 9

**MATEMATİK TESTİ BİTMİŞTİR.**



## HAYAT BİLGİSİ TESTİ

BU BÖLÜMDE CEVAPLAYACAĞINIZ SORU SAYISI 10'DUR. CEVAPLAMAYA İSTEDİĞİNİZ SORUDAN BAŞLAYABİLİRSİNİZ. CEVAPLARINIZI CEVAP KÂĞIDININ HAYAT BİLGİSİ BÖLÜMÜNE İŞARETLEYİNİZ. **BAŞARILAR.**

Songül, sarı saçlı, beyaz tenli bir kızdır.

**1. Yukarıda fiziksel özellikleri verilen öğrenci hangisi olabilir?**



a.



b.



c.

**2. Aşağıdaki ifadelerden hangisi yanlıştır?**

- a. Akrabalarımızla acı ve sevinçlerimizi paylaşıyoruz.
- b. Özel günlerde akrabalarımızla bir araya geliriz.
- c. Sadece yakındaki akrabalarımızı ziyaret etmeli ve aramalıyız.

\*Dayımın erkek kardeşi

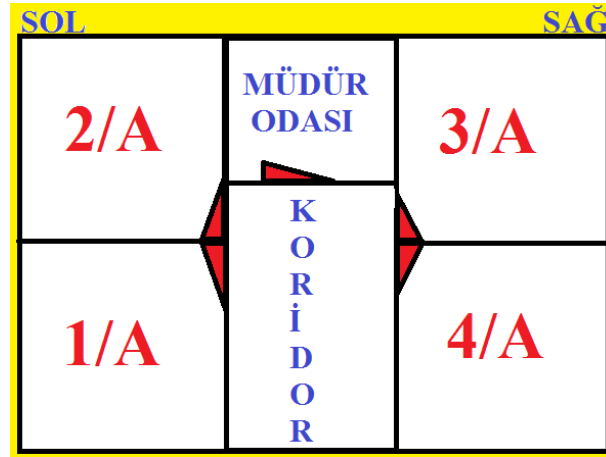
\*Teyzemin oğlu

**3. Aşağıdaki kavramları yukarıdaki ifadelerle eşleştirdiğimizde hangisi dışarıda kalır?**

a. Kuzen

b. Dayı

c. Amca



**4. 2/A sınıfında okuyan Buğlem ablasına sınıfını tarif ediyor. Buna göre, Buğlem hangisini söylerse sınıfını doğru tarif etmiş olur?**

- a. Sınıfım, müdür odasının sağındadır.
- b. Sınıfım, 1/A sınıfının solundadır.
- c. Sınıfım, 3/A sınıfının solundadır.



**5. Çeşmenin boş yere aktığını gören Songül hangisini söylerse bilinçli bir tüketici olur?**

- a. Nasıl olsa ben açmadım, kapatmasam da olur.
- b. Çeşmeyi kapatmalıyım.
- c. Kim açtıysa o kapatsın



**6. Aşağıdakilerden hangisi sınıf eşyalarımızdan biridir?**

a.



b.




c.



**7. Atatürk ne zaman ve nerede doğmuştur?**

- a. Bin sekiz yüz seksen bir yılında Ankara'da doğmuştur.
- b. Bin sekiz yüz seksen bir yılında Selanik'te doğmuştur.
- c. Bin dokuz yüz yirmi üç yılında Selanik'te doğmuştur.





**8. Evimin adresini yazarken hangisine bilmeme gerek yoktur?**

- a. Kapı numarasını
- b. Kan grubumu
- c. Mahalle adını

**9. Aşağıdakilerden hangisi okul kurallarından biri **olamaz**?**

- a. Koridorda yüksek sesle konuşmamalıyız.
- b. Okul araç ve gereçlerine zarar vermemeliyiz.
- c. Koridorda koşmalıyız.

**10. Alışveriş sırasında aşağıdaki davranışlardan hangisi doğru olur?**

- a. Paramın hepsini harcamalıyım.
- b. Önce ihtiyaçlarımı, sonra isteklerimi almalıyım.
- c. Kalemim var ama bu kalem de güzelmiş bunu da alayım.



**HAYAT BİLGİSİ TESTİ BİTMİŞTİR.**

## İNGİLİZCE TESTİ

BU BÖLÜMDE CEVAPLAYACAĞINIZ SORU SAYISI 10'DUR. CEVAPLAMAYA İSTEDİĞİNİZ SORUDAN BAŞLAYABİLİRSİNİZ. CEVAPLARINIZI CEVAP KAĞIDININ İNGİLİZCE BÖLÜMÜNE İŞARETLEYİNİZ. **BAŞARILAR.**


### 1. Deniz öğretmen Cumali'ye hangisini söylemiş olabilir?

- a. Sit down.
- b. Turn left.
- c. Stand up.



### 2. Yandaki görsele ait ifade aşağıdakilerden hangisidir?

- a. Cut
- b. Paint
- c. Draw



### 3. Hangisinin İngilizce adı **yanlış** yazılmıştır?



a. gorilla



b. tren



c. football

### 4. Hangisi yandaki görsele aittir?


- a. Good afternoon.
- b. Good bye.
- c. Good morning.



### 5. "Open the window" ifadesi hangi görsele aittir?



a.



b.



c.





**6. Üstteki görsele göre aşağıdaki ifadelerden hangisi 1 ya da 2 numaralı yere yazılamaz?**

- a. My name is Ayhan.
- b. Good morning.
- c. I'm fine. And you?

**7. Yandaki görsel hangisiyle ilgilidir?**

- a. Basketball
- b. Volleyball
- c. Football



**8. Yandaki sorunun cevabı aşağıdakilerden hangisi **olamaz** ?**

- a. My name is Buket.
- b. I'm Tülay.
- c. Good morning.




**9. Hangisi bir selamlaşma ifadesi **değildir**?**

- a. Close the book
- b. Hi
- c. Hello

**10. Hangisi yandaki görseli ifade etmektedir?**

- a. Turn
- b. Colour
- c. Cut



**İNGİLİZCE TESTİ BİTMİŞTİR.**





3 ARALIK  
DÜNYA  
ENGELLİLER GÜNÜ



İLKOKUL ETKİNLİKLERİ VE ALİ NERKİZ DENEME SINAVLARI

**ANDS**

<https://www.facebook.com/groups/andset>

