

1. DÖNEM 3. KDS



**ALİ NERKİZ
DENEME SINAVLARI**

2. Sınıf

1. DÖNEM

GENEL KAZANIM

DEĞERLENDİRME SINAVI

*Eğitimde Feda Edilecek
Tek Bir Fert Yoktur.*

**ÖĞRENCİNİN
ADI SOYADI
SINIFI
OKULU**

;

H. Atatürk

.....

: 2 / NO :

: İLKOKULU

ANDS

TÜRKÇE TESTİ

BU BÖLÜMDE CEVAPLAYACAĞINIZ SORU SAYISI 15'TİR. CEVAPLAMAYA İSTEDİĞİNİZ SORUDAN BAŞLAYABİLİRSİNİZ. CEVAPLARINIZI CEVAP KAĞIDININ TÜRKÇE BÖLÜMÜNE İŞARETLEYİNİZ. **BAŞARILAR.**

Kedi Nerede?

Nasreddin hoca kasaptan iki okka et alır ve hanımına akşama pişirmesini tembihleyip gezmeye çıkar. Hoca gidince komşu kadınlar Hoca'nın hanımına misafirliğe gelirler. Hoca'nın hanımı da misafirlere ikram olsun diye eti pişirir ve afiyetle yerler.


Hoca et hayaliyle eve gelir. Karısı üzgün bir şekilde Hoca'ya: "Hocam senin eti bizim kedi yedi." der.

Hoca kediyi tutup tartar. Kedi tam iki okka gelince karısına döner ve: "Hanım bu bizim kedi ise benim aldığım iki okka et nerde; Bu benim aldığım iki okka et ise bizim kedi nerde?"

NOT: 1. ve 2. Soruyu metne göre cevaplayınız.

1. Eti kim yemiştir?

- a. Nasreddin Hoca
- b. Hoca'nın kedisi
- c. Misafirler



2. Hoca, eti nereden almıştır?

- a. Kasaptan
- b. Marketten
- c. Komşudan

3. Aşağıdaki sözcüklerden hangisi hecelerine **yanlış ayrılmıştır?**

- a.dayısının- n oğlu b. ...üç kişi-lik c.televiz-yon bozuldu.

4. Aşağıdakilerden hangisi iyi insanların özelliklerindedir?

- a. tembel b. yalancı c. saygılı

Öğrenciler, kırmızı topu yine mi kaybettiler?

5. Yukarıdaki cümlede aşağıdaki kelimelerden hangisinin **eş anlamlısı yoktur?**

- a. soru b. talebe c. al

6. İstiklâl Marşı'mızın **konusu nedir?**

- a. bağımsızlık
b. oyun oynamak
c. kitap sevgisi



Hayvanlar, ormanda neşeyle oynuyorlarmış.

7. Yukarıdaki cümlede aşağıdaki sorulardan hangisinin cevabı yoktur?

- a. Kimler oynuyormuş?
- b. Ne zaman oynuyorlarmış?
- c. Nerede oynuyorlarmış?



Güneş sende yeşil sende
Buğday pamuk meyve sende
Coşkun akan sular sende
Ne güzelsin sen Türkiye'm

Çiçek kokan dağların var
Bülbül öten bağların var
Ne güzeldir ah bu diyar
Bir cennetsin sen Türkiye'm

Refik BAŞ

NOT: 8. ve 9. Soruyu şiire göre cevaplayınız.

8. Şiire en uygun başlık aşağıdakilerden hangisidir?

- a. Yeşil Ülke
- b. Çiçekli Dağlar
- c. Türkiye'm

9. Aşağıdaki görsellerden hangisi şiirle ilgilidir?



a.




b.



c.





10. Yukarıdaki görselleri olayların oluş sırasına göre sıraladığımızda sıralama nasıl olur?

- a. 1-2-3 b. 2-1-3 c. 2-3-1

-Adana()nın komşu illeri Mersin() Osmaniye ve Hatay()dır()
-Yaşasın() Yeni bir bilgi öğrendim.

11. Yukarıdaki cümlede parantezle gösterilen yerlere sırasıyla hangi noktalama işaretleri gelmelidir?

- a.  b.  c. 

12. Aşağıdaki cümlelerin hangisinde noktalama işareti **doğru** kullanılmıştır?

- a. Malatyanın en ünlü meyvesi Kayısı'dır.
b. Bisikletine korna! fren, ve süs, almış?
c. Aşçı pilav, kuru fasulye ve çorba yapmış.

13. Aşağıdaki görsellerden hangisinin adı sözlük sırasına göre **daha sonra gelir?**



a. domates



b. deve



c. çanta

Büyük şapkalı şişman adam, **gece** fabrikada çalışıyormuş.

14. Yukarıdaki cümlede altı çizili kelimenin **zıt anlamlısı aşağıdaki cümlelerin hangisinde kullanılmıştır?**

- a. Bahçeden topladığı elmalar çok küçüktü.
- b. Murat'ın kardeşi çok zayıfmış.
- c. Güneş, gündüz olunca yüzünü gösteriyor.

gol

Mehmet

iki

attı

maçta

15. Yukarıdaki kelimeler ile anlamlı ve kurallı bir cümle oluşturulduğunda **baştan üçüncü kelime hangisi olur?**

a. iki

b. gol

c. attı.

TÜRKÇE TESTİ BİTMİŞTİR.



MATEMATİK TESTİ

BU BÖLÜMDE CEVAPLAYACAĞINIZ SORU SAYISI 15'TİR. CEVAPLAMAYA İSTEDİĞİNİZ SORUDAN BAŞLAYABİLİRSİNİZ. CEVAPLARINIZI CEVAP KÂĞIDININ MATEMATİK BÖLÜMÜNE İŞARETLEYİNİZ. **BAŞARILAR.**

1. Mustafa'nın 57 misketi vardır. Ali'nin misketi Mustafa'dan 24 eksiktir. **Mustafa ile Ali'nin toplam kaç misketi vardır?**

a. 90 b. 81 c. 33



2. Bir sürahiden 9 bardak limonata çıkıyor. **Buna göre iki sürahiden kaç bardak limonata çıkar?**

a. 9 b. 11 c. 18



3. 74 lirası olan Aslı, parasınının 23 lirasını harcadı.

Aslı'nın kaç lirası kalmıştır?

a. 97 b. 51 c. 67



4. Aşağıdaki çıkarma işlemlerinden hangisinde **eksilen** sayı **49**'dur?

a.
$$\begin{array}{r} \cdot\cdot \\ -13 \\ \hline 62 \end{array}$$

b.
$$\begin{array}{r} \cdot\cdot \\ -32 \\ \hline 17 \end{array}$$

c.
$$\begin{array}{r} \cdot\cdot \\ -18 \\ \hline 67 \end{array}$$

Bir kasap 26 kilo et satınca dükkânda 41 kilo et kaldı.

5. Buna göre kasap et satmadan önce dükkânda kaç kilo et vardı?

- a. 15 b. 67 c. 78



6. Aşağıdakilerden hangisi **yanlıştır**?

- a. 7 onluk, 4 birlikten oluşan sayı 74'tür.
b. 52 sayısındaki 5 onlar basamağıdır.
c. İleriye doğru saymanın en kısa yolu çıkarma işlemidir.






Merhaba çocuklar. Benim 4 köşem, 4 kenarım var.
Karşılıklı kenarlarım (iki kısa, iki uzun) birbirine eşit.

7. Yukarıda kendisini tanıtan geometrik cisim hangisidir?


a.



b.



c.



8. Aşağıdaki en yakın onluğa yuvarlayarak yapılan işlemlerden hangisinin sonucu **yanlıştır?**

a. $74 - 56 = 10$

b. $36 + 21 = 60$

c. $81 - 46 = 40$

$47 - 28 - 91$

9. Yukarıdaki sayıların büyükten küçüğe doğru sıralanışı aşağıdakilerden hangisidir?

a. 28, 47, 91

b. 91, 47, 28

c. 47, 28, 91



10. Yandaki üç kardeşin yaşları toplamı **29**'dur. Cengiz **9**, Fatma **14** yaşındadır. Buna göre Osman kaç yaşındadır?

- a. 6 b. 11 c. 23



11. Yandaki çıkarma işleminin gerçek sonucu ile tahmini sonucu arasındaki fark kaçtır?

- a. 46 b. 40 c. 6

$$\begin{array}{r} 82 \\ -36 \\ \hline \end{array}$$

12. Aşağıdaki eşitliklerden hangisi **yanlıştır**?

- a. $47 - 21 = 12 + 14$
b. $92 - 36 = 83 - 11$
c. $65 + 16 = 41 + 40$

13. Yemekhanede sıraya giren Hürü'nün önünde 4, arkasında 2 kişi vardır. Buna göre Hürü baştan kaçınıcı sıradadır?

- a. 5
b. 6
c. 7



71 67 63 55 47

14. Yukarıdaki örüntüde eksik bırakılan yerlere sırasıyla hangi sayılar gelmelidir?

- a. 62 – 54 b. 59 – 51 c. 60 – 50

15. Aşağıdaki toplama işlemlerinden hangisinde verilmeyen sayı **35**'tir?

a.

$$\begin{array}{r} \cdot\cdot \\ + 28 \\ \hline 63 \end{array}$$

b.

$$\begin{array}{r} \cdot\cdot \\ + 32 \\ \hline 57 \end{array}$$

c.

$$\begin{array}{r} 48 \\ + \cdot\cdot \\ \hline 13 \end{array}$$

MATEMATİK TESTİ BİTMİŞTİR.


HAYAT BİLGİSİ TESTİ

BU BÖLÜMDE CEVAPLAYACAĞINIZ SORU SAYISI 10'DUR. CEVAPLAMAYA İSTEDİĞİNİZ SORUDAN BAŞLAYABİLİRSİNİZ. CEVAPLARINIZI CEVAP KÂĞIDININ HAYAT BİLGİSİ BÖLÜMÜNE İŞARETLEYİNİZ. **BAŞARILAR.**

1. Aşağıdaki davranışlardan hangisi **yanlıştır**?

- a. Yemekten önce ellerimizi yıkamalıyız.
- b. Yemekte kendi tabağımızı ve kaşığımızı kullanmalıyız.
- c. Herkesten önce yemeğe başlayabiliriz.

2. Aşağıdaki davranışlardan hangisi **yanlıştır**?



3. Sağlıklı yaşamak isteyen Nuriye'den aşağıdakilerden hangisini söylemesini beklemeyiz?

- a. Düzenli spor yaparım.
- b. İstedğim her şeyi yiyebilirim.
- c. Temizliğime dikkat ederim.



4. Aşağıdakilerden hangisi yanlıştır?

- a. Ekmek istek, yeni bir bisiklet ise ihtiyaçtır.
- b. Odadan çıkarken lambaları söndürmeliyiz.
- c. Sorunlarla karşılaşmamak için günümüzü planlamalıyız.

5. Aşağıdakilerden hangisi kişisel eşyalarımızdan biridir?

a. Diş Fırçası



b. Duvar Saati



c. Sınıf Panosu



6. Aşağıdakilerden hangisi doğrudur?

- a. Arkadaşımıza mektup gönderirken sadece adını yazarız.
- b. Anne ve babamızın telefon numarasını bilmesek de olur.
- c. Kaybolduğumuzda polislerden yardım alabiliriz.

7. Aşağıdakilerden hangisi Murat'ın halasıdır?

a.

Babasının annesiyim.



b.

Annesinin kardeşiyim.



c.

Babasının kardeşiyim.



8. Aşağıdaki fiziksel özelliklerden hangisi büyüdükçe değişmez?

- a. Kilomuz
- b. Göz rengimiz
- c. Boyumuz

9. Aşağıdaki çocuklardan hangisi oyun kurallarına uymamaktadır?

- a. Ali: Sadece seçtiğim kişileri oynatırım.
- b. Şadiye: Oyunu kaybedersen bir daha oynamam.
- c. Mehmet: Oyunu kazanan arkadaşlarımı tebrik ederim.

10. Aşağıdaki ifadelerden hangisi yanlıştır?

- a. Oyuncaklarımı toplamak benim sorumluluğumdur.
- b. Sofrayı hazırlamak sadece annemin görevidir.
- c. Çantamı hazırlamak benim görevimdir.

HAYAT BİLGİSİ TESTİ BİTMİŞTİR.




İNGİLİZCE TESTİ

BU BÖLÜMDE CEVAPLAYACAĞINIZ SORU SAYISI 10'DUR.
CEVAPLAMAYA İSTEDİĞİNİZ SORUDAN BAŞLAYABİLİRSİNİZ.
CEVAPLARINIZI CEVAP KAĞIDININ İNGİLİZCE BÖLÜMÜNE
İŞARETLEYİNİZ. **BAŞARILAR.**

1. How many blue balloons are there?

- a. Four balloons.
- b. Six balloons.
- c. Eight balloons.



2. Hangisinin adı **yanlış** yazılmıştır?



a. kangaroo




b. panda



c. zebra

3. How many books?

- a. three
- b. four
- c. six



4. My flag colour is and

- a. white / blue
- b. red / blue
- c. red / White



5. What colour is it? →

- a. It is yellow.
- b. It is red.
- c. It is blue.



6. Aşağıdakilerden hangisi doğrudur?



a. Open the door



b. Sit down



c. Close your book

How old are you?



7. Üstteki görselde kız çocuğa nasıl cevap vermelidir?

- a. I'm Eight years old.
- b. I'm five years old.
- c. I'm nine years old.



8. Aşağıdakilerden hangisi **yanlıştır**?



a. Ten



b. Eight



c. Five


9. Aşağıdakilerden hangisi **doğrudur**?



a. Good afternoon



b. Good morning



c. Good night

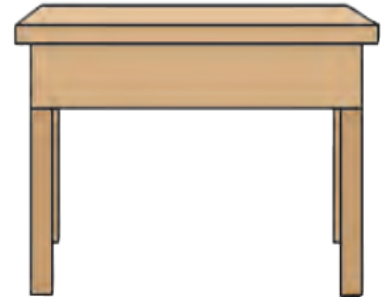
10. Aşağıdakilerden hangisi **yanlıştır**?



a. book



b. bag



c. ruler

İNGİLİZCE TESTİ BİTMİŞTİR.



DAHA YAŞANABİLİR BİR DÜNYA İÇİN
ENERJİNİ BOŞA HARCAMA!..



Enerji Verimliliği Haftası
12-17 Ocak 2014



İLKOKUL ETKİNLİKLERİ VE ALİ NERKİZ DENEME SINAVLARI

ANDS

<https://www.facebook.com/groups/andset>

