

1. DÖNEM 1. KDS



ALİ NERKİZ
DENEME SINAVLARI

2. Sınıf

1. DÖNEM

1. KAZANIM DEĞERLENDİRME
SINAVI

ÖĞRENCİNİN
ADI SOYADI
SINIFI
OKULU

2 / **NO :**
İLKOKULU



ANDS

TÜRKÇE TESTİ

BU BÖLÜMDE CEVAPLAYACAĞINIZ SORU SAYISI 15'TİR. CEVAPLAMAYA İSTEDİĞİNİZ SORUDAN BAŞLAYABİLİRSİNİZ. CEVAPLARINIZI CEVAP KAĞIDININ TÜRKÇE BÖLÜMÜNE İŞARETLEYİNİZ. **BAŞARILAR.**

DOKTOR TILKI

Tilkinin biri, bir gün doktor kıyafetlerini giymiş. Köyün yolunu tutmuş. Niyeti tavukları kandırıp, yemekmiş. Kümese varınca tavuklara seslenmiş:

Tavuk kardeşlerim. Hasta olduğunuzu duydum. Size ilaç getirdim. Kapıyı açın da vereyim, demiş. Horoz, tilkinin hilesini anlamış. Ona:

Tilki Kardeş. Biz hasta değiliz. Hasta olan çiftliğin köpeği Karabaş. İstersen çağıralım da sen onu muayene et, demiş.

Tilki:

Yok yok! Bugün benim ziyaret edecek başka hastalarım da var. Gidip onları muayene edeyim, diyerek hızla oradan uzaklaşmış.

NOT: 1. ve 2. Soruyu metne göre cevaplayınız.

1. Tilki, neden doktor kıyafetleri giyip köye gitmiş?

- Tavukları muayene etmek için.
- Karabaş'ı muayene etmek için.
- Tavukları kandırıp yemek için.



2. Tilkinin hilesini kim anlamış?



a. horoz



b. tavuk



c. karabaş



Mesut, pazar günü babasıyla birlikte maça gitmiş.

3. Yukarıdaki cümlede aşağıdaki sorulardan hangisinin cevabı yoktur?

- a. Kim gitmiş?
- b. Ne zaman gitmiş?
- c. Niçin gitmiş?



4. Aşağıdaki sözcüklerden hangisi hecelerine yanlış ayrılmıştır?

- a.yetmiş-inci mi oldun?
- b.akşam-dan beri açım.
- c.konuş-macı gidiyor.

5. Aşağıdaki cümlelerden hangisinde yazım yanlışı yapılmıştır?

- a. Ayşe'nin annesi bize elma, muz ve çilek getirdi.
- b. Buğlem, 14 şubat 2009'da doğmuş.
- c. Yarın sabah Samsun'a gideceğim.

6. Konuşma ile ilgili verilenlerden hangisi yanlıştır?

- a. İşitilir bir ses tonuyla konuşurum.
- b. Konuşurken arkadaşlarımla göz teması kurmam.
- c. Konu dışına çıkmadan konuşurum.

7. Aşağıdaki görsellerden hangisinin adı sözlük sırasına göre **daha sonra** gelir?



taksi

a.



okul

b.



şemsiye

c.

Gemi, kıyıya çok uzak. Oradan bizi göremez.

8. Yukarıdaki cümlede altı çizili kelimenin **zıt anlamlısı** aşağıdaki cümlelerin hangisindedir?

- a. Ateşi yakın da ısınalım.
- b. Çocuklar birbirine uzak oturuyor.
- c. Hasan'ın evi bize çok yakın.

Yaşlı adam, küçük çocuğu hekime götürdü.

9. Yukarıdaki cümlede aşağıdaki kelimelerden hangisinin **eş anlamlısı yoktur**?

a. doktor

b. küçük

c. ihtiyar



dişlerini yatmadan fırçalamayı unutma önce

10. Yukarıdaki kelimeler ile anlamlı ve kurallı bir cümle oluşturulduğunda **baştan ikinci kelime hangisi olur?**

- a. önce b. unutma
c. yatmadan

Kitap en iyi arkadaş,
Bana neyi sorsam söyler.
Ne anlatsa en sonunda
Çalış, iyi, doğru ol der.

Geceleri uyumaz o,
Beni kaldırır erkenden
Okulum kadar güzeldir,
Kitabı çok severim.

F. Hüsnü DAĞLARCA

NOT: 11. ve 12. Soruyu şiire göre cevaplayınız.

11. Şiire en uygun **başlık aşağıdakilerden hangisidir?**

- a. OKULUM b. GÜZEL OKUL
c. KİTABIM

12. Kitabın şaire verdiği öğüt nedir?

- a. Erken kalk!
b. Çalış, iyi, doğru ol!
c. Kitapları sevmeliyiz.



Kırtasiyeden aldıklarımı gördün mü ()

Sana kalem () çanta () birkaç kitap ve defter aldım ()

13. Yukarıdaki cümlede parantezle gösterilen yerlere sırasıyla hangi noktalama işaretleri gelmelidir?

a. (?) (,) (,) (.)

b. (?) (,) (,) (?)

c. (?) (,) (,) (.)

Bu bayram da halkımız coşkuyla Anıtkabir'e koştı.

14. Yukarıdaki cümleye en uygun görsel aşağıdakilerden hangisidir?



a.



b.



c.

15. Aşağıdaki cümlelerin hangisinde noktalama işareti **doğru kullanılmıştır?**

a. Onu birden karşımda görünce çok korktum!

b. Yarın okula gelecek misin, diye sordu?

c. Başarılı olmak için çok çalışmalıyız.

TÜRKÇE TESTİ BİTMİŞTİR.

MATEMATİK TESTİ

BU BÖLÜMDE CEVAPLAYACAĞINIZ SORU SAYISI 15'TİR. CEVAPLAMAYA İSTEDİĞİNİZ SORUDAN BAŞLAYABİLİRSİNİZ. CEVAPLARINIZI CEVAP KÂĞIDININ MATEMATİK BÖLÜMÜNE İŞARETLEYİNİZ. **BAŞARILAR.**

1. Aşağıdaki ritmik saymalardan hangisi **doğru** yapılmıştır?

- a. $12 - 14 - 16 - 18 - 22 - 24 - 26 - 28$
- b. $20 - 30 - 40 - 45 - 50 - 60 - 70 - 80$
- c. $15 - 20 - 25 - 30 - 35 - 40 - 45 - 50$

2. Yandaki kalemlerin sayısı hangisinde **doğru** verilmiştir?

- a. 4 onluk + 1 birlik
- b. 1 onluk + 4 birlik
- c. 1 onluk + 1 birlik



3. Yandaki toplama işleminin sonucu aşağıdakilerden hangisiyle **aynıdır**?



$$7 + 5$$

- a. $8 + 4$
- b. $10 + 3$
- c. $6 + 8$






4. Murat'ın 36 misketi vardı. Arda, Murat'a 32 misket daha verdi. **Buna göre, Murat'ın toplam kaç misketi olmuştur?**

- a. 95 b. 74 c. 68



5. Yukarıda verilenlere göre renk renk ayrılan kalemelerin sayısı hangisinde **doğru** olarak verilmiştir?

			
a.	21	15	43
b.	21	15	45
c.	23	17	45

6. Aşağıdaki doğal sayılardan **en büyüğü** hangisidir?

- a. 8 onluk + 1 birlik
b. 4 onluk + 9 birlik
c. 7 onluk + 8 birlik



7. Aşağıdakilerden hangisinin sayısı bir **desteye** eşittir?



a.



b.



c.



86



79



90

8. Üç arkadaşın bayramda topladıkları şeker sayıları yukarıda verilmiştir. Buna göre şeker sayılarının **büyükten küçüğe** doğru sıralanışı aşağıdakilerden hangisidir?

a. 86 , 79 , 90

b. 79 , 86 , 90

c. 90 , 86 , 79

83 – 79 – 75 – 71 – 67 – ? – 59 – 55

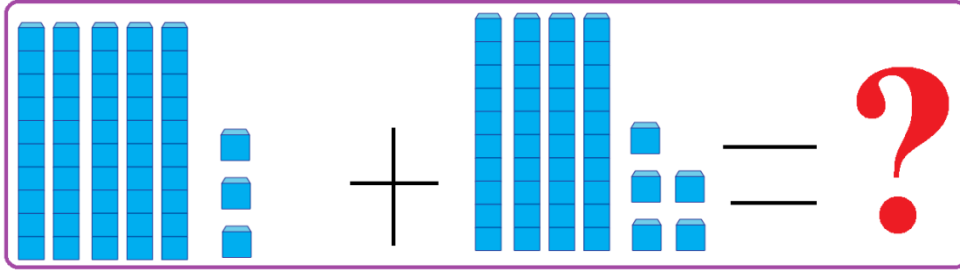
9. Yukarıdaki sayı örüntüsünde **soru işareti** yerine hangi sayı gelmelidir?

a. 63

b. 64

c. 65





10. Yukarıda modellenen toplama işleminin sonucu aşağıdakilerden hangisidir?

a. 89

b. 98

c. 78



NOT: Sıralama Deniz'den başlıyor.

11. Yukarıdaki görsele göre aşağıdaki bilgilerden hangisi yanlıştır?

a. Ayşegül, 2. Sırada.

b. Cengiz 3. Sırada.

c. Fatma 2. Sırada.

12. 7 onluk 4 birlikten oluşan sayının en yakın olduğu onluk aşağıdakilerden hangisidir?

a. 60


b. 70

c. 80



13. Bir mağazadan aşağıdaki eşyaları almak isteyen Okan, mağazaya kaç TL ödemelidir?

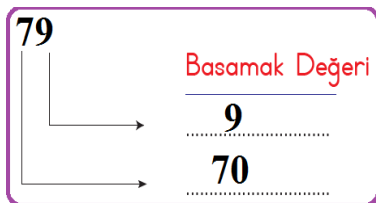
- a. 79 TL
b. 88 TL
c. 63 TL



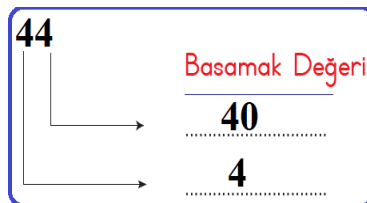
14. Öğretmen, çocuklardan yukarıdaki resimde kaç tane kuş olduğu tahmin etmelerini istemiştir. Buna göre gerçek sonuca en çok yaklaşan çocuk hangisidir?

- a. Ali: 27 b. Betül: 34 c. Cemil: 38

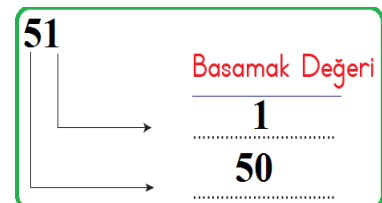
15. Aşağıdaki sayılardan hangisinin basamak değeri yanlış yazılmıştır?



a.



b.



c.

MATEMATİK TESTİ BİTMİŞTİR.



HAYAT BİLGİSİ TESTİ

BU BÖLÜMDE CEVAPLAYACAĞINIZ SORU SAYISI 10'DUR. CEVAPLAMAYA İSTEDİĞİNİZ SORUDAN BAŞLAYABİLİRSİNİZ. CEVAPLARINIZI CEVAP KÂĞIDININ HAYAT BİLGİSİ BÖLÜMÜNE İŞARETLEYİNİZ. **BAŞARILAR.**

1. Alttaki görsele göre Gözde'nin evinin etrafına aşağıdakilerden hangisinin olduğu **söylenemez**?

- a. Okul
- b. Park
- c. Bakkal



2. İlkokul 2. Sınıfa giden Huriye'den aşağıdakilerden hangisini yapmasını **beklemeyiz**?

- a. Ütü yapma
- b. Yatağını toplama
- c. Ödevlerini yapma



3. Aşağıdaki çocuklardan hangisinin yetenekli olduğu bir alanda çalışma yaptığı **söylenemez**?

a.



b.



c.



4. Mehmet Ali, aşağıdaki eşyalardan hangisini evde unutursa **müzik** dersinde sıkıntı yaşar?

a.



b.



c.






5. Aşağıdakilerden hangisinde sınıf kurallarımızdan biri **değildir**?

- Sınıfımızı temiz tutmalıyız.
- Derste söz alarak konuşmalıyız.
- İstedüğümüz zaman okula gelmeliyiz.



6. Aşağıdakilerden hangisi nezaket ifadesi **değildir?**

- a.  Öğretmen, ben tuvalete gidiyorum.
- b.  Teşekkür ederim.
- c.  Kalemimi alabilir miyim?

7. Grup çalışmalarıyla ilgili aşağıdaki bilgilerden hangisi **yanlıştır?**

- a. İşlerin düzenli olması için görev dağılımı yapılmalıdır.
- b. Kızlar en kolay işleri seçmelidir.
- c. Çalışmayla ilgili herkes yeni fikirler üretmeye çalışmalıdır.

8. Aşağıdakilerden hangisi Aslı'nın fiziksel özelliklerinden biri **değildir?**

- a. Aslı, kısa boyludur.
- b. Aslı, sarı saçlıdır.
- c. Aslı, resim yapmayı çok sever.



9. Yandaki çeşmeyi gören çocukların, hangisinin kaynakları tasarruflu kullandığı söylenebilir?




Çeşmeyi ben açmadım. Kim açtıysa o kapatsın.



Su aksa da bir şey olmaz. Nasıl olsa dünya da çok su var.



Çeşmeyi kapatmalıyım. Su boş yere akmamalı. Kaynaklarımız tükenebilir.



10. 2/A sınıfı sınıf panosuna yukarıdaki görseli asmıştır. Bu görsel ne ile ilgili olabilir?

- a. Dünya Yunus Günü
- b. Hayvanları Koruma Günü
- c. Pandaları Koruma Günü

HAYAT BİLGİSİ TESTİ BİTMİŞTİR.

İNGİLİZCE TESTİ

BU BÖLÜMDE CEVAPLAYACAĞINIZ SORU SAYISI 10'DUR. CEVAPLAMAYA İSTEDİĞİNİZ SORUDAN BAŞLAYABİLİRSİNİZ. CEVAPLARINIZI CEVAP KAĞIDININ İNGİLİZCE BÖLÜMÜNE İŞARETLEYİNİZ. **BAŞARILAR.**

1. Yandaki görsele ait olan ifade aşağıdakilerden hangisidir?

- a. Good night.
- b. It is a biscuit.
- c. Good morning.



2. Aşağıdaki görsellerden hangisinin İngilizce adı **yanlış** yazılmıştır?



balon

a.



radio

b.



lemon

c.

?ake

?offee

bis?uit

3. Yukarıdaki kelimelerde soru işareti yerine hangi harf gelmelidir?

a. k

b. c

c. s

chimpanzee

4. Üstteki kelime hangi hayvanın ismidir?

a.



b.



c.



I ?m Yiğit.

5. Yukarıdaki cümlede soru işareti olan bölüme hangi harf gelmelidir?

a. e

b. a

c. i



6. Yandaki malzemenin kullanıldığı spor dalı aşağıdakilerden hangisidir?

- a. basketball
- b. tennis
- c. hockey



7. Aftaki görselde kız çocuğa nasıl cevap vermelidir?

- a. Hi!
- b. I am Sevil.
- c. Good bye.





How are you?

8. Üstteki sorunun cevabı hangisi olabilir?

- a. Hello.
- b. See you.
- c. I am fine.





9. Yukarıdaki görsellerin adları sırasıyla hangisinde doğru olarak verilmiştir?

- a. goril television train
b. gorilla television tren
c. gorilla television train

What is your name?

10. Üstteki sorunun cevabı aşağıdakilerden hangisi olabilir?

- a. My name is Deniz.
b. I am a student.
c. It is a book.

İNGİLİZCE TESTİ BİTMİŞTİR.



29 Ekim
Cumhuriyet
bayramımız
kutlu olsun



*“Benim naçiz vücudum nasıl olsa bir gün toprak olacaktır.
Fakat Türkiye Cumhuriyeti ebediyen yaşayacaktır.”*

K. Atatürk



1923 — ∞

ALİ NERKİZ DENEME SINAVLARI (KDS) VE 1-2-3-4. SINIF ETKİNLİKLERİ

ANDS

<https://www.facebook.com/groups/andset/>