

# Nerede Oturuyor? Bulmacası 1 “Kolay Seviye”

\*Öğrencilerin yönergeleri anlamaları ve doğru bir şekilde uygulamalarını sağlama amacıyla hazırlanmış eğlenceli bir bulmaca.

\*Her bir çalışma sayfasında 2 farklı bölüm bulunmaktadır. Sayfa içerisindeki bölümler birbirinden bağımsızdır. Parçalara ayrılıp farklı zamanlarda da kullanılabilir.

\*Bu çalışma 3 farklı sayfa ve toplamda 6 farklı bulmacadan oluşmaktadır.



ilkokul1.com

Yunus KÜLCÜ

## NEREDE OTURUYOR? (KOLAY SEVİYE)

Öğretmen  
Masası

TAHTA

Kapı

Pencereler

Dolaplar

Kitaplık

Panolar

12 kişilik bir sınıfta Asya dolapların olduğu tarafta dördüncü sırada, Haluk kapı tarafında ilk sırada, Aysima pencere tarafında sondan dördüncü sırada, Deniz pencere tarafında sondan ikinci sırada, Zeynep pencere tarafında son sırada, Ahmet orta tarafta dördüncü sırada, Kerem pencere tarafında sondan üçüncü sırada, Berna orta tarafta sondan dördüncü sırada, Berranur dolapların olduğu tarafta üçüncü sırada, Betül orta tarafta sondan ikinci sırada, Suna kapı tarafında sondan üçüncü sırada oturmaktadır. Bu bilgileri kullanarak Necip'in hangi sırada oturduğunu işaretleyiniz.

## NEREDE OTURUYOR? (KOLAY SEVİYE)

Öğretmen  
Masası

TAHTA

Kapı

Pencereler

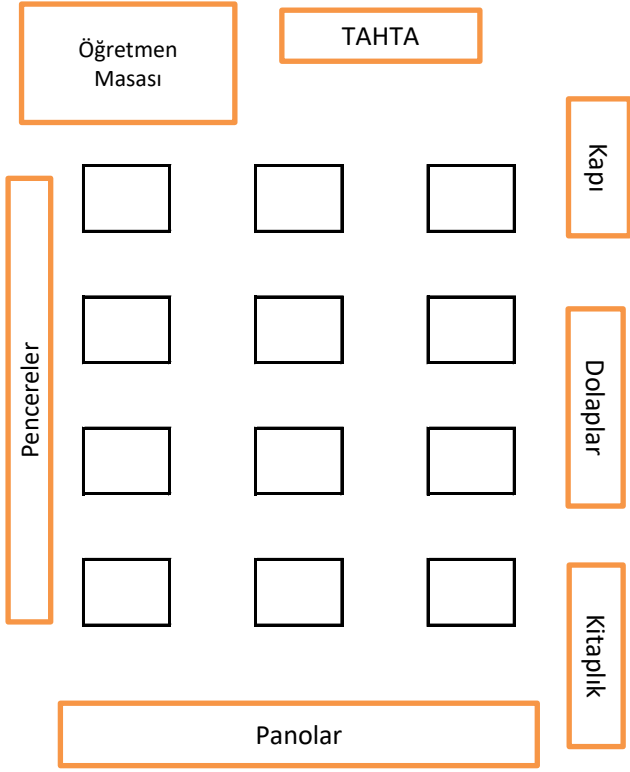
Dolaplar

Kitaplık

Panolar

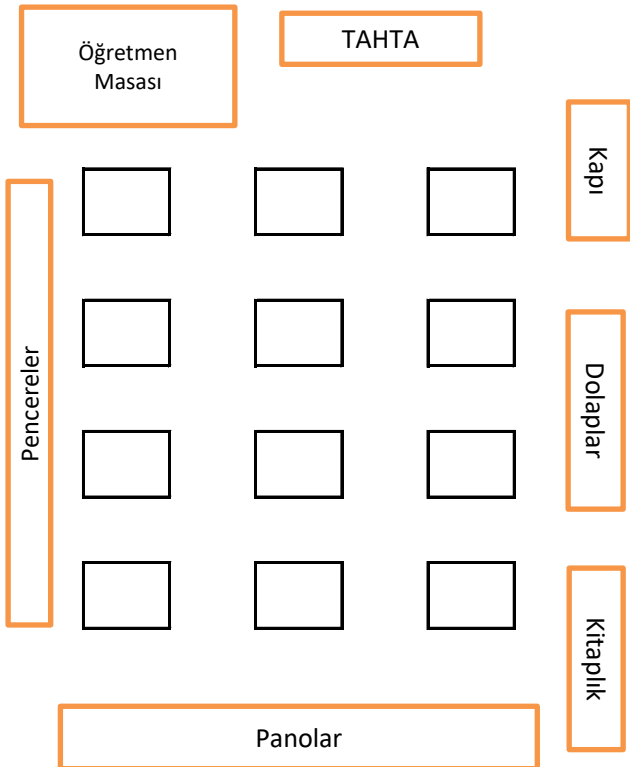
12 kişilik bir sınıfta Mete orta tarafta üçüncü sırada, Haluk orta tarafta sondan üçüncü sırada, Nisanur dolapların olduğu tarafta birinci sırada, Suna kapı tarafında ikinci sırada, Bünyamin kapı tarafında sondan ikinci sırada, Hirasu pencere tarafında sondan üçüncü sırada, Hatice kapı tarafında dördüncü sırada, Berranur pencere tarafında sondan ikinci sırada, Kayra orta tarafta dördüncü sırada, Ahmet pencere tarafında sondan dördüncü sırada, Osman pencere tarafında dördüncü sırada oturmaktadır. Bu bilgileri kullanarak Mehmet'in hangi sırada oturduğunu işaretleyiniz.

## NEREDE OTURUYOR? (KOLAY SEVİYE)



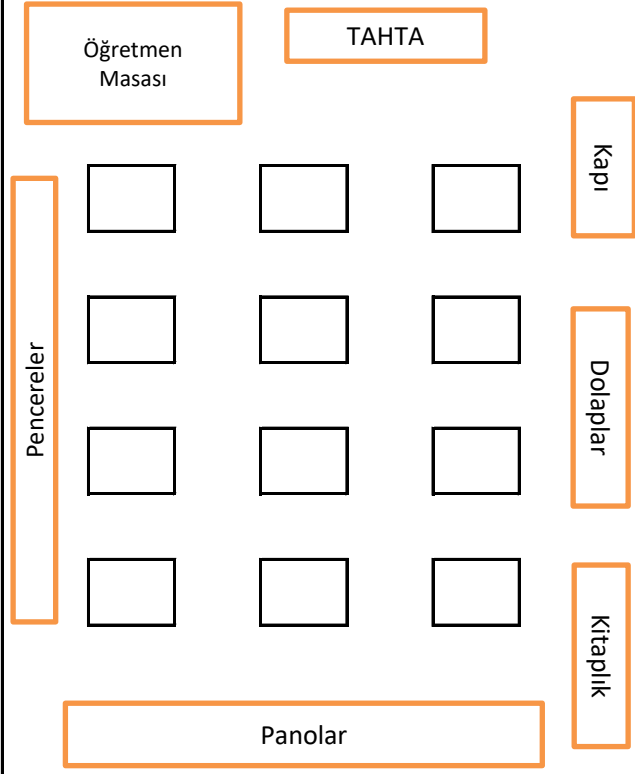
12 kişilik bir sınıfta Edanur orta tarafta ilk sırada, Eymen pencere tarafında ikinci sırada, Muhammed kapı tarafında son sırada, Zümra orta tarafta son sırada, Zeynep kapı tarafında sondan üçüncü sırada, Osman orta tarafta sondan üçüncü sırada, Mehmet kapı tarafında üçüncü sırada, Asya orta tarafta sondan ikinci sırada, Şükriye pencere tarafında son sırada, Meyra pencere tarafında üçüncü sırada, Aysima pencere tarafında birinci sırada oturmaktadır. Bu bilgileri kullanarak Emir'in hangi sırada oturduğunu işaretleyiniz.

## NEREDE OTURUYOR? (KOLAY SEVİYE)



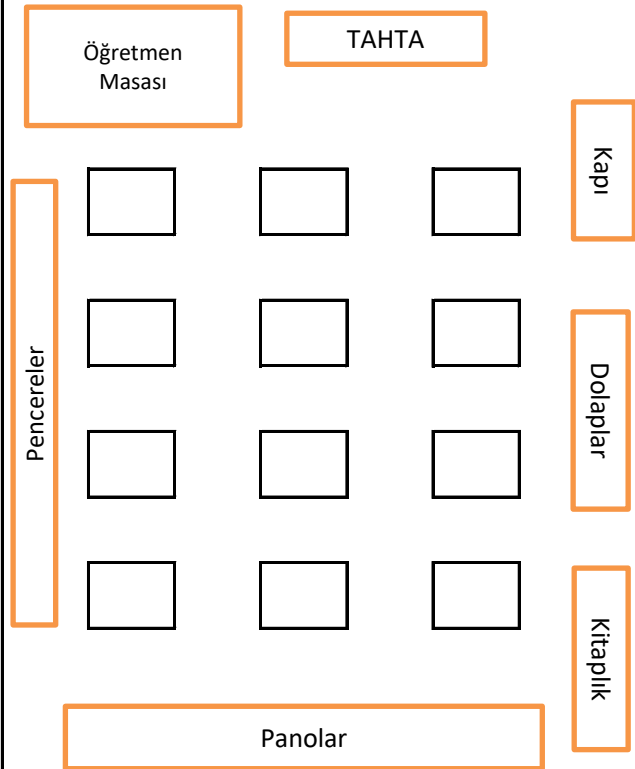
12 kişilik bir sınıfta İncisu kapı tarafında ilk sırada, Mehmet orta tarafta birinci sırada, Nisanur pencere tarafında üçüncü sırada, İsmail dolapların olduğu tarafta ikinci sırada, Erkan pencere tarafında son sırada, Zümra pencere tarafında ikinci sırada, Haluk orta tarafta sondan üçüncü sırada, Yunus kapı tarafında dördüncü sırada, Edanur pencere tarafında ilk sırada, Suna orta tarafta sondan ikinci sırada, Berranur orta tarafta dördüncü sırada oturmaktadır. Bu bilgileri kullanarak Kayra'nın hangi sırada oturduğunu işaretleyiniz.

## NEREDE OTURUYOR? (KOLAY SEVİYE)



12 kişilik bir sınıfta Şükriye orta tarafta sondan üçüncü sırada, Berna orta tarafta sondan dördüncü sırada, Emir pencere tarafında ikinci sırada, İsmail dolapların olduğu tarafta ikinci sırada, Zeynep kapı tarafında dördüncü sırada, Meyra pencere tarafında dördüncü sırada, Hatice orta tarafta sondan ikinci sırada, Zümra pencere tarafında birinci sırada, Ahmet dolapların olduğu tarafta sondan dördüncü sırada, Kerem dolapların olduğu tarafta üçüncü sırada, İncisu orta tarafta dördüncü sırada oturmaktadır. Bu bilgileri kullanarak Aysima'nın hangi sırada oturduğunu işaretleyiniz.

## NEREDE OTURUYOR? (KOLAY SEVİYE)



12 kişilik bir sınıfta Hatice dolapların olduğu tarafta üçüncü sırada, Mete pencere tarafında son sırada, Zümra kapı tarafında sondan dördüncü sırada, Erkan pencere tarafında ikinci sırada, Ayşenaz pencere tarafında birinci sırada, Eymen dolapların olduğu tarafta ikinci sırada, Şükriye orta tarafta sondan dördüncü sırada, Mehmet pencere tarafında üçüncü sırada, Osman orta tarafta son sırada, Edanur orta tarafta üçüncü sırada, Kayra kapı tarafında son sırada oturmaktadır. Bu bilgileri kullanarak Hirasu'nun hangi sırada oturduğunu işaretleyiniz.