

ADI-SOYADI:..... SINIFI: / DERS: TÜRKÇE PUAN:



CİMRİ

Bir zamanlar çok cimri bir adam yaşarmış. Bu adam o kadar cimriymiş ki bütün mallarını altınla değiştirmiş. Bir çuval altını olunca da gidip onu bir ağacın dibine gömmüş. Gel gelelim akli hep altınlarındaymış. Onları düşünmekten gözüne uyku girmez olmuş. Yemeden içmeden kesilmiş. Gece gündüz demez, aklına estiği zaman gider, toprağı kazarmış. Sonra altınlarını bir bir sayarmış. Rastlantı bu ya; oradan geçen biri, olanları uzaktan görmüş. Bakmış ki bu iş her gün tekrarlanıyor, durumu hemen anlamış. "Bu adam delinin biri!" diye düşünmüş. Bir zaman sonra bizim cimri, yine o ağacın altındaki toprağı kazmış. Kazmış; ama bir de bakmış ki altınlar yerinde yok! Ne yap-sın? Başlamış dövünmeye, çırpınmaya. Uzun zamandır cimriyi gözleyen adam dayanamamış, sormuş:

-Ne var? Ne oldu da böyle ağlıyorsun?

Cimri cevap vermiş:

- Daha ne olsun? Altınlarım yok olmuş, hepsi çalınmış!

Olan biteni bilen adam:

- Altının ha varmış ha yokmuş! Bir taş al, altın yerine onu göm. Harcayp yemedikten sonra senin için hiç fark etmez, demiş."

A. İlk 4 soruyu yukarıdaki metne göre yanıtlayınız. (20p)

1 Adam tüm mallarını ne ile değiştirmiş?

2 Adamın gözüne neden uyku girmiyormuş?

3 Altınlarının çalındığını görünce adam ne yapmış?

4 Metnin ana fikrini yazınız.

B. Aşağıdaki cümleler doğru yazılmış başına ise "D", yanlış yazılmış ise "Y" yazınız. (15p)

1. (.....) "Sonbahar gedi mi tüm ağaçlar yaprak döker." cümlesinin sonuna soru işareti getirilmelidir.

2. (.....) "Yan" sözcüğü eş sesli bir sözcüktür.

3. (.....) "Okullar tatil oluyor." cümlesinde hayal unsuru sözcükler vardır.

4. (.....) Birden fazla kelimedenden oluşan sayılar ayrı yazılır.

5. (.....) "Dün akşam ailecek TRT'da yayınlanan film çok heyecanlıydı." cümlesinde yapılan kısaltmanın son harfinin okunuşu esas alınmadığı için yazım yanlışı yapılmıştır.

C. Aşağıdaki deyimleri anlamları ile eşleştiriniz. (15p)

Küçük dilini yutmak

Bir durumun, sohbetin veya sözün aniden bitmesi

Bıçak gibi kesilmek

Ede edemediği bir şeye karşı isteği sürmek

Kulak kabartmak

Belli etmemeye çalışarak dinlemek

Gözleri dolmak

Şaşırarak donakalmak

Gözü kalmak

Ağlayacak kadar duygulanmak

D. Aşağıdaki test sorularını yanıtlayınız. (50P)

1 Aşağıdaki cümlelerin hangisinde yay ayraçla belirtilen yere iki nokta (:) getirilemez?

- A. Dün sınıfta http()//ilkokul1.com sitesinden eğlenceli bir masal izledik.
B. İftar sofrasında çok lezzetli yemekler vardı() tavuk, pilav, sarma..
C. Annem() "Arkadaşlarınla iyi geçinmelisin." der.
D. Küçük Prens() en sevdiğim kitapların başında gelir.

2 "Bir işin yabancısı olan, eli işe alışmamış, bir işi beceremeyen"
Sözlük anlamı yukarıda verilmiş olan sözcük hangisidir?

- A. Usta
B. Acemi
C. Çıracık
D. Tamirci

Hasta doktora acıyla bakıyor ve ondan yardım istiyordu.

3 Yukarıdaki cümlede hangi sözcükten sonra virgül kullanılmalıdır?

- A. Hasta
B. doktora
C. acıyla
D. ondan

Dalgalandığın yerde ne korku, ne keder...
Gölgende bana da, bana da yer ver.
Sabah olmasın, günler doğmasın ne çıkar:
Yurda ay yıldızının ışığı yeter.

A. Nihat ASYA

4 Yukarıdaki dördlüğün ana duygusu aşağıdakilerden hangisidir?

- A. Bayrak sevgisi
B. Atatürk sevgisi
C. Gökyüzü sevgisi
D. Vatan sevgisi

5 "eşek - hayvan" sözcükleri arasındaki anlam ilişkisi hangi seçenekte yoktur?

- A. çilek - meyve
B. su - sıvı
C. ayran - içecek
D. şarkı - türkü

6 Aşağıdaki cümlelerin hangisinde çoğul isim yoktur?

- A. Yere düşen kalemlerimi bulamıyorum.
B. Güldüğü zaman gözünün içi gülerdi.
C. Anneler günü için anneme kırmızı güller aldım.
D. Ali ağaca tırmanınca dalda duran kuşlar kaçtı.

7 Aşağıdaki cümlelerin hangisinde altı çizili sözcük terim anlamlıdır?

- A. Okuldan çıkıp eve doğru yürüdük.
B. Matematik sınavındaki tüm soruları doğru cevapladım.
C. Doğru söyleyenler her zaman kazanırlar.
D. İki noktadan yalnızca bir doğru geçer.

Dün öğle arası, okul bahçesinde 4/E sınıfı ile futbol maçı yaptık. Ben, bizim sınıfın kalecisiydim. Bizim takımımız diğer takımdan daha iyi oynadı. Maçı 5-2 kazandık. Arkadaşlarım bana "Panter gibisin." dedi.

8 Yukarıdaki paragrafın kaçınıcı cümlesinde karşılaştırma yapılmıştır?

- A. Beşinci
B. İkinci
C. Üçüncü
D. Dördüncü

9 Aşağıdaki cümlelerin hangisinde bulunan eylem, düzenli olarak gerçekleştirilmektedir?

- A. Babam pazardan 2 kg soğan aldı.
B. Bu akşam seninle konuşmam gerekiyor.
C. Yatmadan önce dişlerimi fırçalarım.
D. Zor günlerimizde o bize yardım elini uzattı.

10 Aşağıdaki cümlelerin hangisinde hem nesnel, hem de öznel ifade yer almaktadır?

- A. Etrafı dikenli tellerle çevrili muhteşem bir bahçeydi.
B. Genellikle kış gelmeden bahçesini temizletirdi.
C. Bazen kahvesini şekerli içerdi.
D. Ağaçlar, genellikle sonbaharda yapraklarını döker.

CEVAP ANAHTARI

CİMRİ

Bir zamanlar çok cimri bir adam yaşarmış. Bu adam o kadar cimriymiş ki bütün mallarını altınla değiştirmiş. Bir çuval altını olunca da gidip onu bir ağacın dibine gömmüş. Gel gelelim akli hep altınlarındaymiş. Onları düşünmekten gözüne uyku girmez olmuş. Yemeden içmeden kesilmiş. Gece gündüz demez, aklına estiği zaman gider, toprağı kazarmış. Sonra altınlarını bir bir sayarmış. Rastlantı bu ya; oradan geçen biri, olanları uzaktan görmüş. Bakmış ki bu iş her gün tekrarlanıyor, durumu hemen anlamış. "Bu adam delinin biri!" diye düşünmüş. Bir zaman sonra bizim cimri, yine o ağacın altındaki toprağı kazmış. Kazmış; ama bir de bakmış ki altınlar yerinde yok! Ne yap-sın? Başlamış dövünmeye, çırpınmaya. Uzun zamandır cimriyi gözleyen adam dayanamamış, sormuş:

-Ne var? Ne oldu da böyle ağlıyorsun?

Cimri cevap vermiş:

- Daha ne olsun? Altınlarım yok olmuş, hepsi çalınmış!

Olan biteni bilen adam:

- Altının ha varmış ha yokmuş! Bir taş al, altın yerine onu göm. Harcayp yemedikten sonra senin için hiç fark etmez, demiş."

A. İlk 4 soruyu yukarıdaki metne göre yanıtlayınız. (20p)

1 Adam tüm mallarını ne ile değiştirmiş?

Adam tüm mallarını altınla değiştirmiş.

2 Adamın gözüne neden uyku girmiyormuş?

Akli hep altınlarında olduğu için gözüne uyku girmiyormuş.

3 Altınlarının çalındığını görünce adam ne yapmış?

Dövünüp çırpınmaya başlamış.

4 Metnin ana fikrini yazınız.

Sahip olduğumuz şeyleri paylaşmazsak, harcamazsak on-lara sahip olmamızın hiçbir önemi yoktur.

B. Aşağıdaki cümleler doğru yazılmış başına ise "D", yanlış yazılmış ise "Y" yazınız. (15p)

1. (...Y...) "Sonbahar gedi mi tüm ağaçlar yaprak döker." cümlesinin sonuna soru işareti getirilmelidir.

2. (...D...) "Yan" sözcüğü eş sesli bir sözcüktür.

3. (...Y...) "Okullar tatil oluyor." cümlesinde hayal unsuru sözcükler vardır.

4. (...D...) Birden fazla kelimedenden oluşan sayılar ayrı yazılır.

5. (...D...) "Dün akşam ailecek TRT'da yayınlanan film çok heyecanlıydı." cümlesinde yapılan kısaltmanın son harfinin okunuşu esas alınmadığı için yazım yanlışı yapılmıştır.

C. Aşağıdaki deyimleri anlamları ile eşleştiriniz. (15p)



D. Aşağıdaki test sorularını yanıtlayınız. (50P)

1 Aşağıdaki cümlelerin hangisinde yay ayraçla belirtilen yere iki nokta (:) **getirilemez?**

A. Dün sınıfta http()//ilkokul1.com sitesinden eğlenceli bir masal izledik.

B. İftar sofrasında çok lezzetli yemekler vardı() tavuk, pilav, sarma...

C. Annem() "Arkadaşlarınla iyi geçinmelisin." der.

D. Küçük Prens() en sevdiğim kitapların başında gelir.

2 "Bir işin yabancısı olan, eli işe alışmamış, bir işi beceremeyen"

Sözlük anlamı yukarıda verilmiş olan sözcük hangisidir?

A. Usta

B. Acemi

C. Çırak

D. Tamirci

Hasta doktora acıyla bakıyor ve ondan yardım istiyordu.

3 Yukarıdaki cümlede hangi sözcükten sonra virgül kullanılmalıdır?

A. Hasta

B. doktora

C. acıyla

D. ondan

Dalgalandığın yerde ne korku, ne keder...
Gölgende bana da, bana da yer ver.
Sabah olmasın, günler doğmasın ne çıkar:
Yurda ay yıldızının ışığı yeter.

A. Nihat ASYA

4 Yukarıdaki dördlüğün ana duygusu aşağıdakilerden hangisidir?

A. Bayrak sevgisi

B. Atatürk sevgisi

C. Gökyüzü sevgisi

D. Vatan sevgisi

5 "eşek - hayvan" sözcükleri arasındaki anlam ilişkisi hangi seçenekte yaktır?

A. çilek - meyve

B. su - sıvı

C. ayran - içecek

D. şarkı - türkü

6 Aşağıdaki cümlelerin hangisinde çoğul isim **yoktur?**

A. Yere düşen kalemlerimi bulamıyorum.

B. Güldüğü zaman gözünün içi gülerdi.

C. Anneler günü için anneme kırmızı güller aldım.

D. Ali ağaca tırmanınca dalda duran kuşlar kaçtı.

7 Aşağıdaki cümlelerin hangisinde altı çizili sözcük terim anlamlıdır?

A. Okuldan çıkıp eve doğru yürüdük.

B. Matematik sınavındaki tüm soruları doğru cevapladım.

C. Doğru söyleyenler her zaman kazanırlar.

D. İki noktadan yalnızca bir doğru geçer.

Dün öğle arası, okul bahçesinde 4/E sınıfı ile futbol maçı yaptık. Ben, bizim sınıfın kalecisiydim. Bizim takımımız diğer takımdan daha iyi oynadı. Maçı 5-2 kazandık. Arkadaşlarım bana "Panter gibisin." dedi.

8 Yukarıdaki paragrafın kaçınıcı cümlesinde karşılaştırma yapılmıştır?

A. Beşinci

B. İkinci

C. Üçüncü

D. Dördüncü

9 Aşağıdaki cümlelerin hangisinde bulunan eylem, düzenli olarak gerçekleştirilmektedir?

A. Babam pazardan 2 kg soğan aldı.

B. Bu akşam seninle konuşmam gerekiyor.

C. Yatmadan önce dişlerimi fırçalarım.

D. Zor günlerimizde o bize yardım elini uzattı.

10 Aşağıdaki cümlelerin hangisinde hem nesnel, hem de öznel ifade yer almaktadır?

A. Etrafı dikenli tellerle çevrili muhteşem bir bahçeydi.

B. Genellikle kış gelmeden bahçesini temizletirdi.

C. En lezzetli meyve çilektir.

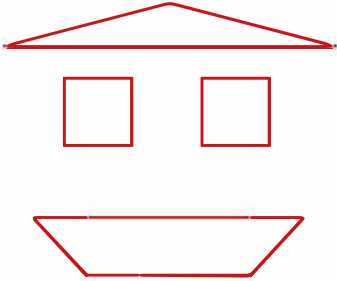
D. Ağaçlar, genellikle sonbaharda yapraklarını döker.

ADI-SOYADI:..... SINIFI: / DERS: MATEMATİK PUAN: ○

A. Aşağıdaki ifadelerden doğru olanların başına "D", yanlış olanların başına "Y" yazınız. (10p)

- (.....) "G" harfinin simetri doğrusu çizilemez.
- (.....) Karenin çevresinin uzunluğunu bir kenarının uzunluğunu 2 ile çarparak buluruz.
- (.....) Uzunluk ölçü birimi metredir.
- (.....) Ölçüsü 76° olan bir açı, bir dik açıdan 14° küçüktür.
- (.....) Bir kenarının uzunluğu 700 cm olan bir eşkenar üçgenin çevresi 28 m'dir.

B. Aşağıdaki görselleri inceleyip istenilen açı sayılarını karşlarına yazınız. (10P)



Dar Açı Sayısı:

Dik Açı Sayısı:

Geniş Açı Sayısı:

C. Sol sütunda verilenleri, sağ sütunda verilenlerle doğru bir şekilde eşleştiriniz. (10P)

3 km 30 m

4 003 m

4 km 4m

30 003 m

4 km 3 m

600 cm

30 km 3m

4 004 m


3m 300 cm

3 030 m

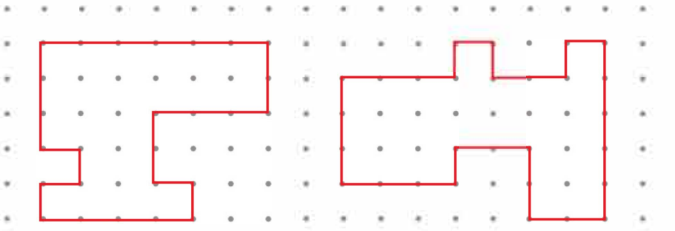
D. Aşağıdaki şekillerin simetri doğrularını çiziniz. (5P)



E. Aşağıdaki yapıların kaç eş küpten oluştuğunu altlarına yazınız. (6P)



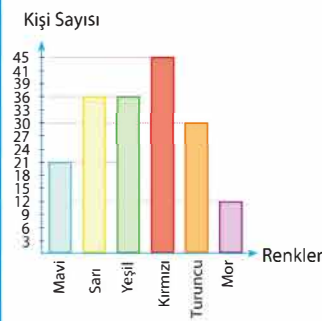
F. Aşağıdaki düzlemsel şekillerin çevre uzunluklarının kaç birim olduğunu altlarına yazınız. (4P)



Ç:.....

Ç:.....

G. Bir grup öğrenciye en sevdiği renkler sorulmuş ve elde edilen verilere göre aşağıdaki grafik oluşturulmuştur. Grafiğe göre soruları yanıtlayınız. (10P)



En çok sevilen renk:

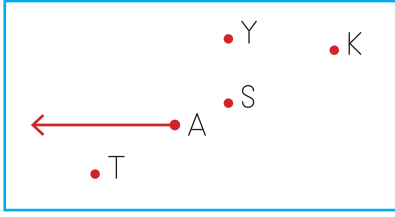
En az sevilen renk:

Mavi rengi sevenlerin sayısı:

Yeşil rengi sevenlerin sayısı:

Ankete katılan kişi sayısı:

H. Aşağıdaki test sorularını yanıtlayınız. (45P)



1 A noktasından hangi noktaya ışın çizersek geniş açı oluşmaz?

- A. Y B. S C. K D. T

2 250 sayısının $\frac{2}{5}$ 'si ile 300 sayısının $\frac{1}{6}$ 'inin toplamı kaç olur?

- A. 100 B. 150 C. 200 D. 550



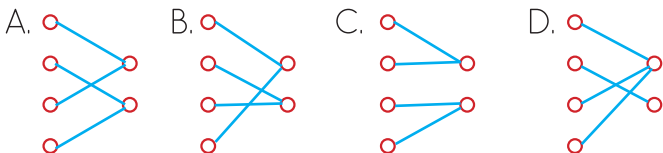
3 Yukarıdaki çıtalar kullanılarak aşağıdaki şekillerden hangisi olusturulamaz?

- A. İkizkenar üçgen
B. Dikdörtgen
C. Kare
D. Çeşitkenar üçgen

4 Aşağıdaki uzunluklar, ölçme birimleriyle eşleştirilecektir.

Yol uzunluğu	<input type="radio"/>	
Karıncanın boyu	<input type="radio"/>	<input type="radio"/> km
Defterin kalınlığı	<input type="radio"/>	<input type="radio"/> mm
İki şehir arasındaki mesafe	<input type="radio"/>	

Buna göre eşleşme sonrası görünüm aşağıdakilerden hangisidir?



5 Annem benim için bir kazak örmeye başladı. Örgü için 540 cm uzunluğunda bir yumak ip aldı. Bu yumağın $\frac{3}{5}$ 'ünü ördü.

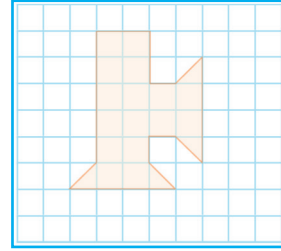
Buna göre geriye kaç cm ip kalmıştır?

- A. 216 B. 324
C. 2160 D. 2164



6 Yukarıdaki kare şeklindeki pencerenin çevresi 5 m olduğuna göre, kenar uzunluğu kaç cm'dir?

- A. 125 B. 150
C. 250 D. 275



7 Yukarıdaki kareli kağıtta çizilmiş şeklin alanı kaç birim karedir?

- A. 15 B. 16 C. 17 D. 18



8 Yukarıdaki ifade aşağıdakilerden hangisine eşittir?

- A. 7 hafta 3 gün
B. 6 hafta 3 gün
C. 3 hafta 7 gün
D. 4 hafta 4 gün

9 "6, 8, 0, 7, 3" rakamlarını kullanarak yazılabilecek olan en küçük doğal sayı aşağıdakilerden hangisidir?

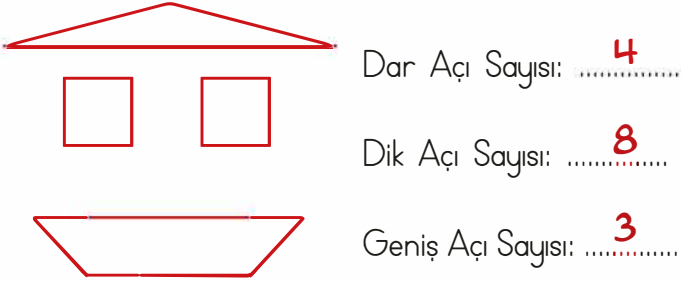
- A. 30 687 B. 30 678
C. 36 780 D. 30 768

CEVAP ANAHTARI

A. Aşağıdaki ifadelerden doğru olanların başına "D", yanlış olanların başına "Y" yazınız. (10p)

- (**D**) "G" harfinin simetri doğrusu çizilemez.
- (**Y**) Karenin çevresinin uzunluğunu bir kenarının uzunluğunu 2 ile çarparak buluruz.
- (**D**) Uzunluk ölçü birimi metredir.
- (**D**) Ölçüsü 76° olan bir açı, bir dik açıdan 14° küçüktür.
- (**Y**) Bir kenarının uzunluğu 700 cm olan bir eşkenar üçgenin çevresi 28 m'dir.

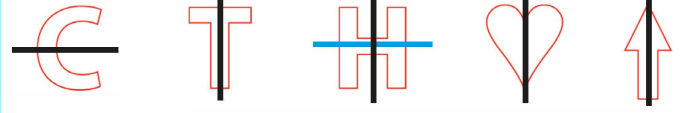
B. Aşağıdaki görselleri inceleyip istenilen açı sayılarını karşlarına yazınız. (10P)




C. Sol sütunda verilenleri, sağ sütunda verilenlerle doğru bir şekilde eşleştiriniz. (10P)

3 km 30 m	4 003 m
4 km 4m	30 003 m
4 km 3 m	600 cm
30 km 3m	4 004 m
3m 300 cm	3 030 m

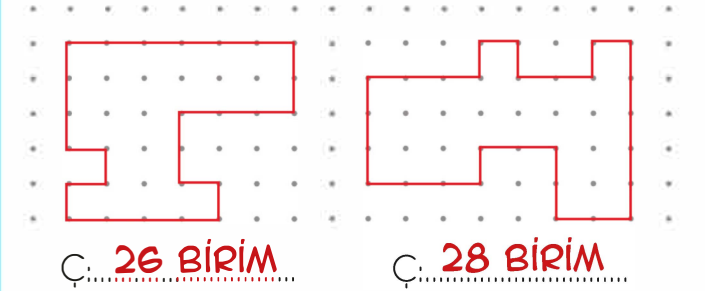
D. Aşağıdaki şekillerin simetri doğrularını çiziniz. (5P)



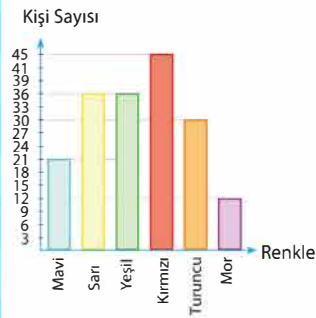
E. Aşağıdaki yapıların kaç eş küpten oluştuklarını altlarına yazınız. (6P)



F. Aşağıdaki düzlemsel şekillerin çevre uzunluklarının kaç birim olduğunu altlarına yazınız. (4P)



G. Bir grup öğrenciye en sevdiği renkler sorulmuş ve elde edilen verilere göre aşağıdaki grafik oluşturulmuştur. Grafiğe göre soruları yanıtlayınız. (10P)



En çok sevilen renk: **KIRMIZI**

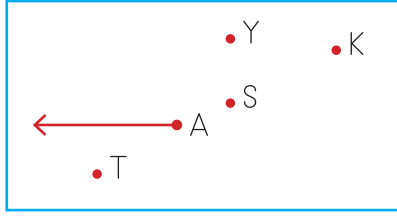
En az sevilen renk: **MOR**

Mavi rengi sevenlerin sayısı: **21**

Yeşil rengi sevenlerin sayısı: **36**

Ankete katılan kişi sayısı: **180**

H. Aşağıdaki test sorularını yanıtlayınız. (45P)



1 A noktasından hangi noktaya ışın çizersek geniş açı oluşmaz?

- A. Y B. S C. K D. T

2 250 sayısının $\frac{2}{5}$ 'si ile 300 sayısının $\frac{1}{6}$ 'inin toplamı kaç olur?

- A. 100 B. 150 C. 200 D. 550



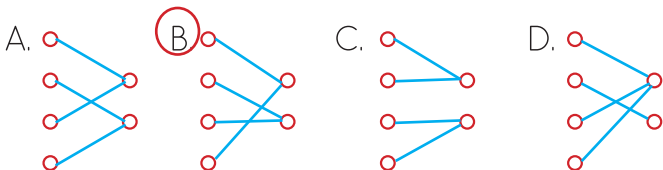
3 Yukarıdaki çıtalar kullanılarak aşağıdaki şekillerden hangisi oluşturulamaz?

- A. İkizkenar üçgen
B. Dikdörtgen
 C. Kare
D. Çeşitkenar üçgen

4 Aşağıdaki uzunluklar, ölçme birimleriyle eşleştirilecektir.

Yol uzunluğu	<input type="radio"/>	
Karıncanın boyu	<input type="radio"/>	<input type="radio"/> km
Defterin kalınlığı	<input type="radio"/>	<input type="radio"/> mm
İki şehir arasındaki mesafe	<input type="radio"/>	

Buna göre eşleşme sonrası görünüm aşağıdakilerden hangisidir?



5 Annem benim için bir kazak örmeye başladı. Örgü için 540 cm uzunluğunda bir yumak ip aldı. Bu yumağın $\frac{3}{5}$ 'ünü ördü.

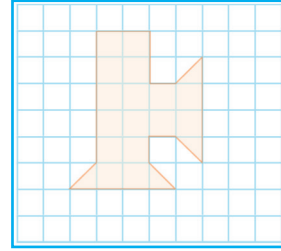
Buna göre geriye kaç cm ip kalmıştır?

- A. 216 B. 324
C. 2160 D. 2164



6 Yukarıdaki kare şeklindeki pencerenin çevresi 5 m olduğuna göre, kenar uzunluğu kaç cm'dir?

- A. 125 B. 150
C. 250 D. 275



7 Yukarıdaki kareli kağıtta çizilmiş şeklin alanı kaç birim karedir?

- A. 15 B. 16 C. 17 D. 18

45
gün

8 Yukarıdaki ifade aşağıdakilerden hangisine eşittir?

- A. 7 hafta 3 gün
 B. 6 hafta 3 gün
C. 3 hafta 7 gün
D. 4 hafta 4 gün

9 "6, 8, 0, 7, 3" rakamlarını kullanarak yazılabilecek olan en küçük doğal sayı aşağıdakilerden hangisidir?

- A. 30 687 B. 30 678
C. 36 780 D. 30 768

ADI-SOYADI:..... SINIFI: / DERS: FEN BİLİMLERİ PUAN: ()

A. Aşağıdaki ifadelerden doğru olanların başına "D", yanlış olanların başına "Y" yazınız. (10p)

- (.....) Çift camlı pencere kullanmak ses kirliliğini önlemez.
- (.....) Geri dönüşüm sayesinde biriken çöp miktarında azalma olur.
- (.....) Kitap okurken kitabı gözden 35-40 cm uzak tutmalıyız.
- (.....) Sıcaklığı farklı iki madde birbiri ile temas ederse ısı alışverişi gerçekleşir.
- (.....) Sıvı maddelerin hacmi dereceli silindir veya dereceli kap ile ölçülür.

B. Aşağıdaki varlıklar ışık kirliliğinden nasıl etkilenir. Kısaca açıklayınız. (6P)



.....
.....
.....



.....
.....
.....

C. Aşağıdaki karışımları ayırırken hangi yöntemin kullanılması gerektiğini altlarına yazınız. (4P)



Boncuk - atış



.....



Kum - bezelye



.....

D. Verilen kavramları uygun alanlara yazınız. (30P)

lambaları

yayılma

donma

geri dönüşüm

bozulacak

ortamlar

gürültü

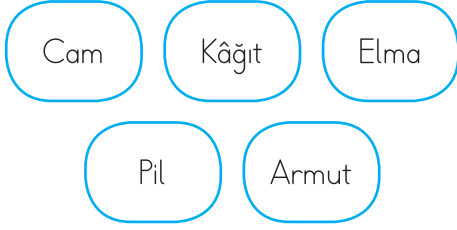
azalır

doğrudan

artar

- Çabuk ürünlerden az miktarda almalıyız.
- Gereğinden fazla aydınlatılan gözlerimizin bozulmasına neden olur.
- İnsanlar üzerinde olumsuz etki yaratan ve rahatsızlık veren seslere denir.
- Atıkların tekrar kullanılabilir hale getirilmesine denir.
- Boşa yanan kapatmalıyız.
- Ses kaynağına yaklaştıkça sesin şiddeti
- Sıvı maddelerin ısı vererek katı hâle geçmesine denir.
- Gaz maddeler özelliğine sahiptir.
- Ses kaynağından uzaklaştıkça ses şiddeti
- Işık gözümüze gelirse göz sağlığını olumsuz olarak etkiler.

E. Aşağıdaki test sorularını yanıtlayınız. (50P)



1 Yukarıdakilerden kaç tanesinin geri dönüşümü yapılabilir?
A. 2 B. 3 C. 4 D. 5

2 Sesin şiddetini artıran araçlar bir çok meslek grubunca kullanılmaktadır. Aşağıdaki meslek gruplarından hangisinin bu tür bir aracı kullanmasına gerek yoktur?
A. Şarkıcılar B. Trafik polisi
C. Sunucu D. Terzi

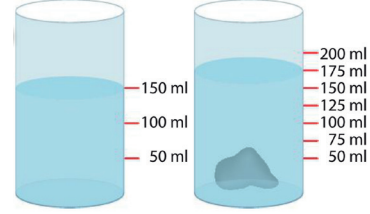
3 Aşağıdaki ifadelerden hangisi doğrudur?
A. Sağ eliyle yazan insanlar, yazı yazarken ışığın sağ üstten gelmesine dikkat etmelidir.
B. Mum, günümüzde de kullanılan aydınlatma araçlarından biridir.
C. Ampul, floresan lambaya göre daha az enerji tüketir.
D. Led lambalar, floresan lambalardan önce kullanılmıştır.

I. Floresan II. Gaz lambası
III. Meşale IV. Led lamba

4 Yukarıdaki aydınlatma araçları geçmişten günümüze doğru sıralandığında hangi seçenek doğru olur?
A. II, III, I, IV B. IV, III, I, II
C. III, II, I, IV D. II, III, IV, I

5 Sıvılarla ilgili aşağıdakilerden hangisi yanlıştır?
A. Sıvılar konuldukları kabın şeklini alır.
B. Sıvı maddelerin hacmi vardır.
C. Bazı sıvılar ısı alarak erir.
D. Sıvı maddeler ısı vererek katı hâle geçer.

6 Aşağıdakilerden hangisi katı maddeler ile sıvı maddelerin ortak özelliğidir?
A. Belirli bir şekli vardır.
B. Konuldukları kabın şeklini alır.
C. Akışkandırlar.
D. Sıkıştırılmazlar.



7 Yukarıdaki ölçümlerle ilgili olarak verilen aşağıdaki ifadelerden hangisi yanlıştır?
A. Su ve taşın hacmi ölçülmüştür.
B. Taşın hacmi 200 mL'dir.
C. Suyun hacmi 150 mL'dir.
D. Taşın hacmi 50 mL'dir.

8 Aşağıdakilerin hangisinden çıkan ses insanlar tarafından duyulamaz?
A. Rüzgâr sesi
B. Şelale sesi
C. Kar tanelerinin sesi
D. Kalp atışı sesi



9 Buzdolabının üzerinde yer alan sembol hangisini ifade etmektedir?
A. Kalite verimliliği
B. Fiyat verimliliği
C. Garanti verimliliği
D. Enerji verimliliği

10 Bazı ortamlarda ses kirliliği çok fazladır. Aşağıdakilerin hangisinde ses kirliliği olması beklenmez?
A. Stadyum B. Kütüphane
C. Trafik D. Okul

CEVAP ANAHTARI

A. Aşağıdaki ifadelerden doğru olanların başına "D", yanlış olanların başına "Y" yazınız. (10p)

- (...Y...) Çift camlı pencere kullanmak ses kirliliğini önlemez.
- (...D...) Geri dönüşüm sayesinde biriken çöp miktarında azalma olur.
- (...Y...) Kitap okurken kitabı gözden 35-40 cm uzak tutmalıyız.
- (...D...) Sıcaklığı farklı iki madde birbiri ile temas ederse ısı alışverişi gerçekleşir.
- (...D...) Sıvı maddelerin hacmi dereceli silindir veya dereceli kap ile ölçülür.

B. Aşağıdaki varlıklar ışık kirliliğinden nasıl etkilenir. Kısaca açıklayınız. (6P)



Deniz...kaplumbağaları...ışık kirliliği...sebebiyle...yumurtadan çıktıktan...sonra...denize...giden yolu...bulamayıp...ölmektedir....




Aşırı...aydınlık...göçmen...kuşları...ların...gece...uçarken...yollarını şaşırmasına neden olur....

C. Aşağıdaki karışımları ayırırken hangi yöntemin kullanılması gerektiğini atlarına yazınız. (4P)



Boncuk - ataş

→mıknatıs.....



Kum - bezelye

→Eleme.....

D. Verilen kavramları uygun alanlara yazınız. (30P)

lambaları

yayılma

donma

geri dönüşüm

bozulacak

ortamlar

gürültü

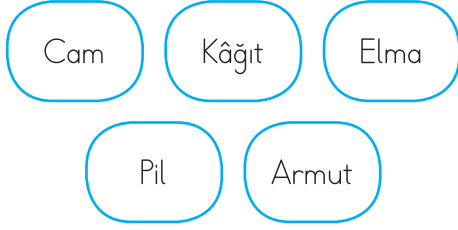
azalır

doğrudan

artar

- Çabuk **bozulacak** ürünlerden az miktarda almalıyız.
- Gereğinden fazla aydınlatılan **ortamlar** gözlerimizin bozulmasına neden olur.
- İnsanlar üzerinde olumsuz etki yaratan ve rahatsızlık veren seslere **gürültü** denir.
- Atıkların tekrar kullanılabilir hale getirilmesine **geri dönüşüm** denir.
- Boşa yanan **lambaları** kapatmalıyız.
- Ses kaynağına yaklaştıkça sesin şiddeti **artar**.
- Sıvı maddelerin ısı vererek katı hâle geçmesine **donma** denir.
- Gaz maddeler **yayılma** özelliğine sahiptir.
- Ses kaynağından uzaklaştıkça ses şiddeti **azalır**.
- Işık **doğrudan** gözümüze gelirse göz sağlığını olumsuz olarak etkiler.

E. Aşağıdaki test sorularını yanıtlayınız. (50P)



1 Yukarıdakilerden kaç tanesinin geri dönüşümü yapılabilir?
A. 2 B. 3 C. 4 D. 5

2 Sesin şiddetini artıran araçlar bir çok meslek grubunca kullanılmaktadır. Aşağıdaki meslek gruplarından hangisinin bu tür bir aracı kullanmasına gerek yoktur?
A. Şarkıcılar B. Trafik polisi
C. Sunucu D. Terzi

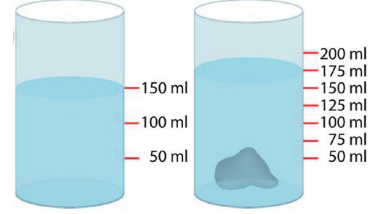
3 Aşağıdaki ifadelerden hangisi doğrudur?
A. Sağ eliyle yazan insanlar, yazı yazarken ışığın sağ üstten gelmesine dikkat etmelidir.
 B. Mum, günümüzde de kullanılan aydınlatma araçlarından biridir.
C. Ampul, floresan lambaya göre daha az enerji tüketir.
D. Led lambalar, floresan lambalardan önce kullanılmıştır.

I. Floresan II. Gaz lambası
III. Meşale IV. Led lamba

4 Yukarıdaki aydınlatma araçları geçmişten günümüze doğru sıralandığında hangi seçenek doğru olur?
A. II, III, I, IV B. IV, III, I, II
 C. III, II, I, IV D. II, III, IV, I

5 Sıvılarla ilgili aşağıdakilerden hangisi yanlıştır?
A. Sıvılar konuldukları kabın şeklini alır.
B. Sıvı maddelerin hacmi vardır.
 C. Bazı sıvılar ısı alarak erir.
D. Sıvı maddeler ısı vererek katı hâle geçer.

6 Aşağıdakilerden hangisi katı maddeler ile sıvı maddelerin ortak özelliğidir?
A. Belirli bir şekli vardır.
B. Konuldukları kabın şeklini alır.
C. Akışkandırlar.
 D. Sıkıştırılmazlar.



7 Yukarıdaki ölçümlerle ilgili olarak verilen aşağıdaki ifadelerden hangisi yanlıştır?
A. Su ve taşın hacmi ölçülmüştür.
 B. Taşın hacmi 200 mL'dir.
C. Suyun hacmi 150 mL'dir.
D. Taşın hacmi 50 mL'dir.

8 Aşağıdakilerin hangisinden çıkan ses insanlar tarafından duyulamaz?
A. Rüzgâr sesi
B. Şelale sesi
 C. Kar tanelerinin sesi
D. Kalp atışı sesi



9 Buzdolabının üzerinde yer alan sembol hangisini ifade etmektedir?
A. Kalite verimliliği
B. Fiyat verimliliği
C. Garanti verimliliği
 D. Enerji verimliliği

10 Bazı ortamlarda ses kirliliği çok fazladır. Aşağıdakilerin hangisinde ses kirliliği olması beklenmez?
A. Stadyum B. Kütüphane
C. Trafik D. Okul

ADI-SOYADI:..... SINIFI: / DERS: SOSYAL BİL. PUAN: ()

A. Aşağıdaki ifadelerden doğru olanların başına "D", yanlış olanların başına "Y" yazınız. (20P)

1. (.....) Türkiye, Çocuk Haklarına Dair Sözleşme'yi imzalayan devletlerden biridir.
2. (.....) Uzun süre TV izlemek hâyâl gücümüzü geliştirir.
3. (.....) Temel ihtiyaçlarımızı karşıladıktan sonra kalan gelirimizle isteklerimizi karşılayabiliriz.
4. (.....) Aldığımız ürünler hatalı ise çöpe atıp yenisini almalıyız.
5. (.....) Satın alacağımız ürünlerde TSE damgasını mutlaka aramalıyız.
6. (.....) TBMM 23 Nisan 1920 tarihinde İstanbul'da açılmıştır.
7. (.....) Ulusal egemenlikte tüm güç yöneticilerdedir.
8. (.....) Odamızı toplamak evdeki sorumluluklarımızdandır.
9. (.....) Evde yemek yapmak çocukların sorumluluklarından birisidir.
10. (.....) Çocuk hakları sadece okula giden çocuklar için geçerlidir.

B. Aşağıdaki örnek olayları ilgili oldukları çocuk hakları ile eşleştiriniz. (10p)

Babası yeni doğan Ali'ye kimlik çıkardı.

Eğlenme ve dinlenme hakkı

Cem hastalanınca annesi onu doktora götürdü.

Oyun hakkı

Merve 7 yaşına girince okula başladı.

Yaşama, gelişme ve vatandaşlık hakkı

Berk, ailesi ile birlikte tiyatroya gitti.

Eğitim hakkı

Belediye Canların evinin yakınına çocuk parkı yaptı.

Sağlık hakkı

C. Verilen kavramları uygun alanlara yazınız. (20p)

listesi

temel

faturası

18

halk

sorumlulukları

çocuklara

1990

çevremize

yeteneklerimize

1. Türkiye, çocuk haklarına dair sözleşmeyi yılında imzalamıştır.
2. Ailelerin çocuklarına karşı vardır.
3. Aldığımız ürün hatalı çıkarsa ürünün ile birlikte ürünü aldığımız mağazaya götürmeliyiz.
4. Beslenme, barınma ve giyinme ihtiyaçlarımızdır.
5. yaşına kadar her insan çocuk sayılır.
6. Doğayı temiz tutmak ve korumak karşı sorumluluklarımızdandır.
7. Alışverişe çıkmadan önce ailecek alışveriş hazırlamalıyız.
8. Milletvekilleri tarafından seçilir.
9. Atatürk, gelecekte ülkemizin sahipleri olarak gördüğü 23 Nisan gününü armağan etmiştir.
10. Eğitsel kulüpleri, ilgi alanımıza ve göre seçmeliyiz.

D. Aşağıdaki test sorularını yanıtlayınız. (50P)

1 Bazı şeyler büyükler için istekken, çocuklar için ihtiyaçtır.

Aşağıdakilerden hangisi bu açıklamaya uygundur?

- A. oyun B. eğlence
C. otomobil D. banyo yapmak

2 Hangisi su israfını önlemek için yapılabileceklerden biri değildir?

- A. Diş fırçalarken musluğu açık bırakmak.
B. Suyu ihtiyacımız kadar kullanmak.
C. Bozuk muslukları tamir etmek.
D. Kirli çamaşırlarımızı biriktirip yıkamak.

3 23 Nisan 1920'de gerçekleşen tarihi olay hangisidir?

- A. Atatürk Samsun'a çıktı.
B. Büyük Millet Meclisi açıldı.
C. Cumhuriyet ilan edildi.
D. Kurtuluş Savaşı sona erdi.

4 Alışveriş sonrasında aldığımız ürün, bozuk ya da kusurlu çıkarsa aşağıdakilerden hangisini yapmalıyız?

- A. Geri dönüşümde değerlendirmeliyiz.
B. Aldığımız yere iade etmeliyiz.
C. Bir tanıdığımıza vermeliyiz.
D. Ürünü çöpe atmeliyiz.

5 Çocuk Hakları Sözleşmesi nerede ve ne zaman kabul edilmiştir?

- A. Birleşmiş Milletlerde 1989'da.
B. Unesco'da 1989'da.
C. Avrupa Birliği'nde 1992'de.
D. Ankara'da 1995'te.

6 Yeni bir çamaşır makinesi alırken

I- Garanti belgesi

II- Son tüketim tarihi

III- TSE belgesi

gibi özelliklerin hangilerine dikkat etmeliyiz?

- A. I-II B. I-III
C. II-III D. I-II-I

7 Aşağıdakilerden hangisi yön bulmak için kullanılan yöntemlerden değildir?

- A. GPS cihazı kullanmak
B. Bulutlara bakmak
C. Gölgeden yararlanmak
D. Kutup Yıldızı'na bakmak

8 Türkiye Büyük Millet Meclisi'nin aşağıdakilerden hangisidir?

- A. Ülkenin yönetimi padişaha verildi.
B. Ülkenin yönetimi askerlere verildi.
C. Ülkenin yönetimi halka verildi.
D. Ülkenin yönetimi bir gruba verildi.

9 Herhangi bir kişinin resmî kimlik belgesine bakarak o kişi hakkında aşağıda verilen sorulardan hangisi cevaplanamaz?

- A. Kaç yaşındadır?
B. Babasının adı nedir?
C. TC Kimlik numarası nedir?
D. Kardeşinin adı nedir?

10 Aşağıdakilerden hangisi deprem sırasında yapmamız gerekenlerden biridir?

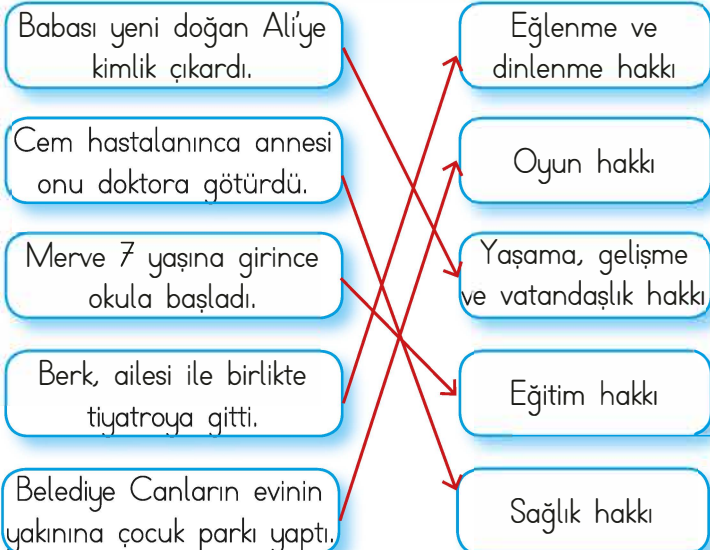
- A. Sağlam ve dayanıklı binalar yapmak
B. Deprem konusunda insanları bilgilendirmek
C. Deprem çantası hazırlamak
D. Pencere ve kapılardan uzak durmak

CEVAP ANAHTARI

A. Aşağıdaki ifadelerden doğru olanların başına "D", yanlış olanların başına "Y" yazınız. (20P)

- (...D...) Türkiye, Çocuk Haklarına Dair Sözleşme'yi imzalayan devletlerden biridir.
- (...Y...) Uzun süre TV izlemek hâyâl gücümüzü geliştirir.
- (...D...) Temel ihtiyaçlarımızı karşıladıktan sonra kalan gelirimizle isteklerimizi karşılayabiliriz.
- (...Y...) Aldığımız ürünler hatalı ise çöpe atıp yenisini almalıyız.
- (...D...) Satın alacağımız ürünlerde TSE damgasını mutlaka aramalıyız.
- (...Y...) TBMM 23 Nisan 1920 tarihinde İstanbul'da açılmıştır.
- (...D...) Ulusal egemenlikte tüm güç yöneticilerdedir.
- (...D...) Odamızı toplamak evdeki sorumluluklarımızdandır.
- (...Y...) Evde yemek yapmak çocukların sorumluluklarından birisidir.
- (...Y...) Çocuk hakları sadece okula giden çocuklar için geçerlidir.

B. Aşağıdaki örnek olayları ilgili oldukları çocuk hakları ile eşleştiriniz. (10p)



C. Verilen kavramları uygun alanlara yazınız. (20p)

listesi	temel	faturası
18	halk	sorumlulukları
çocuklara	1990	çevremize
	yeteneklerimize	

- Türkiye, çocuk haklarına dair sözleşmeyi ...1990... yılında imzalamıştır.
- Ailelerin çocuklarına karşı sorumlulukları vardır.
- Aldığımız ürün hatalı çıkarsa alışveriş ...faturası ile birlikte ürünü aldığımız mağazaya götürmeliyiz.
- Beslenme, barınma ve giyinme temel..... ihtiyaçlarımızdır.
-18..... yaşına kadar her insan çocuk sayılır.
- Doğayı temiz tutmak ve korumak çevremize
- Alışverişe çıkmadan önce ailecek alışverişlistesi..... hazırlamalıyız.
- Milletvekillerihalk..... tarafından seçilir.
- Atatürk, gelecekte ülkemizin sahipleri olarak gördüğü ..çocuklara... 23 Nisan gününü armağan etmiştir.
- Eğitsel kulüpleri, ilgi alanımıza ve yeteneklerimize göre seçmeliyiz.

D. Aşağıdaki test sorularını yanıtlayınız. (50P)

1 Bazı şeyler büyükler için istekken, çocuklar için ihtiyaçtır.

Aşağıdakilerden hangisi bu açıklamaya uygundur?

- A. oyun
 B. eğlence
 C. otomobil
 D. banyo yapmak

2 Hangisi su israfını önlemek için yapılabileceklerden biri **değildir**?

- A. Dış fırçalarken musluğu açık bırakmak.
 B. Suyu ihtiyacımız kadar kullanmak.
 C. Bozuk muslukları tamir etmek.
 D. Kirli çamaşırlarımızı biriktirip yıkamak.

3 23 Nisan 1920'de gerçekleşen tarihi olay hangisidir?

- A. Atatürk Samsun'a çıktı.
 B. Büyük Millet Meclisi açıldı.
 C. Cumhuriyet ilan edildi.
 D. Kurtuluş Savaşı sona erdi.

4 Alışveriş sonrasında aldığımız ürün, bozuk ya da kusurlu çıkarsa aşağıdakilerden hangisini yapmalıyız?

- A. Geri dönüşümde değerlendirmeliyiz.
 B. Aldığımız yere iade etmeliyiz.
 C. Bir tanıdığımıza vermeliyiz.
 D. Ürünü çöpe atmeliyiz.

5 Çocuk Hakları Sözleşmesi nerede ve ne zaman kabul edilmiştir?

- A. Birleşmiş Milletlerde 1989'da.
 B. Unesco'da 1989'da.
 C. Avrupa Birliği'nde 1992'de.
 D. Ankara'da 1995'te.

6 Yeni bir çamaşır makinesi alırken

I- Garanti belgesi

II- Son tüketim tarihi

III- TSE belgesi

gibi özelliklerin hangilerine dikkat etmeliyiz?

- A. I-II
 B. I-III
 C. II-III
 D. I-II-I

7 Aşağıdakilerden hangisi yön bulmak için kullanılan yöntemlerden değildir?

- A. GPS cihazı kullanmak
 B. Bulutlara bakmak
 C. Gölgeden yararlanmak
 D. Kutup Yıldızı'na bakmak

8 Türkiye Büyük Millet Meclisi'nin aşağıdakilerden hangisidir?

- A. Ülkenin yönetimi padişaha verildi.
 B. Ülkenin yönetimi askerlere verildi.
 C. Ülkenin yönetimi halka verildi.
 D. Ülkenin yönetimi bir gruba verildi.

9 Herhangi bir kişinin resmî kimlik belgesine bakarak o kişi hakkında aşağıda verilen sorulardan hangisi cevaplanamaz?

- A. Kaç yaşındadır?
 B. Babasının adı nedir?
 C. TC Kimlik numarası nedir?
 D. Kardeşinin adı nedir?

10 Aşağıdakilerden hangisi deprem sırasında yapmamız gerekenlerden biridir?

- A. Sağlam ve dayanıklı binalar yapmak
 B. Deprem konusunda insanları bilgilendirmek
 C. Deprem çantası hazırlamak
 D. Pencere ve kapılardan uzak durmak

ADI-SOYADI:..... SINIFI: / DERS: SOSYAL BİL. PUAN: ()

A. Aşağıdaki ifadelerden doğru olanların başına "D", yanlış olanların başına "Y" yazınız. (20P)

1. (.....) Türkiye, Çocuk Haklarına Dair Sözleşme'yi imzalayan devletlerden biridir.
2. (.....) Uzun süre TV izlemek hâyâl gücümüzü geliştirir.
3. (.....) Temel ihtiyaçlarımızı karşıladıktan sonra kalan gelirimizle isteklerimizi karşılayabiliriz.
4. (.....) Aldığımız ürünler hatalı ise çöpe atıp yenisini almalıyız.
5. (.....) Satın alacağımız ürünlerde TSE damgasını mutlaka aramalıyız.
6. (.....) TBMM 23 Nisan 1920 tarihinde İstanbul'da açılmıştır.
7. (.....) Ulusal egemenlikte tüm güç yöneticilerdedir.
8. (.....) Odamızı toplamak evdeki sorumluluklarımızdandır.
9. (.....) Evde yemek yapmak çocukların sorumluluklarından birisidir.
10. (.....) Çocuk hakları sadece okula giden çocuklar için geçerlidir.

B. Aşağıdaki örnek olayları ilgili oldukları çocuk hakları ile eşleştiriniz. (10p)

Babası yeni doğan Ali'ye kimlik çıkardı.

Eğlenme ve dinlenme hakkı

Cem hastalanınca annesi onu doktora götürdü.

Oyun hakkı

Merve 7 yaşına girince okula başladı.

Yaşama, gelişme ve vatandaşlık hakkı

Berk, ailesi ile birlikte tiyatroya gitti.

Eğitim hakkı

Belediye Canların evinin yakınına çocuk parkı yaptı.

Sağlık hakkı

C. Verilen kavramları uygun alanlara yazınız. (20p)

listesi

temel

faturası

18

halk

sorumlulukları

çocuklara

1990

çevremize

yeteneklerimize

1. Türkiye, çocuk haklarına dair sözleşmeyi yılında imzalamıştır.
2. Ailelerin çocuklarına karşı vardır.
3. Aldığımız ürün hatalı çıkarsa ürünün ile birlikte ürünü aldığımız mağazaya götürmeliyiz.
4. Beslenme, barınma ve giyinme ihtiyaçlarımızdır.
5. yaşına kadar her insan çocuk sayılır.
6. Doğayı temiz tutmak ve korumak karşı sorumluluklarımızdandır.
7. Alışverişe çıkmadan önce ailecek alışveriş hazırlamalıyız.
8. Milletvekilleri tarafından seçilir.
9. Atatürk, gelecekte ülkemizin sahipleri olarak gördüğü 23 Nisan gününü armağan etmiştir.
10. Eğitsel kulüpleri, ilgi alanımıza ve göre seçmeliyiz.

D. Aşağıdaki test sorularını yanıtlayınız. (50P)

1 Bazı şeyler büyükler için istekken, çocuklar için ihtiyaçtır.

Aşağıdakilerden hangisi bu açıklamaya uygundur?

- A. oyun B. eğlence
C. otomobil D. banyo yapmak

2 Hangisi su israfını önlemek için yapılabileceklerden biri değildir?

- A. Diş fırçalarken musluğu açık bırakmak.
B. Suyu ihtiyacımız kadar kullanmak.
C. Bozuk muslukları tamir etmek.
D. Kirli çamaşırlarımızı biriktirip yıkamak.

3 23 Nisan 1920'de gerçekleşen tarihi olay hangisidir?

- A. Atatürk Samsun'a çıktı.
B. Büyük Millet Meclisi açıldı.
C. Cumhuriyet ilan edildi.
D. Kurtuluş Savaşı sona erdi.

4 Alışveriş sonrasında aldığımız ürün, bozuk ya da kusurlu çıkarsa aşağıdakilerden hangisini yapmalıyız?

- A. Geri dönüşümde değerlendirmeliyiz.
B. Aldığımız yere iade etmeliyiz.
C. Bir tanıdığımıza vermeliyiz.
D. Ürünü çöpe atmeliyiz.

5 Çocuk Hakları Sözleşmesi nerede ve ne zaman kabul edilmiştir?

- A. Birleşmiş Milletlerde 1989'da.
B. Unesco'da 1989'da.
C. Avrupa Birliği'nde 1992'de.
D. Ankara'da 1995'te.

6 Yeni bir çamaşır makinesi alırken

I- Garanti belgesi

II- Son tüketim tarihi

III- TSE belgesi

gibi özelliklerin hangilerine dikkat etmeliyiz?

- A. I-II B. I-III
C. II-III D. I-II-I

7 Aşağıdakilerden hangisi yön bulmak için kullanılan yöntemlerden değildir?

- A. GPS cihazı kullanmak
B. Bulutlara bakmak
C. Gölgeden yararlanmak
D. Kutup Yıldızı'na bakmak

8 Türkiye Büyük Millet Meclisi'nin aşağıdakilerden hangisidir?

- A. Ülkenin yönetimi padişaha verildi.
B. Ülkenin yönetimi askerlere verildi.
C. Ülkenin yönetimi halka verildi.
D. Ülkenin yönetimi bir gruba verildi.

9 Herhangi bir kişinin resmî kimlik belgesine bakarak o kişi hakkında aşağıda verilen sorulardan hangisi cevaplanamaz?

- A. Kaç yaşındadır?
B. Babasının adı nedir?
C. TC Kimlik numarası nedir?
D. Kardeşinin adı nedir?

10 Aşağıdakilerden hangisi deprem sırasında yapmamız gerekenlerden biridir?

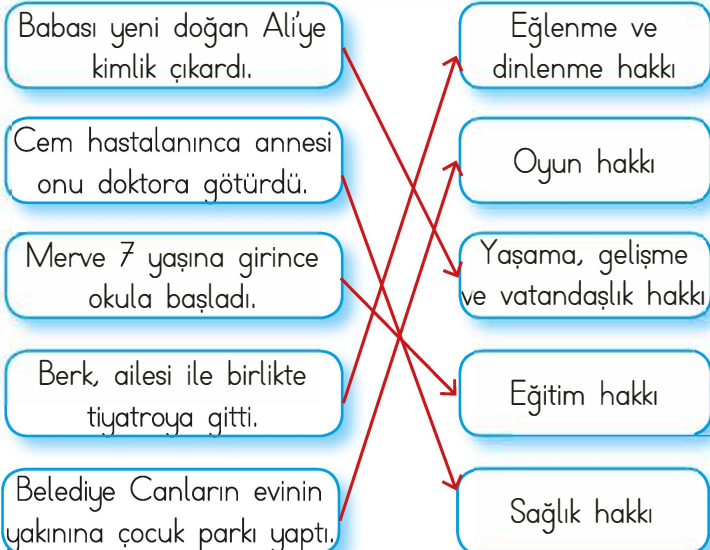
- A. Sağlam ve dayanıklı binalar yapmak
B. Deprem konusunda insanları bilgilendirmek
C. Deprem çantası hazırlamak
D. Pencere ve kapılardan uzak durmak

CEVAP ANAHTARI

A. Aşağıdaki ifadelerden doğru olanların başına "D", yanlış olanların başına "Y" yazınız. (20P)

- (...D...) Türkiye, Çocuk Haklarına Dair Sözleşme'yi imzalayan devletlerden biridir.
- (...Y...) Uzun süre TV izlemek hâyâl gücümüzü geliştirir.
- (...D...) Temel ihtiyaçlarımızı karşıladıktan sonra kalan gelirimizle isteklerimizi karşılayabiliriz.
- (...Y...) Aldığımız ürünler hatalı ise çöpe atıp yenisini almalıyız.
- (...D...) Satın alacağımız ürünlerde TSE damgasını mutlaka aramalıyız.
- (...Y...) TBMM 23 Nisan 1920 tarihinde İstanbul'da açılmıştır.
- (...D...) Ulusal egemenlikte tüm güç yöneticilerdedir.
- (...D...) Odamızı toplamak evdeki sorumluluklarımızdandır.
- (...Y...) Evde yemek yapmak çocukların sorumluluklarından birisidir.
- (...Y...) Çocuk hakları sadece okula giden çocuklar için geçerlidir.

B. Aşağıdaki örnek olayları ilgili oldukları çocuk hakları ile eşleştiriniz. (10p)



C. Verilen kavramları uygun alanlara yazınız. (20p)

listesi	temel	faturası
18	halk	sorumlulukları
çocuklara	1990	çevremize
	yeteneklerimize	

- Türkiye, çocuk haklarına dair sözleşmeyi ...1990... yılında imzalamıştır.
- Ailelerin çocuklarına karşı sorumlulukları vardır.
- Aldığımız ürün hatalı çıkarsa alışveriş ...faturası ile birlikte ürünü aldığımız mağazaya götürmeliyiz.
- Beslenme, barınma ve giyinme temel..... ihtiyaçlarımızdır.
-18..... yaşına kadar her insan çocuk sayılır.
- Doğayı temiz tutmak ve korumak çevremize
- Alışverişe çıkmadan önce ailecek alışverişlistesi..... hazırlamalıyız.
- Milletvekillerihalk..... tarafından seçilir.
- Atatürk, gelecekte ülkemizin sahipleri olarak gördüğü ..çocuklara... 23 Nisan gününü armağan etmiştir.
- Eğitsel kulüpleri, ilgi alanımıza ve yeteneklerimize göre seçmeliyiz.

D. Aşağıdaki test sorularını yanıtlayınız. (50P)

1 Bazı şeyler büyükler için istekken, çocuklar için ihtiyaçtır.

Aşağıdakilerden hangisi bu açıklamaya uygundur?

- A. oyun
 B. eğlence
 C. otomobil
 D. banyo yapmak

2 Hangisi su israfını önlemek için yapılabileceklerden biri **değildir**?

- A. Dış fırçalarırken musluğu açık bırakmak.
 B. Suyu ihtiyacımız kadar kullanmak.
 C. Bozuk muslukları tamir etmek.
 D. Kirli çamaşırlarımızı biriktirip yıkamak.

3 23 Nisan 1920'de gerçekleşen tarihi olay hangisidir?

- A. Atatürk Samsun'a çıktı.
 B. Büyük Millet Meclisi açıldı.
 C. Cumhuriyet ilan edildi.
 D. Kurtuluş Savaşı sona erdi.

4 Alışveriş sonrasında aldığımız ürün, bozuk ya da kusurlu çıkarsa aşağıdakilerden hangisini yapmalıyız?

- A. Geri dönüşümde değerlendirmeliyiz.
 B. Aldığımız yere iade etmeliyiz.
 C. Bir tanıdığımıza vermeliyiz.
 D. Ürünü çöpe atmeliyiz.

5 Çocuk Hakları Sözleşmesi nerede ve ne zaman kabul edilmiştir?

- A. Birleşmiş Milletlerde 1989'da.
 B. Unesco'da 1989'da.
 C. Avrupa Birliği'nde 1992'de.
 D. Ankara'da 1995'te.

6 Yeni bir çamaşır makinesi alırken

I- Garanti belgesi

II- Son tüketim tarihi

III- TSE belgesi

gibi özelliklerin hangilerine dikkat etmeliyiz?

- A. I-II
 B. I-III
 C. II-III
 D. I-II-I

7 Aşağıdakilerden hangisi yön bulmak için kullanılan yöntemlerden değildir?

- A. GPS cihazı kullanmak
 B. Bulutlara bakmak
 C. Gölgeden yararlanmak
 D. Kutup Yıldızı'na bakmak

8 Türkiye Büyük Millet Meclisi'nin aşağıdakilerden hangisidir?

- A. Ülkenin yönetimi padişaha verildi.
 B. Ülkenin yönetimi askerlere verildi.
 C. Ülkenin yönetimi halka verildi.
 D. Ülkenin yönetimi bir gruba verildi.

9 Herhangi bir kişinin resmî kimlik belgesine bakarak o kişi hakkında aşağıda verilen sorulardan hangisi cevaplanamaz?

- A. Kaç yaşındadır?
 B. Babasının adı nedir?
 C. TC Kimlik numarası nedir?
 D. Kardeşinin adı nedir?

10 Aşağıdakilerden hangisi deprem sırasında yapmamız gerekenlerden biridir?

- A. Sağlam ve dayanıklı binalar yapmak
 B. Deprem konusunda insanları bilgilendirmek
 C. Deprem çantası hazırlamak
 D. Pencere ve kapılardan uzak durmak