

2022-2023 EĞİTİM - ÖĞRETİM YILI

ILKOKULU 1. DÖNEM 1. YAZILI SINAVI

ADI-SOYADI:.....

SINIFI: /

DERS: MATEMATİK

PUAN:

A. Aşağıdaki sayıları okunuşları ile eşleştiriniz. (5p)

- | | |
|-----------|--------------------------------|
| 50 555 ● | ● Elli beş bin beş yüz beş |
| 505 005 ● | ● Beş yüz elli beş bin beş yüz |
| 555 500 ● | ● Beş yüz bin beş yüz elli |
| 55 505 ● | ● Elli bin beş yüz elli beş |
| 500 550 ● | ● Beş yüz beş bin beş |

B. Aşağıdaki ifadelerden doğru olanların başına "D", yanlış olanların başına "Y" yazınız. (15p)

- (.....) 567 019 sayısının binler basamağındaki rakam 6'dır.
- (.....) Dört basamaklı en büyük çift doğal sayı 9998'dir.
- (.....) Binler bölüğü 301, birler bölüğü 19 olan sayı 301 190'dır.
- (.....) Binler basamağı 2 olan en küçük 4 basamaklı tek sayı 2001'dir.
- (.....) 125 546 sayısının sayı değerleri toplamı 125 546'dır.

C. Aşağıda verilen sayıların yazılışlarını ve okunuşlarını yazınız. (5p)

.....	↔	Dokuz yüz seksen bin on dokuz
30 098	↔
.....	↔	Seksen sekiz bin sekiz yüz sekiz
189 118	↔
.....	↔	Yüz yedi bin yüz on yedi

D. Aşağıdaki sayıları en yakın oldukları onluklara yuvarlayınız. (6p)

4992	→
1088	→
8533	→

E. Aşağıdaki sayıları en yakın oldukları yüzlüklere yuvarlayınız. (6p)

4123	→
8555	→
3949	→

F. 5, 0, 3, 8 rakamlarını birer kez kullanarak belirtilen özelliklerde dört basamaklı sayılar yazınız. (8p)

En büyük	→
En küçük	→
En büyük tek	→
En küçük tek	→

G. Aşağıdaki örüntülerde verilmeyen rakamları bulunuz. (10p)

a.	4	11	8	15	12
b.	98	97	95	92	88
c.	3	2	6	5	15
d.	10	16	9	15	8
e.	4	5	10	11	22

H. Aşağıdaki test sorularını yanıtlayınız. (45p)

★ 54 855	196 208 ●
▲ 540 388	34 450 ■

1, 2 ve 3. soruları yukarıdaki tabloya göre yanıtlayınız.

1. Okunuşu "beş yüz kırk bin üç yüz seksen sekiz" olan sayı aşağıdakilerden hangisidir?

- a. ★ b. ▲ c. ● d. ■

2. Binler basamağında en büyük rakam bulunan sayı aşağıdakilerden hangisidir?

- a. ★ b. ▲ c. ● d. ■

3. Binler bölümünde "otuz dört" olan sayı aşağıdakilerden hangisidir?

- a. ★ b. ▲ c. ● d. ■

4. $(6 \times 10\,000 + 5 \times 100 + 2 \times 10 + 8 \times 1)$

Yukarıda çözümlenişi verilen sayı aşağıdakilerden hangisidir?

- a. 600 528 b. 60 528
c. 65 280 d. 605 028

5. Basamaklarındaki rakamları birbirinden farklı 5 basamaklı en küçük sayı aşağıdakilerden hangisidir?

- a. 12 345 b. 11 111
c. 10 345 d. 10 234

$$\begin{array}{r} 1039 \\ + 2386 \\ \hline \end{array}$$

6. Yukarıdaki toplama işleminin sonucu aşağıdakilerden hangisidir?

- a. 3 425 b. 3 415
c. 4 425 d. 3 325

$$\begin{array}{r} 7024 \\ - 3576 \\ \hline \end{array}$$

7. Yukarıdaki çıkarma işleminin sonucu aşağıdakilerden hangisidir?

- a. 3 548 b. 3 458
c. 3 448 d. 4 448

8. "511089 - 50 995 - 51 999" sayılarının büyükten küçüğe sembol kullanarak sıralanışı hangisidir?

- a. 511089 > 50 995 > 51 999
b. 50 995 > 51 999 > 511089
c. 511089 > 51 999 > 50 995
d. 51 999 > 511089 > 50 995

$$\begin{array}{r} B\ 2\ 3\ 5 \\ 4\ 4\ A\ 4 \\ + 1\ 0\ 9\ C \\ \hline 9\ 7\ 6\ 8 \end{array}$$

9. Yukarıdaki toplama işlemine göre A + B + C işleminin sonucu aşağıdakilerden hangisidir?

- a. 9 b. 16
c. 10 d. 17

2022-2023 EĞİTİM - ÖĞRETİM YILI

ILKOKULU 1. DONEM 1. YAZILI SINAVI

CEVAP ANAHTARI

A. Aşağıdaki sayıları okunuşları ile eşleştiriniz. (5p)

50 555	↔	Elli beş bin beş yüz beş
505 005	↔	Beş yüz elli beş bin beş yüz
555 500	↔	Beş yüz bin beş yüz elli
55 505	↔	Elli bin beş yüz elli beş
500 550	↔	Beş yüz beş bin beş

B. Aşağıdaki ifadelerden doğru olanların başına "D", yanlış olanların başına "Y" yazınız. (15p)

1.	(..Y..)	567 019 sayısının binler basamağındaki rakam 6'dır.
2.	(.D..)	Dört basamaklı en büyük çift doğal sayı 9998'dir.
3.	(..Y.)	Binler bölüğü 301, birler bölüğü 19 olan sayı 301190'dır.
4.	(..D.)	Binler basamağı 2 olan en küçük 4 basamaklı tek sayı 2001'dir.
5.	(..Y..)	125 546 sayısının sayı değerleri toplamı 125 546'dır.

C. Aşağıda verilen sayıların yazılışlarını ve okunuşlarını yazınız. (5p)

980 019	↔	Dokuz yüz seksen bin on dokuz
30 098	↔	Otuz bin doksan sekiz
88 808	↔	Seksen sekiz bin sekiz yüz sekiz
189 118	↔	Yüz seksen dokuz bin yüz on sekiz
707 117	↔	Yüz yedi bin yüz on yedi

D. Aşağıdaki sayıları en yakın oldukları onluklara yuvarlayınız. (6p)

4992	→	4990
1088	→	1090
8533	→	8530

E. Aşağıdaki sayıları en yakın oldukları yüzlüklere yuvarlayınız. (6p)

4123	→	4100
8555	→	8600
3949	→	3900

F. 5, 0, 3, 8 rakamlarını birer kez kullanarak belirtilen özelliklerde dört basamaklı sayılar yazınız. (8p)

En büyük	→	8530
En küçük	→	3058
En büyük tek	→	8503
En küçük tek	→	3085

G. Aşağıdaki örüntülerde verilmeyen rakamları bulunuz. (10p)

a.	4	11	8	15	12	19
b.	98	97	95	92	88	83
c.	3	2	6	5	15	14
d.	10	16	9	15	8	14
e.	4	5	10	11	22	23

H. Aşağıdaki test sorularını yanıtlayınız. (45p)

★ 54 855	196 208 ●
▲ 540 388	34 450 ■

1, 2 ve 3. soruları yukarıdaki tabloya göre yanıtlayınız.

1. Okunuşu "beş yüz kırk bin üç yüz seksen sekiz" olan sayı aşağıdakilerden hangisidir?

- a. ★ b. ▲ c. ● d. ■

2. Binler basamağında en büyük rakam bulunan sayı aşağıdakilerden hangisidir?

- a. ★ b. ▲ c. ● d. ■

3. Binler bölümünde "otuz dört" olan sayı aşağıdakilerden hangisidir?

- a. ★ b. ▲ c. ● d. ■

4. $(6 \times 10\,000 + 5 \times 100 + 2 \times 10 + 8 \times 1)$

Yukarıda çözümlenişi verilen sayı aşağıdakilerden hangisidir?

- a. 600 528 b. 60 528
c. 65 280 d. 605 028

5. Basamaklarındaki rakamları birbirinden farklı 5 basamaklı en küçük sayı aşağıdakilerden hangisidir?

- a. 12 345 b. 11 111
c. 10 345 d. 10 234

$$\begin{array}{r} 1039 \\ + 2386 \\ \hline \end{array}$$

6. Yukarıdaki toplama işleminin sonucu aşağıdakilerden hangisidir?

- a. 3 425 b. 3 415
c. 4 425 d. 3 325

$$\begin{array}{r} 7024 \\ - 3576 \\ \hline \end{array}$$

7. Yukarıdaki çıkarma işleminin sonucu aşağıdakilerden hangisidir?

- a. 3 548 b. 3 458
c. 3 448 d. 4 448

8. "511089 - 50 995 - 51 999" sayılarının büyükten küçüğe sembol kullanarak sıralanışı hangisidir?

- a. 511089 > 50 995 > 51 999
b. 50 995 > 51 999 > 511089
c. 511089 > 51 999 > 50 995
d. 51 999 > 511089 > 50 995

$$\begin{array}{r} B\ 2\ 3\ 5 \\ 4\ 4\ A\ 4 \\ + 1\ 0\ 9\ C \\ \hline 9\ 7\ 6\ 8 \end{array}$$

9. Yukarıdaki toplama işlemine göre $A + B + C$ işleminin sonucu aşağıdakilerden hangisidir?

- a. 9 b. 16
c. 10 d. 17

Ad Soyad.....

Sınıfı..... Numarası.....

ASKERLE GÜREŞ

Atatürk kır gezisinde, kolordu binasının kapısında aslan yapılı bir Mehmetçik gördü.

Çağırdı ve güler yüzle sordu:

- Sen güreşebilir misin?

Yanıdakilerden en kuvvetli görünenlerle Mehmetçiği güreştirdi. Genç asker her zaman üstün geliyordu. Çok neşelendi, ayağa fırladı.

Ceketini çıkarıp Mehmet'e ense tuttu:

- Haydi, bir de benimle güreş!

Katıksız ve temiz Anadolu çocuğu, Ata'sının yüzüne hayranlıkla baktı:

- "Atam" dedi. "Senin sırtını yedi düvel yere getiremedi. Mehmet mi bu işi başarır?"

Atatürk'ün gözleri doldu ve ağlamamak için gülmeye çalıştı.

A) İlk üç soruyu yukarıdaki metne göre cevaplayınız. (15 PUAN)

1) Atatürk, kır gezisinde kimi gördü?

2) Atatürk, Mehmetçiğe ne sordu?

3) Atatürk Mehmetçiği kiminle güreştirdi?

4) Atatürk neden neşelendi?

5) Metinde Mehmetçik, Atatürk ile niçin güreşmiyor? Düşüncelerinizi açıklayınız.

B) Aşağıdaki tabloda verilen kelimelerin eş ve zıt anlamlılarını yazınız. (10 PUAN)

KELİME	EŞ ANLAM	KELİME	ZIT ANLAM
kural		cimri	
nesil		övmek	
kanıt		kabul	
aktif		gerçek	
tecrübe		kıtlık	

C) Aşağıdaki verilen eş sesli kelimeleri farklı anlamlarıyla cümle içinde kullanınız. (6 PUAN)

dal

ocak

bin

C) Aşağıdaki verilen kelimeleri büyük ünlü uyumuna göre tablolara uygun bir şekilde yazınız.(7 PUAN)

Sardunya - yasemin - leylak - papatya- karanfil
Lale - sümbül - orkide - menekşe - lavanta

UYAR

UYMAZ

Ç) Aşağıdaki kelimelere ünlü ile başlayan harfleri ekleyerek ünsüz yumuşamasına göre yeniden yazınız. (4PUAN)

Kitap + ı

⇒

Sinek + i

⇒

Ağaç + ı

⇒

Kağıt + ı

⇒

D) Aşağıdaki kelimelere ünlü ile başlayan harfleri ekleyerek ünlü düşmesine uğramış halini yazınız. (4PUAN)

Burun + u

⇒

Şehir + i

⇒

Ağız + ı

⇒

Hüzün + ü

⇒

E) Aşağıdaki paragrafta eksik bırakılan noktalama işaretlerini uygun şekilde tamamlayınız. (8 PUAN)

Mehmet evden çıkarken annesi geldi()

Yasemin Hanım, oğluna ()

() Nereye gidiyorsun ()

() İşe gidiyorum ()

Ne zaman dönersin ()

İki saate dönerim ()

Marketten şeker() tuz () makarna alır

mısın ()

Ad Soyad.....

Sınıfı..... Numarası.....

F) Aşağıdaki altı çizili kelimelerin cümledeki anlamına göre (gerçek,mecaz,terim) paratez içine yazınız. (12 PUAN)

Çantamı açtığımda içinin boş olduğunu gördüm.
(.....)

Vedat son zamanlarda bana soğuk davranıyor.
(.....)

Okuduğum hikaye çok sürükleyiciydi.
(.....)

Öğretmenimiz hayatımıza ışık oldu.
(.....)

Arkadaşımın yaptığı şakaya koptum.
(.....)

Fenerbahçeli oyuncu korner köşesine gidiyor.
(.....)

G-) Aşağıda verilen deyimleri anlamları ile eşleştiriniz. (10 PUAN)

- | | |
|-------------------|----------------------------|
| 1. Kalbini kırmak | () Sevgisini kazanmak |
| 2. Kalbine girmek | () Kötü düşüncesi olmayan |
| 3. Kalbine dođmak | () Duygularını açıklamak |
| 4. Kalbi temiz | () Kaba sözle gücendirmek |
| 5. Kalbini açmak | () Önceden hissetmek |

Ğ) Aşağıdaki verilen çoktan seçme soruları cevaplayınız. (8x3 =24 PUAN)

1-) Yandaki şiirin ana duygusu aşağıdakilerden hangisi olabilir?

- A) Başarı için çalışmak gerekir.
B) Bütün kitaplar okunmalıdır.
C) Çalışınca ödül alınmalıdır.
D) Şiirler güzel okunmalıdır.

2-) "Çalışmak, insanı hayatta üç şeyden kurtarır. Can sıkıntısı, kötü alışkanlıklar ve yoksulluk. Çalışkan olmak, başarıya ulaşmadaki en büyük anahtardır. "

Yukarıdaki paragrafın konusu hangisidir?

- A) Can sıkıntısını nasıl önleriz?
B) Nasıl para kazanırız?
C) Yoksulluđu nasıl önleriz
D) Çalışmanın önemi

3-) Yandaki şiirin başlığı hangi seçenekte doğru olarak yazılmıştır?

- A) Çocuk nazlı bir çiçek
B) ÇOCUK NAZLI bir çiçek
C) Çocuk Nazlı Bir Çiçek
D) çocuk nazlı bir çiçek

ÇALIŞMAK

Çok çalışmalıyım ben,
Bilmediğim bir konu,
Duymadığım şiir,
Okumadığım kitap,
Hiç kalmamalı.
Çalışırsam eđer,
Ödülümü alırım.

.....

Kızınca üzülecek,
Kırılıp incinecek,
Sevilince gülecek,
Çocuk nazlı bir çiçek...

Çocuklar ilgi ister,
Dosdođru bilgi ister,
Çocuđu sevgi besler,
Çocuk nazlı bir çiçek...

4-) "Otobüsümüz, saat beşte otogardan Ankara'ya hareket edecek." cümlesinde hangi sorunun yanıtı yoktur?

- A) Nereden? B) Nasıl?
C) Ne zaman? D) Nereye?

5-) Aşağıda verilen tarihlerin hangisinin yazılışı doğrudur?

- A) 13 Ocak 2016 B) 13 ocak 2016
C) 13,06,2016 D) 13.Ocak.2016

6-) Aşağıdaki altı çizili sözcüklerden hangisi terim anlamı değildir?

- A) Paralel doğrulabilirbirini kesmez.
B) Annem bize kek yapıyor.
C) Sesteş sözcükleri öğrendik.
D) Arkadaşım toplama işlemini yaptı.

7-) "Özlem () in kınasına Demet () Dilek () Zeynep ve Ayşegül gitti ()" cümlesinde () yerine hangi noktalama işaretleri gelmelidir?

- A) (') (?) (.) (.) B) (:) (.) (.) (.)
C) (') (.) (.) (.) D) (') (.) (?) (!)

8-)


- Günaydın, dedim.
- Okula gittiğimde herkes bahçedeydi.
- Kahvaltımı yaptım.
- Annem de kalkmıştı.
- Sabah güneşin ilk ışıklarıyla uyandım.
- Günaydın, kahvaltı hazır, dedi.

Yukarıdaki cümleleri oluş sırasına göre sıralarsak sıralama nasıl olur?

- A) 1, 2, 3, 4, 5, 6 B) 4, 1, 6, 5, 3, 2
C) 5, 4, 1, 6, 3, 2 D) 6, 4, 1, 2, 3, 5

2022-2023 EĞİTİM - ÖĞRETİM YILI
ILKOKULU 1. DÖNEM 1. YAZILI SINAVI

ADI-SOYADI:..... SINIFI: / DERS: TÜRKÇE PUAN:



ÇINAR AĞACI

Atatürk bir gün Yalova'daki çiftliğe gittiğinde, Köşkün hemen yanındaki çınar ağacının dallarını kesmeye çalışan bir bahçıvana rastlar. Hemen bahçıvanı yanına çağırır ve sorar:

- Söyle bakalım, neden kesiyorsun ağacın dallarını.

Bahçıvan:

- Paşam! Ağacın dalları çok uzadı ve binanın duvarına dayandığı için kesmeye çalışıyorum, der.

Atatürk bunun üzerine ağacın kesilmeyip binanın yerinin değiştirilmesini emreder. 8 Ağustos 1930 tarihinde önce bina çevresi kazılır. İstanbul'dan getirilen tramvay rayları döşenir. Santim santim çalışarak bina yapı altına sokulan raylar üzerine oturturular ve bina yaklaşık 5 metre kaldırılır ve çınar ağacı da kesilmekten kurtulur.

A. İlk 4 soruyu yukarıdaki metne göre yanıtlayınız. (24p)

1. Olay, nerede geçmektedir?

2. Atatürk, bahçıvanı niçin yanına çağırdı?

3. Atatürk, ne yapılmasını emreder?

4. Olay nasıl sonuçlanır?

B. Aşağıdaki sözcüklerin eş anlamlılarını karşılarna yazınız. (10p)

Yarar ● Sağlık

Sihhat ● Kişi

Şahıs ● Fayda

Vatan ● Rüya

Düş ● Yurt

C. Aşağıdaki sözcükleri zıt anlamlıları ile eşleştiriniz. (10p)

Dar ● Geç

Alçak ● Barış

Yumuşak ● Geniş

Erken ● Sert

Harp ● Yüksek

D. Aşağıdaki sözcükleri farklı anlamları ile (sesteş) cümle içerisinde kullanınız. (16p)

Ben: _____

Ben: _____

Kaz: _____

Kaz: _____

E. Aşağıdaki cümlelerde yuvarlak içine alınan noktaların hangi amaçla kullanılmış olduğunu tablodan işaretleyiniz. (15p)

	Cümleyi Bitirmek	Sıra Bildirmek	Kısaltma Yapmak	Tarih Bildirmek	Saati Bildirmek
Koşu yarışmasında 4. oldum.					
Saat 08.30'da uyandım.					
23.04.1920 tarihinde ne oldu?					
Bu akşam kitap okuyacağım.					
Dr. Nagihan Kaya neredeymiş?					

F. Aşağıdaki test sorularını yanıtlayınız. (25p)

Gözyaşı damlaları hem mikropları öldürür hem net görmeyi sağlar. Yer-yüzünde gözyaşı gözün içinden aşağıya doğru çıkar. Uzayda ise gözyaşı damlalarını çıkıyor. Uzay aracı içinde yuvarlaklar halinde havada dolaşüyor.

1. Yukarıdaki paragrafta aşağıdakilerden hangisine değinilmemiştir?

- A. Gözyaşının mikropları öldürdüğü
- B. Bilim adamlarının uzayda gözyaşı sorununa çare bulduğu
- C. Uzayda gözyaşı damlarının akmadığı
- D. Gözyaşının net görmeyi sağladığı

2. domatesi buzdolabından çıkarıp yı-kadı. bıçakla ince dilimler halinde doğ-radı ve tuzladı. oturup afiyetle yedi. Yukarıdaki cümlede boşlukları sırasıyla sıra bildi-ren kelimelerle tamamlarsak hangi şıktaki sıralama doğru olur?

- A. En sonunda – sonra – önce
- B. İlk önce – sonra – en sonunda
- C. Sonra – önce – en sonunda
- D. İlk önce – en sonunda – sonra

Bugünün yarını vardır,
Para biriktirmek kârdır.
Boş yere harcamam para,
Harcarsam düşerim dara.

3. Yukarıdaki şiirin ana duygusu aşağıdakilerden hangisidir?

- A. Tüketim
- B. Üretim
- C. Verimlilik
- D. Tutumluluk

4. Aşağıdaki cümlelerin hangisinde zıt anlamlı söz-cükler bir arada kullanılmıştır?

- A. Lunaparktaki oyuncakları çok sevdim.
- B. Deniz kenarından irili ufaklı taşlar topladık.
- C. Kalabalığın gürültüsünden başım ağrıdı.
- D. Hasta olduğum için ilaç içiyorum.

5. Aşağıdaki cümlelerin hangisinde "yedi" kelimesi farklı bir anlamda kullanılmıştır?

- A. Kümeste yedi tane horoz vardı.
- B. Küçük bebek mamasını yedi.
- C. Öğrenciler yemeklerini yedi.
- D. Topladığı çileklerin hepsini yedi.

ÇINAR AĞACI

Atatürk bir gün Yalova'daki çiftliğe gittiğinde, Köşkün hemen yanındaki çınar ağacının dallarını kesmeye çalışan bir bahçıvana rastlar. Hemen bahçıvanı yanına çağırır ve sorar:

- Söyle bakalım, neden kesiyorsun ağacın dallarını.

Bahçıvan:

- Paşam! Ağacın dalları çok uzadı ve binanın duvarına dayandığı için kesmeye çalışıyorum, der.

Atatürk, bunun üzerine ağacın kesilmeyip binanın yerinin değiştirilmesini emreder. 8 Ağustos 1930 tarihinde önce bina çevresi kazılır. İstanbul'dan getirilen tramvay rayları döşenir. Santim santim çalışarak bina yapı altına sokulan raylar üzerine oturturular ve bina yaklaşık 5 metre kaldırılır ve çınar ağacı da kesilmekten kurtulur.

A. İlk 4 soruyu yukarıdaki metne göre yanıtlayınız. (24p)

1. Olay, nerede geçmektedir?

Atatürk'ün Yalova'daki çiftliğinde geçmektedir.

2. Atatürk, bahçıvanı niçin yanına çağırdı?

Ağacın dallarını neden kestiğini sormak için çağırmıştır.

3. Atatürk, ne yapılmasını emreder?

Ağacın kesilmeyip, binanın yerinin değiştirilmesini emreder.

4. Olay nasıl sonuçlanır?

Bina taşınır ve çınar ağacı kesilmekten kurtulur.

B. Aşağıdaki sözcüklerin eş anlamlılarını karşılıklarına yazınız. (10p)

Yarar • Sağlık
Sihhat • Kişi
Şahıs • Fayda
Vatan • Rüya
Düş • Yurt

C. Aşağıdaki sözcükleri zıt anlamlıları ile eşleştiriniz. (10p)

Dar • Geç
Alçak • Barış
Yumuşak • Geniş
Erken • Sert
Harp • Yüksek

D. Aşağıdaki sözcükleri farklı anlamları ile (sesteş) cümle içerisinde kullanınız. (16p)

Ben: _____

Ben: _____

Kaz: _____

Kaz: _____

E. Aşağıdaki cümlelerde yuvarlak içine alınan noktaların hangi amaçla kullanılmış olduğunu tablodan işaretleyiniz. (15p)

	Cümleyi Bitirmek	Sıra Bildirmek	Kısaltma Yapmak	Tarih Bildirmek	Saati Bildirmek
Koşu yarışmasında 4. oldum.		x			
Saat 08.30'da uyandım.					x
23.04.1920 tarihinde ne oldu?				x	
Bu akşam kitap okuyacağım.	x				
Dr. Nagihan Kaya neredeymiş?			x		

F. Aşağıdaki test sorularını yanıtlayınız. (25p)

Gözyaşı damlaları hem mikropları öldürür hem net görmeyi sağlar. Yer-yüzünde gözyaşı gözün içinden aşağıya doğru çıkar. Uzayda ise gözyaşı damlalarını çıkırmıyor. Uzay aracı içinde yuvarlaklar halinde havada dolaşüyor.

1. Yukarıdaki paragrafta aşağıdakilerden hangisine değinilmemiştir?

- A. Gözyaşının mikropları öldürdüğü
B. Bilim adamlarının uzayda gözyaşı sorununa çare bulduğu
C. Uzayda gözyaşı damlalarının akmadığı
D. Gözyaşının net görmeyi sağladığı

2. domatesi buzdolabından çıkarıp yı-kadı. bıçakla ince dilimler halinde doğ-radı ve tuzladı. oturup afiyetle yedi. Yukarıdaki cümlede boşlukları sırasıyla sıra bildi-ren kelimelerle tamamlarsak hangi şıktaki sıralama doğru olur?

- A. En sonunda – sonra – önce
B. İlk önce – sonra – en sonunda
C. Sonra – önce – en sonunda
D. İlk önce – en sonunda – sonra

Bugünün yarını vardır,
Para biriktirmek kârdır.
Boş yere harcamam para,
Harcarsam düşerim dara.

3. Yukarıdaki şiirin ana duygusu aşağıdakilerden hangisidir?

- A. Tüketim
B. Üretim
C. Verimlilik
D. Tutumluluk

4. Aşağıdaki cümlelerin hangisinde zıt anlamlı söz-cükler bir arada kullanılmıştır?

- A. Lunaparktaki oyuncakları çok sevdim.
B. Deniz kenarından irili ufaklı taşlar topladık.
C. Kalabalığın gürültüsünden başım ağrıdı.
D. Hasta olduğum için ilaç içiyorum.

5. Aşağıdaki cümlelerin hangisinde "yedi" kelimesi farklı bir anlamda kullanılmıştır?

- A. Küçük bebek mamasını yedi.
B. Kümeste yedi tane horoz vardı.
C. Öğrenciler yemeklerini yedi.
D. Topladığı çileklerin hepsini yedi.

2022/2023 EĞİTİM-ÖĞRETİM YILI
İLKOKULU 1. DÖNEM 1. YAZILI SINAVI

ADI-SOYADI:..... SINIFI: / DERS: FEN BİLİMLERİ PUAN: ()

A. Aşağıdaki ifadelerden doğru olanların başına "D", yanlış olanların başına "Y" yazınız. (30p)

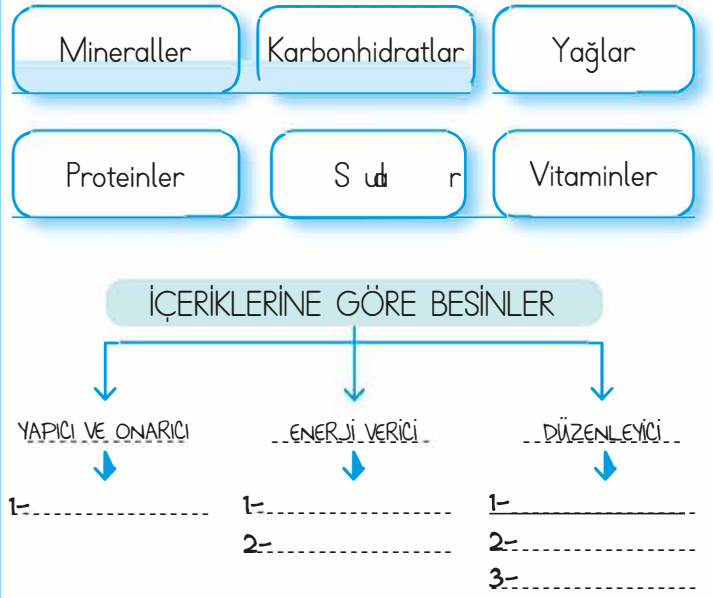
- (.....) 24 saatlik zaman dilimine 1 yıl denir.
- (.....) Kayaçlar dış faktörlerle parçalanarak kaya, çakıl, taş ve kuma dönüşür.
- (.....) Dünya'nın kendi etrafında dönmesi sonucu gece ve gündüz oluşur.
- (.....) Altın, elmas gibi madenlerin ekonomik değeri vardır.
- (.....) Fosiller canlıların yaşadığı dönemle ilgili bilgiler verir.
- (.....) Proteinler büyümemizi ve dengeli gelişmemizi sağlar.
- (.....) Ekonomik değeri olan kayaçlara mineral adı verilir.
- (.....) Canlılar büyüme, gelişme, üreme ve solunum gibi yaşamsal faaliyetlerini yerine getirmek için enerjiye ihtiyaç duymaz.
- (.....) Dünya batıdan doğuya doğru döner.
- (.....) Kayaçlar rüzgâr, sıcaklık farkı, yağmur, akarsu gibi dış faktörlerle parçalanır.

B. Aşağıdaki noktalı alanları uygun sözcüklerle tamamlayınız. (20p)

• Dünya'nın kendi etrafındaki dönüşünüte tamamlar. Dünya'nın kendi etrafında dönüşü sonucunda oluşur. Dünya'nın güneş alan kısmında yaşanır.

• Dünya'nın Güneş'in etrafında dolanma hareketinite tamamlar. Dünya'nın bu hareketinin sonucunda oluşur.

C. Verilen kavramları aşağıdaki şemada uygun alanlara yazınız. (12)



D. Aşağıdaki ifadelerle açıklamaları eşleştiriniz. (8p)

- | | |
|-------|---|
| Fosil | Dünyanın güneş etrafında bir kez dolandığında geçen süre |
| 1 Yıl | Dünya'nın kendi etrafında bir tur döndüğünde geçen süre |
| 1 Gün | Ekonomik değeri olan kayaçlara verilen isim |
| Maden | Milyonlarca yıl önce yaşamış canlıların günümüze kadar gelmiş kalıntıları |

E. Aşağıdaki test sorularını yanıtlayınız. (30p)

1. Kayaç

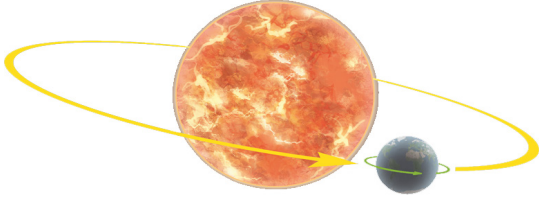
2. Kaya

3. Çakıl

4. Taş

1. Yukarıdakilerin küçükten büyüğe doğru sıralanışı hangisidir?

- A. 2 - 4 - 1 - 3
- B. 3 - 4 - 2 - 1
- C. 1 - 3 - 4 - 1
- D. 3 - 4 - 1 - 2



2. Yukarıdaki şekil aşağıdakilerden hangisini anlatmaktadır?

- A. Dünya'nın kendi etrafında dönme hareketi
- B. Güneş'in 1 günlük hareketini
- C. Güneş'in 1 yıllık hareketini
- D. Dünya'nın Güneş etrafında dolanma hareketini

3. Ağrı'da Güneş'in Ankara'ya göre daha erken doğmasının nedeni aşağıdakilerden hangisidir?

- A. Dünya'nın Güneş'in çevresinde dolanması.
- B. Güneş'in Dünya'nın çevresinde dolanması.
- C. Dünya'nın kendi eksenini etrafında batıdan doğuya doğru dönmesi.
- D. Güneş'in ısı ve ışık kaynağı olması.

4. Aşağıdakilerden hangisi bütün besin maddelerinde bulunur?

- A. Karbonhidratlar
- B. Yağlar
- C. Proteinler
- D. Mineraller ve Sular

5. Aşağıdaki açıklamalardan hangisi yanlıştır?

- A. Dünya'nın Güneş ışığı alan tarafı aydınlıktır.
- B. Bir hafta 7 gündür.
- C. Dünya'nın Güneş ışığı alamayan tarafında gündüz yaşanır.
- D. Güneş'ten gelen ışık, Dünya'nın Güneş'e dönük yüzünü aydınlatır.

Et ●

● Protein

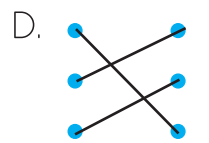
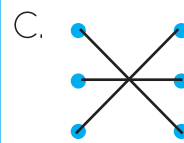
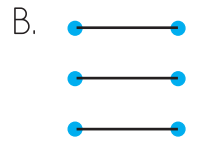
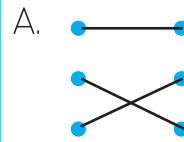
Ayçiçeği ●

● Karbonhidrat

Makarna ●

● Yağ

6. Yukarıdaki besinlerin besin içerikleri ile eşleştirilmesi, aşağıdakilerin hangisinde doğru olarak verilmiştir?



CEVAP ANAHTARI

A. Aşağıdaki ifadelerden doğru olanların başına "D", yanlış olanların başına "Y" yazınız. (30p)

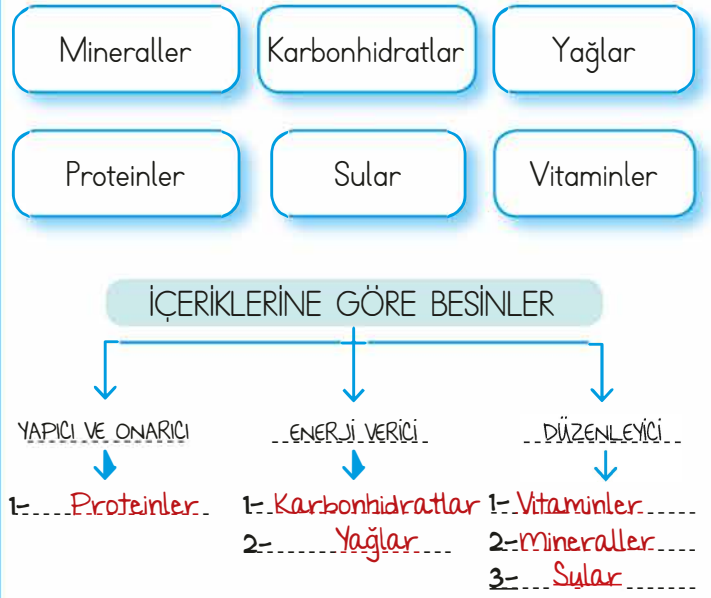
- (.Y..) 24 saatlik zaman dilimine 1 yıl denir.
- (.D..) Kayaçlar dış faktörlerle parçalanarak kaya, çakıl, taş ve kuma dönüşür.
- (.D..) Dünya'nın kendi etrafında dönmesi sonucu gece ve gündüz oluşur.
- (.D..) Altın, elmas gibi madenlerin ekonomik değeri vardır.
- (.D..) Fosiller canlıların yaşadığı dönemle ilgili bilgiler verir.
- (.Y..) Proteinler büyümemizi ve dengeli gelişmemizi sağlamaz.
- (.Y..) Ekonomik değeri olan kayaçlara mineral adı verilir.
- (.Y..) Canlılar büyüme, gelişme, üreme ve solunum gibi yaşamsal faaliyetlerini yerine getirmek için enerjiye ihtiyaç duymaz.
- (.D..) Dünya batıdan doğuya doğru döner.
- (.D..) Kayaçlar rüzgâr, sıcaklık farkı, yağmur, akarsu gibi dış faktörlerle parçalanır.

B. Aşağıdaki noktalı alanları uygun sözcüklerle tamamlayınız. (20p)

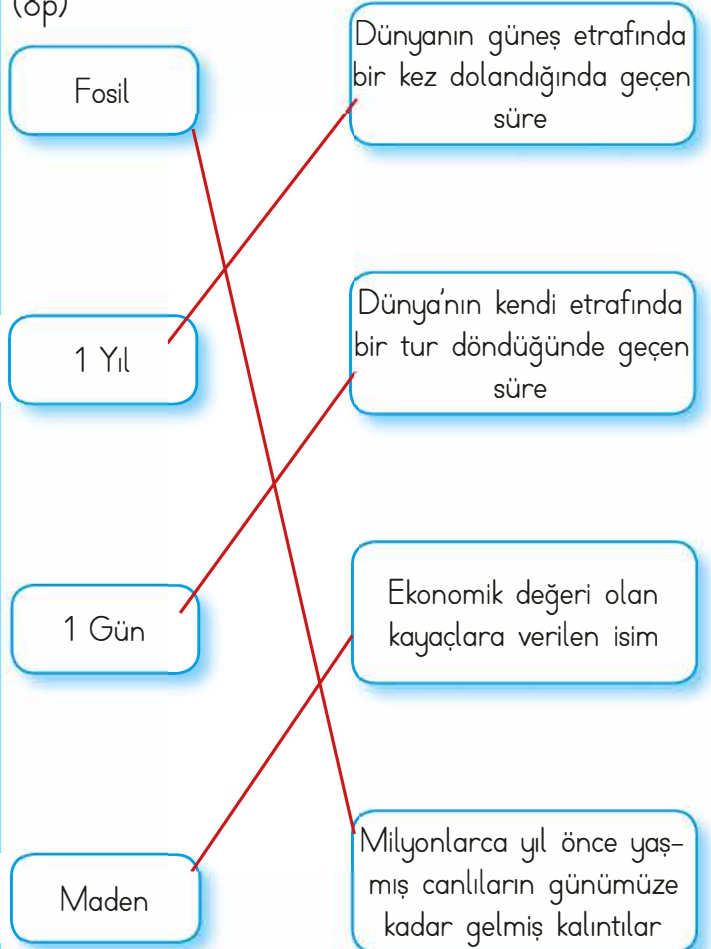
• Dünya'nın kendi etrafındaki dönüşünü **24.. saat..**te tamamlar. Dünya'nın kendi etrafında dönüşü sonucunda **gece..ve..gündüz..** oluşur. Dünya'nın güneş alan kısmında **gündüz..** yaşanır.

• Dünya'nın Güneş'in etrafında dolanma hareketini **365.gün..ve..saat..**te tamamlar. Dünya'nın bu hareketinin sonucunda **mevsimler..** oluşur.

C. Verilen kavramları aşağıdaki şemada uygun alanlara yazınız. (12)



D. Aşağıdaki ifadelerle açıklamaları eşleştiriniz. (8p)



E. Aşağıdaki test sorularını yanıtlayınız. (30p)

1. Kayaç

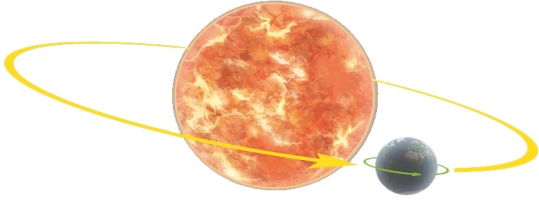
2. Kaya

3. Çakıl

4. Taş

1. Yukarıdakilerin küçükten büyüğe doğru sıralanışı hangisidir?

- A. 2 - 4 - 1 - 3
B. 3 - 4 - 2 - 1
C. 1 - 3 - 4 - 1
D. 3 - 4 - 1 - 2



2. Yukarıdaki şekil aşağıdakilerden hangisini anlatmaktadır?

- A. Dünya'nın kendi etrafında dönme hareketi
B. Güneş'in 1 günlük hareketini
C. Güneş'in 1 yıllık hareketini
D. Dünya'nın Güneş etrafında dolanma hareketini

3. Ağrı'da Güneş'in Ankara'ya göre daha erken doğmasının nedeni aşağıdakilerden hangisidir?

- A. Dünya'nın Güneş'in çevresinde dolanması.
B. Güneş'in Dünya'nın çevresinde dolanması.
C. Dünya'nın kendi eksenini etrafında batıdan doğuya doğru dönmesi.
D. Güneş'in ısı ve ışık kaynağımız olması.

4. Aşağıdakilerden hangisi bütün besin maddelerinde bulunur?

- A. Karbonhidratlar
B. Vitaminler
C. Proteinler
D. Mineraller ve Sular

5. Aşağıdaki açıklamalardan hangisi yanlıştır?

- A. Dünya'nın Güneş ışığı alan tarafı aydınlıktır.
B. Bir hafta 7 gündür.
C. Dünya'nın Güneş ışığı alamayan tarafında gündüz yaşanır.
D. Güneş'ten gelen ışık, Dünya'nın Güneş'e dönük yüzünü aydınlatır.

Et ●

● Protein

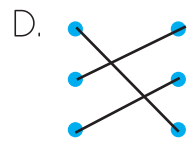
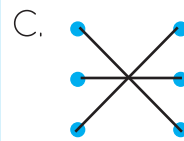
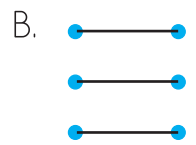
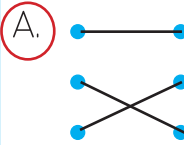
Ayçiçeği ●

● Karbonhidrat

Makarna ●

● Yağ

6. Yukarıdaki besinlerin besin içerikleri ile eşleştirilmesi, aşağıdakilerin hangisinde doğru olarak verilmiştir?



2022/2023 EĞİTİM-ÖĞRETİM YILI

ILKOKULU 1. DÖNEM 1. YAZILI SINAVI

ADI-SOYADI:.....

SINIFI:/.....

DERS: SOSYAL BİLG.

PUAN: ()

A. Aşağıdaki ifadelerden doğru olanların başına "D", yanlış olanların başına "Y" yazınız. (20p)

- (.....) Nüfus cüzdanlarının mavi ve pembe renkte olması kan grubumuzla ilgilidir.
- (.....) Yaşanan olaylar karşısında her insan aynı duyguları hisseder.
- (.....) Almanya'ya gidecek olan birisi yanına pasaportunu almalıdır.
- (.....) Olayların tarihsel sıralanması ile ilgili bilim dalına kronoloji denir.
- (.....) Başkalarının duygu ve düşüncelerine saygı göstermek zorunda değiliz.
- (.....) Gelenek ve görenekler ülkemizde şehirlere göre değişiklik gösterebilir.
- (.....) Aile tarihini araştırırken, komşumuzun anne babasının adı gereklidir.
- (.....) Erkeklerle kızların ilgi alanları genellikle aynıdır.
- (.....) T.C. kimlik numarası 11 haneden oluşup aynı aileden olan herkesin numarası aynıdır.
- (.....) 18 yaşına giren herkesin kimlik kartında fotoğraf bulunmak zorundadır.

B. Aşağıdaki soruyu yanıtlayınız. (20p)

- Kimliğimizde yazan bilgilerden 5 tanesini yazınız.

- 1.....
- 2.....
- 3.....
- 4.....
- 5.....

C. Verilen kavramları uygun alanlara yazınız. (20p)

akıllı kart

pasaport

soy ağacı

parmak izi

fiziksel özellik

empati

sorumluluk

nüfus cüzdanı

pembe

mavi

1. Kızların nüfus cüzdanları renktedir.
2. Ailemizde yaşayan ve daha önce yaşamış kişileri gösteren çizelgeye deriz.
3. Kimlik belgeleri içerisinde en önemlisi dir.
4. İnsanın kendisini başkasının yerine koymasına denir.
5. Dünyadaki her insanın birbirinden farklıdır.
6. Yurt dışına çıkmak için nüfus müdürlüklerinden belgesi almalıyız.
7. Erkeklerin nüfus cüzdanları renktedir.
8. Üzerimize düşen görevleri yerine getirmeye denir.
9. Yeni Kimlik kartlarımızdaki elektronik çip kimlik belgelerimize özelliği kazandırmaktadır
10. Kilomuz, boyumuz, ten rengimiz, saç rengimiz gibi özelliklerimize denir.

E. Aşağıdaki test sorularını yanıtlayınız. (40p)

1. İnsanlar duygusal özellikleri olan varlıklardır. Aşağıdakilerden hangisi Ahmet'in duygusal özelliklerinden olamaz?

- A. Heyecanlı bir çocuk olması
- B. Öğretmenini çok sevmesi
- C. Kısa boylu olması
- D. Yükseklikten korkması

2. Türkiye Cumhuriyeti Kimlik Kartını inceleyen Melis, kimlik kartındaki bilgilere bakarak aşağıdaki sorulardan hangisini cevaplayamaz?

- A. Doğum tarihini söyler misin?
- B. Türkiye Cumhuriyeti kimlik numaranızı söyler misiniz?
- C. Hangi okullarda okudunuz?
- D. Annenin ve babanın adını söyler misin?

3. Aşağıdaki eşleştirmelerden hangisi doğrudur?

- A. Olayların zamana göre dizilişi → Takvim
- B. Her vatandaşın sahip olduğu kimlik → Nüfus Cüzdanı
- C. Nüfus Cüzdanının verildiği yer → Hastane
- D. Araç kullanmak için alınan belge → Pasaport

4. Teneffüste düştüğünü gördüğümüz bir arkadaşımıza yardım etmeyi sağlayan duygu aşağıdakilerden hangisidir?

- A. Öfke
- B. Sevinç
- C. Acıma
- D. Kin

5. Eylül ve Arda ikiz kardeşlerdir. Buna göre bu iki kardeşin nüfus cüzdanlarındaki hangi özellik farklıdır?

- A. Kimlik numaraları
- B. Doğum Yerleri
- C. Doğum Tarihleri
- D. Baba Adları

6. I. Emeklemeye başladım.
II. İlkokula başladım.
III. 1999 yılında doğdum.
IV. Liseden mezun oldum.
V. Askere gittim.

Yukarıdaki bilgilerin doğru kronolojik şekilde sıralanmış hali hangisidir?

- A. I - II - III - IV - V
- B. III - II - I - IV - V
- C. III - I - II - IV - V
- D. II - III - I - V - IV

7. Aşağıdaki sorulardan hangisi aile tarihimizle ilgili araştırma yaparken soracağımız sorulardan biri değildir?

- A. Ülkemizin nüfusu ne kadardır?
- B. Bu şehre hangi yıl taşındık?
- C. Hangi yıl evlendiniz?
- D. Dedemin mesleği nedir?

8. Bir baba, yeni doğan çocuğuna nüfus cüzdanı almak istiyor. Bunun için hangi kuruma başvurmalıdır?

- A. Emniyet Müdürlüğü
- B. Mal Müdürlüğü
- C. Nüfus Müdürlüğü
- D. Milli Eğitim Müdürlüğü

2022/2023 EĞİTİM-ÖĞRETİM YILI
ILKOKULU 1. DÖNEM 1. YAZILI SINAVI

CEVAP ANAHTARI

A. Aşağıdaki ifadelerden doğru olanların başına "D", yanlış olanların başına "Y" yazınız. (20p)

- (..Y..) Nüfus cüzdanlarının mavi ve pembe renkte olması kan grubumuzla ilgilidir.
- (..Y..) Yaşanan olaylar karşısında her insan aynı duyguları hisseder.
- (..D..) Almanya'ya gidecek olan birisi yanına pasaportunu almalıdır.
- (..D..) Olayların tarihsel sıralanması ile ilgili bilim dalına kronoloji denir.
- (..Y..) Başkalarının duygu ve düşüncelerine saygı göstermek zorunda değiliz.
- (..D..) Gelenek ve görenekler ülkemizde şehirlere göre değişiklik gösterebilir.
- (..Y..) Aile tarihini araştırırken, komşumuzun anne babasının adı gereklidir.
- (..Y..) Erkeklerle kızların ilgi alanları genellikle aynıdır.
- (..Y..) T.C. kimlik numarası 11 haneden oluşup aynı aileden olan herkesin numarası aynıdır.
- (..D..) 18 yaşına giren herkesin kimlik kartında fotoğraf bulunmak zorundadır.

B. Aşağıdaki soruyu yanıtlayınız. (20p)

- Kimliğimizde yazan bilgilerden 5 tanesini yazınız.

-
-
-
-
-

C. Verilen kavramları uygun alanlara yazınız. (20p)

- | | | |
|-------------|------------------|-----------|
| akıllı kart | pasaport | soy ağacı |
| parmak izi | fiziksel özellik | empati |
| sorumluluk | nüfus cüzdanı | pembe |
| | mavi | |

- Kızların nüfus cüzdanları pembe renktedir.
- Ailemizde yaşayan ve daha önce yaşamış kişileri gösteren çizelgeye soy ağacı deriz.
- Kimlik belgeleri içerisinde en önemlisi nüfus cüzdanı dir.
- İnsanın kendisini başkasının yerine koymasına empati denir.
- Dünyadaki her insanın parmak izi birbirinden farklıdır.
- Yurt dışına çıkmak için nüfus müdürlüklerinden pasaport belgesi almalıyız.
- Erkeklerin nüfus cüzdanları mavi renktedir.
- Üzerimize düşen görevleri yerine getirmeye sorumluluk denir.
- Yeni Kimlik kartlarımızdaki elektronik çip kimlik belgelerimize akıllı kart özelliği kazandırmaktadır.
- Kilomuz, boyumuz, ten rengimiz, saç rengimiz gibi özelliklerimize fiziksel özellik denir.

E. Aşağıdaki test sorularını yanıtlayınız. (40p)

1. İnsanlar duygusal özellikleri olan varlıklardır. Aşağıdakilerden hangisi Ahmet'in duygusal özelliklerinden olamaz?

- A. Heyecanlı bir çocuk olması
- B. Öğretmenini çok sevmesi
- C. Kısa boylu olması
- D. Yükseklikten korkması

2. Türkiye Cumhuriyeti Kimlik Kartını inceleyen Melis, kimlik kartındaki bilgilere bakarak aşağıdaki sorulardan hangisini cevaplayamaz?

- A. Doğum tarihini söyler misin?
- B. Türkiye Cumhuriyeti kimlik numaranızı söyler misiniz?
- C. Hangi okullarda okudunuz?
- D. Annenin ve babanın adını söyler misin?

3. Aşağıdaki eşleştirmelerden hangisi doğrudur?

- A. Olayların zamana göre dizilişi → Takvim
- B. Her vatandaşın sahip olduğu kimlik → Nüfus Cüzdanı
- C. Nüfus Cüzdanının verildiği yer → Hastane
- D. Araç kullanmak için alınan belge → Pasaport

4. Teneffüste düştüğünü gördüğümüz bir arkadaşımıza yardım etmeyi sağlayan duygu aşağıdakilerden hangisidir?

- A. Öfke
- B. Sevinç
- C. Acıma
- D. Kin

5. Eylül ve Arda ikiz kardeşlerdir. Buna göre bu iki kardeşin nüfus cüzdanlarındaki hangi özellik farklıdır?

- A. Kimlik numaraları
- B. Doğum Yerleri
- C. Doğum Tarihleri
- D. Baba Adları

6. I. Emeklemeye başladım.
II. İlkokula başladım.
III. 1999 yılında doğdum.
IV. Liseden mezun oldum.
V. Askere gittim.

Yukarıdaki bilgilerin doğru kronolojik şekilde sıralanmış hali hangisidir?

- A. I - II - III - IV - V
- B. III - II - I - IV - V
- C. III - I - II - IV - V
- D. II - III - I - V - IV

7. Aşağıdaki sorulardan hangisi aile tarihimizle ilgili araştırma yaparken soracağımız sorulardan biri değildir?

- A. Ülkemizin nüfusu ne kadardır?
- B. Bu şehre hangi yıl taşındık?
- C. Hangi yıl evlendiniz?
- D. Dedemin mesleği nedir?

8. Bir baba, yeni doğan çocuğuna nüfus cüzdanı almak istiyor. Bunun için hangi kuruma başvurmalıdır?

- A. Emniyet Müdürlüğü
- B. Mal Müdürlüğü
- C. Nüfus Müdürlüğü
- D. Milli Eğitim Müdürlüğü