





## CEVAP ANAHTARI

A. Aşağıdaki ifadelerden doğru olanların başına "D", yanlış olanların başına "Y" yazınız. (10 p)

- (...Y...) "503 030" sayısı "beş yüz üç bin üç yüz" şeklinde okunur.
- (...Y...) 500'den başlanarak (500 dahil) yüzer ritmik sayma yaparken 7. saymada 7 500 sayısı söylenir.
- (...D...) "ABC DEF" sayısının okunuşu "dokuz yüz on bin bir" ise B ile F yerine aynı rakam yazılmalıdır.
- (...Y...) 951'den başlanarak yapılan yüzer ritmik saymada 1555 sayısı söylenir.
- (...Y...) 97 683 sayısının birler basamağındaki rakam, birler basamağındaki rakamdan büyüktür.

B. Aşağıdaki sayıların en yakın olduğu onluğu ve yüzlüğü yazınız. (8 p)

En Yakın Onluk	Sayı	En Yakın Yüzlük	En Yakın Onluk	Sayı	En Yakın Yüzlük
3130	3134	3100	8470	8469	8500
En Yakın Onluk	Sayı	En Yakın Yüzlük	En Yakın Onluk	Sayı	En Yakın Yüzlük
9900	9908	9900	6390	6385	6400

C. Aşağıdaki sayıları büyükten küçüğe doğru sıralayınız. (4 p)

367 604	307 998	304 683	367 406
367 604 > 367 406 > 307 998 > 304 683			

101 010	110 001	111 100	10 110
111 100 > 110 001 > 101 010 > 10 110			

D. Aşağıdaki sayıları küçükten büyüğe doğru sıralayınız. (4 p)

456 755	99 999	403 634	477 256
99 999 < 403 634 < 456 755 < 477 256			

663 366	603 306	693 300	306 788
306 788 < 603 306 < 663 366 < 693 300			

E. Aşağıdaki toplama ve çıkarma işlemlerini yapınız. (24 p)

$\begin{array}{r} 2044 \\ + 1881 \\ \hline 3925 \end{array}$	$\begin{array}{r} 6352 \\ - 2999 \\ \hline 3353 \end{array}$	$\begin{array}{r} 1543 \\ + 3328 \\ \hline 4871 \end{array}$
$\begin{array}{r} 2018 \\ - 1938 \\ \hline 0080 \end{array}$	$\begin{array}{r} 3445 \\ + 2248 \\ \hline 5693 \end{array}$	$\begin{array}{r} 8244 \\ - 3655 \\ \hline 4589 \end{array}$
$\begin{array}{r} 3325 \\ + 4255 \\ \hline 7580 \end{array}$	$\begin{array}{r} 9042 \\ - 1488 \\ \hline 7554 \end{array}$	$\begin{array}{r} 3442 \\ + 3458 \\ \hline 6900 \end{array}$
$\begin{array}{r} 7742 \\ - 3354 \\ \hline 4388 \end{array}$	$\begin{array}{r} 4567 \\ + 1234 \\ \hline 5801 \end{array}$	$\begin{array}{r} 9666 \\ - 4948 \\ \hline 4718 \end{array}$

F. Aşağıdaki problemleri yazınız. (10 p)

Ege Bölgesi'nde çıkan bir orman yangınında 4 800 ağaçtan 1 153 tanesi yanmıştır. Yangından sonra bölgeye 2 399 tane ağaç dikilmiştir. Şu an bölgede kaç ağaç vardır?

ÇÖZÜM:

4 800	3 647				
- 1 153	+ 2 399				
3 647	6 046	ağaç vardır			

Bir çiftlikte 42 at, 14 koyun ve 18 tavuk vardır. Buna göre bu çiftlikteki hayvanların ayak sayılarının toplamı kaçtır?

ÇÖZÜM:

42	14	18		168
x 4	x 4	x 2		56
168	56	36		260
				ayak vardır.

G. Aşağıdaki çarpma işlemlerini yapınız. (10 p)

$$\begin{array}{r} 243 \\ \times 25 \\ \hline \\ + \\ \hline 6075 \end{array}$$

$$\begin{array}{r} 164 \\ \times 37 \\ \hline \\ + \\ \hline 6068 \end{array}$$

$$\begin{array}{r} 199 \\ \times 6 \\ \hline 1194 \end{array}$$

$$\begin{array}{r} 366 \\ \times 3 \\ \hline 1098 \end{array}$$

$$9 \times (24 \times 3) = \dots 648 \dots$$

H. Aşağıdaki test sorularını yanıtlayınız. (30 p)

1. Sınıfımızda 23 öğrenci vardır. LÖSEV'e bağış yapmak için kişi başı 50 TL topladık. Buna göre LÖSEV'e kaç TL bağış yapmış oluruz.

- a. 1250  
c. 1150  
b. 2250  
d. 1000

$$\begin{array}{r} 576 \overline{) 8} \\ \underline{\phantom{000}} \\ \phantom{000} \end{array}$$

2. Yukarıdaki bölme işleminde bölüm aşağıdakilerden hangisidir?

- a. 72  
c. 128  
b. 78  
d. 48

$$2 - 9 - 7 - 14 - 11 - 19$$

3. Yukarıdaki örüntüde kuralı bozan sayı aşağıdakilerden hangisidir?

- a. 7  
c. 14  
b. 11  
d. 19

4. Ali 8 yaşındadır. Annesi Ali'den 22, babası ise Ali'den 25 yaş büyüktür. Buna göre Ali, annesi ve babasının yaşları toplamı kaçtır?

- a. 30  
c. 63  
b. 33  
d. 71

5. Ahmet'in 14 lirası vardır. Ayşe'nin parası Ahmet'in parasının 4 katından 5 lira eksiktir. Buna göre Ahmet ile Ayşe'nin paraları toplamı kaç liradır?

- a. 65  
c. 48  
b. 70  
d. 51

$$2 - 7 - 0 - 6$$

6. Yukarıdaki rakamları kullanarak oluşturulabilecek en küçük 4 basamaklı tek sayı aşağıdakilerden hangisidir?

- a. 2076  
c. 6207  
b. 2067  
d. 7602

ADI-SOYADI:..... SINIFI: .... / ..... DERS: TÜRKÇE

PUAN: ○

## KAVAK İLE KABAK

Ulu bir kavak ağacının yanında bir kabak filizi boy göstermiş. Bahar ilerledikçe bitki kavak ağacına sarılarak yükselmeye başlamış. Yağmurların ve güneşin etkisiyle müthiş bir hızla büyümüş ve neredeyse kavak ağacı ile aynı boya gelmiş. Bir gün dayanamayıp sormuş kavağa:

-Sen kaç ayda bu hale geldin ağaç?

-On yılda, demiş kavak.

-On yılda mı? Diye gülmüş ve çiçeklerini sallamış kavak.

-Ben neredeyse iki ayda seninle aynı boya geldim bak!

-Doğru, demiş kavak.

Günler günleri kovalamış ve sonbaharın ilk rüzgârları başladığında kabak üşümeye sonra yapraklarını düşürmeye, soğuklar arttıkça da aşağıya doğru inmeye başlamış. Sormuş endişeyle kavağa:

-Neler oluyor bana ağaç?

-Ölüyorsun, demiş kavak.

-Niçin?

-Benim on yılda geldiğim yere, iki ayda gelmeye çalıştığın için...

**A.** İlk 4 soruyu yukarıdaki metne göre yanıtlayınız. (24p)

1. Bu metnin kahramanları kimlerdir?

2. Bu metinde bulunan 2 hayal unsurunu yazınız.

3. Bu hikâyeden nasıl bir sonuç çıkarılabilir?

4. Sonbahar gelince kabakta ne gibi değişiklikler olmuş?

**B.** Aşağıdaki cümlelerde yazım yanlışı olan sözcüklerin altını çiziniz. (10 p)

1. Dünya, güneşin etrafında 365 gün ve 6 saatte dolanıyormuş.

2. Bu yıl Aralık ayında İstanbul'a ilk kar yağdı.

3. Bu akşam Babamla birlikte adanaya gideceğiz.

4. Mustafa ile Cuma günü İzmir Atatürk Park'ında buluşacağız.

**C.** Aşağıdaki cümlelerde altı çizili sözcüklerin karşısına gerçek anlamda ise "G", mecaz anlamda ise "M" yazınız. (10 p)

1. Boğazıma kadar borca batmış durumdayım. (.....)

2. Bu sözlerin çok ağır. (.....)

3. Boğazım çok ağrıdığı için doktora gittim. (.....)

4. Yediğimiz mandalinalar çok tatlıydı. (.....)

5. Mücahit çok renkli bir kişiliğe sahiptir. (.....)

**D.** Aşağıdaki alanlara istenilen özellikte birer cümle yazınız. (10 p)

Neden-Sonuç  
Cümlesi

Karşılaştırma  
Cümlesi

E. Aşağıdaki açıklamalar ile uygun deyimleri eşleştiriniz. (6 p)

Korkudan veya utançtan yüzünün rengi değişmek, sıkılmak.

Renk katmak

Renkten renge girmek

Her tehlikeyi göze alarak bir işe girişmek.

Canını dişine takmak

Canı burnundan gelmek

Ağlayacak kadar duygulanmak.

Gözü dönmek

Gözü dolmak

F. Aşağıdaki cümlelerde ( ) ile belirtilen yerlere uygun noktalama işaretlerini koyunuz. (10 p)

1. Bu kitapları masaya kim bıraktı ( )

2. Neden bu kadar hırçın anlamıyorum ( )

3. Kahretsin ( ) Pasta mahvoldu ( )

4. Dayımlar 5 ( ) katta oturuyorlar.

G. Aşağıdaki tablolardaki sözcüklerin karşısına eş veya zıt anlamlılarını yazınız. (10 p)

SÖZCÜK	EŞ ANLAMLISI
Konuk	→
Armağan	→
Anı	→
Yaşlı	→
Esir	→

SÖZCÜK	ZIT ANLAMLISI
Cömert	→
Ucuz	→
Temiz	→
Alt	→
Güzel	→

H. Aşağıdaki test sorularını yanıtlayınız. (20 p)

1. "Atmış tane kiprit çöpünü kullanarak Babamla birlikte maket ev yaptık."

Yukarıdaki cümle ile aşağıdaki ifadelerden hangisi doğrudur?

- 9 sözcükten oluşmuştur.
- Özel isim kullanılmıştır.
- Cümledeki üç sözcüğün yazımı yanlıştır.
- Cümlelerin sonuna soru işareti konulmalıdır.

2. Aşağıdaki cümlelerin hangisinde eş sesli bir sözcük kullanılmamıştır?

- Babamla birlikte çay kenarında piknik yaptık.
- En çok yaz mevsimini severim.
- Buket ödevini akşam olmadan bitirdi.
- Ağaç dallarını kıran çocukları uyardım.

Etrafındakiler, yeni doğan bebek için sırasıyla şunları dilemişler: Yüz güzelliği, uzun boy ve zenginlik. Bunları duyan bilge bir kişi ise "Ben onun için iyilik diliyorum. Çünkü sizin söylediğiniz güzellikler çiçek gibi solabilir, geçicidir; iyilik ise tükenmez bir hazinedir." demiş.

3. Yukarıdaki metnin ana fikri aşağıdakilerden hangisidir?

- İnsanlarla çiçekler birbirine benzer.
- Yüz güzelliği zenginlikten daha önemlidir.
- İyilik geçici güzelliklerden daha önemlidir.
- Bilge kişilerin sözlerine önem verilmelidir.

4. Aşağıdaki cümlelerden hangisinin sonuna diğerlerinden farklı bir noktalama işareti koyulmalıdır?

- Kardeşin hangi sınıfta okuyor
- Sizin takım ligde kaçınıcı sırada
- Sınavda kaçınıcı oldun
- Bana artık soru sormanı istemiyorum

## CEVAP ANAHTARI

## KAVAK İLE KABAK

Ulu bir kavak ağacının yanında bir kabak filizi boy göstermiş. Bahar ilerledikçe bitki kavak ağacına sarılarak yükselmeye başlamış. Yağmurların ve güneşin etkisiyle müthiş bir hızla büyümüş ve neredeyse kavak ağacı ile aynı boya gelmiş. Bir gün dayanamayıp sormuş kavağa:

-Sen kaç ayda bu hale geldin ağaç?

-On yılda, demiş kavak.

-On yılda mı? Diye gülmüş ve çiçeklerini sallamış kavak.

-Ben neredeyse iki ayda seninle aynı boya geldim bak!

-Doğru, demiş kavak.

Günler günleri kovalamış ve sonbaharın ilk rüzgârları başladığında kabak üşümeye sonra yapraklarını düşürmeye, soğuklar arttıkça da aşağıya doğru inmeye başlamış. Sormuş endişeyle kavağa:

-Neler oluyor bana ağaç?

-Ölüyorsun, demiş kavak.

-Niçin?

-Benim on yılda geldiğim yere, iki ayda gelmeye çalıştığın için...

**A.** İlk 4 soruyu yukarıdaki metne göre yanıtlayınız. (24p)

1. Bu metnin kahramanları kimlerdir?

Bu metnin kahramanları kavak ile kabaktır.

2. Bu metinde bulunan 1 hayal unsuru ifade yazınız.

Kavağın ve kabağın konuşması.

3. Bu hikâyeden nasıl bir sonuç çıkarılabilir?

Çalışmadan emek harcamadan gelinen nokta başarı sayılmaz. Kolay kazanılan, kolay kaybedilir. Her işte alın teri ve emek şarttır.

4. Sonbahar gelince kabakta ne gibi değişiklikler olmuş?

Kabak üşümeye, sonra yapraklarını düşürmeye ve soğuklar arttıkça aşağı doğru inmeye başlamış.

**B.** Aşağıdaki cümlelerde yazım yanlışı olan sözcüklerin altını çiziniz. (10 p)

1. Dünya, güneşin etrafında 365 gün ve 6 saatte dolanıyormuş.

2. Bu yıl Aralık ayında İstanbul'a ilk kar yağdı.

3. Bu akşam Babamla birlikte adanaya gideceğiz.

4. Mustafa ile Cuma günü İzmir Atatürk Park'ında buluşacağız.

**C.** Aşağıdaki cümlelerde altı çizili sözcüklerin karşısına gerçek anlamda ise "G", mecaz anlamda ise "M" yazınız. (10 p)

1. Boğazıma kadar borca batmış durumdayım. (..M..)

2. Bu sözlerin çok ağır. (..M..)

3. Boğazım çok ağrıdığı için doktora gittim. (..G..)

4. Yediğimiz mandalinalar çok tatlıydı. (..G..)

5. Mücahit çok renkli bir kişiliğe sahiptir. (..M..)

**D.** Aşağıdaki alanlara istenilen özellikte birer cümle yazınız. (10 p)

Neden-Sonuç  
Cümlesi

Karşılaştırma  
Cümlesi



E. Aşağıdaki açıklamalar ile uygun deyimleri eşleştiriniz. (6 p)

Korkudan veya utançtan yüzünün rengi değişmek, sıklıkmak.

Renk katmak

Renkten renge girmek

Her tehlikeyi göze alarak bir işe girişmek.

Canını dişine takmak

Canı burnundan gelmek

Ağlayacak kadar duygulanmak.

Gözü dönmek

Gözü dolmak

F. Aşağıdaki cümlelerde ( ) ile belirtilen yerlere uygun noktalama işaretlerini koyunuz. (10 p)

1. Bu kitapları masaya kim bıraktı (?)

2. Neden bu kadar hırçın anlamıyorum ( . )

3. Kahretsin (!) Pasta mahvoldu ( . )

4. Dayımlar 5 ( . ) katta oturuyorlar.

G. Aşağıdaki tablolardaki sözcüklerin karşısına eş veya zıt anlamlılarını yazınız. (10 p)

SÖZCÜK	EŞ ANLAMLISI
Konuk	→ Misafir
Armağan	→ Hediye
Anı	→ Hatıra
Yaşlı	→ İhtiyar
Esir	→ Tutsak

SÖZCÜK	ZIT ANLAMLISI
Cömert	→ Cimri
Ucuz	→ Pahalı
Temiz	→ Kirlili / pis
Alt	→ Üst
Güzel	→ Çirkin

H. Aşağıdaki test sorularını yanıtlayınız. (20 p)

1. "Atmış tane kiptir çöpünü kullanarak Babamla birlikte maket ev yaptık."

Yukarıdaki cümle ile aşağıdaki ifadelerden hangisi doğrudur?

- 9 sözcükten oluşmuştur.
- Özel isim kullanılmıştır.
- Cümledeki üç sözcüğün yazımı yanlıştır.
- Cümlelerin sonuna soru işareti konulmalıdır.

2. Aşağıdaki cümlelerin hangisinde eş sesli bir sözcük kullanılmamıştır?

- Babamla birlikte çay kenarında piknik yaptık.
- En çok yaz mevsimini severim.
- Buse ödevini akşam olmadan bitirdi.
- Ağaç dallarını kıran çocukları uyardım.

Etrafındakiler, yeni doğan bebek için sırasıyla şunları dilemişler: Yüz güzelliği, uzun boy ve zenginlik. Bunları duyan bilge bir kişi ise "Ben onun için iyilik diliyorum. Çünkü sizin söylediğiniz güzellikler çiçek gibi solabilir, geçicidir; iyilik ise tükenmez bir hazinedir." demiş.

3. Yukarıdaki metnin ana fikri aşağıdakilerden hangisidir?

- İnsanlarla çiçekler birbirine benzer.
- Yüz güzelliği zenginlikten daha önemlidir.
- İyilik geçici güzelliklerden daha önemlidir.
- Bilge kişilerin sözlerine önem verilmelidir.

4. Aşağıdaki cümlelerden hangisinin sonuna diğerlerinden farklı bir noktalama işareti koyulmalıdır?

- Kardeşin hangi sınıfta okuyor
- Sizin takım ligde kaçınıcı sırada
- Sınavda kaçınıcı oldun
- Bana artık soru sormanı istemiyorum



ADI-SOYADI:..... SINIFI: .... / ..... DERS: SOSYAL BİL PUAN: ( )

**A.** Aşağıdaki ifadelerden doğru olanların başına "D", yanlış olanların başına "Y" yazınız. (20p)

1. (.....) Sakarya Savaşı'ndan sonra Mustafa Kemal Paşa'ya mareşallik rütbesi ve gazilik ünvanı verilmiştir.
2. (.....) Batı Cephesi'nde Ruslar ile savaştık.
3. (.....) Yeni doğan bebeklerin kimliklerinde T.C kimlik numarası bulunmaz.
4. (.....) Geçmişte oynanan oyunlardan, günümüzde oynanan oyun yoktur.
5. (.....) Çanakkale Cephesi, Kurtuluş Savaşı'nda açılan bir cephedir.
6. (.....) Kroki bir yerin kuş bakışı görünüşünün kabataslak küçültülerek kâğıt üzerine çizilmesiyle elde edilir.
7. (.....) Milli Mücadele sürecinde yalnızca erkekler görev yapmıştır.
8. (.....) Yönümüzü en doğru ve kolay olarak yıldızlara bakarak buluruz.
9. (.....) Yollar, parklar ve binalar çevremizde gördüğümüz beşeri unsurlardır.
10. (.....) İşgallere karşı halkımızın oluşturduğu silahlı direniş örgütüne Kuvâ-yi Milliye denir.

**B.** Aşağıdaki soruyu yanıtlayınız. (10p)

• Aşağıya yön bulma yöntemlerinden 5 tanesini yazınız.

- 1.....
- 2.....
- 3.....
- 4.....
- 5.....

**C.** Verilen kavramları uygun alanlara yazınız. (20p)

Şerife Bacı	Aile	Oyun
Eşyalar	GPS	Kuzey
Batı	Hasan Tahsin	Sütçü İmam
Meteoroloji		

1. Güneş sabahları evimizin arka tarafından doğuyorsa, evimizin önü ..... yönüne bakar.
2. Toplumun en küçük birimine ..... denir.
3. Pusulanın renkli ibresi her zaman ..... yönünü gösterir.
4. Bilgisayar ve tablet günümüz çocuklarının ..... araçlarındandır.
5. ..... İnebolu'dan Ankara'ya mermi taşıırken donarak şehit olan kadın kahramanımızdır.
6. İzmir'de Yunan askerine ilk kurşunu gazeteci ..... atmıştır.
7. ...., Maraş'ta Fransız işgaline karşı halk direnişinin sembolü olmuştur.
8. .... cihazı ile bulunduğumuz yer tam olarak tespit edilebilir.
9. Ailemizden kalan ..... büyüklerimizin kültürleri konusunda bilgi verir.
10. Hava olaylarını inceleyen bilim dalına ..... denir.

H. Aşağıdaki test sorularını yanıtlayınız. (50 p)

1. Geçmişten günümüze ulaşan tarihi eserler nerelerde sergilenir?

- A. Postane  
C. Müze  
B. Kütüphane  
D. Terminal

2. İşgalci devletlerin yurdumuzu işgal etmelerinin nedeni hangisidir?

- A. İşgal ettikleri yerlerde güvenliği sağlamak.  
B. Özgürce yaşamamızı sağlamak.  
C. Yurdumuzu elimizden almak.  
D. İnsanlara yardım etmek

- Çelik Çomak
- Mangala
- Bezirganbaşı

3. Yukarıda verilen kavramlar aşağıdakilerin hangisi ile ilgilidir?

- A. Geleneksel çocuk tiyatro gösterileri  
B. Geleneksel çocuk oyunları  
C. Geleneksel yemekler  
D. Geleneksel çocuk şarkıları

4. Milli Mücadele'de gösterdiği başarılarından dolayı bazı illerimiz İstiklâl madalyası almıştır. Aşağıdakilerden hangisi bu illerimiz arasında yer almaz?

- A. Urfa  
C. Antep  
B. Maraş  
D. İstanbul

5. Ormanda ağaçların yosun tutmuş yüzleri hangi yönü gösterir?

- A. Kuzey  
C. Batı  
B. Doğu  
D. Güney

6. Aşağıda belirtilen yerlerin hangisinde diğerlerine göre beşeri unsurlar daha fazladır?

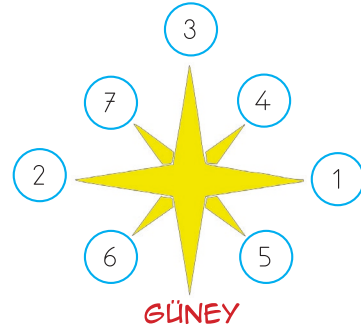
- A. Ormanlar  
C. Şehirler  
B. Göller  
D. Mağaralar

7. Yandaki sembol hava olaylarından hangisini ifade etmektedir?



- A. Yağmurlu  
C. Karlı  
B. Sisli  
D. Bulutlu

● 8-9-10. soruları aşağıdaki görsele göre yanıtlayınız.



8. Üstteki şekilde (2) numaralı yön aşağıdakilerden hangisidir?

- A. Kuzey  
C. Doğu  
B. Batı  
D. Kuzeybatı

9. Kaç numaralı ok işareti güneybatıyı göstermektedir?

- A. (4) B. (5) C. (6) D. (7)

10. Üstteki şekilde (1) numaralı yön aşağıdakilerden hangisidir?

- A. Kuzeydoğu  
C. Batı  
B. Kuzey  
D. Doğu

## 2022-2023 EĞİTİM - ÖĞRETİM YILI

### İLKOKULU 1. DÖNEM 2. YAZILI SINAVI

#### CEVAP ANAHTARI

A. Aşağıdaki ifadelerden doğru olanların başına "D", yanlış olanların başına "Y" yazınız. (20p)

- (D) Sakarya Savaşı'ndan sonra Mustafa Kemal Paşa'ya mareşallik rütbesi ve gazilik ünvanı verilmiştir.
- (Y) Batı Cephesi'nde Ruslar ile savaştık.
- (Y) Yeni doğan bebeklerin kimliklerinde T.C kimlik numarası bulunmaz.
- (Y) Geçmişte oynanan oyunlardan, günümüzde oynanan oyun yoktur.
- (Y) Çanakkale Cephesi, Kurtuluş Savaşı'nda açılan bir cephedir.
- (D) Kroki bir yerin kuş bakışı görünüşünün kabataslak küçültülerek kâğıt üzerine çizilmesiyle elde edilir.
- (Y) Milli Mücadele sürecinde yalnızca erkekler görev yapmıştır.
- (Y) Yönümüzü en doğru ve kolay olarak yıldızlara bakarak buluruz.
- (D) Yollar, parklar ve binalar çevremizde gördüğümüz beşeri unsurlardır.
- (D) İşgallere karşı halkımızın oluşturduğu silahlı direniş örgütüne Kuvâ-yi Milliye denir.

B. Aşağıdaki soruyu yanıtlayınız. (10p)

• Aşağıya yön bulma yöntemlerinden 5 tanesini yazınız.

- Pusulâ
- Kutup yıldızı
- Karıncâ yuvaları
- Ağaçlardaki yosunlar
- Cami minareleri

C. Verilen kavramları uygun alanlara yazınız. (20p)

Şerife Bacı

Aile

Oyun

Eşyalar

GPS

Kuzey

Batı

Hasan Tahsin

Sütçü İmam

Meteoroloji

- Güneş sabahları evimizin arka tarafından doğuyorsa, evimizin önü .....batı..... yönüne bakar.
- Toplumun en küçük birimine .....aile..... denir.
- Pusulanın renkli ibresi her zaman .....kuzey..... yönünü gösterir.
- Bilgisayar ve tablet günümüz çocuklarının .....oyun..... araçlarındandır.  
.....Serife Bacı..... İnebolu'dan Ankara'ya
- mermi taşıırken donarak şehit olan kadın kahramanımızdır.
- İzmir'de Yunan askerine ilk kurşunu gazeteci .....Hasan Tahsin..... atmıştır.  
.....Sütçü İmam....., Maraş'ta Fransız işgaline karşı halk direnişinin sembolü olmuştur.
- .....GPS..... cihazı ile bulunduğumuz yer tam olarak tespit edilebilir.
- Ailemizden kalan .....eşyalar..... büyüklerimizimizin kültürleri konusunda bilgi verir.
- Hava olaylarını inceleyen bilim dalına .....meteoroloji..... denir.

H. Aşağıdaki test sorularını yanıtlayınız. (50 p)

1. Geçmişten günümüze ulaşan tarihi eserler nerelerde sergilenir?

- A. Postane  
 C. Müze  
B. Kütüphane  
D. Terminal

2. İşgalci devletlerin yurdumuzu işgal etmelerinin nedeni hangisidir?

- A. İşgal ettikleri yerlerde güvenliği sağlamak.  
B. Özgürce yaşamamızı sağlamak.  
 C. Yurdumuzu elimizden almak.  
D. İnsanlara yardım etmek

- Çelik Çomak
- Mangala
- Bezirganbaşı

3. Yukarıda verilen kavramlar aşağıdakilerin hangisi ile ilgilidir?

- A. Geleneksel çocuk tiyatro gösterileri  
 B. Geleneksel çocuk oyunları  
C. Geleneksel yemekler  
D. Geleneksel çocuk şarkıları

4. Milli Mücadele'de gösterdiği başarılarından dolayı bazı illerimiz İstiklâl madalyası almıştır. Aşağıdakilerden hangisi bu illerimiz arasında yer almaz?

- A. Urfa  
C. Antep  
B. Maraş  
 D. İstanbul

5. Ormanda ağaçların yosun tutmuş yüzleri hangi yönü gösterir?

- A. Kuzey  
C. Batı  
B. Doğu  
D. Güney

6. Aşağıda belirtilen yerlerin hangisinde diğerlerine göre beşeri unsurlar daha fazladır?

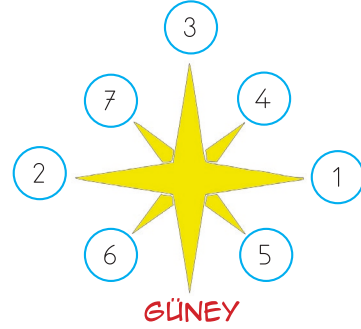
- A. ormanlar  
 C. şehirler  
B. göller  
D. mağaralar

7. Yandaki sembol hava olaylarından hangisini ifade etmektedir?



- A. Yağmurlu  
C. Karlı  
B. Sisli  
D. Bulutlu

• 8-9-10. soruları aşağıdaki görsele göre yanıtlayınız.



8. Üstteki şekilde (2) numaralı yön aşağıdakilerden hangisidir?

- A. Kuzey  
C. Doğu  
 B. Batı  
D. Kuzeybatı

9. Kaç numaralı ok işareti güneybatıyı göstermektedir?

- A. (4) B. (5)  C. (6) D. (7)

10. Üstteki şekilde (1) numaralı yön aşağıdakilerden hangisidir?

- A. Kuzeydoğu  
C. Batı  
B. Kuzey  
 D. Doğu

ADI-SOYADI:..... SINIFI: .... / ..... DERS: FEN BİLİMLERİ PUAN: ( )

**A.** Aşağıdaki ifadelerden doğru olanların başına "D", yanlış olanların başına "Y" yazınız. (10p)

1. (.....) Sigara içen insanların karaciğer kanserine yakalanma riski yüksektir.
2. (.....) Tek tip besinle beslenmek sağlığını bozar.
3. (.....) Meyve ve sebzeleri yemeden önce deterjanla yıkamalıyız.
4. (.....) Durmakta olan bir cisme kuvvet uyguladığımızda cisim hareket eder.
5. (.....) Miknatıslar demir, nikel ve kobalt gibi maddelere itme kuvveti uygular.

**B.** Aşağıdaki kuvvet türlerinin karşısına uygun örnek olaylar yazınız. (20p)

Şekil Değiştirme →

Yön Değiştirme →

Esneme →

Hızlanma →

Yavaşlama →

**C.** Verilen kavramları uygun alanlara yazınız. (20p)

bağımlılık

esnek

kuvvet

aynı

çekme

yön

toplum

düzenleyici

obezite

farklı

1. Kuvvet uygulanan sünger ..... madde olduğu için, kuvvetin etkisi kalkınca yine eski şekline döner.
2. Alkol kullanımı insan ve ..... sağlığını olumsuz etkiler.
3. Kuvvet, hareketli cisimlerin yavaşlamasına ve ..... değiştirmesine neden olabilir.
4. Miknatısın ..... kutupları birbirini çeker.
5. Koli bandını açarken uyguladığımız kuvvet ..... kuvvetidir.
6. Miknatısın ..... kutupları birbirini iter.
7. Alkol uzun süre kullanıldığında ..... yapar.
8. Vücutta sağlığı bozacak ölçüde aşırı ve anormal yağ birikmesine ..... denir.
9. Vitaminler vücudumuzda ..... olarak görev yapar.
10. Duran cisimleri hareket ettiren, hareketli cisimleri durduran etkiye ..... denir.

H. Aşağıdaki test sorularını yanıtlayınız. (50 p)

Hareketli bir cisme, zıt yönde kuvvet uygulanırsa...

1. Yukarıdaki ifadeyi aşağıdaki sözcüklerden hangisi ile tamamlanamaz?

- A. Hızlanır B. Durur  
C. Yön değiştirir D. Yavaşlar

2. Aynı yolu,

A otomobili, 85 dakikada;

B otomobili, 110 dakikada;

C otomobili, 72 dakikada;

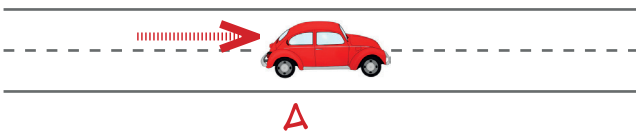
D otomobili, 79 dakikada bitiriyor.

Buna göre hangi otomobil en hızlıdır?

- A. B otomobili B. C otomobili  
C. D otomobili D. A otomobili

3. "Ekonomik değeri olan kayalara maden denir."  
Buna göre aşağıdakilerden hangisi maden değildir?

- A. Elmas B. Mermer  
C. Çakıl D. Demir



4. Yukarıdaki oyuncak araba A okunun gösterdiği yönde hareket halindedir. Arabaya, arkasındaki okun gösterdiği yönde itme kuvveti uygulandığında ne olur?

- A. Araba hızlanır.  
B. Araba yavaşlar.  
C. Araba durur.  
D. Arabanın yönü değişir.

5. Aşağıdaki açıklamalardan hangisi yanlıştır?

- A. Dünya'nın Güneş ışığı alan kısmı aydınlıktır.  
B. Bir hafta 7 gündür.  
C. Dünya'nın Güneş ışığı almayan kısmı gündüzdür.  
D. Güneş'ten gelen ışık, Dünya'nın, Güneş'e dönük yüzünü aydınlatır.

6. Aşağıdaki seçeneklerin hangisindeki besinlerde bol miktarda protein bulunur?

- A. Balık, yumurta, süt  
B. Yumurta, domates, patates  
C. Yumurta, süt, ekmek  
D. Balık, ekmek, patates

7. I. Miknatısın zıt kutupları birbirini çeker.  
II. Miknatısın aynı kutupları birbirini iter.

Yukarıdaki ifadeler için hangisini söyleyebiliriz?

- A. I doğru, II yanlış B. I yanlış, II doğru  
C. İkisi de yanlış D. İkisi de doğru

8. "Hava cisimlere itme gücü uygular."  
Aşağıdakilerden hangisi buna örnektir?

- A. Bayrağın dalgalanması  
B. Okun fırlatılması  
C. Tekerlekli cisimlerin daha kolay itilmesi.  
D. Otomobilin kırmızı ışıkta durması.

9. Aşağıdakilerden hangisi sigaranın zararlarından biri değildir?

- A. Cilt zamanla mat ve cansız görünür.  
B. Burunda koku alma duyusu artar.  
C. Diş eti hastalıklarının oluşmasına sebep olur.  
D. Akciğerlerimiz zarar görür.

10. "Dünya, kendi etrafındaki bir tam dönüşünü ..... tamamlar."

Noktalı yere aşağıdakilerden hangisi gelmelidir?

- A. 12 saatte B. 365 günde  
C. 24 saatte D. 24 günde



## 2022-2023 EĞİTİM - ÖĞRETİM YILI

### İLKOKULU 1. DÖNEM 2. YAZILI SINAVI

ADI-SOYADI:.....

SINIFI: .... / .....

DERS: FEN BİLİMLERİ

PUAN: ( )

1. (...**Y**...) Sigara içen insanların karaciğer kanserine yakalanma riski yüksektir.
2. (...**D**...) Tek tip besinle beslenmek sağlığını bozar.
3. (...**Y**...) Meyve ve sebzeleri yemeden önce deterjanla yıkamalıyız.
4. (...**D**...) Durmakta olan bir cisme kuvvet uyguladığımızda cisim hareket eder.
5. (...**Y**...) Miknatıslar demir, nikel ve kobalt gibi maddelere itme kuvveti uygular.

**B.** Aşağıdaki kuvvet türlerinin karşısına uygun örnek olaylar yazınız. (20p)

Şekil Değişirme	→	
Yön Değişirme	→	
Esneme	→	
Hızlanma	→	
Yavaşlama	→	

bağımlılık	esnek	kuvvet
aynı	çekme	yön
toplum	düzenleyici	obezite
farklı		

1. Kuvvet uygulanan sünger .....**esnek**..... madde olduğu için, kuvvetin etkisi kalkınca yine eski şekline döner.
2. Alkol kullanımı insan ve .....**toplum**..... sağlığını olumsuz etkiler.
3. Kuvvet, hareketli cisimlerin yavaşlamasına ve .....**yön**..... değiştirmesine neden olabilir.
4. Miknatısın .....**zıt**..... kutupları birbirini çeker.
5. Koli bandını açarken uyguladığımız kuvvet .....**çekme**..... kuvvetidir.
6. Miknatısın .....**aynı**..... kutupları birbirini iter.
7. Alkol uzun süre kullanıldığında .....**bağımlılık**..... yapar.
8. Vücutta sağlığı bozacak ölçüde aşırı ve anormal yağ birikmesine .....**obezite**..... denir.
9. Vitaminler vücudumuzda .....**düzenleyici**..... olarak görev yapar.
10. Duran cisimleri hareket ettiren, hareketli cisimleri durduran etkiye .....**kuvvet**..... denir.



H. Aşağıdaki test sorularını yanıtlayınız. (50 p)

Hareketli bir cisme, zıt yönde kuvvet uygulanırsa...

1. Yukarıdaki ifadeyi aşağıdaki sözcüklerden hangisi ile tamamlanamaz?

- A. Hızlanır  
C. Yön değiştirir  
B. Durur  
D. Yavaşlar

2. Aynı yolu,

A otomobili, 85 dakikada;

B otomobili, 110 dakikada;

C otomobili, 72 dakikada;

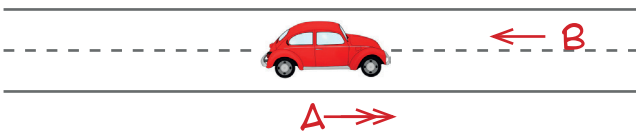
D otomobili, 79 dakikada bitiriyor.

Buna göre hangi otomobil en hızlıdır?

- A. B otomobili  
C. D otomobili  
 B. C otomobili  
D. A otomobili

3. "Ekonomik değeri olan kayalara maden denir."  
Buna göre aşağıdakilerden hangisi maden değildir?

- A. Elmas  
C. Çakıl  
B. Mermer  
D. Demir



4. Yukarıdaki oyuncak araba A okunun gösterdiği yön-  
de hareket halindedir. Arabaya B okunun gösterdiği  
yönünde itme kuvveti uygulandığında ne olur?

- A. Araba hızlanır.  
B. Araba yavaşlar.  
C. Araba durur.  
D. Arabanın yönü değişir.

5. Aşağıdaki açıklamalardan hangisi yanlıştır?

A. Dünya'nın Güneş ışığı alan kısmı aydınlıktır.

B. Bir hafta 7 gündür.

C. Dünya'nın Güneş ışığı almayan kısmı gündüzdür.

D. Güneş'ten gelen ışık, Dünya'nın, Güneş'e dönük yüzünü aydınlatır.

6. Aşağıdaki seçeneklerin hangisindeki besinlerde bol miktarda protein bulunur?

- A. Balık, yumurta, süt  
B. Yumurta, domates, patates  
C. Yumurta, süt, ekmek  
D. Balık, ekmek, patates

7. I. Miknatisin zıt kutupları birbirini çeker.

II. Miknatisin aynı kutupları birbirini iter.

Yukarıdaki ifadeler için hangisini söyleyebiliriz?

- A. I doğru, II yanlış  
C. İkisi de yanlış  
B. I yanlış, II doğru  
 D. İkisi de doğru

8. "Hava cisimlere itme gücü uygular."  
Aşağıdakilerden hangisi buna örnektir?

- A. Bayrağın dalgalanması  
B. Okun fırlatılması  
C. Tekerlekli cisimlerin daha kolay itilmesi.  
D. Otomobilin kırmızı ışıkta durması.

9. Aşağıdakilerden hangisi sigaranın zararlarından biri değildir?

- A. Cilt zamanla mat ve cansız görünür.  
 B. Burunda koku alma duyusu artar.  
C. Diş eti hastalıklarının oluşmasına sebep olur.  
D. Akciğerlerimiz zarar görür.

10. "Dünya, kendi etrafındaki bir tam dönüşünü  
..... tamamlar."

Noktalı yere aşağıdakilerden hangisi gelmelidir?

- A. 12 saatte  
C. 24 saatte  
B. 365 günde  
D. 24 günde