

1. DÖNEM 2.KDS



A

KİTAPÇIK TÜRÜ

ALİ NERKİZ
DENEME SINAVLARI

4. Sınıf

1. DÖNEM

2. KAZANIM

DEĞERLENDİRME SINAVI

*Eğitimde Feda Edilecek
Tek Bir Fert Yoktur.*

ÖĞRENCİNİN
ADI SOYADI
SINIFI
OKULU

;

H. Atatürk

.....

: 4 /

NO :

..... İLKOKULU

ANDS

TÜRKÇE TESTİ

BU BÖLÜMDE CEVAPLAYACAĞINIZ SORU SAYISI 15'TİR. CEVAPLAMAYA İSTEDİĞİNİZ SORUDAN BAŞLAYABİLİRSİNİZ. CEVAPLARINIZI CEVAP KAĞIDININ TÜRKÇE BÖLÜMÜNE İŞARETLEYİNİZ. **BAŞARILAR.**

.....

Bir toplumda saygı yoksa, ne yaparsanız yapın başka değerleri oluşturamazsınız. Siz başkalarına saygı gösterin ki başkaları da size saygı göstereyin. Siz bunu sağlamazsanız ne yaparsanız yapın başka hiçbir düzeni sağlayamazsınız. Saygının önemi toplumsal düzende mutlaka kavranmalı ve saygılı bir ortam yaratılmalıdır.

1. Paragrafa en uygun başlık aşağıdakilerin hangisidir?

- a. İletişim
b. Saygısız İnsanlar
c. İnsanların Sorunları
d. Saygı ve Toplum

2. Aşağıdaki cümlelerin hangisinde olayın sebebi belirtilmemiştir?

- a. Buğlem, sınavı kazanamadığından ağlıyordu.
b. Horoz, yem bulmak için toprağı eşeliyordu.
c. Çocuk, yılandan korktuğunu söyledi.
d. Futbolcular maçı kazandıkları için çok mutluydu.

3. Aşağıdakilerden hangisi bir metnin giriş cümlesi olabilir?

- a. Hüseyin ise diğerlerine göre daha sakin biridir.
b. Terzi Mehmet, bizim mahallenin her şeyidir.
c. Çünkü yıllardır hiç kimsenin sözünü dinlemiyordu.
d. Türkçe kitabını da evde unutmuş.

4. Aşağıdaki cümlelerde altı çizili sözcüklerden hangisinin birden fazla anlamı **yoktur?**

- a. Kedi bir bardak süt içti.
- b. Bahçe kapısını kim açtı?
- c. Kaleci üzerine gelen topu rahatça tuttu.
- d. Eyvah, bardak yere düştü!

5. Aşağıdaki cümlelerin hangisinde **hayal ürünü bir ifade kullanılmıştır?**

- a. Bu yıl da bayramı coşkuyla kutladık.
- b. Ablam için bahçeden rengârenk çiçekler topladım.
- c. Fare, kediyi görünce kaçmaya başladı.
- d. Kurbağalar, bir yandan şarkı söyleyip bir yandan da gülüşüyorlardı.

Ayşe öğretmen, Türkçe dersinde öğrencilerden vatan ile ilgili bir hikâye yazmalarını istedi.

6. Hangisi yukarıdaki cümlede altı çizili sözcüklerin yerine yazılabilecek sözcüklerden biri değildir?

- a. muallim
- b. millet
- c. öykü
- d. talebe

7. Aşağıdaki cümlelerin hangisinde büyük harflerin yazımı ile ilgili bir **yanlışlık yapılmıştır?**

- a. Babası, Murtaza'ya yeni bir Bilgisayar almış.
- b. Ali, uzun süredir hastaymış.
- c. Oktay, kuşu Maviş'i çok sevdi.
- d. Türkiye'nin en büyük dağı Ağrı Dağı'dır.

Biz okuruz, biliyoruz
Okumak, görmek demek.
Tanımak insanları
Doğayı sevmek demek.

Biz okuruz, biliyoruz
Okumak, yücelmek demek.
Yürüyüp adım adım
Doğruyu bulmak demek.

8. Yukarıdaki şiirin ana duygusu aşağıdakilerden hangisidir?

- a. Okumanın önemi
b. Doğa sevgisi
c. İnsan sevgisi
d. Adım adım yürümek

9. Aşağıdaki cümlelerin hangisinde altı çizili sözcüklerin yerine “hoş görmek” deyimini kullanılabilir?

- a. Kalemimi izinsiz alan Murat’a çok kızdı.
b. Mehmet derse geç kalınca kendini kötü hissetti.
c. Annesi, yanlışlıkla sürahiyi kıran oğlunu anlayışla karşıladı.
d. Furkan, yarışmalardaki başarısıyla göğsümüzü kabarttı.

Mustafa Kemal, 19 Mayıs tarihinde Samsun’a çıkmış, düşmanları yurttan kovmak için çalışmalarına başlamıştı.

10. Yukarıdaki cümleye bakarak aşağıdaki sorulardan hangisine yanıt veremeyiz?

- a. Samsun’a kim çıkmıştı?
b. Samsun’a ne zaman çıkmıştı?
c. Samsun’a nasıl çıkmıştı?
d. Niçin çalışmalarına başlamıştı?

11. Yandaki görsel aşağıdakilerden hangisini belirtmektedir?

- a. Genel izleyici kitlesi için uygundur.
- b. Şiddet/korku içerir.
- c. 18 yaş ve üzeri için uygundur.
- d. Olumsuz örnek oluşturabilecek davranışlar içerir.



Köyde kış hazırlığı bitip tükenmek bilmiyor. Soğanlar kurutuldu. Dibeklerde günlerce bulgur kırıldı. Buğdaylar öğütüldü. Bunlardan deste deste yufka yapıldı. Derken kuru yemişlere sıra geldi. Aman, o ne kadar ceviz!..

12. Yukarıdaki paragrafın konusu aşağıdakilerden hangisidir?

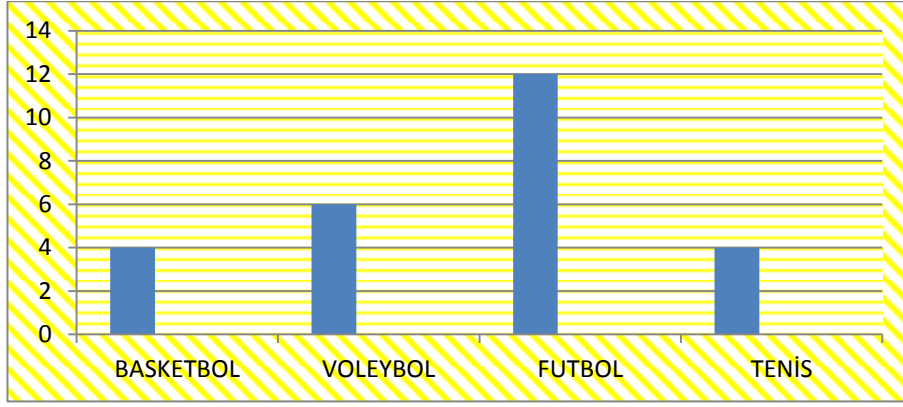
- a. Soğanların nasıl saklandıkları
- b. Bulgurun nasıl öğütüldüğü
- c. Buğdaydan yufka yapılması
- d. Köyde kış hazırlıkları

Saramzaspor, Mersin’de kazanılmadık kupa bırakmamıştı ()
Kasaba şampiyonluğu () ilçe birinciliği () il ikinciliği ()

13. Yukarıdaki cümlede aşağıdaki noktalama işaretlerinden hangisi kullanılmaz?

- a. Virgül (,)
- b. Nokta (.)
- c. Üç nokta (...)
- d. Ünlem (!)





14. Yukarıdaki grafikte 4/A sınıfı öğrencilerinin sevdiği spor dalları gösterilmiştir. Buna göre aşağıdakilerden hangisi söylenemez?

- En sevilen spor futboldur.
- 4/A sınıfının mevcudu 26'dır.
- 4/A sınıfında 6 kız öğrenci vardır.
- Tenis ve basketbol seven öğrenci sayısı eşittir.

Kartal, kulak tırmalayıcı bir sese sahipti ancak bir gün atın kişnemesini duydu. Bu ses o kadar hoşuna gitmişti ki taklit etmeye çalıştı. Kendini ne kadar zorladıysa da kişnemeyi başaramadı. Üstelik bu arada kendi sesini de kaybetti.

15. Paragraftan çıkarılacak **ana düşünce** aşağıdakilerden hangisidir?

- At sesi çok güzeldir.
- Kartalların sesi çok kötüdür.
- Başkasını taklit ederken bize ait olanı da kaybedebiliriz.
- Hayvanları sevmeliyiz.

Bir ormanda 2724 çam ağacı, 1409 kayın ağacı ve 4945 çınar ağacı vardı. Bu ağaçlardan 2079 tanesi kuruduğu için söküldü.

4. Buna göre son durumda ormanda kaç ağaç kalmıştır?

- a. 9078
b. 7001
c. 11157
d. 6999

5. Bir çiftlikte ineklerden günde toplam 280 litre süt sağıldığına göre iki haftada toplam kaç litre süt sağılır?

- a. 3920
b. 294
c. 1400
d. 1300



6. Aşağıdaki sayıların hangisinin yazılışı **yanlış verilmiştir?**

- | | | |
|--------------------------------------|---|--------|
| a. İki yüz elli altı bin yüz kırk üç | → | 256143 |
| b. Doksan dört bin on sekiz | → | 9418 |
| c. Beş bin dört yüz yirmi üç | → | 5423 |
| d. Sekiz yüz bin seksen sekiz | → | 800088 |

242×10

780×100

189×1000

500×10

7. Aşağıdakilerden hangisi üstteki çarpma işlemlerinden birinin sonucu değildir?

a. 189000

b. 2420

c. 7800

d. 5000

8. Müfide, Şadiye'den 25 yaş büyüktür. Hürü ise Müfide'den 5 yaş küçüktür. Şadiye 1985 yılında doğduğuna göre Hürü kaç yılında doğmuştur?

a. 1955

b. 1965

c. 2005

d. 2015

9. Bir belediye köylere su götürmek için ayda 479 metre su borusu döşemektedir. Buna göre bu belediye bir yılda toplam kaç metre su borusu döşeyebilir?

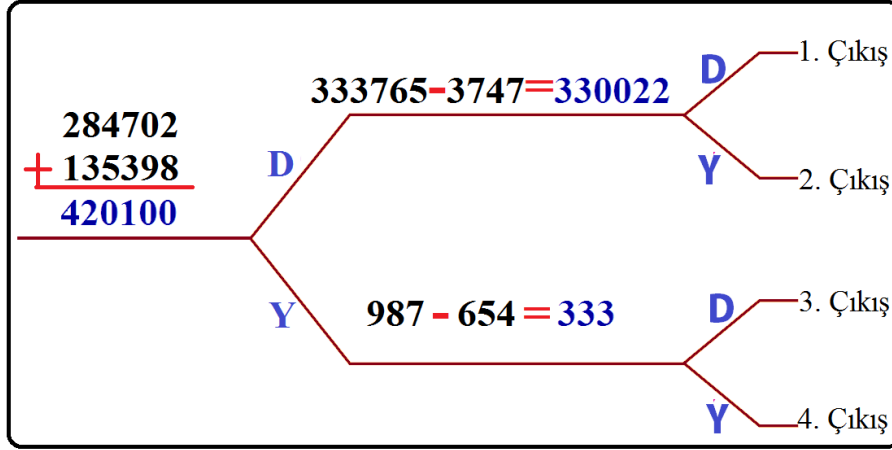
a. 491

b. 3353

c. 4790

d. 5748





10. Şemadaki işlemler doğru ise “D”, yanlış ise “Y” yolunu seçiniz. Kaçınıcı çıkışa ulaştınız?

- | | |
|-------------|-------------|
| a. 1. Çıkış | b. 2. Çıkış |
| c. 3. Çıkış | d. 4. Çıkış |

11. Dört basamaklı en büyük çift doğal sayının binler basamağındaki rakam 3 azaltılıp, birler basamağındaki rakam 1 arttırıldığında ortaya çıkan yeni sayı kaç olur?

- | | |
|---------|---------|
| a. 6999 | b. 7000 |
| c. 6998 | d. 471 |

12. Yandaki sayının **yüz binler** ve **onlar** basamağındaki rakamların basamak değerleri toplamı kaçtır?

- | | |
|-----------|------------|
| a. 3 | b. 21 |
| c. 20 010 | d. 200 010 |



DİĞER SAYFAYA GEÇİNİZ

13. Aşağıdaki işlemlerden hangisinin sonucu yanlıştır?

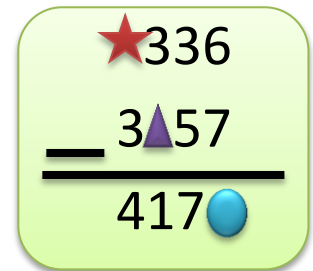
- a. $78\ 411 + 23\ 672 = 102\ 083$
b. $417\ 804 - 256\ 815 = 241\ 099$
c. $92\ 300 - 2\ 642 = 89\ 658$
d. $123\ 456 + 78\ 910 = 202\ 366$

14. Rakamları farklı üç basamaklı en büyük doğal sayının, iki basamaklı en küçük doğal sayı ile çarpımının sonucu kaçtır?

- a. 9870
b. 9999
c. 9990
d. 10009

15. Yandaki çıkarma işleminde sembollerin yerine yazılması gereken sayıların toplamı kaçtır?

- a. 14
b. 15
c. 16
d. 17



A subtraction problem is shown in a light green rounded rectangle. The top number is 336, with a red star above the first 3. The bottom number is 357, with a purple triangle above the 3 and a blue circle below the 7. A horizontal line is drawn between the two numbers. Below the line, the result 417 is written, with a blue circle below the 7.

MATEMATİK TESTİ BİTMİŞTİR.



FEN BİLİMLERİ TESTİ

BU BÖLÜMDE CEVAPLAYACAĞINIZ SORU SAYISI 10'DUR. CEVAPLAMAYA İSTEDİĞİNİZ SORUDAN BAŞLAYABİLİRSİNİZ. CEVAPLARINIZI CEVAP KÂĞIDININ FEN BİLİMLERİ BÖLÜMÜNE İŞARETLEYİNİZ. **BAŞARILAR.**

1. Aşağıdaki bilgilerden hangisi **yanlıştır**?

- a. Kayaçların içinde mineraller vardır.
- b. Dünya kendi etrafında dönmeseydi mevsimler meydana gelmezdi.
- c. Bor madeni dünyada en çok ülkemizde çıkarılmaktadır.
- d. Fosillerin oluşması yüzlerce yıl sürmektedir.





2. Aşağıdakilerden hangisi obezitenin sebeplerinden **değildir**?

- a. Her gün iki kilo meyve yemek
- b. Her besinden yeteri kadar yemek
- c. Uzun süre hareketsiz durmak
- d. Şekerli ve yağlı ürünleri çok fazla tüketmek

3. Paketlenmiş ürünlerin hangi özelliklerine **bakmayız**?

- a. Son kullanma tarihine
- b. Üretim yerine
- c. Besin içeriklerine ve katkı maddelerine
- d. Reklamının olup olmamasına

4. Alkol ve sigaranın zararları ile ilgili verilenlerden hangisi **doğrudur**?

- a.  Alkol akciğer, sigara karaciğer kanserine neden olur.
- b.  Sigara, sadece içen kişiye zarar verir.
- c.  Sigara, solunun yolu rahatsızlıklarına sebep olur.
- d.  Sigara içen kişiler daha çok karbonhidrat tüketir.

5. Aşağıdaki bilgilerden hangisi **yanlıştır**?

- a. Kalkış yapan uçak hızlanma hareketi yapar.
- b. Yerde duran topa vurulması kuvvetin şekil değiştirici etkisine örnektir.
- c. Kırmızı ışıkta frenine basılan araç yavaşlama ve durma hareketi yapar.
- d. Durağa yolcu almak için otobüsün yaklaşması yavaşlayan harekettir.

6. Aşağıdakilerden hangisinde kuvvetin farklı bir etkisi görülmektedir?

- a. Kaleye çekilen şutun direktten dönmesi
- b. Dünya'nın kendi etrafında dönmesi
- c. Tenis topunun rakete çarpıp dönmesi
- d. Voleybol topunun oyuncuların ellerinden dönmesi

7. Aşağıdakilerden hangisi uygulanan kuvvet ortadan kalktığında eski haline dönebilir?

- a. Oyun hamuru
- b. Tel
- c. Kağıt
- d. Bulaşık süngeri

8. Aşağıdaki bilgilerden hangisi doğrudur?

- a. Kuvvet, duran bir cisim üzerinde harekete geçme ve hızlanma etkisi yapabilir.
- b. Kuvvet uygulanan her cisim hızlanır.
- c. Hareket halindeki bir cisme hareketin tersi yönünde kuvvet uygulandığında cisim hızlanır.
- d. Kağıt, oyun hamuru, bakır tel gibi cisimler esnektir.

9. Merdivenden düşüp yaralanan Aslı, bir an önce iyileşmek için aşağıdaki besinlerden hangisini daha fazla tüketmelidir?

- a. Et, süt, yumurta
- b. zeytin, badem, ceviz
- c. lokum, baklava, pasta
- d. Elma, muz, mandalina

10. Aşağıdaki besinlerden hangisi karbonhidrat bakımından diğerlerinden daha zengindir?

- a. Ceviz, ayçiçeği, susam
- b. Bal, reçel, pekmez
- c. Zeytin, mısır, ceviz
- d. Et, süt, yumurta

FEN BİLİMLERİ TESTİ BİTTİ.



SOSYAL BİLGİLER TESTİ

BU BÖLÜMDE CEVAPLAYACAĞINIZ SORU SAYISI 10'DUR. CEVAPLAMAYA İSTEDİĞİNİZ SORUDAN BAŞLAYABİLİRSİNİZ. CEVAPLARINIZI CEVAP KAĞIDININ SOSYAL BİLGİLER BÖLÜMÜNE İŞARETLEYİNİZ. **BAŞARILAR.**

1. Aşağıda yön bulma yöntemleri ile ilgili ifadelerden hangisi **yanlıştır**?

- Karınca yuvalarının ağzı daima güneye bakar.
- Müslüman mezarlarının baş kısmı doğuyu, ayak kısmı batıyı gösterir.
- Kutup yıldızı daima kuzeyi gösterir.
- Ağaç ve duvarların yosunlu kısmı kuzeyi gösterir.



2. Yukarıdaki krokiye göre aşağıdaki ifadelerden hangisi **yanlıştır**?

- Devlet Hastanesi, çocuk parkının güneyindedir.
- Bizim ev, manavın doğusunda, elektrikçinin kuzeyindedir.
- Anadolu Lisesi, ilkokulun batısında, elektrikçinin kuzeybatısındadır.
- Eczane, manavın kuzeyinde, Anadolu Lisesi'nin güneyinde, elektrikçinin batısındadır.

3. Kurtuluş Savaşı'nda mücadele eden kahramanlarımız ile yer aldıkları cephelerin eşleştirmelerinden hangisi yanlıştır?

- a. Ali Saip Bey – Batı Cephesi
- b. Yörük Ali Efe – Batı Cephesi
- c. Kazım Karabekir – Doğu Cephesi
- d. Tayyar Rahmiye Hanım – Güney Cephesi

4. Aşağıdaki olaylardan hangisi diğerlerinden sonra olmuştur?

- a. Sakarya Meydan Muharebesi
- b. I. İnönü Savaşı
- c. Başkomutanlık Meydan Muharebesi
- d. İzmir'in işgali

5. Aşağıdaki bilgilerden hangisi yanlıştır?

- a. 1. Dünya Savaşı'nı bitiren antlaşma Lozan Barış Antlaşması'dır.
- b. İtilaf devletleri, İtalya, İngiltere ve Fransa'dır.
- c. Ankara Hükümeti'nin uluslararası alanda kazandığı ilk siyasi başarı Gümrü Antlaşması'dır.
- d. Atatürk, Erzurum Kongresi'nde, vatanın bölünmez bir bütün olduğunu vurgulamıştır.

6. Aşağıdaki oyunlardan hangisi geleneksel Türk çocuk oyunlarından biri değildir?

- a. Aşık oyunu
- b. Dalıye
- c. Topaç çevirme
- d. Tenis

7. Aşağıdakilerden hangisi milli kültür öğelerimiz arasında yer **almaz?**

- a. Sünnet töreni
- b. Kebap / Şalgam
- c. Pizza / Kola
- d. Çeyiz sandığı

8. Bir arkadaşımızın resmi kimlik belgesine bakarak aşağıdaki bilgilerden hangisini **öğrenemeyiz?**

- a. Yaşını
- b. Kardeşinin adını
- c. Doğum yerini
- d. Babasının adını

9. Aşağıdaki ifadeler ilgi/yetenek eşleştirmesi yapıldığında hangisi diğerlerinden farklıdır?

- a. Su altı dünyasını merak ediyorum.
- b. Futbol maçlarını takip ediyorum.
- c. Okulun voleybol takımında oynuyorum.
- d. Her akşam teleskopla gökyüzündeki cisimleri izliyorum.

10. Aile tarihi araştırması yapan Ali'nin, babaannesine aşağıdaki sorulardan hangisini sorması uygun **olmaz?**




- a. Nerede ve ne zaman doğdunuz?
- b. Komşunuzun çocuğunun adı neydi?
- c. Annem ve babam nerede ne zaman doğdu?
- d. Kaç kardeşiniz var?



İNGİLİZCE TESTİ

BU BÖLÜMDE CEVAPLAYACAĞINIZ SORU SAYISI 10'DUR. CEVAPLAMAYA İSTEDİĞİNİZ SORUDAN BAŞLAYABİLİRSİNİZ. CEVAPLARINIZI CEVAP KAĞIDININ İNGİLİZCE BÖLÜMÜNE İŞARETLEYİNİZ. **BAŞARILAR.**


1. Aşağıdakilerden hangisi **yanlıştır**?

- a.  Turkey b.  France
c.  Russia d.  Iran

2. Where is he from?



- a. He is from British. b. He is from American.
b. He is from Pakistani. d. He is from Germany.

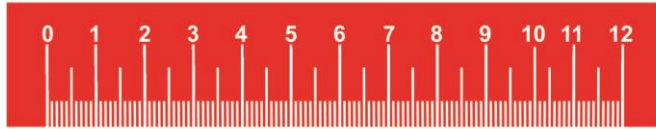


3. Çocuk hangisini söylemiş olabilir?

- a. I am from Turkey. b. Can you play guitar.
b. May come in? d. These are pencils.



4. What is this?



- a. desk b. table c. eraser d. ruler

5. Can he play football?

- a. Yes, he can't. b. Yes, she can.
c. No, he can't. d. Yes, he can.



6. What can she do?

- a. She can play guitar.
- b. She can jump.
- c. She can ride a bike.
- d. She can climb a tree.



7. Yandaki görsele göre hangisini söyleyebiliriz?

- a. She is German.
- b. She is from Iran.
- c. Her name is Ayşe.
- d. She can fly.



8. Haritaya göre aşağıdakilerden hangisi doğrudur?

- a. Sinop is in the south.
- b. Van is in the west.
- c. İzmir is in the east.
- d. Ordu is in the north.



9. Whose guitar this?

- a. It is his guitar.
- b. It is me.
- c. It is her guitar.
- d. It is guitar.



10. Çocuk ne demiştir?

- a. Open the door, please.
- b. Give me the book, please.
- c. The pencil, please.
- d. Look at the board.



İNGİLİZCE TESTİ BİTMİŞTİR.

4 ARALIK - DÜNYA MADENCİLER GÜNÜ

Bir avuç kömür için,
bir **ömür** verenlere

Selam olsun!
Dualarımız sizinle



İLKOKUL ETKİNLİKLERİ VE ALİ NERKİZ DENEME SINAVLARI

ANDS

<https://www.facebook.com/groups/andset>

