

STS



**ALİ NERKİZ
DENEME SINAVLARI**

4. Sınıf

..... İLKOKULU

4 / ... SINIFI

SENE BAŞI SEVİYE TESPİT SINAVI

Memleketi asıl aydınlığa boğacak sizsiniz"

ÖĞRENCİNİN ;

ADI SOYADI :

SINIFI : /

NO :

19 Nisan Ulusal Egemenlik ve
Çocuk Bayramı Kutlu Olsun!

ANDS







Derslerine çok fazla çalışmadı sınıfta kaldı.

Geriye üç dört kitap kaldı.













Ben de gelmek isterdim çok işim var.

3. Yukarıdaki cümlelerde boş bırakılan yerlere sırasıyla hangi ifadeler getirilmelidir?

- a. veya – için – ama
- b. bunun sonucunda – ya da – ama
- c. bu yüzden – ama – ya da

	Kalabalığı görünce çok şaşırılmıştı.
	Osman küçük bir kasabada yaşıyordu.
	Çünkü yaşadığı yer çok sakindi.
	Bir gün dedesiyle şehre gitti.

4. Yukarıdaki olaylar oluş sırasına göre sıralandığında sıralama nasıl olur?

- a.    
- b.    
- c.    

- I. Samsun'a II. çıktı III. Atatürk
IV. Vapuru'yla V. Bandırma

5. Yukarıdaki kelimeler kullanılarak kurallı ve anlamlı bir cümle oluşturulduğunda sıralama nasıl olmalıdır?

- a. I -II -III - IV -V b. III -I -V -II -IV
c. III - I- V -IV -II

6. Aşağıdaki cümlelerin hangisinde daha fazla türemiş kelime vardır?

- a. Gözlüğünü takan sütçü hemen yola koyuldu.
b. Denizciler iki gündür yemek yememişti.
c. Çocuk, bütün çiçekleri suladı.

Dünya kadar ödevim var.	■
Köpeğime araba çarpınca çok üzüldüm.	■
Kurt gibi acıktım.	■

7. Yukarıdaki cümleler duygusal ve abartılı cümleler olarak belirtildiğinde gruplama nasıl olur?

- a.

D
D
A

 b.

D
A
D

 c.

A
D
A



8. Aşağıdaki cümlelerden hangisi neden - sonuç cümlesi değildir?

- a. Babasının sevdiği yemekleri hazırlamış.
- b. Çok çalışmadığım için takıma giremedim.
- c. Yoğun kar yağışı yüzünden okullar tatil edildi.

9. Aşağıdaki cümlelerin hangisinde yazım yanlışı yapılmamıştır?

- a. Gişeden biletini alan genç adam sessizce tirene bindi ve yerine oturdu.
- b. İki haftadır bu turnuvaya hazırlanıyorlardı.
- c. Uzayan sakallarına önce kırem sürdü daha sonra tıraş bıçağını eline aldı ve tıraş olmaya başladı.

10. Aşağıdaki sözcüklerin hangisinde eş anlamlısı ve / veya zıt anlamlısı yanlış yazılmıştır?

	KELİME	EŞ ANLAMLILIK	ZİT ANLAMLILIK
a.	ıslak	yaş	kuru
b.	sevinç	mutluluk	neşe
c.	fakir	yoksul	zengin



11. Aşağıdaki atasözlerinin hangisinde varlığın özelliğini belirten bir sözcük kullanılmamıştır?

- a. Damlaya damlaya, göl olur.
- b. Ak akçe kara gün içindir.
- c. Bir elin nesi var, iki elin sesi var.

12. Aşağıdakilerin hangisinde ismin yerini tutan bir kelime kullanılmıştır?

- a. Pelin ile Cansu aynı okula gidiyorlar.
- b. Esra kitap okumayı, Ayhan müzik dinlemeyi sever.
- c. Onlar yaz tatili için İzmir'e gideceklermiş.



İnsanlar, gelirlerine göre harcama yapmalıdır.

13. Yukarıdaki çocuğun cümlesine en uygun atasözü aşağıdakilerden hangisidir?

- a. Ak akçe, kara gün içindir.
- b. Parayı veren, düdüğü çalar.
- c. Ayağını yorganına göre uzat.



Futbolda en çok hoşuma giden şey, bir futbolcunun gol atmasına takım arkadaşlarının da sevinmesidir. Bu güzel davranışta, başarının bütün takıma ait olduğunu görüyoruz. Yardımlaşma, dostluk, sevgi ve arkadaşlık duygularını böylece hissediyoruz.

14. Yukarıdaki paragraftan hangi sonucu **çıkaramayız?**

- Kazanma hırsıyla rakip oyuncuların incitilmesi yanlış bir davranıştır.
- Başarıya birlikte sevinmek güzel bir davranıştır.
- Arkadaşlar arasında yardımlaşmayla başarı elde edilebilir.

Tilkinin biri, ormanda keklikle karşılaşmış. demiş ki: “Ey güzel keklik! Maşallah, bu ne güzellik! Bir de gözlerini kapat, öyle seyredelim seni.” Keklik bu tatlı sözlere kanmış, gözünü kapatınca avlanmış. Üzüntü içinde demiş ki: ”Hele beni yaratıp da sana verene teşekkür et, sonra afiyetle yersin.” Tilki de kekliği haklı bulmuş. Teşekkür edip ağzını açınca keklik uçup canını kurtarmış.

15. Yukarıdaki metinde hikâye unsurlarından hangisine yer **verilmemiştir?**


- Yer
- Zaman
- Olay

TÜRKÇE TESTİ BİTMİŞTİR.



MATEMATİK TESTİ

BU BÖLÜMDE CEVAPLAYACAĞINIZ SORU SAYISI 15'TİR. CEVAPLAMAYA İSTEDİĞİNİZ SORUDAN BAŞLAYABİLİRSİNİZ. CEVAPLARINIZI CEVAP KÂĞIDININ MATEMATİK BÖLÜMÜNE İŞARETLEYİNİZ. **BAŞARILAR.**



1. Yukarıdaki grafiğe göre Ceyhan'ın bir aylık hava durumunun **çetele tablosu** aşağıdakilerden hangisidir?

a.

Hava durumu	Gün sayısı
Güneşli	
Bulutlu	
Yağmurlu	

b.

Hava durumu	Gün sayısı
Güneşli	
Bulutlu	
Yağmurlu	

c.

Hava durumu	Gün sayısı
Güneşli	
Bulutlu	
Yağmurlu	



Lokanta için alışveriş yapan Muharrem kilosu **2 TL** olan patateslerden **bir çuval**, kilosu **3 TL** olan soğanlardan **iki çuval** almıştır.

2. Buna göre Muharrem bu alışveriş için ne kadar ödemiştir?

- a. 100 b. 64 c. 38

$$45 \xrightarrow{\times 8} \dots \xrightarrow{-317} \dots \xrightarrow{+53} \dots \xrightarrow{\div 6} ?$$

3. Yukarıdaki işlemin sonucu kaçtır?

a. 96

b. 46

c. 16

4. Sevil, damacanadaki **19 litre** zeytinyağını **yarım litrelik** şişelere boşaltmak istiyor. Bu iş için Sevil'e kaç şişe gerekir?

a. 9

b. 19

c. 38

$$\begin{array}{r} 48 \ 7 \\ \hline \end{array}$$

$$\begin{array}{r} 69 \ 6 \\ \hline \end{array}$$

$$\begin{array}{r} 84 \ 3 \\ \hline \end{array}$$

5. Yukarıdaki bölme işlemlerindeki **kalanların toplamı** kaçtır?

a. 9

b. 45

c. 54

Bir okulda toplam **8 sınıf** vardır. Meral öğretmen **175** bayrağın **35** tanesini bir sınıfa vermiş, kalan bayrakları da diğer sınıflara **eşit olarak** dağıtmıştır.

6. Buna göre diğer sınıfların her birine kaç bayrak dağıtılmıştır?

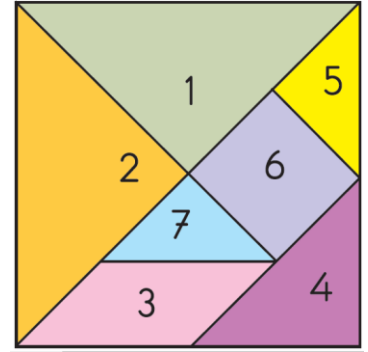
a. 20

b. 25

c. 30

7. Yandaki şekle göre aşağıdaki bilgilerden hangisi yanlıştır?

- a. 6 numaralı şeklin tüm açıları dik açıdır.
- b. 3 numaralı şeklin tüm açıları dar açıdır.
- c. 4 numaralı şekilde bir tane dik açı, iki tane dar açı vardır.



Nihal, her gün öğleden önce **32**, öğleden sonra **48** sayfa kitap okumaktadır.

8. Buna göre Nihal bir haftada kaç sayfa kitap okur?

a. 80

b. 490

c. 560

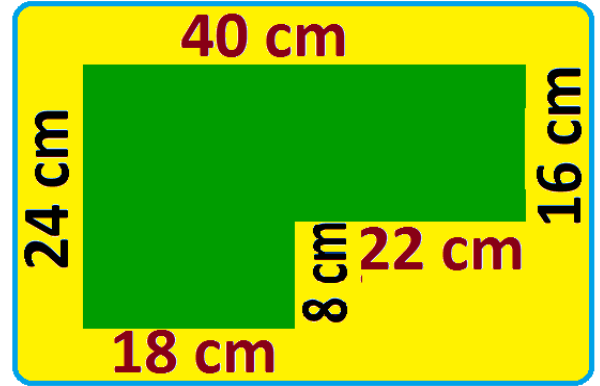
9. Yandaki çarpma işlemine göre **A x B** işleminin sonucu kaçtır?

- a. 8
- b. 15
- c. 18

$$\begin{array}{r} 7 \text{ A} \\ \times \text{ B } 4 \\ \hline 292 \\ + 365 \\ \hline 3942 \end{array}$$

10. Yanda verilen şeklin çevre uzunluğu aşağıdakilerden hangisidir?

- a. 1 m 28 cm
- b. 118 cm
- c. 64 cm



Anavarza Kalesi'ni cuma günü **146**, cumartesi günü **271**, Pazar günü de **484** kişi ziyaret etmiştir.

11. Kişi sayıları en yakın onluğa yuvarlandığında üç günde **yaklaşık** kaç kişi kaleyi ziyaret etmiştir?

- a. 890
- b. 900
- c. 910

Temel kırtasiyeden **4 düzine** hikâye kitabı almıştır.
Bu kitapları da **6** torununa **eşit olarak** paylaşmıştır.

- 12. Buna göre her bir toruna kaç kitap düşmüştür?**
- a. 12 b. 10 c. 8

Mustafa, misafirlige gelen kuzeni ile **Anıtkabir**'e gidip gelmek için annesinden **105 dakika** izin almıştır.

- 13. Evden saat 14:00'da çıkan Mustafa ve kuzeni saat kaçta eve dönmelidir?**
- a. 14: 15 b. 15:45 c. 16:05

Murat, kumbarasında biriktirdiği **190 TL** ile alışverişe çıktı. Murat bir gömlek ve bir pantolon aldı.

- 14. Gömlek 64 TL, pantolon ise gömlekten 15 TL daha fazla olduğuna göre Murat'ın cebinde kaç lira kalmıştır?**
- a. 47 b. 111 c. 143

- 15. Bir çiftlikteki 80 hayvanın $\frac{1}{8}$ 'i inek, 24 tanesi koyundur. Geriye kalanlar da keçi olduğuna göre çiftlikteki keçi sayısı kaçtır?**
- a. 32 b. 34 c. 46

MATEMATİK TESTİ BİTMİŞTİR.

FEN BİLİMLERİ TESTİ

BU BÖLÜMDE CEVAPLAYACAĞINIZ SORU SAYISI 10'DUR. CEVAPLAMAYA İSTEDİĞİNİZ SORUDAN BAŞLAYABİLİRSİNİZ. CEVAPLARINIZI CEVAP KÂĞIDININ FEN BİLİMLERİ BÖLÜMÜNE İŞARETLEYİNİZ. **BAŞARILAR.**



1. Yukarıdakilerden hangileri elektrik kaynağıdır?



MEHMET

Ucu sivri eşyaları göz, deri, kulak gibi organlarımızdan uzak tutmalıyız.



OKTAY

Dünya'nın en iç tabakasına manto denir.



AYŞE

Uzaktan gelen bir geminin önce dumanını, sonra bacasını ve son olarak da geminin kendisini görürüz.



BEGÜM

Grip olan birisi meyvenin kokusunu alamaz ama tadını alabilir.

2. Yukarıdaki çocuklardan hangilerinin verdiği bilgiler doğrudur?

a. MEHMET ve OKTAY

b. AYŞE ve BEGÜM

c. MEHMET ve AYŞE

3. Aşağıdakilerden hangisi doğal çevreye örnek gösterilemez?

a.



OYUN PARKI

b.



ORMAN

c.

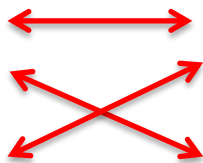


DAĞLAR


Bulaşık Makinesi	Pil
TV Kumandası	Batarya
Cep Telefonu	Şehir Elektrikliği

4. Yukarıda verilen aletler ile kullanılan elektrik kaynağı eşleştirmesi yapıldığında nasıl bir görüntü ortaya çıkar?

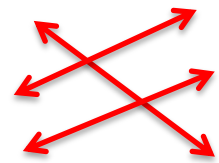
a.






b.



c.



5. Aşağıda elektrikli aletlerin kullanımı ile ilgili verilen bilgilerden hangisi yanlıştır?

- a.  Elektrik kaynağına su ile temas etmem.
- b.  Elektrikli aletleri kapatmadan fişini çekerim.
- c.  Sivri, metal cisimleri prizlere sokmam.

6. Aşağıdaki bilgilerden hangisi yanlıştır?

- a. Gitar, radyo ve kedi yapay ses kaynaklarıdır.
- b. Megafon, hoparlör gibi cihazlar sesin şiddetini artırır.
- c. Güneş, yıldızlar ve ateş böceği doğal ışık kaynaklarıdır.



7. Yukarıdaki maddelerin özellikleri hangisinde doğru olarak belirtilmiştir?

	AYNA	AYICIK	SÜNGER
a.	Kırılğan-Sert	Yumuşak	Esnek - Pürüzlü
b.	Sert -Pürüzlü	Esnek – Sert	Yumuşak- Kırılğan
c.	Esnek - Kırılğan	Yumuşak	Pürüzlü - Esnek



- I. Bitkiler hareket etmezler. Bu yüzden cansız varlıklardır.
- II. Denizdeki sular hareket ettiği için canlı varlıklardır.
- III. Hava, su ve toprak cansız varlıklardır.
- IV. Hayvanlar ve bitkiler canlı varlıklardır.

8. Yukarıdaki bilgilerden hangileri doğrudur?

- a. I ve II b. I, II ve IV c. III ve IV

9. Aşağıdaki oyunların hangisinde itme kuvveti uygulanmamaktadır?



Bilek Güreşi






Halat Çekme



Futbol

10. Aşağıdaki çocuklardan hangisinin bilinçli bir tüketici olduğu söylenebilir?

- a.  Alışveriş yaparken ihtiyaçlarıma değil isteklerime öncelik veririm.
- b.  Hava aydınlık ise ışıkları açmam.
- c.  Kâğıt geri dönüştürülebilir bir madde olduğu için istediğim kadar kullanabilirim.

FEN BİLİMLERİ TESTİ BİTTİ.



İNGİLİZCE TESTİ

BU BÖLÜMDE CEVAPLAYACAĞINIZ SORU SAYISI 10'DUR. CEVAPLAMAYA İSTEDİĞİNİZ SORUDAN BAŞLAYABİLİRSİNİZ. CEVAPLARINIZI CEVAP KAĞIDININ İNGİLİZCE BÖLÜMÜNE İŞARETLEYİNİZ. **BAŞARILAR.**

1. -  is she?

- She is my 

a.  What

b. Who

c. Who

 father

brother

sister



It's big and heavy. It's colour is brown. It can run fast.

2. Yukarıda bahsedilen hayvan hangisidir?

a.



b.



c.



It is my

It is

It is

3. Yandaki resme göre boş üstte bırakılan yerlere sırasıyla hangi ifadeler gelmelidir?

a. button square yellow and red

b. kite square yellow and blue

c. kite round pink and black



4. Aşağıdaki eşleştirmelerden hangisi **yanlıştır**?

a.



He can playing guitar.

b.



He can flying a kite.

c.



He can playing tennis.

5. My brother and sister in the ..?..

My ball is ..?. the armchair.

- a. bedroom – under
- b. kitchen – in
- c. living room – on



1



2



3



▲ plane

● bus

★ ship

6. Yukarıdaki görsellerle adlarının eşleştirmesi hangisinde doğru olarak verilmiştir?

a. 1 ▲ - 2 ● - 3 ★

b. 1 ★ - 2 ▲ - 3 ●

c. 1 ● - 2 ▲ - 3 ★

7. Where is Kadir?

- a. He is at the zoo.
- b. He is at the hospital.
- c. He is at the park.



8. How is the weather in Erzurum?

- a. It's snowy.
- b. It's sunny.
- c. It's rainy.




9.



Are there four ladybirds?

- a. Yes, there are.
- b. No, there are eight ladybirds.
- c. No, there are six ladybirds.



10. Aşağıdaki eşleştirmelerden hangisi yanlıştır?

a.



FROG

b.



SEAGULL

c.



BEE

İNGİLİZCE TESTİ BİTMİŞTİR.



**YENİ EĞİTİM – ÖĞRETİM
YILINDA
TÜM ÖĞRETMEN,
ÖĞRENCİ VE
VELİLERİMİZE
BAŞARILAR DİİLİYORUZ.**

ALİ NERKİZ DENEME SINAVLARI (KDS) VE 1-2-3-4. SINIF ETKİNLİKLERİ

ANDS

<https://www.facebook.com/groups/andset/>