


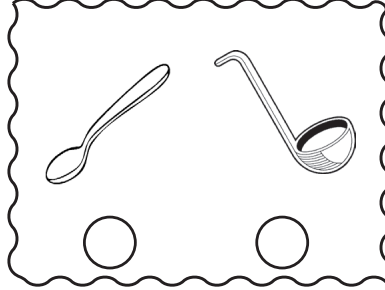




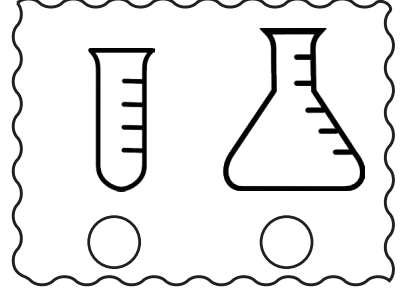



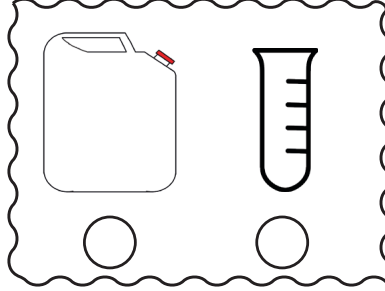



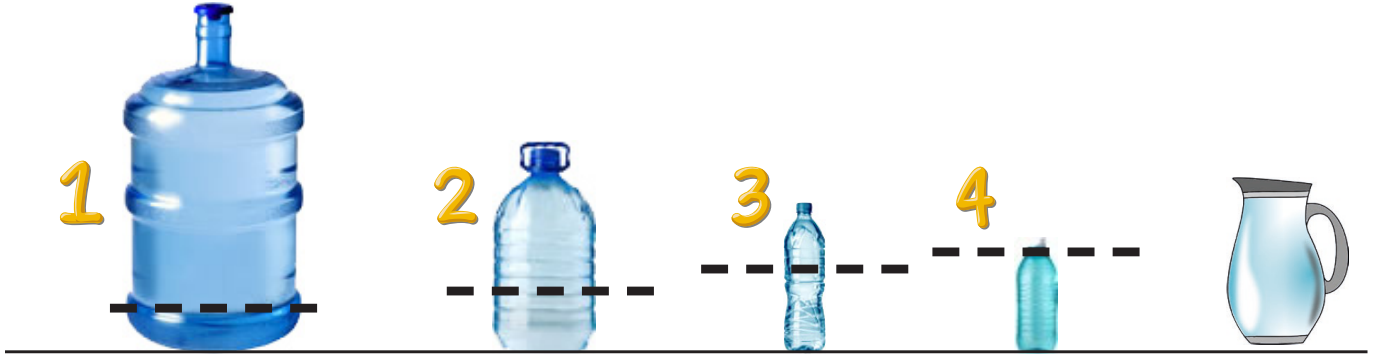


# SIVI ÖLÇÜLERİ

● Aşağıdakilerden hangisi diğerine göre daha fazla sıvı alır? İşaretleyin.



● Aşağıdaki resimleri dikkatlice inceleyiniz. Sonrasında doğru olan cümlelerin başındaki kutucuğa "d", yanlış olanların ise "y" yazınız.



Yukarıdaki şişelerin hepsine yanda verilen sürahi ile birer sürahi su koyulmuştur. Su doluluktan sonra şişelerdeki su seviyesi yukarıda işaretlenmiştir.

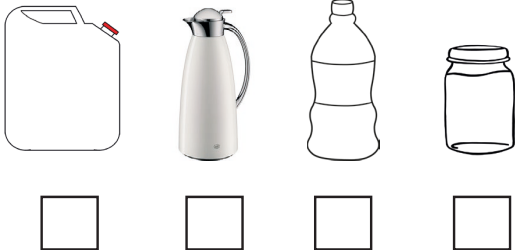
Hepsi tamamen su doldurulduğunda en fazla 2. şişe su alır.

Şişelerin tamamında su miktarı birbirine eşittir.

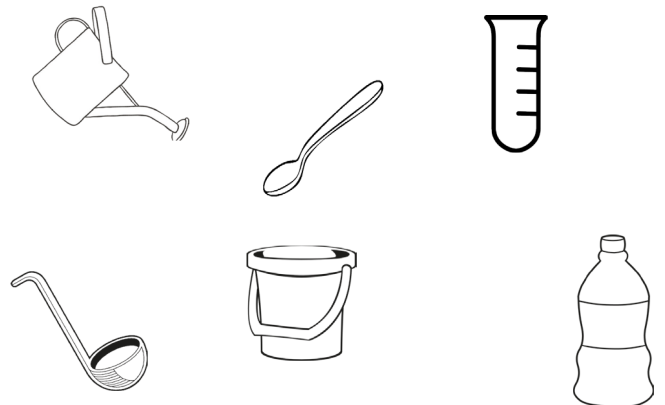
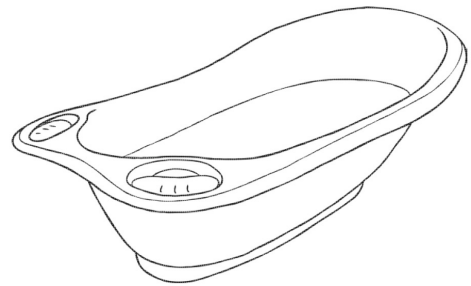
4. şişe ile sürahi aynı miktarda su alır.

Şu anda en fazla su 4. şişede bulunmaktadır.

● Tamamen dolu olduklarında en çok sıvı alandan en az sıvı alana doğru şişeleri sıralayınız.



● Aşağıdaki küveti hangi kabı kullanarak diğerlerinden daha hızlı bir şekilde doldurabiliriz. Yuvarlak içine alınız.




- Aşağıdaki soruları dikkatlice okuyup cevaplayınız.



1 Sürahi 2 şişe, 1 şişe 4 su bardağı, 1 su bardağı ise 3 çay bardağı sıvı almaktadır.

- Verilen bilgilere göre aşağıdaki soruları yanıtlayınız.

Bir sürahi, kaç su bardağı meyve suyu doldurur? ..... su bardağı  
İki sürahi su kaç tane şişeyi doldurur? ..... şişeyi  
Bir sürahiden kaç çay bardağı su çıkar? ..... çay bardağı  
Bir şişe limonatadan kaç çay bardağı limonata çıkar? ..... çay bardağı  
16 su bardağı su ile kaç sürahi doldurulabilir? ..... sürahi  
12 çay bardağı sıvı ile kaç şişe doldurulabilir? ..... şişe



1 damacana 8 sürahi, 1 sürahi 4 su bardağı, 1 su bardağı ise 3 çay bardağı sıvı almaktadır.

- Verilen bilgilere göre aşağıdaki soruları yanıtlayınız.

Bir damacana su kaç su bardağı ile dolar? ..... su bardağı  
Bir sürahi kaç çay bardağı ile dolar? ..... çay bardağı  
İki damacana su kaç sürahi ile dolar? ..... sürahi  
24 su bardağı su kaç sürahiye doldurur? ..... sürahi  
İki sürahi kaç su bardağı su ile dolar? ..... su bardağı  
9 çay bardağı limonata kaç su bardağını doldurur? ..... su bardağı  
12 su bardağı su kaç sürahiye doldurur? ..... sürahi  
15 çay bardağı meyve suyu kaç su bardağı meyve suyu eder? ..... su bardağı  
21 çay bardağı su kaç su bardağını doldurabilir? ..... su bardağı