






# 2 İLE ÇARPMA İŞLEMİ

● Aşağıdaki vişnelerin sayısını örnekteki gibi bulunuz.



  $1 \times 2 = 2$

  .....  $\times$  ..... = .....









   .....  $\times$  ..... = .....

    .....  $\times$  ..... = .....

     .....  $\times$  ..... = .....

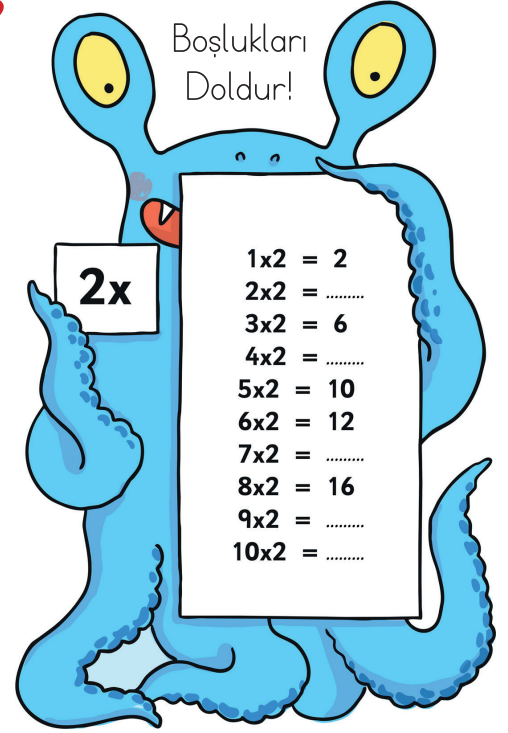
      .....  $\times$  ..... = .....

       .....  $\times$  ..... = .....

        .....  $\times$  ..... = .....

         .....  $\times$  ..... = .....

          .....  $\times$  ..... = .....



● Vazolardaki çiçeklerin sayısını çarpma işlemi kullanarak örnekteki gibi bulunuz.



$3 \times 2 = 6$



.....  $\times$  ..... = .....



.....  $\times$  ..... = .....



.....  $\times$  ..... = .....

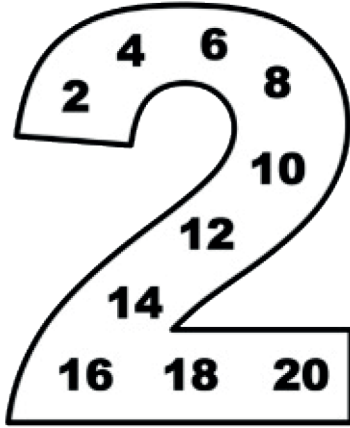
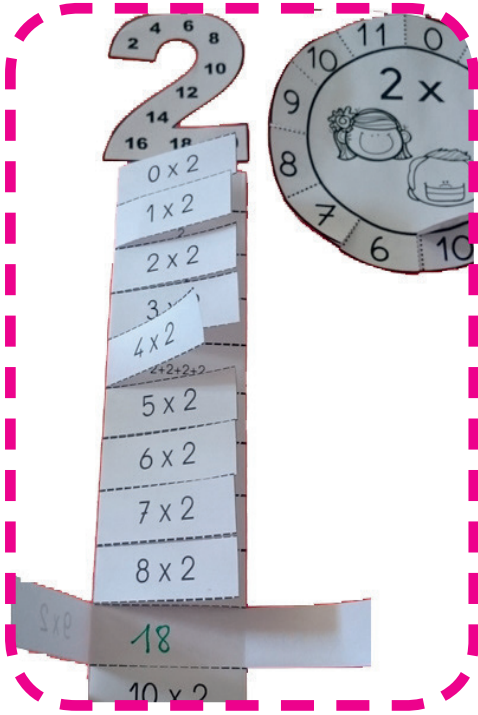


.....  $\times$  ..... = .....

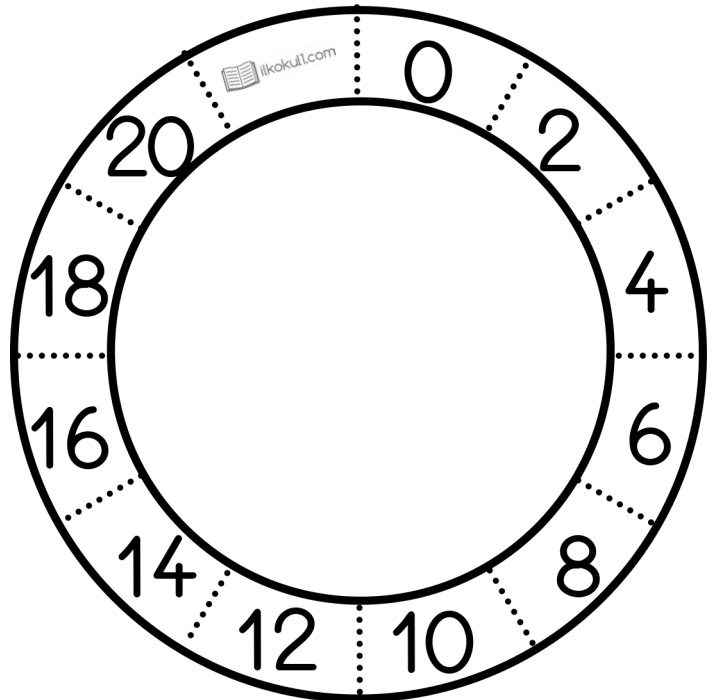



.....  $\times$  ..... = .....

● Aşağıdaki çalışmaları kesip defterine yapıştırabilirsin.



		$0 \times 2$
2		$1 \times 2$
$2+2$		$2 \times 2$
$2+2+2$		$3 \times 2$
$2+2+2+2$		$4 \times 2$
$2+2+2+2+2$		$5 \times 2$
$2+2+2+2+2+2$		$6 \times 2$
$2+2+2+2+2+2+2$		$7 \times 2$
$2+2+2+2+2+2+2+2$		$8 \times 2$
$2+2+2+2+2+2+2+2+2$		$9 \times 2$
$2+2+2+2+2+2+2+2+2+2$		$10 \times 2$



● Aşağıdaki verilen çarpma işlemlerini yapınız.

$$\begin{array}{r} 5 \\ \times 2 \\ \hline \end{array}$$

$$\begin{array}{r} 6 \\ \times 2 \\ \hline \end{array}$$

$$\begin{array}{r} 1 \\ \times 2 \\ \hline \end{array}$$

$$\begin{array}{r} 4 \\ \times 2 \\ \hline \end{array}$$

$$\begin{array}{r} 8 \\ \times 2 \\ \hline \end{array}$$

$$\begin{array}{r} 9 \\ \times 2 \\ \hline \end{array}$$

$$\begin{array}{r} 10 \\ \times 2 \\ \hline \end{array}$$

$$\begin{array}{r} 2 \\ \times 2 \\ \hline \end{array}$$


$$\begin{array}{r} 3 \\ \times 2 \\ \hline \end{array}$$

$$\begin{array}{r} 7 \\ \times 2 \\ \hline \end{array}$$

● Aşağıda bazı ürünler ve fiyatları verilmiştir. Problemleri verilen bilgilere göre yanıtlayınız.



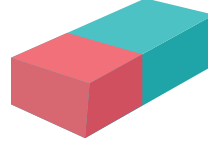
6 ₺



2 ₺



5 ₺



3 ₺



4 ₺

1 2 tane makas alan bir kişi kaç lira ödeme yapar?

4 Deniz 2 tane suluboya aldı. Eylül de 2 tane makas aldı. Buna göre Deniz, Eylül'den kaç ₺ fazla para harcamıştır?

2 2 tane silgi ve 2 tane kalemtraş alan bir kişi kaç lira ödeme yapar?

5 Silgi, suluboya ve makastan ikişer tane alan bir kişi kaç lira ödeme yapar?

3 2 tane cetvel alıp 10 ₺ ödeme yapan bir kişi kaç ₺ para üstü alır?

6 2 kalemtraş ve 2 cetvel alan bir öğrenci kaç ₺ ödeme yapar?