

ÇANAKKALE GEÇİLMEZ

Birlik olup saldırdı, düşmanın askerleri.
Toz dumanlar kapladı, Çanakkale'de her yeri.
Hesaba katmamışlar, onbaşı Seyit'leri,
O gün destan yazmıştı, Türk'ün şanlı askeri.



Boğazları almak için, çetin savaşa girdiler,
"Çanakkale geçilmez!" Bunu düşünmediler.
Denizden saldırınca, hemen alırsız dediler,
Türk'ün direnmesiyle, ağır kayıp verdiler.



Yüce Allah bir daha, göstermesin savaşlar,
Analar akıtmazın, mutlu gözlerden yaşlar.
Asla eğilmeyecek, gururludur bu başlar.
Dünyaya hakim olsun; özgürlükler, barışlar.

İSMET KAYA



1. Düşmanlar kimi hesaba katmadan, vatanımıza saldırıya geçmişler?

2. Düşman kuvvetlerinin topraklarımıza saldırma sebebi nedir?

3. Şiire göre, şair dünyaya neyin hakim olmasını istiyor?

4. Çanakkale zaferi hangi tarihte kutlanıyor? Öğrenip yazınız.

ÇARPMA VE BÖLME DEĞERLENDİRME ETKİNLİĞİ

● Aşağıdaki ifadeleri okuyunuz. Doğru olanların başına "D", yanlış olanların başına "Y" yazınız. (5 P)

- 1 () Bir doğal sayıyı "1" ile çarparsak, sonuç sayının kendisine eşit olur.
- 2 () Bölme işlemi toplama işleminin kısa yoldan yapılmasıdır.
- 3 () 12 tane kalem dörderli gruplarsak her grupta altı ceviz bulunur.
- 4 () Bir doğal sayıyı "0" ile çarparsak sonuç "0" olacaktır.
- 5 () $15 : 3 = 5$ işleminde 15 sayısına bölünen, 3 sayısına bölen, 5 sayısına bölüm denir.

● Aşağıdaki 3 sütunda verilenlerden aynı çarpma işleminini ifade edenleri örnekteki gibi eşleştiriniz. (10 P)

$2 + 2 + 2 + 2$	$2 + 2 + 2 + 2 + 2$	$3 + 3 + 3$
5×2	$3 + 3 + 3 + 3$	5 defa 2
2 defa 5	4 kere 2	3 kere 4
3×4	2×5	4×2
4 kere 3	$4 + 4 + 4$	4×3
3×3	3 kere 3	$5 + 5$

● Aşağıdaki işlemlerden sonuçları aynı olanları eşleştiriniz. (5 P)

$1 \times 4 = \dots\dots\dots$ ●

● $3 \times 4 = \dots\dots\dots$

$4 \times 3 = \dots\dots\dots$ ●

● $2 \times 4 = \dots\dots\dots$

$3 \times 2 = \dots\dots\dots$ ●

● $5 \times 2 = \dots\dots\dots$


$2 \times 5 = \dots\dots\dots$ ●

● $2 \times 3 = \dots\dots\dots$

$4 \times 2 = \dots\dots\dots$ ●

● $4 \times 1 = \dots\dots\dots$

● Aşağıdaki varlıkları istenilen sayıda gruplayınız. Ardından boşlukları doldurunuz. (10 P)



..... bademi eşit olarak;

İkişerli gruplarsak her gruba badem düşer.

Üçerli gruplarsak her gruba badem düşer.

Dörderli gruplarsak her gruba badem düşer.



..... antep fıstığını eşit olarak;

İkişerli gruplarsak her gruba badem düşer.

Dörderli gruplarsak her gruba badem düşer.

Beşerli gruplarsak her gruba badem düşer.


● Aşağıdaki problemleri çözünüz. (20 P)

1 Emre tanesi 4 lira olan kalemlerden 3 kalem alırsa satıcıya kaç lira ödeme yapması gerekir?

2 Nazım 2 yaşındadır. Ablasının yaşı Nazım'ın yaşının 4 katından 2 fazladır. Buna göre Nazım'ın ablası kaç yaşındadır?

3 Evimizde 2 tane akvaryum var. Her akvaryumun içinde 5 tane balık olduğuna göre evimizde toplam kaç balık vardır?

4 Yandaki ağaçtaki elmaların 3 katının 2 eksiği kaç elma eder?



● Aşağıdaki test sorularını yanıtlayınız. (50 P)

1 Ayşegül, bakkaldan tanesi 2 lira olan çikolatalardan 4 tane alıyor. Nuray, bakkala kaç lira ödemelidir?

A. 6 B. 8 C. 10

2 Buse, pazardan kilosu 6 TL olan Eriklerden 3 kilo alıyor. Buse, pazarcıya 20 TL verdiği göre kaç TL para üstü almalıdır?

A. 18 B. 20 C. 2

3 Aşağıdaki çarpma işlemlerinden hangisi yanlış yapılmıştır?

A. $3 \times 0 = 3$

B. $5 \times 1 = 5$

C. $1 \times 0 = 0$

4 $5 \times \triangle = 5$ ise $\triangle \times \triangle$ işleminin sonucu kaç olur?

A. 0 B. 1 C. 5

5 Aşağıdaki vişnelerin sayısı hangi seçenekteki ifade ile anlatılmalıdır?



A. 2 tane 6, 12 eder.

B. 3 tane 4, 12 eder.

C. 4 tane 3, 12 eder.

6 21 tane cevizi 3'erli gruba ayırırsak kaç tane grup olur?

A. 3 B. 6 C. 7

7 14'ün 4 fazlası kadar şeker, 2'şerli gruplara ayrılırsa kaç grup olur?

A. 9 B. 8 C. 7

8 27 top 3 takıma eşit olarak paylaştırıldığına göre her takıma kaç top düşer?

A. 9 B. 7 C. 6

ilkokul.com

4×0

2×1


1×4

2×0

9 Yukarıdaki çarpma işlemlerinin kaç tanesinin sonucu aynıdır?

A. 2 B. 3 C. 4

10 Aşağıdaki parmakların sayısını ifade eden işlem hangi seçenekte verilmiştir?



A. 3×5

B. 5×3

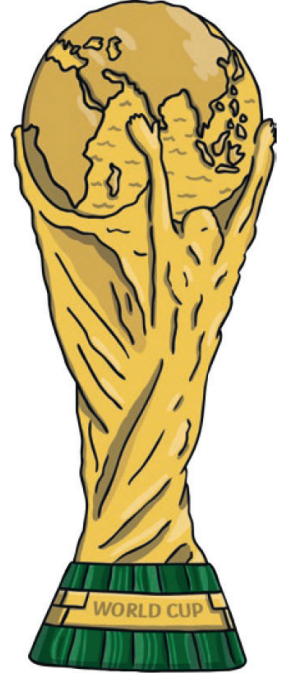
C. $3 + 5$

DÜNYA KUPASI

Dünya Kupası bir futbol organizasyonudur. Dünyanın her kıtasından ülkelerin futbol takımları en iyi olduklarını kanıtlamak için Dünya Kupası'na katılırlar. Dünya Kupası 4 yılda bir yaz aylarında düzenlenmektedir.

Bu yaz Rusya'da düzenlenecek olan turnuva, 14 Haziran günü başlayıp 15 Temmuz günü sona erecek. Birbirinden heyecanlı maçlar oynanacak ve kazanan ülke yanda gördüğünüz kupanın sahibi olacak.

İlk dünya kupası 1930 (bin dokuz yüz otuz) yılında Uruguay'da düzenlenmiştir. 13 ülke milli takımının katıldığı turnuvayı Uruguay kazanmıştır. O yıldan beri 20 kez düzenlenen kupaya bu yıl 32 ülkenin milli futbol takımları katılacak. Birbirinden heyecanlı 64 maçın sonunda kupa sahibini bulacak.



Dünya Kupası daha önce birbirinden farklı ülkelerde düzenlenmiştir:

2014 (iki bin on dört) yılında Brezilya'da,

2010 (iki bin on) yılında Güney Afrika'da

2006 (iki bin altı) yılında Almanya'da düzenlenmiştir.



Türkiye en son 2002 (iki bin iki) yılında Dünya Kupası'na katılmış ve turnuvayı 3. olarak tamamlamıştır.

Bazı ülkeler Dünya Kupası'nı diğer ülkelere göre daha fazla sayıda kazanmıştır. Şimdiye kadar düzenlenen kupalarda en başarılı ülke Brezilya'dır. Tam 5 kez Dünya Kupası'nı kazanmıştır.

Brezilya'nın ardından Almanya ve İtalya Dünya Kupasını 4'er defa kazanmıştır.

● Aşağıdaki soruları metne göre yanıtlayınız.

1. Dünya Kupası kaç yılda bir yapılıyor?

2. Bu yıl Dünya Kupası hangi ülkede düzenlenecek?

3. Bu yıl Dünya Kupası hangi tarihler arasında oynanacak?

4. İlk Dünya Kupası hangi ülkede yapıldı?

5. İlk Dünya Kupası'na kaç ülke katıldı? Hangi ülke kazandı?

6. En çok Dünya Kupası kazanan ülke hangisidir?

7. Türkiye Milli Takımı en son ne zaman Dünya Kupası'na katıldı?

● Aşağıdaki bilgilerle sayıları eşleştiriniz.

2010

İtalya ve Almanya'nın kazandığı kupa sayısı

64

Brezilya'nın kazandığı Dünya Kupası sayısı

13

Türkiye'nin son olarak Dünya Kupası'na katıldığı sene

5


Güney Afrika'da düzenlenen Dünya Kupası'nın yılı

4

Uruguay'da düzenlenen kupa katılan ülke sayısı

2002

Dünya Kupası'nda oynanacak maç sayısı





Türkçe Değerlendirme

SEVGİLİ ÖĞRETMENİM

Sabahleyin en erken,
Her zaman seversiniz,
Yataktan kalkan benim.
Bilgiler verirsiniz.

Okulumu koşarken,
Kalbiniz sevgiyle dolu,
Günaydın öğretmenim.
Biricik öğretmenim.

İlk 4 soruyu metne göre cevaplayınız.

1 -Sabahleyin en erken kalkan kimdir?
A) Öğretmen B) Öğrenci

C) Annesi

2-Şiirin 2. kıtasındaki eş sesli kelime hangisidir?

A) Bu

B) Kalp

C) Dolu

3-"Kalbiniz sevgiyle dolu" tümcesinde altı çizili sözcüğün eş anlamlısı hangisidir?

A) Yürek

B) Hasret

C) Gönül

4-Şair bu şiiri hangi duygu içerisinde yazmıştır?

A) Okul sevgisi

B) Çalışma sevgisi

C) Öğretmen sevgisi

5- Aşağıdakilerden hangisinin adı alfabetimizin 8. Harfi ile başlamaktadır?



6-Aşağıdakilerden hangisi çoğul addır?
A) Yular B)Güler

C) Güller

7- Hangi cümlede "MENDİL" kelimesinin özelliğini bildiren bir sözcük yoktur?

A) Onlara mendil salladım.

B) Yanınızda sürekli temiz mendil bulundurun.

C) Arkadaşımın beyaz mendilini çok beğendim.

10-" aşağı - yukarı " arasında bir anlam ilişkisi vardır. Aşağıdaki sözcük gruplarının hangisinde aynı ilişki vardır?

A) okul - mektep

B) yoksul - fakir

C) siyah - beyaz

11 - " Ali () Eren () Özge ve Okan bugün okula geldiler mi ()" tümcesinde () yerine hangi noktalama işaretleri konulmalıdır?

A) (,) (,) (.)

B) (,) (,) (!)

C) (,) (,) (?)

1 2-"Bu biberler çok acıymış.." cümlesinde altı çizili sözcük yerine hangisi getirilirse cümlenin anlamı tam tersi olur?

- A) sert B) tatlı
C) tuzlu

1 3-"kilolu.." sözcüğünün sesli harfleri aşağıdaki seçeneklerden hangisinde doğru olarak verilmiştir?

- A) i, o, l B) k, o, u
C) i,o, u

1 4-Aşağıdaki cümlelerin hangisinin sonuna soru işareti (?) getirilmelidir?

- A) Ödevlerini eksik yapmışsın
B) Ödevini neden yapmadın
C) Ödevime annem yardım etti

1 5- Aşağıdakilerden hangisi hecelerine doğru ayrılmıştır?

- A) Sar-ı-göl B) Ar-t-vin
C) A-da-na

1 6-Aşağıdaki sözcüklerden hangisi hecelerine yanlış ayrılmıştır?

- A- Ha-re-ket
B- Ren-k-le-ri
C- İr-kil-mek

1 7-" İki hafta önce cam kırıldı.." cümlesinde eylem olan sözcük hangisidir?

- A-kırıldı
B-cam
C-önce

1 8-"Sarı çiçeği ona verir misin?.." cümlesinde hangi sözcük varlığın rengini bildirmektedir?

- A) çiçeği
B) sarı
C) ona

1 9-Hangi sözcük grubu anlam ilişkisi yönünden diğerlerinden farklıdır?

- A) zengin-fakir
B) arka-ön
C) ev-hane

20-Hangi cümlede bir duygu ifade edilmektedir?

- A) Denize düşünce çok korktum.
B) Doğum gününe on bir ay varmış.
C) Doktorlar,ameliyatta beş saat kalmışlar.

21 -"Hasta olmuştum yine de işime gittim.." cümlesindeki noktalı yere hangi sözcük gelirse anlamlı olur?

- A) çünkü
B) ama
C) gibi

22- Hangisi anlamlı ve kurallı bir cümledir?

- A) Bizi tanımadı içeri giren adam.
B) Giydiği elbise ona yakıştı.
C) Üzülmişti takımı yenildiği için.

DEĞERLENDİRME ETKİNLİĞİ

- 1-5. soruları metne göre yanıtlayınız. (20 P)

ALAKARGA VE KUŞLAR

Ormanlar kralı aslan kuşların da bir kralı olsun istemiş. Bir Pazar günü bütün kuşları çağırması. "İçinizden en güzelini seçin; size kral olsun" demiş.

Bunu duyan kuşlar su başına gitmişler. Güzelleşmek için yıkanmışlar taranmışlar. Ama alakarga ne kadar yıkansa yine de güzel olamayacağını anlamış. Alakarga hemen bir kurnazlık düşünüp öteki kuşlardan düşen tüyleri toplamış. Sonra birer birer başına sırtına bacalarına takmış. Kuşların kral seçecekleri gün gelip çatmış. Hepsi aslanın huzuruna gitmişler. Aslan kuşlara uzun uzun bakmış. Alakargayı göstererek "Doğrusu en güzeliniz bu. Ben size onu kral yapacağım" demiş. Kuşlar bunu duyunca alakarganın üstüne atılmışlar. Her biri kendi tüyünü bulup geri almış. Alakarga yine alakarga kalmış. Hilesi meydana çıkınca da çok utanmış.

- 1 Parçadaki olay nerede geçiyor?

.....

- 2 Aslan kuşlara ne söylemiş?

.....

- 3 Kuşlar su başında ne yapmışlar?

.....

- 4 Alakarga neden utanmış?

.....

- Aşağıdaki sözcüklerin eş anlamlılarını karşılarına yazınız. (5 P)

Konuk →

Yoksul →

Vatan →

Okul →

Öğrenci →

- Aşağıdaki sözcüklerin zıt anlamlılarını karşılarına yazınız. (5 P)

Hızlı →

Yaşlı →

Yoksul →

Yukarı →

Uzak →

- Aşağıda verilen sözcükleri sözlükte bulma sırasına göre numaralandırarak sıralayınız. (10 P)



karga



orman



aslan



tüy

● Karışık sözcüklerle anlamlı ve kurallı cümleler oluşturunuz. Açıkta kalan sözcüğü örnekteki gibi işaretleyiniz. (8 P)

- yatmadan - fırçalamalıyız - gece - üzümümü - dişlerimizi

Gece yatmadan önce dişlerimizi fırçalamalıyız.

- çöplerimizi - dağıtalım - piknikten - toplamalıyız - sonra

- akşam - bu - dedemler - uçacaklar - bize - gelecekler

● Aşağıdaki cümlelerde yapılan yazım yanlışlarını düzelterek cümleleri yeniden yazınız. (12 P)

- Dün akşam ankaradan misafierlerimiz geldi.

- Kardeşim 29, Haziran, 2018 tarihinde dünyaya geldi.

- bengü ile leyla özel isimlerin yazılışlarını öğrenmişler.

● Aşağıdaki cümlelerin hangisinde "-mi" ekinin yazımı yanlıştır? Cümlelerin başındaki kutucuğu işaretleyiniz. (20 P)

- Ali de bizimle gelecek mi?
- Ben de sizinle oynayabilirmiyim?
- Teneffüste sınıfı havalandırdın mı?
- Yaz tatilinde köye gidecek miyiz?
- Aradığın kitabı buldun mu?
- Yarın toplantıya gelecekm i?
- Yarın onu ziyaret edebilirmisin?
- Biraz beni dinler misiniz?
- Bu işi Alimi yapmış?
- O küçücük çocuğa bu iş yaptırılırmı?

● Aşağıda yazım yanlışı yapılan kelimelerin doğrularını karşlarına yazınız. (20 P)

Yanlış	Doğru
şofer	
öretmen	
kıral	
kirbit	
tiren	
örenci	
çukulata	
domatez	
gaste	
şemşiye	

KARE KARE KODLA ve BOYA




Aşağıdaki kodlara uygun olarak yan sayfadaki kareli alanları boyayınız.

1	22M
2	9M → 4SY → 9M
3	8M → 6SY → 8M
4	7M → 2SY → 4K → 2SY → 7M
5	6M → 1SY → 2K → 4SY → 2K → 1SY → 6M
6	4M → 2SY → 1K → 8SY → 1K → 2SY → 4M
7	2M → 3SY → 1M → 10SY → 1M → 3SY → 2M
8	1M → 2SY → 3M → 2SY → 6K → 2SY → 3M → 2SY → 1M
9	4M → 3SY → 2K → 4SY → 2K → 3SY → 4M
10	2M → 3SY → 1M → 1K → 8SY → 1K → 1M → 3SY → 2M
11	1M → 2SY → 3M → 10SY → 3M → 2SY → 1M
12	5M → 4SY → 4K → 4SY → 5M
13	3M → 3SY → 1M → 1SY → 1K → 4SY → 1K → 1SY → 1M → 3SY → 3M
14	2M → 2SY → 3M → 1K → 6SY → 1K → 3M → 2SY → 2M
15	2M → 1SY → 3M → 2SY → 1M → 4SY → 1M → 2SY → 3M → 1SY → 2M
16	5M → 2SY → 2M → 4SY → 2M → 2SY → 5M
17	5M → 1SY → 3M → 1S → 2SY → 1S → 2M → 1SY → 5M
18	5M → 1SY → 10M → 1SY → 5M
19	5M → 1SY → 10M → 1SY → 5M
20	22M



Kodlarda verilen kısaltmaların ifade ettikleri renkler yandaki gibidir.



M Mavi

SY Siyah

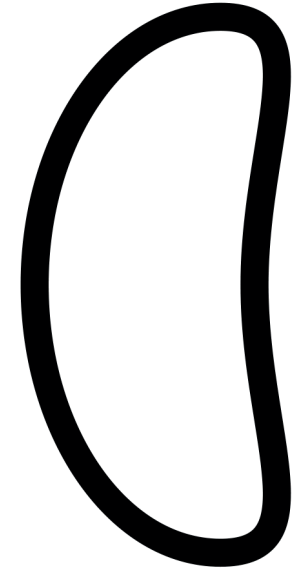

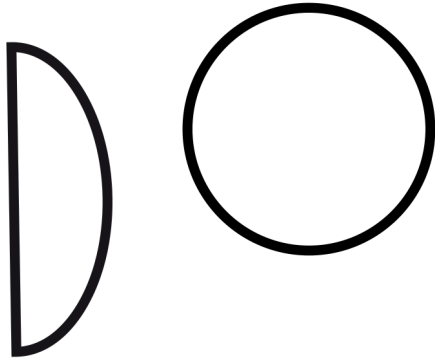



K Kırmızı

S Sarı



ÇOK YAKINDA
YAYINDA!





KES

BOYA

YAPIŞTIR



BOYA, KES VE YAPIŞTIR!
İSTER ŞABLONLU KULLAN İSTERSEN HAYAL GÜCÜNÜ!