

10 Nisan Cuma

Saat 11.00'da

ilkokul1.com'da 2. Sınıflar İin

Online Deęerlendirme Sınavı

Yapıyoruz.

- * Katılım Ücretsizdir.**
- * Konular EBA ile paralel olacaktır.**
- * Sınav günü boyunca öğrenciler diledikleri saatte siteye girip sınava katılabilirler.**



ÇARPMA VE BÖLME DEĞERLENDİRME ETKİNLİĞİ

● Aşağıdaki ifadeleri okuyunuz. Doğru olanların başına "D", yanlış olanların başına "Y" yazınız. (5 P)

- 1 () Bir doğal sayıyı "1" ile çarparsak, sonuç sayının kendisine eşit olur.
- 2 () Bölme işlemi toplama işleminin kısa yoldan yapılmasıdır.
- 3 () 12 tane kalem dörderli gruplarsak her grupta altı ceviz bulunur.
- 4 () Bir doğal sayıyı "0" ile çarparsak sonuç "0" olacaktır.
- 5 () $15 : 3 = 5$ işleminde 15 sayısına bölünen, 3 sayısına bölen, 5 sayısına bölüm denir.

● Aşağıdaki 3 sütunda verilenlerden aynı çarpma işleminini ifade edenleri örnekteki gibi eşleştiriniz. (10 P)

$2 + 2 + 2 + 2$	$2 + 2 + 2 + 2 + 2$	$3 + 3 + 3$
5×2	$3 + 3 + 3 + 3$	5 defa 2
2 defa 5	4 kere 2	3 kere 4
3×4	2×5	4×2
4 kere 3	$4 + 4 + 4$	4×3
3×3	3 kere 3	$5 + 5$

● Aşağıdaki işlemlerden sonuçları aynı olanları eşleştiriniz. (5 P)

$1 \times 4 = \dots\dots\dots$ ●

● $3 \times 4 = \dots\dots\dots$

$4 \times 3 = \dots\dots\dots$ ●

● $2 \times 4 = \dots\dots\dots$

$3 \times 2 = \dots\dots\dots$ ●

● $5 \times 2 = \dots\dots\dots$


$2 \times 5 = \dots\dots\dots$ ●

● $2 \times 3 = \dots\dots\dots$

$4 \times 2 = \dots\dots\dots$ ●

● $4 \times 1 = \dots\dots\dots$

● Aşağıdaki varlıkları istenilen sayıda gruplayınız. Ardından boşlukları doldurunuz. (10 P)



..... bademi eşit olarak;

İkişerli gruplarsak her gruba badem düşer.

Üçerli gruplarsak her gruba badem düşer.

Dörderli gruplarsak her gruba badem düşer.



..... antep fıstığını eşit olarak;

İkişerli gruplarsak her gruba badem düşer.

Dörderli gruplarsak her gruba badem düşer.

Beşerli gruplarsak her gruba badem düşer.


● Aşağıdaki problemleri çözünüz. (20 P)

1 Emre tanesi 4 lira olan kalemlerden 3 kalem alırsa satıcıya kaç lira ödeme yapması gerekir?

2 Nazım 2 yaşındadır. Ablasının yaşı Nazım'ın yaşının 4 katından 2 fazladır. Buna göre Nazım'ın ablası kaç yaşındadır?

3 Evimizde 2 tane akvaryum var. Her akvaryumun içinde 5 tane balık olduğuna göre evimizde toplam kaç balık vardır?

4 Yandaki ağaçtaki elmaların 3 katının 2 eksiği kaç elma eder?



● Aşağıdaki test sorularını yanıtlayınız. (50 P)

1 Ayşegül, bakkaldan tanesi 2 lira olan çikolatalardan 4 tane alıyor. Nuray, bakkala kaç lira ödemelidir?

A. 6 B. 8 C. 10

2 Buse, pazardan kilosu 6 TL olan Eriklerden 3 kilo alıyor. Buse, pazarcıya 20 TL verdiği göre kaç TL para üstü almalıdır?

A. 18 B. 20 C. 2

3 Aşağıdaki çarpma işlemlerinden hangisi yanlış yapılmıştır?

A. $3 \times 0 = 3$

B. $5 \times 1 = 5$

C. $1 \times 0 = 0$

4 $5 \times \triangle = 5$ ise $\triangle \times \triangle$ işleminin sonucu kaç olur?

A. 0 B. 1 C. 5

5 Aşağıdaki vişnelerin sayısı hangi seçenekteki ifade ile anlatılmalıdır?



A. 2 tane 6, 12 eder.

B. 3 tane 4, 12 eder.

C. 4 tane 3, 12 eder.

6 21 tane cevizi 3'erli gruba ayırırsak kaç tane grup olur?

A. 3 B. 6 C. 7

7 14'ün 4 fazlası kadar şeker, 2'şerli gruplara ayrılırsa kaç grup olur?

A. 9 B. 8 C. 7

8 27 top 3 takıma eşit olarak paylaştırıldığına göre her takıma kaç top düşer?

A. 9 B. 7 C. 6

ilkokul.com

4×0

2×1


1×4

2×0

9 Yukarıdaki çarpma işlemlerinin kaç tanesinin sonucu aynıdır?

A. 2 B. 3 C. 4

10 Aşağıdaki parmakların sayısını ifade eden işlem hangi seçenekte verilmiştir?



A. 3×5

B. 5×3

C. $3 + 5$

DEĞERLENDİRME ETKİNLİĞİ

- 1-5. soruları metne göre yanıtlayınız. (20 P)

ALAKARGA VE KUŞLAR

Ormanlar kralı aslan kuşların da bir kralı olsun istemiş. Bir Pazar günü bütün kuşları çağırması. "İçinizden en güzelini seçin; size kral olsun" demiş.

Bunu duyan kuşlar su başına gitmişler. Güzelleşmek için yıkanmışlar taranmışlar. Ama alakarga ne kadar yıkansa yine de güzel olamayacağını anlamış. Alakarga hemen bir kurnazlık düşünüp öteki kuşlardan düşen tüyleri toplamış. Sonra birer birer başına sırtına bacalarına takmış. Kuşların kral seçecekleri gün gelip çatmış. Hepsi aslanın huzuruna gitmişler. Aslan kuşlara uzun uzun bakmış. Alakargayı göstererek "Doğrusu en güzeliniz bu. Ben size onu kral yapacağım" demiş. Kuşlar bunu duyunca alakarganın üstüne atılmışlar. Her biri kendi tüyünü bulup geri almış. Alakarga yine alakarga kalmış. Hilesi meydana çıkınca da çok utanmış.

- 1 Parçadaki olay nerede geçiyor?

.....

- 2 Aslan kuşlara ne söylemiş?

.....

- 3 Kuşlar su başında ne yapmışlar?

.....

- 4 Alakarga neden utanmış?

.....

- Aşağıdaki sözcüklerin eş anlamlılarını karşılarına yazınız. (5 P)

Konuk →

Yoksul →

Vatan →

Okul →

Öğrenci →

- Aşağıdaki sözcüklerin zıt anlamlılarını karşılarına yazınız. (5 P)

Hızlı →

Yaşlı →

Yoksul →

Yukarı →

Uzak →

- Aşağıda verilen sözcükleri sözlükte bulma sırasına göre numaralandırarak sıralayınız. (10 P)



karga



orman



aslan



tüy

● Karışık sözcüklerle anlamlı ve kurallı cümleler oluşturunuz. Açıkta kalan sözcüğü örnekteki gibi işaretleyiniz. (8 P)

- yatmadan - fırçalamalıyız - gece - üzümümü - dişlerimizi

Gece yatmadan önce dişlerimizi fırçalamalıyız.

- çöplerimizi - dağıtalım - piknikten - toplamalıyız - sonra

- akşam - bu - dedemler - uçacaklar - bize - gelecekler

● Aşağıdaki cümlelerde yapılan yazım yanlışlarını düzelterek cümleleri yeniden yazınız. (12 P)

- Dün akşam ankaradan misafierlerimiz geldi.

- Kardeşim 29, Haziran, 2018 tarihinde dünyaya geldi.

- bengü ile leyla özel isimlerin yazılışlarını öğrenmişler.

● Aşağıdaki cümlelerin hangisinde "-mi" ekinin yazımı yanlıştır? Cümlelerin başındaki kutucuğu işaretleyiniz. (20 P)

- Ali de bizimle gelecek mi?
- Ben de sizinle oynayabilirmiyim?
- Teneffüste sınıfı havalandırdın mı?
- Yaz tatilinde köye gidecek miyiz?
- Aradığın kitabı buldun mu?
- Yarın toplantıya gelecekm i?
- Yarın onu ziyaret edebilirmisin?
- Biraz beni dinler misiniz?
- Bu işi Alimi yapmış?
- O küçücük çocuğa bu iş yaptırılırmı?

● Aşağıda yazım yanlışı yapılan kelimelerin doğrularını karşlarına yazınız. (20 P)

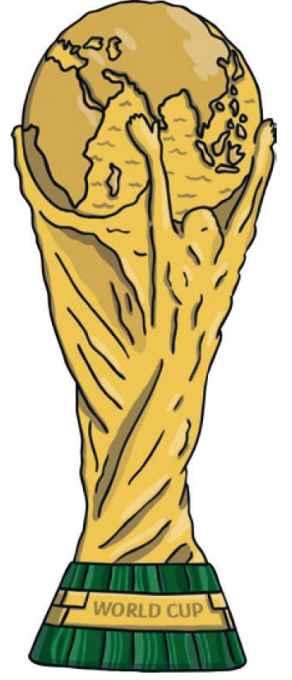
Yanlış	Doğru
şofer	
öretmen	
kıral	
kirbit	
tiren	
örenci	
çukulata	
domatez	
gaste	
şemşiye	

DÜNYA KUPASI

Dünya Kupası bir futbol organizasyonudur. Dünyanın her kıtasından ülkelerin futbol takımları en iyi olduklarını kanıtlamak için Dünya Kupası'na katılırlar. Dünya Kupası 4 yılda bir yaz aylarında düzenlenmektedir.

Bu yaz Rusya'da düzenlenecek olan turnuva, 14 Haziran günü başlayıp 15 Temmuz günü sona erecek. Birbirinden heyecanlı maçlar oynanacak ve kazanan ülke yanda gördüğünüz kupanın sahibi olacak.

İlk dünya kupası 1930 (bin dokuz yüz otuz) yılında Uruguay'da düzenlenmiştir. 13 ülke milli takımının katıldığı turnuvayı Uruguay kazanmıştır. O yıldan beri 20 kez düzenlenen kupaya bu yıl 32 ülkenin milli futbol takımları katılacak. Birbirinden heyecanlı 64 maçın sonunda kupa sahibini bulacak.



Dünya Kupası daha önce birbirinden farklı ülkelerde düzenlenmiştir:

2014 (iki bin on dört) yılında Brezilya'da,

2010 (iki bin on) yılında Güney Afrika'da

2006 (iki bin altı) yılında Almanya'da düzenlenmiştir.



Türkiye en son 2002 (iki bin iki) yılında Dünya Kupası'na katılmış ve turnuvayı 3. olarak tamamlamıştır.

Bazı ülkeler Dünya Kupası'nı diğer ülkelere göre daha fazla sayıda kazanmıştır. Şimdiye kadar düzenlenen kupalarda en başarılı ülke Brezilya'dır. Tam 5 kez Dünya Kupası'nı kazanmıştır.

Brezilya'nın ardından Almanya ve İtalya Dünya Kupasını 4'er defa kazanmıştır.

● Aşağıdaki soruları metne göre yanıtlayınız.

1. Dünya Kupası kaç yılda bir yapılıyor?

2. Bu yıl Dünya Kupası hangi ülkede düzenlenecek?

3. Bu yıl Dünya Kupası hangi tarihler arasında oynanacak?

4. İlk Dünya Kupası hangi ülkede yapıldı?

5. İlk Dünya Kupası'na kaç ülke katıldı? Hangi ülke kazandı?

6. En çok Dünya Kupası kazanan ülke hangisidir?

7. Türkiye Milli Takımı en son ne zaman Dünya Kupası'na katıldı?

● Aşağıdaki bilgilerle sayıları eşleştiriniz.

2010

İtalya ve Almanya'nın kazandığı kupa sayısı

64

Brezilya'nın kazandığı Dünya Kupası sayısı

13

Türkiye'nin son olarak Dünya Kupası'na katıldığı sene

5

Güney Afrika'da düzenlenen Dünya Kupası'nın yılı


4

Uruguay'da düzenlenen kupaya katılan ülke sayısı

2002

Dünya Kupası'nda oynanacak maç sayısı





Türkçe Değerlendirme

SEVGİLİ ÖĞRETMENİM

Sabahleyin en erken,
Her zaman seversiniz,
Yataktan kalkan benim.
Bilgiler verirsiniz.

Okuluma koşarken,
Kalbiniz sevgiyle dolu,
Günaydın öğretmenim.
Biricik öğretmenim.

İlk 4 soruyu metne göre cevaplayınız.

1 -Sabahleyin en erken kalkan kimdir?
A) Öğretmen B) Öğrenci

C) Annesi

2-Şiirin 2. kıtasındaki eş sesli kelime hangisidir?

A) Bu

B) Kalp

C) Dolu

3-"Kalbiniz sevgiyle dolu" tümcesinde altı çizili sözcüğün eş anlamlısı hangisidir?

A) Yürek

B) Hasret

C) Gönül

4-Şair bu şiiri hangi duygu içerisinde yazmıştır?

A) Okul sevgisi

B) Çalışma sevgisi

C) Öğretmen sevgisi

5- Aşağıdakilerden hangisinin adı alfabetimizin 8. Harfi ile başlamaktadır?

a.



b.



c.



6-Aşağıdakilerden hangisi çoğul addır?
A) Yular B)Güler

C) Güller

7- Hangi cümlede "MENDİL" kelimesinin özelliğini bildiren bir sözcük yoktur?

A) Onlara mendil salladım.

B) Yanınızda sürekli temiz mendil bulundurun.

C) Arkadaşımın beyaz mendilini çok beğendim.

10-" aşağı - yukarı " arasında bir anlam ilişkisi vardır. Aşağıdaki sözcük gruplarının hangisinde aynı ilişki vardır?

A) okul - mektep

B) yoksul - fakir

C) siyah - beyaz

11 - " Ali () Eren () Özge ve Okan bugün okula geldiler mi ()" tümcesinde () yerine hangi noktalama işaretleri konulmalıdır?

A) (,) (,) (.)

B) (,) (,) (!)

C) (,) (,) (?)

1 2-"Bu biberler çok acıymış.." cümlesinde altı çizili sözcük yerine hangisi getirilirse cümlenin anlamı tam tersi olur?

- A) sert B) tatlı
C) tuzlu

1 3-"kilolu.." sözcüğünün sesli harfleri aşağıdaki seçeneklerden hangisinde doğru olarak verilmiştir?

- A) i, o, l B) k, o, u
C) i,o, u

1 4-Aşağıdaki cümlelerin hangisinin sonuna soru işareti (?) getirilmelidir?

- A) Ödevlerini eksik yapmışsın
B) Ödevini neden yapmadın
C) Ödevime annem yardım etti

1 5- Aşağıdakilerden hangisi hecelerine doğru ayrılmıştır?

- A) Sar-ı-göl B) Ar-t-vin
C) A-da-na

1 6-Aşağıdaki sözcüklerden hangisi hecelerine yanlış ayrılmıştır?

- A- Ha-re-ket
B- Ren-k-le-ri
C- İr-kil-mek

1 7-" İki hafta önce cam kırıldı.." cümlesinde eylem olan sözcük hangisidir?

- A-kırıldı
B-cam
C-önce

1 8-"Sarı çiçeği ona verir misin?.." cümlesinde hangi sözcük varlığın rengini bildirmektedir?

- A) çiçeği
B) sarı
C) ona

1 9-Hangi sözcük grubu anlam ilişkisi yönünden diğerlerinden farklıdır?

- A) zengin-fakir
B) arka-ön
C) ev-hane

20-Hangi cümlede bir duygu ifade edilmektedir?

- A) Denize düşünce çok korktum.
B) Doğum gününe on bir ay varmış.
C) Doktorlar,ameliyatta beş saat kalmışlar.

21 -"Hasta olmuştum yine de işime gittim.." cümlesindeki noktalı yere hangi sözcük gelirse anlamlı olur?

- A) çünkü
B) ama
C) gibi

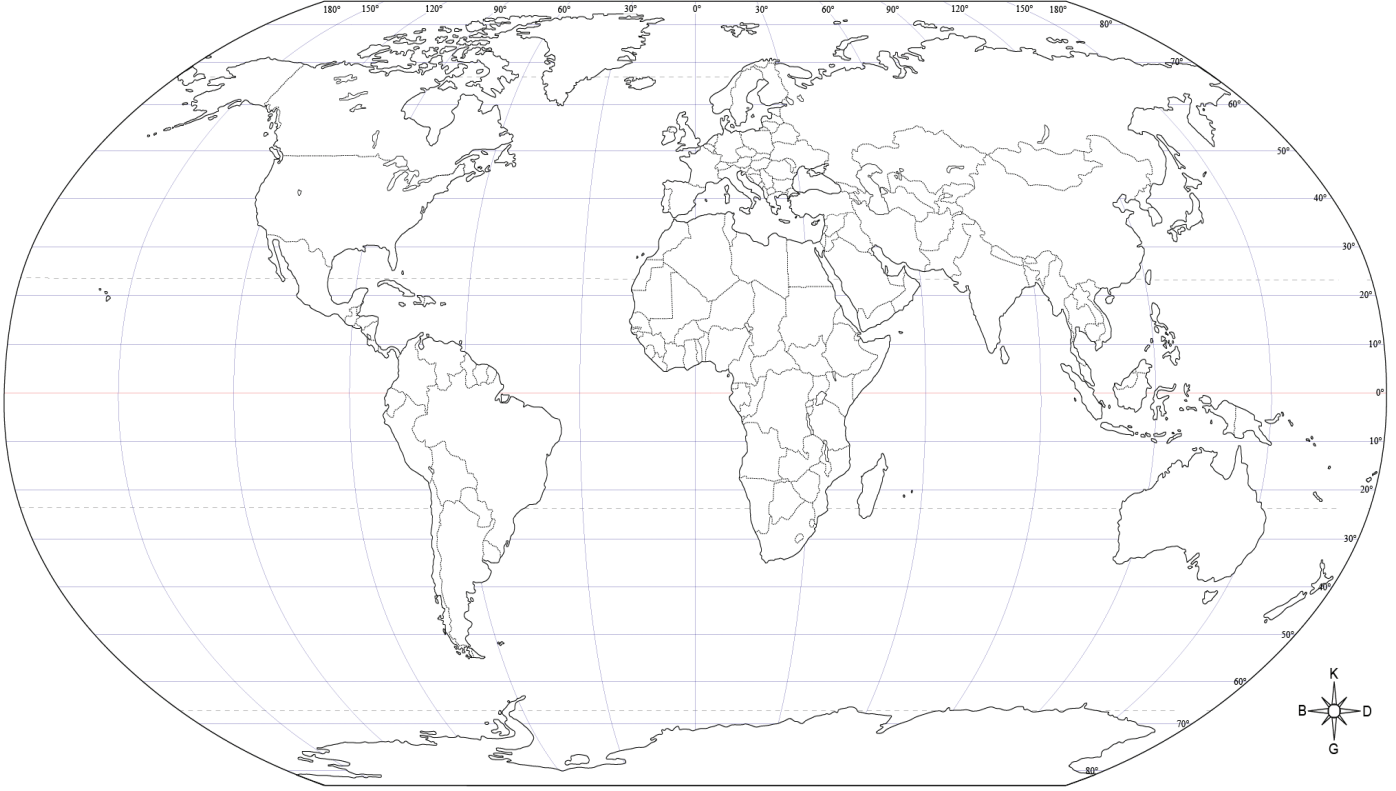
22- Hangisi anlamlı ve kurallı bir cümledir?

- A) Bizi tanımadı içeri giren adam.
B) Giydiği elbise ona yakıştı.
C) Üzülmişti takımı yenildiği için.

ÜNİTE 5: ÜLKEMİZDE HAYAT

ÜLKEMİZİN YERİNİ ÖĞRENİYORUZ

Etkinlik: Aşağıda verilen dünya Haritasında Türkiye'yi bulup sarıya boyyalım.



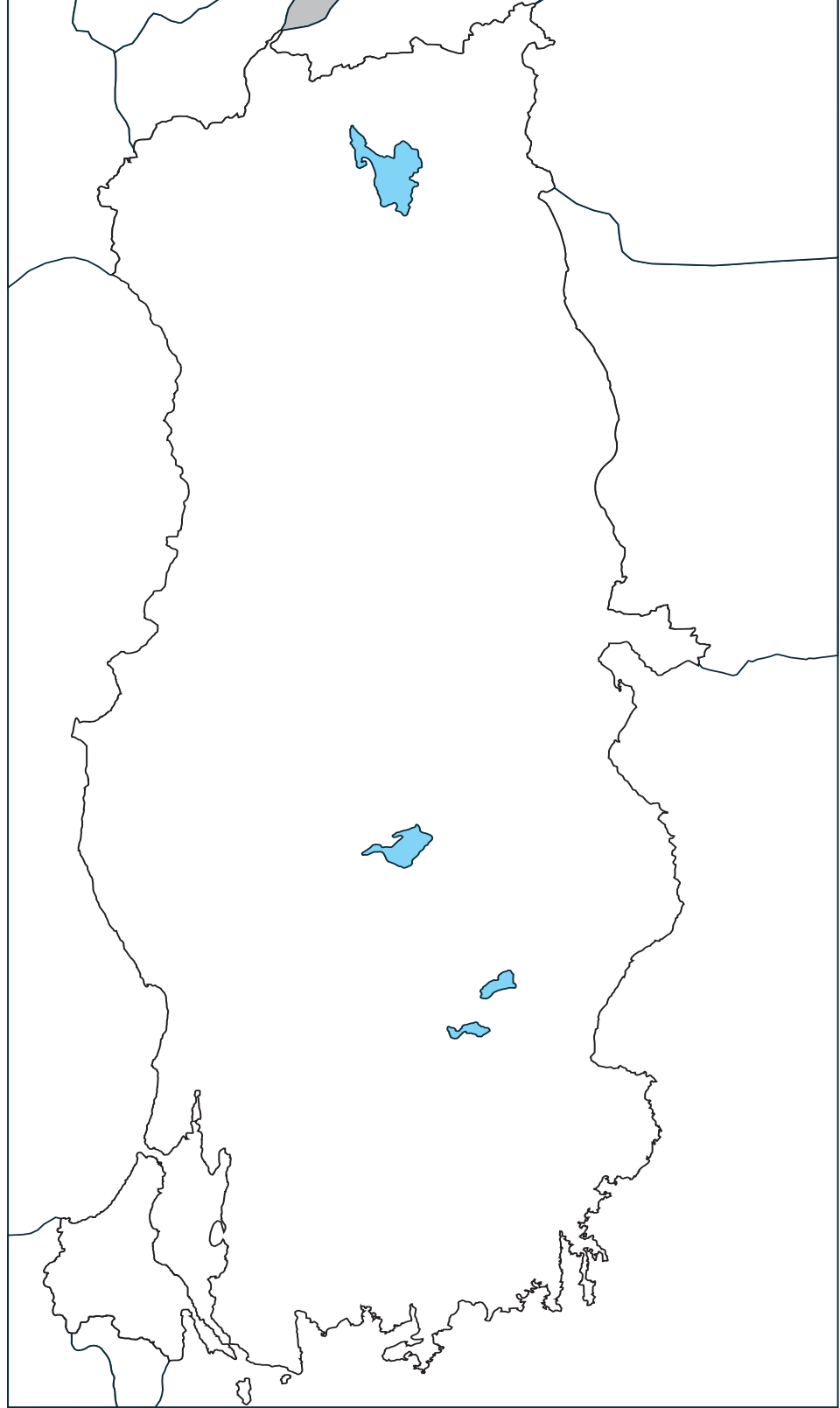
Etkinlik: Aşağıda cümleleri uygun şekilde çizerek eşleştirelim.

- | | | | |
|---------------------|---|---|------------------------|
| Ülkemizin üç tarafı | ● | ● | Küre'de yer alır. |
| Türkiye Kuzey Yarım | ● | ● | yarımadadır. |
| Ülkemizin adı | ● | ● | denizlerle çevrilidir. |
| Ülkemiz bir | ● | ● | Ankara'dır. |
| Ülkemizin başkenti | ● | ● | Türkiye'dir. |

ÜLKEMİZDE HAYAT

Etkinlik: Aşağıdaki Türkiye haritasında verilen komşularını ve deniz adlarını buldukları yere yazarak boyayalım.

Komşular: Irak, İran, Ermenistan, Suriye, Yunanistan, Bulgaristan, Gürcistan,
Akdeniz, Karadeniz, Ege Denizi, Marmara Denizi



ÜLKEMİZDE HAYAT

Etkinlik: Aşağıda ülkemize komşu olan ülkeler vardır. Bu ülkeleri sözcük avı bulmacasında bularak renkli kalemle boyayalım.

Irak
İran
Ermenistan
Suriye
Yunanistan
Bulgaristan
Gürcistan



J	S	G	Ü	R	C	İ	S	T	A	N
Y	U	N	A	N	İ	S	T	A	N	Ğ
İ	R	A	K	J	R	Ö	E	O	G	L
J	İ	A	G	Ü	A	M	N	O	J	T
A	Y	Ğ	H	J	N	O	A	N	M	L
G	E	R	M	E	N	İ	S	T	A	N
B	U	L	G	A	R	İ	S	T	A	N

ÜLKEMİZDE HAYAT

Etkinlik: Aşağıdaki boşlukları uygun olan sözcüklerle dolduralım.

bağımsız
Osman Zeki Üngör
millî
bayrağımız
on



kırmızı ve beyaz
Mehmet Akif Ersoy
marş
ay ve yıldız
saygı

..... olan her ülkenin bir bayrağı vardır.

Her ülkenin bir bayrağı ve vardır.

Bayrağımızın üzerinde vardır.

İstiklal Marşımız ve bağımsızlığımızı temsil eder.

Milli Marşımız kıtadır.

Bayrağımız renklerden oluşur.

Bayrağımıza ve İstiklâl Marşımıza duymalıyız.

Milli marşımızın şairi 'dur.

İstiklal Marşımız tarafından bestelenmiştir.

Bayrağımız ve İstiklâl Marşımız bizim değerlerimizdir.

1 Ülkemiz üç tarafı denizlerle çevrili bir yarımadadır.

Aşağıdaki denizlerden hangisi ülkemizin çevresinde yer almaz?

- A) Ege Denizi B) Karadeniz
C) Hazar Denizi

2 Aşağıdakilerden hangisi İstiklâl Marşının şairidir?

- A) Osman Zeki Üngör
B) Mehmet Akif Ersoy
C) Mustafa Kemal Atatürk

3 Türkiye ile ilgili aşağıda verilen bilgilerden hangisi yanlıştır?

- A) Türkiye'nin başkenti Ankara'dır.
B) Türkiye Güney Yarım Küre'dedir.
C) Türkiye'nin yedi sınır komşusu vardır.

4 Aşağıdakilerden hangisi ülkemizin batıdaki sınır komşusudur?

- A) İran B) Suriye C) Yunanistan

5 Aşağıda verilen bilgilerden hangisi yanlıştır?

- A) Bayrağımız ve İstiklâl Marşımız bağımsızlık sembolümüzdür.
B) İstiklâl Marşı söylenirken hareket etmeden dururuz.
C) İstiklal Marşımız dokuz kıtadan oluşur.

6



Sıla

Şehirleri bulabiliriz.



Perihan

Ülke sınırlarını bulabiliriz.



Ali

Ormanları bulabiliriz.

Haritaya baktığımızda aşağıdakilerden hangisini bulamayız? Sorusuna yukarıdaki öğrencilerden hangisi yanlış cevap vermiştir?

- A) Ali B) Perihan C) Sila

7 Aşağıdakilerden hangisi ülkemizin etrafında bulunan bir komşumuz değildir?

- A) Irak B) Bulgaristan C) İngiltere

8

Kırmızı Ay ve yıldız vardır.

Dikdörtgen şeklindedir.

Zemini kırmızıdır.

Türk bayrağı ile ilgili aşağıda verilen bilgilerden hangisi yanlıştır?

- A) B) C)

ATATÜRK'ÜN ÇOCUKLUĞU

Etkinlik: Aşağıdaki noktalı yerlere uygun sözcükleri yazalım.

Makbule Hanım
disiplinli
1881
Mahalle Mektebinde
Selanik



Şemsi Efendi İlkokulu
Ali Rıza Efendi
askeri
matematik
Zübeyde Hanım

Atatürk yılında doğmuştur.

Atatürk şehrinde doğmuştur.

Atatürk'ün babası'dir.

Atatürk'ün annesi'dır.

Kız kardeşi ise'dır.

Mustafa Kemal ilk eğitimini aldı.

Mustafa Kemal'in ikinci gittiği okul'dur.

Mustafa Kemal Atatürk'e "Kemal" adını öğretmeni vermiştir.

Mustafa Kemal Atatürk zeki, başarılı ve bir öğrenciydi.

Mustafa Kemal ilkokuldan sonra okula gitmiştir.

MİLLİ BAYRAMLARIMIZ

Etkinlik: Aşağıdaki tarihleri ve milli bayramlarımızı çizerek eşleştirelim.



Ulusal Egemenlik ve Çocuk Bayramı




29 Ekim



Atatürk'ü Anma, Gençlik ve Spor Bayramı



23 Nisan



Cumhuriyet Bayramı



19 Mayıs



Zafer Bayramı



30 Ağustos

Etkinlik: Aşağıdaki ifadelerden doğru olanların yanına "D", yanlış olanların yanına "Y" yazalım.

- Atatürk 19 Mayıs'ta Samsun'a çıkmıştır.
- Milli bayramlarımız ulusça kutladığımız, özel günlerdir.
- Zafer Bayramı her yıl 23 Nisan'da kutlanır.
- Kurtuluş Savaşı Atatürk Samsun'a ayak basınca başladı.
- 19 Mayıs 1919'da Atatürk'ün İzmir'e çıkması ile Kurtuluş Savaşı başlamıştır.
- Milli bayram öncesinde sınıfımızı süsleriz.
- Milli bayramlarda okulumuzda törenlerle kutlama yaparız.
- Atatürk 19 Mayıs'ta Samsun'a çıkmıştır.
- Millî bayramlarımız tüm dünyada coşkuyla kutlanır.
- 23 Nisan 1923'te T.B.M.M açıldı.



DİNİ BAYRAMLARIMIZ

Etkinlik: Aşağıdaki cümlelerden doğru olanların yanına "D", yanlış olanlara "Y" yazalım.



- () Ramazan bayramı milli bayramlarımızdandır.
- () Dini bayramlarımızda en güzel ve en yeni giysilerimizi giyebiliriz.
- () Kurban bayramında okullarda şiir ve şarkılar söylenir.
- () Dini bayramlarda büyüklerimizi ziyarete gideriz.
- () Dini bayramlarımızda özel yemekler ve tatlılar yapılır.
- () Dini bayramlarda küsler barışır.
- () Dini bayramlarda çocuklara harçlık verilmez.
- () Dini bayramlar birlik ve beraberlik duygularımız güçlenir.
- () Dini Bayramlarda evlerimize akraba ve komşularımız gelir.
- () Ramazan Bayramı'nın diğer adı Şeker Bayramı'dır.
- () Kurban Bayramı bütün Müslüman ülkelerde kutlanır.

KONU TESTİ -14

1 Atatürk ile ilgili aşağıda verilen bilgilerden hangisi yanlıştır?

- A) Makbule Hanım, Atatürk'ün kız kardeşidir.
 B) Ailesi Atatürk'e Mustafa adını koymuştur.
 C) Atatürk eğitime askeri okulda başlamıştır.

2 Mustafa Kemal'in Kurtuluş Savaşı sırasında hangi özelliği sayesinde savaş kazanılmıştır?

- A) Dürüstlüğü
 B) Liderliği
 C) Alçak gönüllü oluşu

3 Kurtuluş Savaşı hangi ilimizde başlamıştır?

- A) Ankara B) Sivas C) Samsun

4 Aşağıdakilerden hangisi dini bayramlarımızda yaptığımız bir davranış değildir?

- A) Kurban eti yemek
 B) Büyüklerimizi ziyaret etmek
 C) Halk oyunları oynamak

5 Atatürk'e "Kemal" adını aşağıdaki hangi dersine giren öğretmeni vermiştir?

- A) Matematik
 B) Türkçe
 C) Sosyal Bilgiler

6 Okullar yaz tatilindeyken kutlamalara katılamadığımız milli bayramımız aşağıdakilerden hangisidir?

- A) 30 Ağustos Zafer Bayramı
 B) 29 Ekim Cumhuriyet Bayramı
 C) 23 Nisan Ulusal Egemenlik ve Çocuk Bayramı

7 Aşağıdakilerden hangisi milli bayramlar sırasında yaptıklarımız arasında yer almaz?

- A) Şeker toplamak
 B) Şiir okumak
 C) Sınıfı süslemek

8 Atatürk ile ilgili verilen aşağıda verilen bilgilerden hangisi yanlıştır?

- A) Babasının adı Ali Rıza'dır.
 B) 1981 Selanik'te doğmuştur.
 C) Annesinin adı Zübeyde'dir.

9 Aşağıdaki çocuklardan hangisinin davranışı yanlıştır?

- A) Dini bayramlarda sevgi, saygı, birlik ve beraberlik duygularımız güçlenir.
 B) Bayram günü yeni kıyafetler giyinilir.
 C) Dini bayramlarda büyükler ziyaret edilmez.

10



Sıla

Dini bayramdır.



Perihan

Büyükler ve akrabalar ziyaret edilir.



Erhan

Bayram öncesinde sınıfımızı süsleriz.

Ramazan Bayramı ile ilgili aşağıda verilen bilgilerden hangisi yanlıştır?

A) Sila B) Perihan C) Erhan

11 Atatürk'ün tüm Dünya çocuklarına armağan ettiği bayram aşağıdakilerden hangisidir?

A) 30 Ağustos B) 23 Nisan
C) 19 Mayıs

12 Zafer Bayramı

Ramazan Bayramı

Gençlik ve Spor Bayramı

Kurban Bayramı

Ulusal Egemenlik ve Çocuk Bayramı

Yukarıda verilen bayramlardan kaç tanesi milli bayramdır?

A) 2 B) 3 C) 4

13



Cumhuriyet Bayramı dini bayramdır.



Kurban Bayramı dini bayramdır.



Zafer Bayramı milli bayramdır.

Yukarıdaki bulutlarda verilen bilgilerden hangisi yanlıştır?

A) Mavi B) Kırmızı C) Sarı

14 T.B.M.M aşağıdaki tarihlerden hangisinde açılmıştır?

A) 19 Mayıs B) 23 Nisan
C) 30 Ağustos

15 Aşağıdaki bayramların hangisinde büyüklerinizden harçlık alırsınız?

A) Zafer Bayramı
B) Ramazan Bayramı
C) Cumhuriyet Bayramı

16 Atatürk ile ilgili olarak aşağıda verilen bilgilerden hangisi yanlıştır?

A) Selanik'te doğmuştur.
B) Kardeşi ile çiftlikte karga kovalamıştır.
C) Dayısının adı Ali Rıza Bey'dir.

KARE KARE KODLA ve BOYA




Aşağıdaki kodlara uygun olarak yan sayfadaki kareli alanları boyayınız.

1	22M
2	9M → 4SY → 9M
3	8M → 6SY → 8M
4	7M → 2SY → 4K → 2SY → 7M
5	6M → 1SY → 2K → 4SY → 2K → 1SY → 6M
6	4M → 2SY → 1K → 8SY → 1K → 2SY → 4M
7	2M → 3SY → 1M → 10SY → 1M → 3SY → 2M
8	1M → 2SY → 3M → 2SY → 6K → 2SY → 3M → 2SY → 1M
9	4M → 3SY → 2K → 4SY → 2K → 3SY → 4M
10	2M → 3SY → 1M → 1K → 8SY → 1K → 1M → 3SY → 2M
11	1M → 2SY → 3M → 10SY → 3M → 2SY → 1M
12	5M → 4SY → 4K → 4SY → 5M
13	3M → 3SY → 1M → 1SY → 1K → 4SY → 1K → 1SY → 1M → 3SY → 3M
14	2M → 2SY → 3M → 1K → 6SY → 1K → 3M → 2SY → 2M
15	2M → 1SY → 3M → 2SY → 1M → 4SY → 1M → 2SY → 3M → 1SY → 2M
16	5M → 2SY → 2M → 4SY → 2M → 2SY → 5M
17	5M → 1SY → 3M → 1S → 2SY → 1S → 2M → 1SY → 5M
18	5M → 1SY → 10M → 1SY → 5M
19	5M → 1SY → 10M → 1SY → 5M
20	22M



Kodlarda verilen kısaltmaların ifade ettikleri renkler yandaki gibidir.



M Mavi

SY Siyah

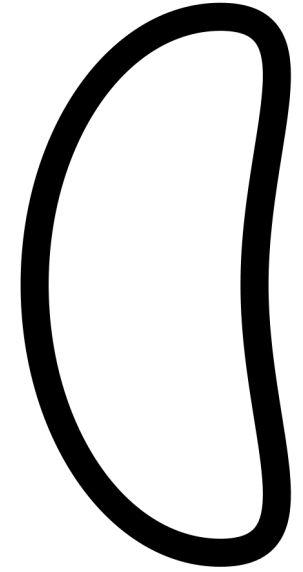

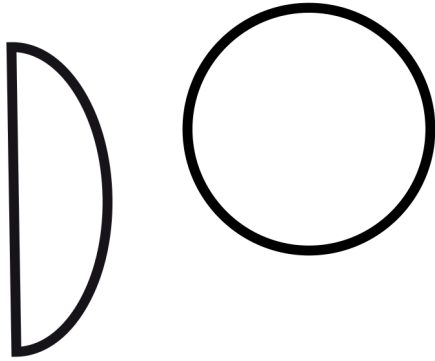



K Kırmızı

S Sarı



ÇOK YAKINDA
YAYINDA!





KES

BOYA

YAPIŞTIR



BOYA, KES VE YAPIŞTIR!
İSTER ŞABLONLU KULLAN İSTERSEN HAYAL GÜCÜNÜ!

1. Görseli ifade eden evcil hayvanı bulunuz.



- A) A brown dog
B) A big bird
C) A black cat

2. Cümleyi tamamlayan evcil hayvanı bulunuz.

My favourite pet is a



- A) fish
B) turtle
C) bird

3. Dialogu tamamlayan ifadeyi bulunuz.

A: Where is the fish?

B:



- A) in the aquarium
B) on the box
C) under the basket

4. Görsele göre hangi ifade doğrudur?



- A) There are three cats.
B) There are four birds.
C) There is a fish.

5. İfadeye anlatan görseli bulunuz.

A blue rabbit

A)



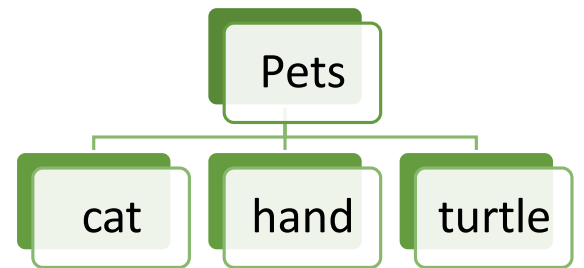
B)



C)



6. Tabloda **olmaması** gereken kelime hangisidir?



A) cat

B) hand

C) turtle

1. Görseli ifade eden evcil hayvanı bulunuz




- A) dog
B) bird
C) cat

2. Cümleyi tamamlayan evcil hayvanı bulunuz.

I'm a red

.....




- A) fish
B) turtle
C) bird

3. Dialogu tamamlayan ifadeyi bulunuz.

A: Where is the dog?

B:



- A) On the desk
B) Under the table
C) In the box

4. Görsele göre soruyu cevaplayınız.



How many rabbits are there?

- A) There are eight rabbits.
B) There are nine rabbits.
C) There are ten rabbits.

5. Görsele göre cümleyi tamamlayınız.



The is on the car.

- A) cat
B) turtle
C) rabbit

6. Cümleyi tamamlayan evcil hayvanı bulunuz.



I'm a yellow

.....

- A) cat B) bird C) fish