

HAFTALIK ONLINE DENEME SINAVI TAKVİMİ

22 Nisan 11.00 - 1. Sınıflar

24 Nisan 11.00 - 2. Sınıflar

25 Nisan 11.00 - 3. Sınıflar

26 Nisan 11.00 - 4. Sınıflar

- * Önceki sınavların tamamı aktif!
- * Katılım ücretsizdir.
- * Konular EBA ile paralel olacaktır.
- * Sınav günü boyunca öğrenciler diledikleri saatte siteye girip sınava katılabilirler.



PARALARIMIZ

- Paralarımızın isimlerini örnekteki gibi yerleştirelim.

elli lira	yirmi beş kr.	elli kr.	beş lira	bir kr.	beş kr.
yirmi lira	yüz lira	on kr.	bir lira	on lira	iki yüz lira



.....
-------	-------



elli lira
-----------	-------	-------	-------	-------



.....
-------	-------	-------	-------	-------

- Aşağıda verilen para gruplarından hangilerinin 1 ₺ ettiğini işaretleyiniz.




- Aşağıda verilen para gruplarından hangisinin miktarı 100 ₺'dir. İşaretleyiniz.






PARAMIZIN DEĞERİ


● Aşağıda modellenen paraların değerlerini karşılaştırıp "<", ">" veya "=" işaretlerinden uygun olanını yazınız.



● Aşağıda modellenen paraların 1 ₺ ye eşit olabilmesi için kaç kuruş daha eklenmesi gerekir. Hesaplayıp noktalı alanlara yazınız.



● Aşağıda modellenen paraların toplam miktarlarını yazınız.



₺



₺



₺

PARALARIMIZ

- Aşağıda modellenen paraların toplam miktarlarını yazınız.

$$\begin{array}{c} \text{10 TL} \\ \text{10 TL} \\ \text{1 TL} \\ = \dots\dots\dots \text{TL} \end{array}$$

$$\begin{array}{c} \text{5 TL} \\ \text{10 TL} \\ \text{1 TL} \\ = \dots\dots\dots \text{TL} \end{array}$$

$$\begin{array}{c} \text{5 TL} \\ \text{5 TL} \\ \text{5 TL} \\ = \dots\dots\dots \text{TL} \end{array}$$

$$\begin{array}{c} \text{10 TL} \\ \text{1 TL} \\ \text{1 TL} \\ = \dots\dots\dots \text{TL} \end{array}$$

$$\begin{array}{c} \text{20 TL} \\ \text{10 TL} \\ \text{10 TL} \\ = \dots\dots\dots \text{TL} \end{array}$$

$$\begin{array}{c} \text{5 TL} \\ \text{1 TL} \\ \text{1 TL} \\ = \dots\dots\dots \text{TL} \end{array}$$

$$\begin{array}{c} \text{1 TL} \\ \text{1 TL} \\ \text{1 TL} \\ = \dots\dots\dots \text{TL} \end{array}$$

$$\begin{array}{c} \text{20 TL} \\ \text{1 TL} \\ \text{1 TL} \\ = \dots\dots\dots \text{TL} \end{array}$$

$$\begin{array}{c} \text{10 TL} \\ \text{10 TL} \\ \text{10 TL} \\ = \dots\dots\dots \text{TL} \end{array}$$

$$\begin{array}{c} \text{20 TL} \\ \text{5 TL} \\ \text{5 TL} \\ = \dots\dots\dots \text{TL} \end{array}$$

Sevgi Lokantası



Sevgi Lokantası'ndaki yemeklerin fiyatlarını inceleyelim. Sonrasında soruları yanıtlayalım

MENÜ

Başlangıçlar

Patates	-----	13 ₺
Çorba	-----	8 ₺
Börek	-----	9 ₺



Ana Yemekler



Pilav	-----	16 ₺
Köfte	-----	19 ₺
Dolma	-----	17 ₺

Salatalar

Çoban Salata	---	13 ₺
Mevsim Salata	--	14 ₺



İçecekler



Ayran	-----	4 ₺
Limonata	-----	6 ₺
Süt	-----	3 ₺

Tatlılar

Pasta	-----	11 ₺
Baklava	-----	14 ₺



Elvin



Çorba

Köfte

+

.....

Çınar



Dolma

Ayran

+

.....

Ege




Patates

Pasta

+

.....

Berfin



Börek








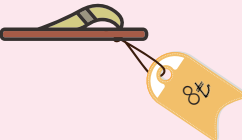
Süt

+

.....


























ÖDEME ZAMANI

● Aşağıdaki tabloda, bir mağazadaki ürünlerin fiyat listesi verilmiştir. Bu ürünlerin fiyatlarına karşılık gelen paraları örnekteki gibi işaretleyiniz.

ÜRÜNLER	50 TL	20 TL	10 TL	5 TL	1 TL	1 TL	1 TL	1 TL
	X			X	X	X	X	
								
								
								
								
								
								
								

BİZE NE KADAR KALDI?

● Mağazadaki ürünleri alırken görevliye verilen paralar tabloda belirtilmiştir. Alınması gereken para üstünü örnekteki gibi işaretleyiniz.

ÜRÜNLER	ÖDENEN						
 58₺	 		X		X	X	
 72₺							
 89₺							
 64₺	 						
 25₺	 						
 19₺							
 43₺							
 6₺							

PARA PROBLEM DEĞİL

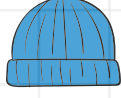
● Bir kıyafet mağazasında satılan ürünlerin fiyat listesi aşağıda verilmiştir. İnceleyip ardından problemleri çözünüz.



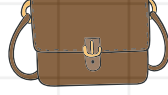
70 ₺



16 ₺



38 ₺



75 ₺



69 ₺



49 ₺



28 ₺

1 Bir pantolon ile fular alan bir kişi ne kadar para öder?

5 Çanta kazaktan kaç ₺ daha pahalıdır?

2 Bere çantadan kaç ₺ daha ucuzdur?

6 En pahalı üründen en ucuz ürünün fiyatını çıkarırsak sonuç kaç olur?

3 90 ₺ parası olan Elvin, bir kazak alırsa geriye kaç ₺ para üstü alır?

7 50 ₺ parası olan Ebru, çanta almak istiyor. Ebru'nun kaç ₺'ye ihtiyacı vardır?

4 2 gözlük ile 1 bere alan bir kişi satıcıya 80 ₺ öderse geriye kaç ₺ para üstü alır?

8 50 ₺ parası olan Sude, 1 kazak aldığı anda geriye kaç ₺ para üstü almalıdır?

Aşağıda verilen cümlelerde bulunan yazım ve noktalama yanlışlıklarını bularak altlarını çiziniz. Kutucuklara kaç yanlışlık olduğunu yazınız.

yeliz katıldığı yarışmada 2, oldu!



3

dün akşam orhan kaçta geldi.



Dayımlarla karadenize gezi düzenledik.



Ayşenin kedisi minnoş nerede



Akşam ahmet'ler misafirlige geldi.



Trafikte öncelikle tırafik polisine uymalıyız.



Erik Muz ve elmayı severim.



Arda 19 mayıs 2009'da doğmuş.



İstanbulu arkadaşım bugün gelecek.



Bugün işten erken çıktım.



eşe neşehiri çok seviyor?



elvan ile emrah nerede kaldı!



● Aşağıda verilen harflerle başlayan kişi, yer, hayvan, bitki ve eşya adlarını bulup boşluklara yazınız.

HARF	KİŞİ ADI	YER ADI	HAYVAN ADI	BİTKİ ADI	EŞYA ADI
A					
Z					
C					
D					
Y					
E					
K					
L					
M					
S					
Ş					
T					
B					
O					
N					
R					
G					
H					
i					

● Aşağıdaki sözcüklerin son harfiyle başlayan sözcükler bularak boşluklara yazınız. Yazdığınız her sözcüğün ilk harfi, bir önceki sözcüğün son harfi olmalıdır.

kalem	→		→		→		→	
kitap	→		→		→		→	
çerçeve	→		→		→		→	
resim	→		→		→		→	
çiçek	→		→		→		→	
telefon	→		→		→		→	
masa	→		→		→		→	
ayçiçeği	→		→		→		→	
kapı	→		→		→		→	
uçak	→		→		→		→	
horoz	→		→		→		→	
elmas	→		→		→		→	
güneş	→		→		→		→	
tay	→		→		→		→	
boru	→		→		→		→	
sakal	→		→		→		→	
maket	→		→		→		→	
örgü	→		→		→		→	

KUYUDAKİ ADAM

Bir zamanlar gökteki yıldızlara ilgi duyan bir adam yaşarmış. Akşam yıldızlar çıkmaya başlayınca kafasını gökyüzüne kaldırır, sabah olana kadar bakar, hayale dalarmış.

Bir gece yine kırlarda dolaşırken bir yandan da gökyüzüne bakıyormuş. Bu yüzden önüne çıkan kuyuyu görememiş... "Küüt" diye kuyuya düşmüş.



Adam kuyunun içinde çığlık atıp yardım istemiş. Onun sesini duyan bilge bir adam, onu kuyudan çıkarmış. Bilge adam, ona kuyuya nasıl düştüğünü sormuş. O da yıldızlara bakarken kuyuyu fark etmediğini, bu nedenle düştüğünü söylemiş. Bilge adam da ona:
– Evladım, sen önce yürüyeceğin yola bak. Gökyüzünü sonra seyredersin, demiş. Bilgenin sözleri, adamın kulağına küpe olmuş.

OKUDUĞUMUZU ANLADIK MI?

1 Adam neye ilgi duyuyormuş?

2 Adam kuyuya nasıl düşmüş?

3 Adamı kuyudan kim çıkarmış?

4 Metnin konusu nedir?

5 Metnin ana fikri nedir?

AÇ GÖZLÜ ASLAN



Aslan her gün olduğu gibi ormanda dolaşmaya çıkmış. Arada bir kükreyerek etrafta bulunan hayvanları korkutup kaçırmış. Bundan büyük bir zevk duyuyormuş. Kendi kendine, ben ne heybetli bir hayvanım herkes benden korkuyor, diye söyleniyormuş. Ormanda dolaşırken karnı yavaş yavaş acıkmaya başlamış. Akşama daha çok var. Nasilse karnımı doyuracak bir av bulurum, diye düşünmüş. Ormanda dolaşmaya devam etmiş. Dolaşırken ilk olarak karşısına bir ceylan yavrusu çıkmış. Epey bir mücadelenin arkasından ceylan yavrusunu yakalamış. Ceylan yavrusu, aslana yalvarmaya başlamış. "Ben daha küçücüğüm. Senin dişinin kovuğunu bile doldurmam. Senin gibi heybetli bir krala daha büyük avlar layık." demiş. Aslan daha büyük bir av bulurum ümidiyle ceylan yavrusunu bırakmış.

Aslan bir ara susadığını hissetmiş. Su içmek için yakınlarında bulunan nehre doğru hareket etmiş. Nehrin kıyısında su içmekte olan yaşlı bir yaban öküzü görmüş. Aslan, yaban öküzünü tam yakalamak üzereyken etrafında bulunan yaban öküzleri boynuzları ile aslana saldırmışlar. Bakmış ki kendi canı tehlikede hızlıca oradan ayrılmış. Ayrılmış ama karnı da epeyce acıkmış. Açlıktan yorgun ve bitkin düşmüş. Bir an önce yiyecek bir şeyler bulmalıyım, diye aklından geçirmiş. Akşam olmak üzereyken bir zürafayla karşılaşmış. Boylu poslu, bu tam ağzıma layık bir av, diye düşünmüş. Sinsice yaklaşmış zürafaya. Yakalamak için atlamış zürafanın bacaklarına. Atlamasıyla tekmeyi yemesi bir olmuş. Zavallı aslan, oracıkta bayılmış. Kendine geldiğinde her tarafın karadığını görmüş.

Aç ve bitkin bir halde kendi kendine "Aaah, senin neyine! Azla yetinmedin, çoğu da bulamadın. Çoğa göz dikerken az daha kendi canından olacaktın. Bu bana ders olsun." demiş.

● Aşağıdaki soruları, okuduğunuz metne göre yanıtlayınız.

1 Aslan ne yapmaktan zevk alıyormuş?

2 Aslan hangi hayvanı yakalamış?

3 Aslan nehir kenarında hangi hayvanı görmüş?

4 Aslan neden bayılmış?

5 Aslan kendine geldiğinde ortalık nasılmış?

6 Altı çizgi olan kelimenin zıt anlamlısını bir cümlede kullanınız.

7 Metnin başlığı kaç hecedir?

● Aşağıdaki cümleleri metindeki oluş sırasına göre eşleştiriniz.

Ceylan yavrusu yalvarmaya başlamış.

1

Aslan ormanda dolaşırken karşısına ilk ceylan yavrusu çıkmış.

2


Aslan, ceylan yavrusunun yalvarması karşısında serbest bırakmış.

3

Epey bir kovalamacadan sonra ceylan yavrusunu yakalamış.

4

1. Görseli anlatan ifadeyi bulunuz.



- A) I like banana.
B) I don't like peach.
C) I like apple.

2. Cümleyi tamamlayan kelimeyi bulunuz.

I like



- A) bananas
B) oranges
C) grapes

3. Cümleyi tamamlayan meyveyi bulunuz.

Cut the



- A) melon B) lemon C) apple

4. Görsele göre boşluğu hangi kelime tamamlar?


There are
..... in
the basket.



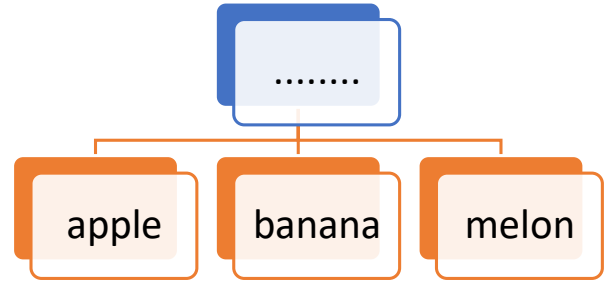
- A) apples B) grapes C) pears

5. İfadeyi anlatan görseli bulunuz.

I like orange



6. Tablonun başlığı için en uygun ifade hangidir?




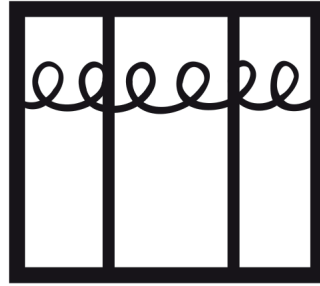


- A) Fruits B) Pets C) Colors

7. Görsele göre cümleyi hangi kelime tamamlar?



I'm a
.....
tree.

- A) peach B) melon C) grape



BOYA

YAPIŞTIR



BOYA, KES VE YAPIŞTIR!

İSTERSEN SAĞ ÜSTTEKİ GİBİ, İSTERSEN HAYALİNDEKİNİ YAP!