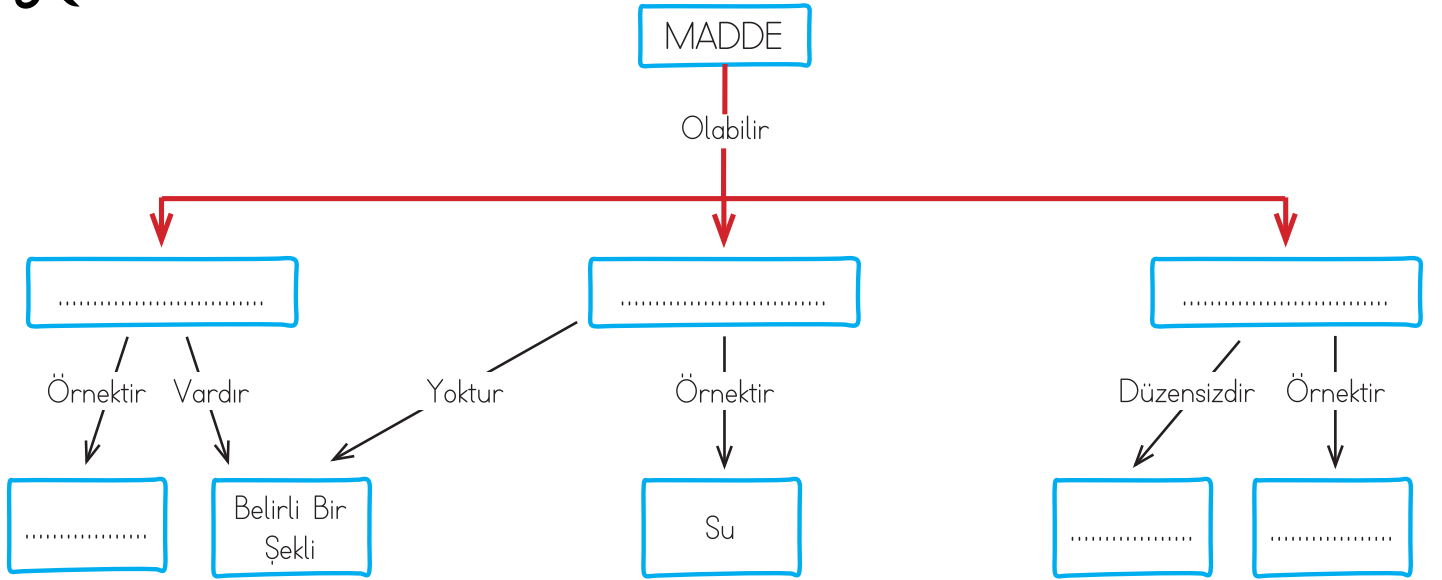


- Aşağıdaki tabloda verilen özelliklerin maddenin hangi hâline ait olduğunu işaretleyiniz.

Maddelerin Özellikleri	Katı	Sıvı	Gaz
Mıknatıs tarafından çekilebilir.			
Şekil verilebilir.			
Ağırlığı vardır.			
Belirli bir şekli vardır.			
Bulunduğu kabın şeklini alır.			
Yalnızca hissedilebilir.			
Akıcıdır.			
Bulunduğu kabı tamamen doldurabilir.			
Her yöne yayılır.			

- Kavram haritasındaki boş alanları aşağıdaki sözcüklerden uygun olanlar ile tamamlayınız.

Etkinliği Tamamlayınca  
Kesip Defterine  
Yapıştırabilirsin!



Sıvı Katı Buhar

Su Tanecik Gaz Buz

# KAVRAM BULMACA

~~KATI~~

● Aşağıdaki kavramları bulmacadan bulup örnekteki gibi işaretleyiniz.

ÖZELLİK

SERT

KOKU

RENK

ESNEK

MADDE

PÜRÜZLÜ

NİTELİK

GAZ

YUMUŞAK

SİM

KIRILGAN

TAT

PÜRÜZSÜZ

RENK



Y	P	Ü	R	Ü	Z	S	Ü	Z	W	T	L	Y	U	O	A	M	S	Y
N	S	O	E	J	U	M	F	S	W	A	G	C	Y	F	X	H	X	U
B	P	M	N	L	M	F	Q	P	R	T	A	G	G	C	W	N	N	T
F	A	K	Z	K	S	E	R	T	A	V	Z	S	A	R	O	R	X	U
Z	X	F	K	C	F	i	E	O	T	D	G	Y	P	Z	P	K	L	R
G	m	U	Q	W	i	U	N	L	R	N	Q	N	i	T	E	L	i	K
Y	D	O	J	H	X								Q	P	X	V	K	V
K	A	T	I	C	P								X	Q	R	N	U	Y
U	m	A	D	D	E								C	O	L	K	J	E
A	H	K	Y	A	W								P	O	J	K	S	S
Y	S	E	R	T	L								C	S	D	I	L	N
U	C	H	K	A	A								J	X	B	R	T	E
m	P	R	O	Z	N								Ö	E	S	I	R	K
U	E	S	K	Y	D	H	O	Q	Z	C	X	S	Z	G	V	L	E	W
Ş	B	V	U	P	X	Q	U	U	Q	P	D	F	E	S	S	G	N	S
A	E	W	Y	U	P	Ü	R	Ü	Z	L	Ü	E	L	A	i	A	K	Y
K	R	N	C	i	L	U	m	T	G	G	P	W	L	i	i	N	S	O
E	F	J	X	N	D	V	S	I	V	I	Y	P	i	W	X	U	i	G
Y	Y	C	U	O	D	D	B	V	H	J	A	E	K	V	W	Y	Z	D



ilkokul1.com

# MADDENİN HÂLLERİ

● Görsellerdeki maddeleri inceleyiniz. Maddelerin altlarına "katı, sıvı , gaz" sözcüklerinden uygun olanları yazınız.



Toz Şeker




Limonata



Bardak




Bitki Çayı



Sıcak Hava



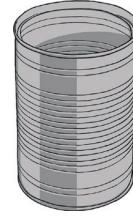
Bulutlar



Su



Taş



Konserve Kutusu




Kum



Çorba



Krema



Mıknatıs



Oksijen




İp



Meyve Suyu



Tahta



Kağıt



Buhar



Buz

● Maddelerin katı, sıvı ve gaz hâlleri verilmiştir. Bu maddeler ile özelliklerini eşleştiriniz.

Buldukları kabın şeklini alırlar.

Sıkıştırılmazlar.

Belli bir şekilleri vardır.

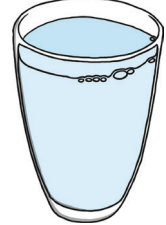
Akıcıdırlar.

Belli bir şekli yoktur.

Buldukları kabı tamamen doldurabilir.



Gaz




Sıvı



Katı

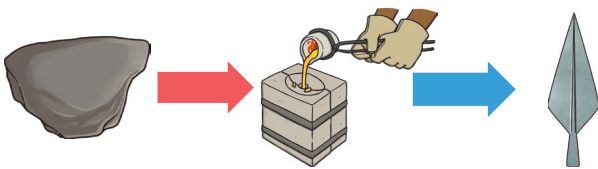
● Aşağıdaki maddeleri inceleyip değişimlerini gözlemleyiniz. Maddelerin altına "katı, sıvı, gaz" sözcüklerinden uygun olanları yazınız.



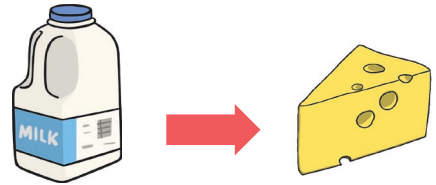
.....



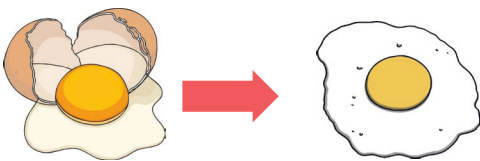
.....




.....



.....



.....



.....