

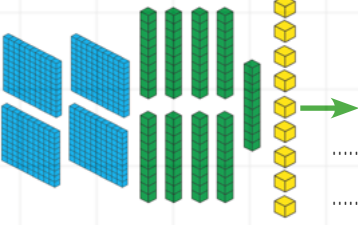
4. SINIFLAR SENE BAŞI SEVİYE BELİRLEME SINAVI

DERS: MATEMATİK

ADI-SOYADI:.....

PUAN: 

1. Aşağıda modellenen doğal sayıları ve okunuşlarını karşlarına yazınız.



Sayı:

Okunuşu:

2. Aşağıdaki tabloda verilmeyen bölümleri doldurunuz.

	Yüzlük	Onluk	Birlik
	8	2	4
Sayı			
Okunuşu			
Basamak Adları	Yüzler Bas.	Onlar Bas.	Birler Bas.
Basamak Değeri			

3. Aşağıdaki sayıları küçükten büyüğe doğru sıralayıp yazınız.

169 - 109 - 196 - 106 - 119

4. Aşağıdaki sayıların en yakın olduğu onlukları bulup karşlarına yazınız.

143 →

179 →

95 →

33 →

194 →

5. Aşağıdaki sayıları romen rakamlarıyla yazınız.

7 → 12 → 14 →
10 → 9 →

6. Aşağıdaki örüntülerde boş bırakılan yerlere gelmesi gereken sayıları yazınız.

a. 9 14 13 18 17
b. 80 78 76 72 70 68
c. 3 4 6 9 13

7. Aşağıdaki toplama ve çıkarma işlemlerini yapınız.

$$\begin{array}{r} 232 \\ + 366 \\ \hline \end{array} \quad \begin{array}{r} 193 \\ + 369 \\ \hline \end{array} \quad \begin{array}{r} 147 \\ + 521 \\ \hline \end{array}$$

$$\begin{array}{r} 456 \\ + 108 \\ \hline \end{array} \quad \begin{array}{r} 642 \\ + 303 \\ \hline \end{array} \quad \begin{array}{r} 781 \\ - 444 \\ \hline \end{array}$$

$$\begin{array}{r} 705 \\ - 406 \\ \hline \end{array} \quad \begin{array}{r} 853 \\ - 101 \\ \hline \end{array} \quad \begin{array}{r} 536 \\ - 188 \\ \hline \end{array}$$

8. Üç basamaklı en büyük çift sayının 199 eksiği kaçtır?

$$\begin{array}{r} 998 \\ - 199 \\ \hline \end{array}$$

8. Aşağıdaki çarpma işlemlerini yapınız.

$$\begin{array}{r} 26 \\ \times 3 \\ \hline \end{array}$$

$$\begin{array}{r} 23 \\ \times 4 \\ \hline \end{array}$$

$$\begin{array}{r} 47 \\ \times 5 \\ \hline \end{array}$$

$$\begin{array}{r} 12 \\ \times 35 \\ \hline \end{array}$$

$$\begin{array}{r} 24 \\ \times 25 \\ \hline \end{array}$$

9. Aşağıdaki bölme işlemlerini yapınız.

$$38 \overline{) 2}$$

$$48 \overline{) 3}$$

$$84 \overline{) 4}$$

$$50 \overline{) 5}$$

$$63 \overline{) 7}$$

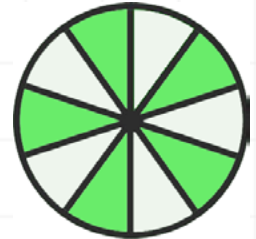
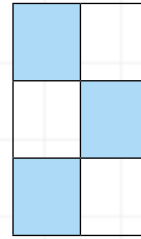
10. Bir çiftlikte 16 tavuk, 32 koyun ve 17 at vardır. Buna göre çiftlikteki hayvanların ayak sayılarını toplamı kaçtır?

11. 96 litre zeytinyağını beşer litrelik şişelere koyarsak geriye kaç litre zeytinyağı kalır?

12. Aşağıdaki saatlerin öğleden sonra kaç gösterdiğini altlarına yazınız.



13. Aşağıdaki şekillerin boyalı kısımlarına karşılık gelen kesirleri yazınız.



14. 35 kişilik bir sınıfın $\frac{4}{7}$ 'ü kız, diğerleri erkek öğrencidir. Bu sınıfta kaç erkek öğrenci vardır?