

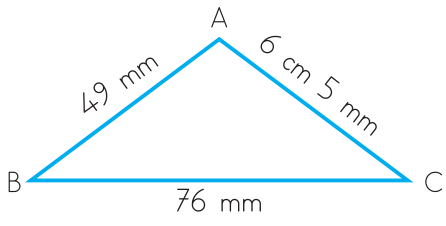


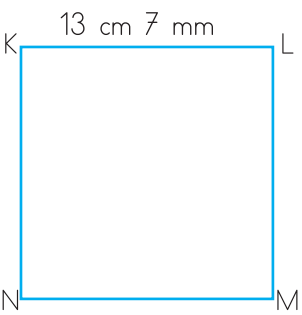
DOLU
DOLU
124 SAYFA!
+
16 SAYFA
DİKKAT/
ZEKA VE
KODLAMA
EKİ

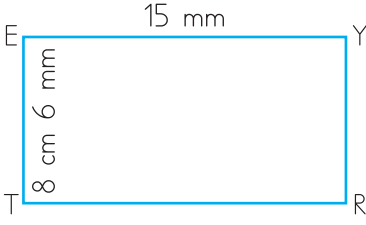
10
TL

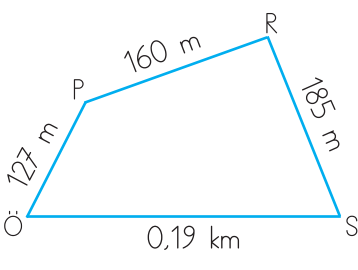
Bayi Listesi
ve Örnek Kitaplar
ilkokul1.com'da!

GEOMETRİK ŞEKİLLERİN ÇEVRE UZUNLUKLARI

	Kenar Uzunluklarını En Küçük Birime Çevir ve Yaz	Çözüm
Çevre Uzunluğu:		

	Kenar Uzunluklarını En Küçük Birime Çevir ve Yaz	Çözüm
Çevre Uzunluğu:		

	Kenar Uzunluklarını En Küçük Birime Çevir ve Yaz	Çözüm
Çevre Uzunluğu:		

	Kenar Uzunluklarını En Küçük Birime Çevir ve Yaz	Çözüm
Çevre Uzunluğu:		

ÇEVRE UZUNLUĞU PROBLEMLERİ

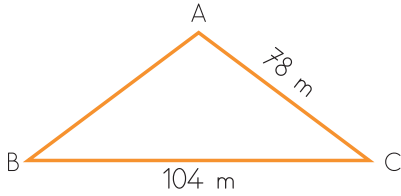
1

Her sabah parkın etrafında 4 tur atarak 1816 metre koşuyorum. Koştuğum bu parkın çevresi kaç metredir?

2

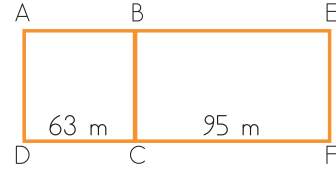
Sebzeleri yetiştirdiğimiz seranın etrafına 6 sıra tel örgü çektik. 4386 metre tel kullandık. Seranın çevresi kaç metredir?

3



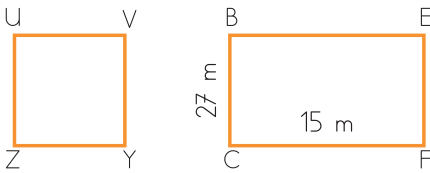
Üçgen şeklindeki tarlanın çevresi 297 m'dir. Tarlanın verilmeyen kenar uzunluğu kaç m'dir?

4



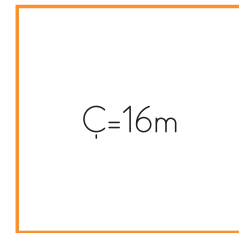
Okulumuzun bahçesi yukarıdaki gibidir. Beden eğitimi dersinde iki tur okul çevresinde koştuğumuzda 442 metre yol almış oluyoruz. O halde okulumuzun çevresi kaç metredir?

5



Yukarıdaki dikdörtgen ile karenin çevresi birbirine eşittir. Buna göre karenin bir kenarı kaç santimetredir?

6



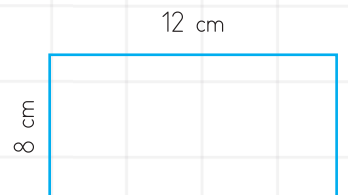
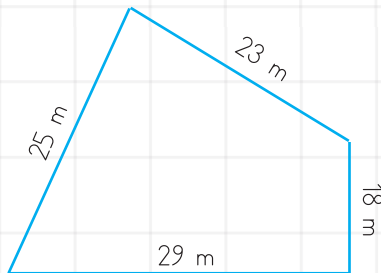
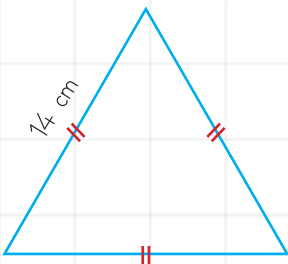
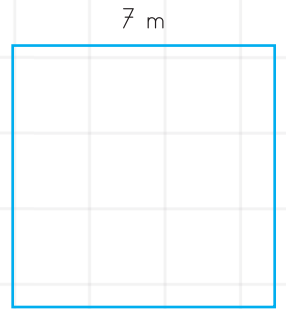
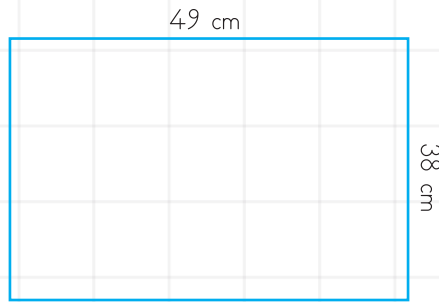
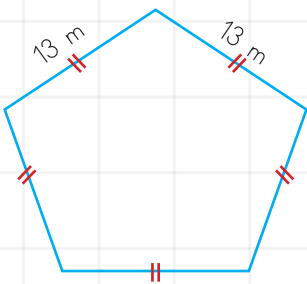
Yukarıdaki karenin çevresi 16 metredir. Bu kareden 5 tane yan yana koyduğumuzda oluşacak dikdörtgenin çevresi kaç metre olur?

Uzun kenarı 90 m, kısa kenarı 50 m olan dikdörtgen şeklindeki arsanın etrafına 4 m aralıklarla fidan dikilecektir. Buna göre kaç fidan gereklidir?

Dikdörtgen şeklindeki bir bahçenin etrafına toplam 450 m uzunluğunda 3 sıra tel çekilmiştir. Bu bahçenin bir uzun kenarı 50 m olduğuna göre bir kısa kenarı kaç santimetredir?

Babamın boyu 1m 88 cm'dir. Annem benden 19 cm uzun, babamdan 15 cm kısadır. Benim boyum kaç santimetredir?

Aşağıdaki geometrik şekillerin çevre uzunluklarını hesaplayıp altlarına yazalım.



MINİ DEĞERLENDİRME

Benim adım Akın.
Ben dördüncü sınıfa
gidiyorum.



1 Akın'ın verdiği bilgiye göre boyu aşağıdakilerden hangisi olabilir?

- A. 140 cm
B. 1m 80cm
C. 140 m
D. 140 mm

2 Aşağıdaki öğrencilerden hangisi uzunluk ölçüsü birimleri birbirine yanlış çevrilmiştir?

- A. 14.000 cm = 14 m
B. 35 m = 3500 cm
C. 910 m = 91 cm
D. 35 km = 3500 m

3 Kerim evden okula gitmek üzere 615 m yol gidiyor. Kerim kaç metre daha yürürse 1 km yürümüş olur?

- A. 285 m
B. 475 m
C. 385 km
D. 385 m

Günde ortalama 600
metre yürüyorum.



4 Yukarıdaki çocuk 5 günde kaç km yol gider?

- A. 3 km 600 m
B. 3 km
C. 3000 m
D. 5 km

5 Orhan'ın kurşun kaleminin boyu 22 cm'dir. Esra kalemini kalemıraş ile her açtığında kalemin boyu 5 mm kısalıyor. Orhan kalemini 6 kez açtığında kalemin boyu kaç mm kalır?

- A. 19 m
B. 19 cm
C. 190 mm
D. 190 cm

6 İki il arasındaki uzaklığı 6852 m olarak ölçen Umud aşağıdakilerden hangisiyle bu uzaklığı değişik şekilde ifade eder?

- A. 685 km 2 cm
- B. 68 km 52 cm
- C. 6 m 852 cm
- D. 6 km 852 m

7 Geçen yıl dikilen fidanın boyu 1 m 53 cm' idi. Bu yıl aynı fidanın boyu 1 m 71 cm ise bu fidan bir yılda kaç mm uzamıştır?

- A. 18 mm
- B. 180 mm
- C. 10 cm 8 mm
- D. 178 mm

8 Kenar uzunlukları 12 cm ve 7 cm olan bir dikdörtgenin çevresi, bir kenar uzunluğu 9 cm olan karenin çevresinden kaç cm daha uzundur?

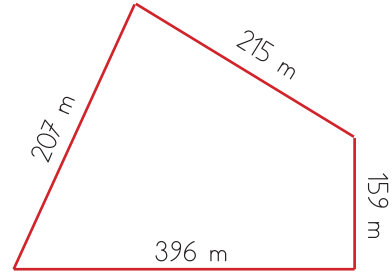
- A. 2
- B. 3
- C. 4
- D. 5

9 Yamaç, defterine 170 mm uzunluğunda bir çizgi çizmiştir. Bu çizginin 70 mm'sini sildiği zaman kalan çizginin uzunluğu kaç mm olur?

- A. 10 mm
- B. 1 cm
- C. 10 cm
- D. 100 mm

10 Aşağıdaki uzunlukların en büyüğü hangisidir?

- A. 3000 mm
- B. 30 m
- C. 300 cm
- D. 3 km



11 Yukarıdaki parkın çevresinde 3 tur koşan bir çocuk toplam kaç m koşmuştur?

- A. 2931
- B. 2874
- C. 2961
- D. 3031

HOŞ GELDİN 23 NİSAN

Günlerdir yolunu bekledik durduk.
Sen geleceksin diye çiçek açtı.
Bahçelerdeki bütün ağaçlar.
Leylekler yuvalarına döndü.

Toprak ısındı, uyandı karıncalar.
Çoluk çocuk yollara döküldü.
Bugün sevinç içindeyiz hepimiz,
Bayraklarla süsleniyor balkonlar.

Caddelere taklar kuruyor,
Bizim marşı çalıyor bandolar.
Nasıl sevinmeyelim geldiğine?
Okulda bayram, evde bayram, sokakta bayram...

Hoş geldin 23 Nisan!
Sana gözlerimizden sevinç,
Bahçelerimizden bahar getirdik.
Bari hemen bitivermese bu yolculuk...

Seni kucaklamaya geliyor bugün,
Köyler, şehirler dolusu çocuk.
ŞÜKRÜ ENİS REGÜ



OKUDUĞUMUZU ANLADIK MI?

1 Şiirin ana duygusu nedir?

2 Şiirin birinci bölümünde geçen deyimleri bulunuz. Bu deyimleri cümle içinde kullanınız.

3 Şiirdeki altı çizili sözcüğün anlamını sözlükten bulup yazınız.

4 Metnin ana fikri nedir?

23 NİSAN

Biz dünyaya gelmeden
Her yeri düşman almış.
Atatürk düşmanları,
Yurdumuzdan çıkarmış.

23 Nisan günü
Meclis kuruldu diye,
Büyük bayram verilmiş
Çocuklara hediye.

Gülelim eğlenelim,
Kutlayalım bayramı.
Verelim hep el ele
Yükseltelim vatanı.



- Şiiri en güzel yazınızla Türkçe defterinize yazınız. Aşağıdaki soruları metne göre cevaplayınız.

OKUDUĞUMUZU ANLADIK MI?

1 Biz dünyaya gelmeden neler olmuş?

2 Düşmanları yurdumuzdan çıkaran kimdir?


3 Meclis ne zaman kurulmuş?

4 Bayram kimlere hediye edilmiş?

5 Bayramı nasıl kutlayalım?

6 23 Nisan günü kutlanan bayramın adını tam olarak yazınız.

FİL İLE KELEBEK



Fil sürüsü fil dişi arayan avcılardan kaçıyor. Sürüde yeni doğan yavru bir fil vardı.

O da sürünün arkasından düşe kalka yetişmeye çalışıyordu.

Annesi birkaç defa yavrusuna "koş!" diye bağırdı. Yavru fil bir türlü sürüye yetişemiyordu.

Bir ara annesi:

- Hortumunu kuyruğuma dola yavrucuğum, diye bağırdı.

Böylece biraz daha koştular. Yavru fil, bir ara hortumunu annesinin kuyruğundan ayırdı. Sürü gittikçe yavru fileden uzaklaştı. Yavru fil ormanda yalnız kaldı. korkuyordu çok acıkmıştı. Ürkek ürkek etrafına bakınıyordu.

Yavru fili izleyen bir kelebek onun yanına geldi. Filin kulağına:

- Küçük fil, avcılar arkadan geliyor, kaçmalısın, dedi.

Küçük fil hortumunu kulağına uzatarak:

- Ne yapabilirim? Hem çok yoruldu hem de çok açtım, dedi.

Kelebek o zaman:

- Haydi, seninle yer değiştirelim. Sen kocaman bir kelebek, Bende küçücük bir fil olayım. Senin sırtında sürüye yetişelim. Orada yine yer değiştiririz, dedi.

Fil, bir anda kocaman bir kelebek oldu. Kelebekte de küçücük bir fil oldu. Böylece sürüye yetiştiler. Orada eski hallerine döndüler.

OKUDUĞUMUZU ANLADIK MI?

1 Yavru fil neden fil sürüsüne yetişemiyordu?

2 Yavru fil hortumunu annesinin kuyruğundan ayırınca ne oldu?

3 Kelebek yavru file ilk olarak ne yapmasını söyledi?

4 Yavru fil avcılardan yakalamasından nasıl kurtuldu?

5 Metinde ki kahramanlar kimlerdir?

6 Olay nerede geçiyor?

ŞEHRE GİDEMİYEN ÇOCUK



Bir gün babam kasabadan şehre gidiyordu:

- Baba, beni de götür, dedim.

Fakat babam itiraz etti:

- Hayır, hava soğuk, sen üşürsün, evde kal, dedi.

Bu cevap karşısında ağlamaya başladım. Çatı katında bir köşeye çöktüm.

Uyuyup kalıncaya kadar ağladım. Ne kadar uyudum bilmiyorum. Rü-

yamda kasabaya doğru giden bir patika gördüm. Babam bu patikada

yürüyordu. Ona yetiştim ve birlikte şehre doğru yürümeye başladık. Bir

süre sonra ve uzakta dumanı tüten bir baca gördüm ve babama sordum.

- Şehir orası mı baba?

- Evet orası, dedi babam.

Bir süre sonra bacanın olduğu yere vardık ve oranın, küçük gevrekler yapan bir fırın olduğunu gördüm.

-Babacığım, bunlardan birkaç tane alır mısın diye sordum.

Babam isteğimi kırmadı ve birkaç tane aldı. Tam bu esnada uykudan uyandım. Ne hoş bir

rüyaydı... Çizmelerimi ve eldivenlerimi giyip dışarı çıktım. Arkadaşlarım buz üstünde kayıyorlardı.

Ben de onlara katıldım ve her yanımda buz kesinceye kadar oynadım.

Akşama doğru eve gitmiş ve sobanın yanına oturmuşum. Az sonra babamın şehirden döndü-

ğünü duydum. Çok sevinçliydim. Hemen koştum ve:

- Hoş geldin babacığım, şehirden bana ne getirdin diye sordum

Taze gevrek getirdim, dedi ve ellerini uzattı.

OKUDUĞUMUZU ANLADIK MI?

1 Babası çocuğunu niçin şehre götürmedi?

2 Çocuğun gördüğü rüyayı özetleyiniz.

3 Çocuk uykudan uyanınca ne yaptı?

4 Babası şehirden gelirken ne çocuğa almış?

5 Sizde gördüğünüz düşü kısaca yazın.

BİLİNÇLİ TÜKETİCİ

● Aşağıdaki cümlelerde bilinçli tüketici ile ilgili verilen bilgilerden doğru olanlara "D", yanlış olanlara "Y" yazarak belirtelim.

1	(.....) Bilinçli tüketiciler alışverişe ihtiyaç listesi ile çıkar.
2	(.....) Ürünleri görerek ve inceleyerek almaz.
3	(.....) Satın alırken ürünlerin son kullanma tarihlerine dikkat etmez.
4	(.....) Aldığı ürünlerde TSE belgesi olup olmadığına bakar.
5	(.....) Alışveriş yaparken bütçesinin uygunluğuna ve fiyatına dikkat etmez.
6	(.....) Satın aldığı ürünlerde sağlığa zararlı madde olup olmadığını kontrol eder.
7	(.....) İhtiyaç duyduğunda Tüketici danışma Hattından bilgi alır.
8	(.....) Aldığı ürün bozuk çıktığından fişi ile birlikte geri götürerek itiraz edebilir.
9	(.....) Alışveriş yaparken, temel ihtiyaçlarını değil isteklerini ön planda tutar.
10	(.....) Ürün alırken yerli malı kullanmaya özen gösterir.
11	(.....) Fatura ve fiş almaz.
12	(.....) Alacağı ürünlerle ilgili fiyat araştırması yapar.
13	(.....) Aldığı elektronik ürünlerin kaliteli ve garanti belgeli olup olmadığına bakmaz.

● Aşağıdaki ürünlerin üzerindeki amblemlerin ve kısaltmaların anlam ve açıklamalarını eşleştirelim.

Gıda Maddeleri ile Temas Eden Madde



Türk Standart Enstitüsü tarafından uygunluk belgesi




Türk Malı



Geri dönüşümü olan ürün



● Aşağıdaki cümlelerde boş bırakılan yerlere uygun sözcüklerle dolduralım.



1	Bir ürünün standartlara uygunluğunu belirler
2	Bilinçli bir tüketici alışveriş yapmadan önce hazırlar.
3	Tüketicilerin haklarını koruyan derneğe diyoruz.
4	Ülkemizde ambalajlı gıda ürünlerinın izni ile üretilir
5	Dayanıklı tüketim malları satın alırken aldığımız ürünün yaygın bir ağına sahip olup olmadığına da bakmalıyız
6	Alışverişlerimizde mutlaka veya almalıyız.
7	Bilinçli bir tüketici şikayetini numarayı arayarak bildirebilir.
8	Tüketicilerin haklarını koruyan derneğe diyoruz.

● Ürünün çeşidine göre garanti belgesi, yıkama talimatı ya da son kullanma tarihi belirtiliyor. Aşağıdaki ürünleri bu bilgiye göre eşleştirelim.

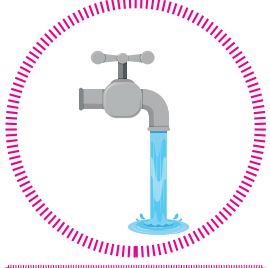


Yıkama Talimatlı Ürün

Son kullanma Tarihli Ürün

Kullanma Kılavuzu Olan Ürün


● Kullandığımız kaynakları israf etmeden dikkatli tüketmeliyiz. Aşağıdaki doğal kaynaklarımızın israf edilmemesi için nasıl önlemler alacağımızı yazalım.



SU




Handwriting practice area for the word 'SU' with three horizontal lines (top, middle, bottom) and a dashed middle line.



ELEKTRİK



Handwriting practice area for the word 'ELEKTRİK' with three horizontal lines (top, middle, bottom) and a dashed middle line.



GIDA




Handwriting practice area for the word 'GIDA' with three horizontal lines (top, middle, bottom) and a dashed middle line.



GİYECEK



Handwriting practice area for the word 'GİYECEK' with three horizontal lines (top, middle, bottom) and a dashed middle line.



ZAMAN



Handwriting practice area for the word 'ZAMAN' with three horizontal lines (top, middle, bottom) and a dashed middle line.

EV ALIŖTIRMALARI

● AŖağıdaki ürünleri ihtiyalarımızı düşünerek öncelik sırasına göre sıraladığımızda ilk önce olan ihtiyacımızı kutucuğı yazalım.

Ev	Sinema	ay	Meyve	→	
Muz	Tatil	Su	Oyuncak	→	
Küpe	Ayakkabı	Kalem	Kek	→	
Kayak	Tablo	İla	Kemer	→	

● AŖağıda verilenlerden dođru olanların yanına "D", yanlış olanların yanına "Y" yazınız.

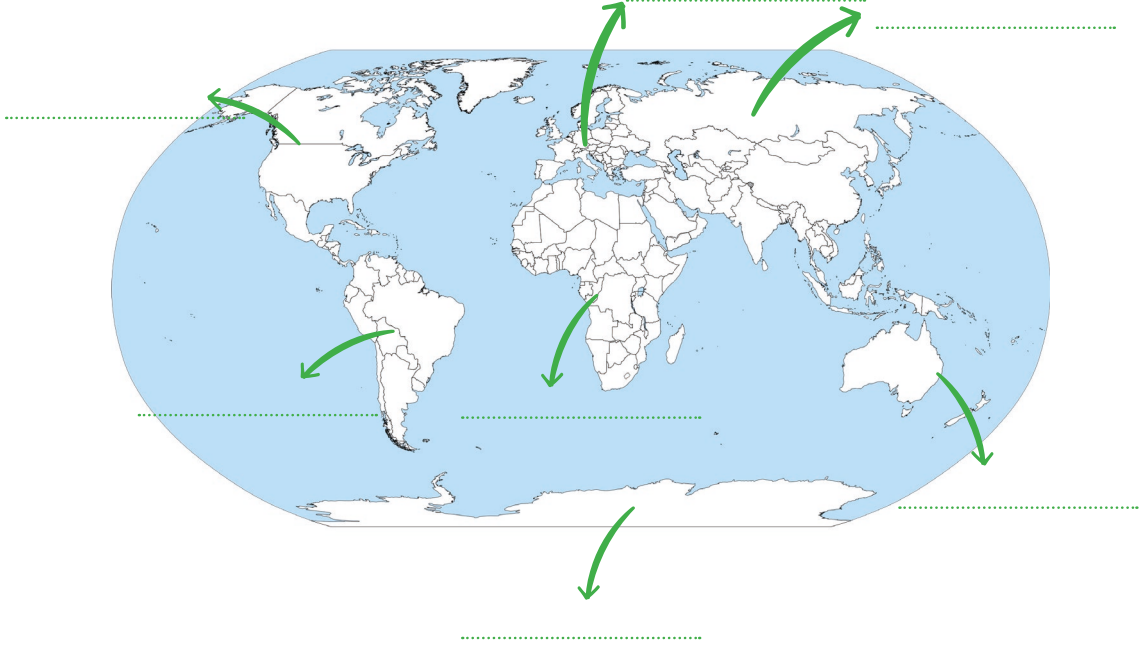
1	(.....) Bisiklet sosyal ihtiyalarımızdan biridir.
2	(.....) ikolata, pahalı bir ayakkabı ve hızlı bir araba ihtiyalarımız arasındadır.
3	(.....) Temel ihtiyalarımızın karřılanmaması hayatımızı tehlikeye sokar.
4	(.....) Yařamımızı sađlıklı řekilde sürdürebilmek için gerekli olan řeylere ihtiya denir.
5	(.....) Gezmek, yemek ve barınmak temel ihtiyalarımızdır.
6	(.....) İnsanların temel ihtiyalarının dıřında yařamlarını kolaylařtırmak ve güzelleřtirmek için gereksinim duydukları řeylere sosyal ihtiya denir.
7	(.....) Karřılanmadığında yařamımızı tehlikeye atmayan ancak olmasını arzuladığımız řeylere istek denir.

● AŖağıda verilenlerden dođru olanların yanına "D", yanlış olanların yanına "Y" yazınız.

1.	Lokantada alıřan görevlinin sipariři bisikleti ile götürmesi.	➤	
2.	Yaz tatilinde günde iki saat bisikletle binilmesi.	➤	
3.	Toza alerjisi olan birinin evinin her gün temizlenmesi.	➤	
4.	Maddi durumları iyi olduđu için evlerinin her gün temizlenmesi	➤	
5.	İřktan gözleri rahatsız olan birinin güneř gözlüğü alması.	➤	
6.	Güzel göründüğünü düşünen birinin pahalı bir güneř gözlüğü alması.	➤	

KÜRESEL BAĞLANTILAR

- Aşağıdaki dünya haritasına kıtaları yerleştiririm.



Avrupa, Afrika, Asya, Avustralya, Kuzey Amerika, Güney Amerika, Antartika

- Okyanus isimlerini haritada olması gereken yerlere yazarak boyyalım.



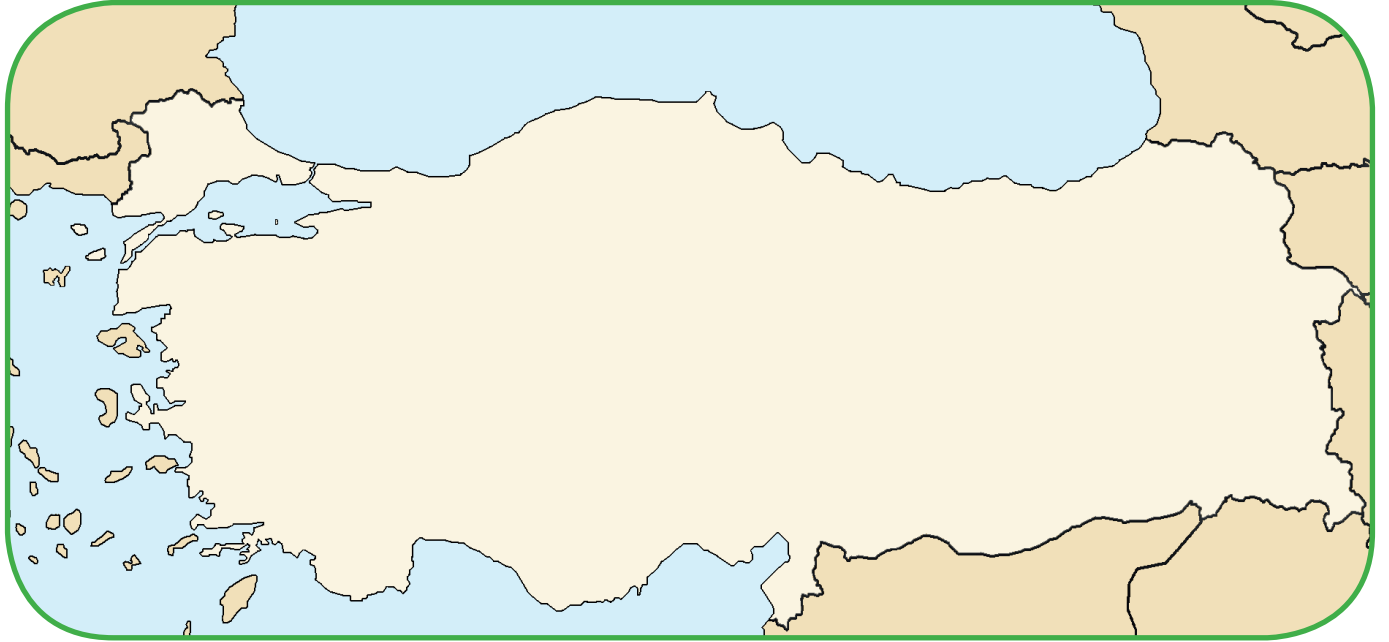
Büyük Okyanus, Atlas Okyanusu, Hint Okyanusu, Kuzey Buz Denizi

● Aşağıdaki cümlelerdeki noktalı yerlere uygun sözcükleri yazalım.

Trakya Çanakkale Boğazı Asya Avrupa Anadolu İstanbul Boğazı

- 1 Ülkemiz topraklarının büyük kısmı Kitası'nda, diğer bölümü Kitası'nda yer almaktadır.
- 2 Asya Kitası'nda bulunan topraklarımıza Avrupa Kitası'da bulunan bölüme ise denir.
- 3 Bu iki kıta ülkemiz sınırlarında bulunan ve ile birbirinden ayrılmaktadır.

● Yurdumuzun komşularını aşağıdaki yön bilgilerine göre eşleştirerek harita üzerine yazalım.



- Yurdumuzun kuzeydoğusunda ● ● Gürcistan
- Yurdumuzun güneyinde ● ● Ermenistan
- Yurdumuzun güneydoğusunda ● ● Bulgaristan
- Yurdumuzun doğusunda ● ● Suriye
- Yurdumuzun kuzeybatısında ● ● Irak
- Yurdumuzun güneybatısında ● ● İran
- Yurdumuzun güneybatısında ● ● Yunanistan