

# PROBLEM ÇÖZÜYÜRÜZ -1-

1. TBMM kaç yıl önce açılmıştır?

ÇÖZÜM:


2. Emrah'ın parası Servet'in parasından 240 TL fazladır. Emrah parasıyla tanesi 15 TL olan 3 kitap alırsa ikisinin paraları arasındaki fark ne olur?

ÇÖZÜM:


3. 2500 TL ile gittiğimiz alışverişte ben 225 TL'ye kaban, annem 150 TL'ye bir elbise, ablam 300 TL'ye bir çizme, babam ise 460 TL'ye bir takım elbise aldı. Alışveriş dönüşünde kaç TL'miz kaldı?

ÇÖZÜM:


4. Emrah'ın parası Servet'in parasından 240 TL fazladır. Emrah parasıyla tanesi 15 TL olan 3 kitap alırsa ikisinin paraları arasındaki fark ne olur?

ÇÖZÜM:


4. Havalimanına inen uçaktan 4236 erkek yolcu, erkeklerden 1940 eksik bayan yolcu, bayan yolculardan da 848 daha az çocuk yolcu inmiştir. Havalimanına inen toplam yolcu sayısı kaçtır?

ÇÖZÜM:


5. Aras, babasının verdiği 550 TL ile markete ve servise olan borçlarını ödedi. Markete 216 TL ödediğine göre servise ne kadar ödeme yapmıştır?

ÇÖZÜM:


6. Mesut Bey 1600 TL'ye aldığı televizyonun 780 TL'sini peşin ödedi. Bir ay sonra bir miktar daha ödeme yapınca 350 TL borcu kaldı. Bir ay sonra kaç TL ödedi?

ÇÖZÜM:


7. Bir okulda 752 kız, 795 erkek öğrenci vardır. Bu okuldan 442 öğrenci mezun oldu. 482 öğrenci yeni kayıt oldu. Bu okulda kaç öğrenci vardır?

ÇÖZÜM:




# EV ALIŖTIRMALARI

● AŖağıdaki problemleri çözüünüz.

1

$7A9 - B54 = 555$  işleminde B ve A birbirinden farklı doğal sayılardır. BA doğal sayısı kaçtır?

2

Bir çıkarma işleminde eksilenle çıkanın toplamı 1245, fark 389'dur. Eksilen sayı kaçtır?

3

Bir çıkarma işleminde fark 176'dır. Eksilen sayıya 34 ekleyip, çıkan sayıdan 42 çıkarırsak yeni fark kaç olur?

4

$AB6 - 47 = 689$  işleminde A ve B birbirinden farklı doğal sayılardır.  $A + B$  işlemin sonucu kaçtır?

5

3678 sayısının onlar basamağına 1 eklenir, yüzler basamağından 1 çıkarılırsa, yeni oluşan sayı ile arasındaki fark kaç olur?

6

Üç sayının toplamı 8003'tür. Birinci sayı 2885, ikinci sayı 3105 olduğuna göre üçüncü sayı kaçtır?

7

5990 sayısı 1 binlik + 8 onluk azalırsa sonuç kaç olur?

8

Bir fırıncı 9666 ekmeğın 2597 tanesini satmıştır. 1965 tanesini ihtiyacı olan insanlara vermiştir. Buna göre fırıncının elinde kaç ekmeğ kalmıştır?

# DEĞERLENDİRME ÇALIŞMALARI

$$\begin{array}{r} 7506 \\ 2575 \\ 1928 \\ + 257 \\ \hline \dots\dots\dots \end{array}$$

① Yukarıdaki toplama işleminin sonucu aşağıdaki şıklardan hangisinde doğru verilmiştir?

- A. 12.066  
B. 11.260  
C. 12.266  
D. 11.166

$$\begin{array}{r} 4208 \\ \text{A B C D} \\ + 1578 \\ \hline 8460 \end{array}$$

② Yukarıdaki toplama işleminde verilmeyen toplanan aşağıdakilerden hangisidir?

- A. 2.674  
B. 2.774  
C. 1.644  
D. 2.624

③ Babam 38, annem 35 bende 9 yaşındayım . 6 yıl sonra üçümüzün yaşlarını en yakın onluklara yuvarlayıp topladığımızda sonuç kaç olur?

- A. 100  
B. 90  
C. 80  
D. 70

$$\begin{array}{r} 2657 \\ + 1549 \\ \hline \end{array} \quad \begin{array}{r} 2357 \\ + 1887 \\ \hline \end{array}$$

④ Yukarıdaki işlemlerin sonuçlarını en yakın yüzlüğe yuvarlayıp topladığımızda sonuç aşağıdaki şıklardan hangisi olur?

- A. 8.200  
B. 7.400  
C. 8.600  
D. 8.400

⑤ Kitabımın 328 sayfasını okudum. Geriye okumam gereken 199 sayfa kaldığına göre kitabım toplam kaç sayfadır?

- A. 527  
B. 129  
C. 437  
D. 537

$$\begin{array}{r} 6510 \\ - 3824 \\ \hline \end{array}$$

⑥ Yukarıdaki işlemin sonucu en yakın yüzlüğe yuvarlandığında kaç olur?

- A. 2500  
B. 2600  
C. 2700  
D. 2800

E F G H

$$\begin{array}{r} 2568 \\ - \\ \hline 1953 \end{array}$$

7 Yukarıdaki çıkarma işleminde verilmeyen eksilen rakamlardan F ve E yerine gelecek rakamlar toplamı kaçtır?

- A. 9 B. 10  
C. 11 D. 12

4 0 4 5

$$\begin{array}{r} 4045 \\ - \\ \hline 2846 \end{array}$$

8 Yukarıdaki çıkarma işleminde çıkan sayının basamak değeri toplamı kaçtır?

- A. 6789 B. 1219  
C. 1199 D. 1239

9 Hatıra ormanına okulumuz adına 2765 fidan diktik. Bu yıl ise önceki yılın 1365 fazlası fidan dikilmiştir. Hatıra ormanında okulumuzun toplam kaç ağacı vardır?

- A. 4130 B. 4330  
C. 6805 D. 6895

10 Bir bulaşık makinesinin fiyatı 1580 TL 'dir. Televizyonun fiyatı, bulaşık makinesinin fiyatından 356 TL az ise bulaşık makinesi ve televizyon alan bir kişi kaç para öder?

- A. 1936 B. 1916  
C. 2084 D. 2804

11 Aykut ilk ay 1596 TL, ikinci ay 2268 TL kazanmıştır. Aykut üçüncü ay kazandığı para ile beraber üç ayda toplam 6302 TL kazanmıştır.

Yukarıdaki problemin soru cümlesi aşağıdakilerden hangisidir?

- A. İkinci ay ne kadar kazanç elde etmiştir?  
B. Üç ayda toplam kazancı ne kadardır?  
C. Birinci ay ne kadar kazanç elde etmiştir?  
D. Üçüncü ay ne kadar kazanç elde etmiştir?



ilkokul1.com

# ÇARPMA İŞLEMİNİ HATIRLAYALIM

● Aşağıdaki çarpma işlemlerini yapınız.

$$\begin{array}{r} 43 \\ \times 3 \\ \hline \end{array}$$

$$\begin{array}{r} 60 \\ \times 5 \\ \hline \end{array}$$

$$\begin{array}{r} 47 \\ \times 6 \\ \hline \end{array}$$

$$\begin{array}{r} 48 \\ \times 8 \\ \hline \end{array}$$

$$\begin{array}{r} 99 \\ \times 3 \\ \hline \end{array}$$

$$\begin{array}{r} 35 \\ \times 4 \\ \hline \end{array}$$

$$\begin{array}{r} 70 \\ \times 6 \\ \hline \end{array}$$

$$\begin{array}{r} 32 \\ \times 4 \\ \hline \end{array}$$

$$\begin{array}{r} 27 \\ \times 5 \\ \hline \end{array}$$

$$\begin{array}{r} 71 \\ \times 8 \\ \hline \end{array}$$

$$\begin{array}{r} 24 \\ \times 6 \\ \hline \end{array}$$

$$\begin{array}{r} 63 \\ \times 4 \\ \hline \end{array}$$

$$\begin{array}{r} 48 \\ \times 4 \\ \hline \end{array}$$

$$\begin{array}{r} 72 \\ \times 5 \\ \hline \end{array}$$

$$\begin{array}{r} 36 \\ \times 7 \\ \hline \end{array}$$

$$\begin{array}{r} 17 \\ \times 4 \\ \hline \end{array}$$

$$\begin{array}{r} 23 \\ \times 7 \\ \hline \end{array}$$

$$\begin{array}{r} 86 \\ \times 7 \\ \hline \end{array}$$

$$\begin{array}{r} 94 \\ \times 5 \\ \hline \end{array}$$

$$\begin{array}{r} 36 \\ \times 9 \\ \hline \end{array}$$

$$\begin{array}{r} 66 \\ \times 6 \\ \hline \end{array}$$

$$\begin{array}{r} 37 \\ \times 4 \\ \hline \end{array}$$

$$\begin{array}{r} 54 \\ \times 8 \\ \hline \end{array}$$

$$\begin{array}{r} 73 \\ \times 2 \\ \hline \end{array}$$

$$\begin{array}{r} 14 \\ \times 3 \\ \hline \end{array}$$

$$\begin{array}{r} 123 \\ \times 3 \\ \hline \end{array}$$

$$\begin{array}{r} 241 \\ \times 4 \\ \hline \end{array}$$

$$\begin{array}{r} 302 \\ \times 7 \\ \hline \end{array}$$

$$\begin{array}{r} 105 \\ \times 4 \\ \hline \end{array}$$

$$\begin{array}{r} 304 \\ \times 5 \\ \hline \end{array}$$

$$\begin{array}{r} 107 \\ \times 6 \\ \hline \end{array}$$

$$\begin{array}{r} 155 \\ \times 3 \\ \hline \end{array}$$

$$\begin{array}{r} 196 \\ \times 2 \\ \hline \end{array}$$

$$\begin{array}{r} 292 \\ \times 5 \\ \hline \end{array}$$

$$\begin{array}{r} 321 \\ \times 6 \\ \hline \end{array}$$

$$\begin{array}{r} 105 \\ \times 9 \\ \hline \end{array}$$

$$\begin{array}{r} 214 \\ \times 7 \\ \hline \end{array}$$

$$\begin{array}{r} 335 \\ \times 6 \\ \hline \end{array}$$

$$\begin{array}{r} 121 \\ \times 8 \\ \hline \end{array}$$

$$\begin{array}{r} 236 \\ \times 3 \\ \hline \end{array}$$



● Aşağıdaki şekilde ortadaki sayı ile kenarlarda yer alan sayıları çarpıp kutulara yazınız.

$= \dots\dots\dots$

23	19
$6x$	
71	25

$= \dots\dots\dots$

$= \dots\dots\dots$

42	24
$12x$	
33	29

$= \dots\dots\dots$

$= \dots\dots\dots$

3	7
$104x$	
6	8

$= \dots\dots\dots$

$= \dots\dots\dots$

25	34
$25x$	
41	47

$= \dots\dots\dots$

● Aşağıdaki işlemleri yaparak boşlukları doldurunuz.

$16$	
$x$	
$17$	
$+$	

$32$	
$x$	
$39$	
$+$	

$24$	
$x$	
$54$	
$+$	

$63$	
$x$	
$34$	
$+$	



# GERÇEK VE HAYAL ÜRÜNÜ İFADELER

● Aşağıdaki cümlelerin numaralarını uygun bölümlere yazınız.

1. Kazlar bir süre dinlenip, yeniden uçmaya başladılar.	18. Az kalsın uçurumdan düşüyordum.
2. Dün okula giderken taksiye bindi.	19. Otobüste ciklet balığına selam verdim.
3. Leylek, bana karnının acıktığını söyledi.	20. Turunç, saksığana tuzak kurmuş.
4. Ay dede el salladı.	21. Koca fil saklambaç oynadı.
5. Kozalak yere düşünce ağladı.	22. Yıldızlar cama gözlerini dikmişti.
6. Kartal güvercine sarıldı.	23. Masa duvara tırmanıyordu.
7. Meyveler ağaçtan düşünce ağladı.	24. Ayaklarım benden yardım istiyor.
8. Yeni bir araba almak istiyorum.	25. Güneş saçlarını taradı.
9. Kaplan evimizi ziyaret etti.	26. Fil hortumuyla su içti.
10. Bulut, çok zayıfladığını söyledi.	27. Ayı Yogi kafes taşıdı.
11. Derse geç kaldığı için üzüldü.	28. Annem mutfakta yere düştü.
12. Bahçeden üzüm topladım.	29. Zebra uçaktan atladı.
13. Meyvelerden muz, kiraza kızdı.	30. Koltukların üzerinde zıplamamak gerekir.
14. Kütüphaneye saat beşte gideceğim.	31. Yarasa selam vermeden uçup gitti.
15. Sabah Güneş bize kucak açtı.	32. Ayna konuşmaya başladı.
16. Babam ile birlikte bahçemizi temizledik.	33. Ütü yaparken perde yandı.
17. Karga, tilkinin kuyruğunu çekti.	34. Ormandaki hayvanlar oyun oynamaya başladı.

GERÇEK İFADELER




HAYALİ İFADELER

# DUYGUSAL VE ABARTILI İFADELER/ SEBEP - SONUÇ BİLDİREN İFADELER

● Aşağıdaki cümlelerin numaralarını uygun bölümlere yazınız.

1. Ablamın gözleri fal taşı gibi açıldı.	10. Onları beklerken çok merak ettim.
2. Kediyi görünce çok sevindi.	11. Bizim dünya kadar işimiz var.
3. Yılan karşısına çıkınca ödü patladı.	12. Üniversiteye girdiğim için havalara uçtum.
4. İsteddiğini yapmayınca küplere binmişti.	13. Kızınca kulaklarından dumanlar çıkıyordu.
5. Arabaya çarptıklarında çok üzüldük.	14. Yapılanı görünce ağız bir karış açık kaldı.
6. Geziye gideceğimiz için çok heyecanlıyız.	15. Sakatlanınca çok üzüldüm.
7. Aslan kral kükreyince yerler oynuyordu.	16. Şimşek çakınca çok korkuyorum.
8. Bisiklet alındığında sevinçten ağladım.	17. Karınca gibi sürekli çalışıyor.
9. Sonuncu olunca yerin dibine girdi.	18. Üzüntüden dal gibi kalmıştı.

ABARTILI İFADELER



DUYGUSAL İFADELER

● Alıştırma Aşağıdaki sebep-sonuç cümlelerini uygun ifadelerle tamamlayalım.

→ Teller koptuğu için.....

→ Onunla çok kötü tartıştık çünkü.....

→ Alevler çatıya çıktı bu yüzden.....

→ Çocuk yüzemiyordu bu sebeple.....

→ Sınavda yüz aldığımdan dolayı.....

→ İşimin uzaması nedeniyle.....

→ İki haftadır konuşmuyoruz bu nedenle.....

# DESTEKLEYİCİ VE AÇIKLAYICI İFADELER/ FARKLI DÜŞÜNMEYE YÖNLENDİREN İFADELER

**DİKKAT!**

Günlük hayatımızda bir konuyu desteklemek ve açıklamak için bazı ifadeler kullanırız. Bunların en önemlileri; örnek olarak, örneğin, hatta, gibi, yani, özellikle, açıkçası, doğrusu, başka bir deyişle, açıklamak gerekirse gibi sözcüklerdir.

● Aşağıdaki cümleleri açıklayıcı ve destekleyici ifadelerle tamamlayalım.

1. Buz, taş, cam ..... maddeler katı maddelerdir.
2. Murat köpekleri çok sever, ..... onun kadar sevenini ilgi gösterenini görmedim.
3. Emrah'ın önemli bir rahatsızlığı yok, ..... sağlıklı olduğunu söyleyebiliriz.
4. .... burası çok tehlikeli.
5. Nuri'nin öyle davrandığına takılma ..... iyi bir çocuktur.
6. Balık tutmayı ..... de lüfer yakalamayı çok severim.
7. Et, süt, yumurta ..... besinler protein bakımından zengindir
8. .... sizinle aynı düşünceyi paylaşmıyorum.
9. Çok çalışmalıyız ..... gecemizi gündüzümüze katmalıyız
10. Defteri doldurmadım ..... hiç doldurmak istemiyorum.

**DİKKAT!**

“ama, fakat, veya, ya da, oysa, yalnız, ancak, buna rağmen, yoksa” gibi sözcükler farklı düşünmeye yönlendiren ifadelerdir.

● Aşağıdaki cümleleri farklı düşünmeye yönlendiren ifadelerle tamamlayalım.

1. Annem sinirlenerek yerinden kalktı .....bana öyle geldi.
2. Çatıdan aşağıya baktı .....kimseyi göremedi.
3. Selde neleri varsa kaybettiler .....hayata tutunmayı bildiler.
4. Yavru balina annesinin ardından yüzyordu .....ona yetişemedi.
5. Ya bizimle gel.....burayı terk et.
6. Börekten küçük lokmalar alıyordu .....yutamıyordu.
7. Bana ne söylediğini anlayamadım ..... kızdığını hissettim.
8. Korkudan eli ayağı titredi .....elindeki oyuncak bir örümcekti.

# EV ALIŖTIRMALARI

● AŖağıdaki sözcükleri kullanarak neden - sonuç cümleleri oluŖturalım.

hava - Ŗemsiye - aldım - yanıma -  
bu nedenle - yağışlı



Cümle: .....  
.....

yorgun - çok - erkenden -  
olduğum - için - yattım



Cümle: .....  
.....

sebepten - için - oldu -  
basamadığı - frene - kazaya



Cümle: .....  
.....

çürüdü - dolayı - dişleri -  
şeker - çok - yediğinden



Cümle: .....  
.....

● AŖağıdaki cümleleri farklı ifadelere yönlendiren uygun sözcüklerle dolduralım.

yoksa      oysa      fakat      veya      buna rağmen  
ancak      ama      ya da

1. Hastalandığını anladı ..... doktora gidemedi.
2. Hafta sonu parka gidecektik ..... hava çok soğuyunca gidemedik.
3. Abimle bugün tiyatroya ..... sinemaya gideceğiz.
4. Laboratuvarında araştırma yapacaktım ..... bakteriler nedeniyle yapamadım.
5. Köpek yavaş adımlarla yürüyordu buna rağmen .....
6. Yeni kimlik kartımı bugün ya da .....
7. .... yoksa bu kadar başarılı olamaz.
8. .... oysa onu çok özlemiştim.

- Aşağıdaki destekleyici ve açıklayıcı ifadeleri kullanarak cümlelerdeki boşlukları dolduralım.

örnek olarak

açıkçası

doğrusu

gibi

özellikle

örneğin

buna rağmen

hatta

başka bir  
deyişle

açıklamak gerekirse

1. Bu kadar hızlı koşmasına şaşırdım. .... koşamayacağını düşünmüştüm.
2. Cam, taş, tahta ..... maddeler katı maddelerdir.
3. Aras mandalınayı çok sever, ..... onun kadar sevip tüketenini görmedim..
4. Okulda ..... uymamız gereken kural, derslere zamanında girmektir.
5. Turunçgiller ..... C vitamini yönünden zengindir.
6. Ayılar çok tehlikelidirler..... yavruları yanında olduğunda.
7. Cezmi de bir şey yok, ..... sağlıklı olduğunu söyleyebiliriz.
8. Avukat davayı açtı ..... savcıyla bile görüştü.
9. Ayakkabımın dikişleri açıldı ..... buna çok üzüldüm.
10. Ev eşyasına ihtiyacım var ..... çamaşır makinesine.
11. Babamız ..... evimizin direği olan kişi, seni çok seviyoruz.
12. Kuşların bazıları etçildir ..... kartal,doğan, şahin..
13. Karbonhidratı az tüketmeliyiz ..... hiç tüketmemeliyiz.
14. Selin çok çalışkan ..... sınıfta birincidir.
15. Sesi güzeldir ..... uzun havaları çok güzel okur.
16. Mutfaktaki işlere yardımcı olabilir, ..... bulaşık yıkayabilir.
17. Polislere ..... güvenlik güçlerine güvenmeliyiz.
18. Misafirle pek ilgilenmedi ..... hiç oralı olmadı.

# MINİ DEĞERLENDİRME

① "Kış mevsiminde .....ticari araçların, kar lastiği olmadan trafiğe çıkması can ve mal güvenliğini tehlikeye atar."

Yukarıdaki cümlede noktalı yere aşağıdakilerden hangisinin yazılması uygun olur?

- A. daha iyi  
B. özellikle  
C. başlıca  
D. en iyisi

② Aşağıdaki cümlelerin hangisinde noktalı yere "gibi" yazılması uygun olmaz?

- A. Araba, uçak ..... ulaşım araçları hayatımızı çok kolaylaştırdı.  
B. Silâ'yı dinlemediği ..... kulaklarını da kapadı.  
C. Yazın güneşten korunmak ..... gölgeli yerlerde yürümemiz gerekir.  
D. Peynir, zeytin ..... yiyecekleri kahvaltıda tüketiriz.

③ (1) Zor olmayan işlerde çalıştım. (2) En son bir çocuk mağazasında işe başladım. (3) Ayakta durmaktan belim ağrımaya başladı. (4) İşten ayrılmaya karar verdim.

Yukarıdaki metinde kaç numaralı cümlede sebep-sonuç ilişkisi kurulmuştur?

- A. 1  
B. 2  
C. 3  
D. 4

④ Aşağıdaki cümlelerden hangisinin başına "Özetle" yazamayız?

- A. Koltuklar çok eskimiş.  
B. Ekinlerinin hepsi tarlada çürüdü.  
C. Hızla yürüyorlardı ki bir ses duydular.  
D. Karpuzların hepsini pazara götürdüler.

⑤ I. Kitap okuyorum çünkü öğretmen olmak istiyorum

II. Her akşam spor salonuna gidiyorum.

III. Çocuk arabasındaki çocuk durmadan ağlıyordu.

IV. Dal kırıldığı için yere düştü.

Yukarıdaki cümlelerin hangisi veya hangileri neden-sonuç cümlesidir?

- A. I ve II  
B. II ve IV  
C. I, III ve IV  
D. I ve IV

⑥

Maça geç kaldım .....



Mesut'un cümlesi hangisiyle tamamlanır-  
sa neden-sonuç cümlesi olur?

- A. çünkü işim çıktı.  
B. çünkü annem kaldırdı.  
C. çünkü hep erken kalkarım.  
D. çünkü öğretmenim izin verdi.

⑦ Aşağıdaki cümlelerin hangisinde destekleyici ve açıklayıcı bir ifade kullanılmamıştır?

- A. Bayramlarda yani 23 Nisan ve Cumhuriyet Bayramı'nda bayrağımı alır çıkarırım.  
B. Akşam yemeğini çok geç yememeliyiz başka bir deyişle saat yediyi geçirmemeliyiz.  
C. Yarışma çok iyi geçti açıkçası bu kadar iyi geçeceğini tahmin etmiyordum.  
D. Koşuda birinci olduğum için madalya aldım.

● Aşağıda verilen görsellerin hangi kültürel öğeleri oluşturduğunu altlarındaki boşluklara yazalım.



● Aşağıdaki sözcükleri bulmacanın içinden bulup işaretleyelim.

Selanik

Şahin Bey

Fevzi Çakmak

Çini

Sütçü İmam

Şerife Bacı

Şekerci Ökkes

Sivas

Amasya

Erzurum

Havza

Mondros

Yörük Ali Efe

Kültür

Mangala

Kurban Bayramı

Samsun

Şerife Bacı

Tayyar Rahmiye

O	H	J	H	Ş	A	H	İ	N	B	E	Y	M	J	İ	J	A	P	C	A
J	Y	L	B	İ	J	H	T	İ	W	T	L	Z	E	Y	B	E	K	C	K
İ	F	W	J	M	Q	M	Z	U	K	F	F	Z	O	M	İ	P	Q	D	U
T	T	A	Y	Y	A	R	R	A	H	M	İ	Y	E	O	P	C	İ	W	R
T	İ	T	L	G	R	O	X	F	D	D	L	A	N	Z	P	A	O	N	B
F	E	R	Z	U	R	U	M	G	W	J	A	M	A	S	Y	A	U	V	A
E	K	T	G	P	R	N	S	Y	Ö	R	Ü	K	A	L	İ	E	F	E	N
V	D	N	M	T	H	S	S	E	L	A	N	İ	K	N	O	T	Q	H	B
Z	U	K	İ	W	P	C	D	D	N	B	O	C	A	K	O	Y	B	M	A
İ	L	Y	S	F	S	L	Z	Y	N	U	S	X	N	A	T	P	O	O	Y
Ç	J	Ş	İ	M	K	S	Ü	T	Ç	Ü	İ	M	A	M	N	E	D	L	R
A	O	E	V	M	Ü	Z	Ş	E	K	E	R	C	İ	Ö	K	K	E	Ş	A
K	R	R	A	O	L	O	S	A	M	S	U	N	L	M	İ	T	M	U	M
M	M	İ	S	N	T	B	İ	R	Ç	B	C	Z	İ	Y	B	İ	A	L	İ
A	G	F	A	D	Ü	A	U	M	İ	H	M	V	E	L	N	İ	N	İ	N
K	R	E	S	R	R	U	K	M	N	A	B	L	Z	C	A	Z	G	L	Y
M	M	B	K	O	D	P	C	V	İ	V	A	İ	Y	Q	T	Z	A	A	M
O	İ	A	Y	S	S	Z	E	K	J	Z	F	Y	L	A	W	M	L	D	A
B	J	C	N	Z	J	U	İ	Y	G	A	N	N	İ	U	E	R	A	N	B
Y	K	İ	T	B	G	L	U	C	D	E	F	D	B	Y	N	E	Y	P	K



# KUVVETİN CİSİMLER ÜZERİNDEKİ ETKİLERİ

● Aşağıdaki soruları cevaplayalım.



Kuvvet nedir?

---

---

---

---

---

---

---

---



Hareket nedir?

---

---

---

---

---



---

---

---



● Aşağıdaki resimlerde uygulanan kuvvetlere bakalım. Altındaki kutulara itme ise "İ", çekme ise "Ç" yazalım.



- Aşağıdaki cümlelerde yapılan eylemin itme ya da çekme olduğunu belirleyerek noktalı yerlere yazalım.

- 1 Bilgisayarda yazı yazarken tuşlara basılması için uygulanan ..... kuvvetidir.
- 2 Prizden alınan fişe uygulanan ..... kuvvetidir.
- 3 Kapıyı açarken uygulanan ..... kuvvetidir.
- 4 Tenis topuna raket ile vurulurken uygulanan ..... kuvvetidir.
- 5 Pencereyi açarken uygulanan ..... kuvvetidir.
- 6 Ok atarken uygulanan ..... kuvvetidir.
- 7 Sağlıklı bir yaşam sürdürmek amacıyla yapılan çeşitli alıştırmaya hareketlerine ..... denir.

- Aşağıdaki cümlelerin karşına uygun sözcüğü bulup yazınız.

yavaşlama

sallanma

yer değiştirme

hızlanma

dönme


1. Kayak yapan çocuğun hareketi: > .....
2. Fren yapan arabanın hareketi: > .....
3. Yukarıya doğru yuvarlanan taşın hareketi: > .....
4. Duvar Saati sarkacı: > .....
5. Paten yapan çocuğun hareketi: > .....
6. Lunaparktaki çarpışan arabaların hareketi: > .....
7. Havalanan uçağın hareketi: > .....
8. Dönme dolabın hareketi: > .....
9. Salıncaktaki sallanan çocuğun hareketi: > .....
10. İstasyona yaklaşan trenin hareketi: > .....
11. Ay'ın Dünya çevresindeki hareketine: > .....
12. Gaz pedalına basılan otomobilin hareketi: > .....

# KUVVETİN CİSİMLERİN ŞEKLİNE ETKİSİ


- Aşağıdaki maddeleri uygun bölümlere yazalım.

cam, lastik, oyun hamuru, sünger, cam macunu, tahta, sarmal yay,  
kâğıt, plastik şişe, lastik top, balon, tüy, teneke kutular

Esnek Maddeler



Esnek Olmayan Maddeler



- Aşağıdaki resimlerde uygulanan kuvveti ve bu kuvvetin cisimde oluşturduğu şekil değişikliklerini tabloda örnekteki gibi işaretleyelim.

MADDE	Uygulanan Kuvvet Germe, Sıkma, Bükme, Vurma	Şekil Değişikliği	
		Değişiklik Oldu	Değişiklik Olmadı
Sarmal Yay	Germe	+	-
Silgi	Bükme		
Balon	Sıkma		
Top	Vurma		
Teneke Kutu	Sıkma		
Sünger	Sıkma		
Tel	Bükme		
Cam Bardak	Vurma		
Diş Macunu	Kırma		

## MİNİ DEĞERLENDİRME -6-

1 Kuvvet cisimlere uygulandığında cisimlerin üzerinde hangi değişimin gerçekleşmesi beklenmez?

- A) Şeklinin
- B) Kokusunun
- C) Hızının
- D) Hareketinin

2 Aşağıdakilerden hangisi dönme hareketi yapar?

- A) Koşan bir çocuk
- B) Yere düşen dolu tanesi
- C) Kamyon tekeri
- D) Yavaşlayan uçak

I. Durağa yaklaşan otobüs kuvvetin ..... etkisinden faydalanır.


II. Kışın karda yokuş aşağı kayan çocuğa etki eden kuvvet ..... etkisi yapar.

3 Yukarıdaki boşluklara aşağıdakilerden hangileri gelmelidir?

- |                         |    |
|-------------------------|----|
| I                       | II |
| A) Hızlanma - Yavaşlama |    |
| B) Yavaşlama - Dönme    |    |
| C) Hızlanma - Sallanma  |    |
| D) Yavaşlama - Hızlanma |    |

4 Bir cisme hareket yönüyle aynı yönde kuvvet uygulanırsa cisimde nasıl bir durum gerçekleşir?

- A) Hızlanma
- B) Yavaşlama
- C) Sallanma
- D) Dönme



5 Hareketli bir cisme hareketinin zıttı yönünde kuvvet uygulanırsa cisimde nasıl bir etki beklenmez?

- A) Cismin yönü değişebilir.
- B) Cismin hızı artabilir
- C) Cisim durabilir.
- D) Cisim yavaşlayabilir.

6 Duran bir cisme kuvvet uygulandığında aşağıdakilerden hangisi gerçekleşmez?

- A) Hızlanma
- B) Yavaşlama
- C) Sallanma
- D) Döndürme

7 Cisimleri büksek veya sıkarsak cisimlerde ..... meydana gelebilir.

- A) Şekil değışikliđi
- B) Yavaşlama
- C) Hızlanma
- D) Sallanma



Aslı

Hareket eden cisimler yer değıştirir.



Badem

Otobüsle seyahat eden bir yolcunun hareketi sallanma hareketidir.



Cahit

Rüzgâr gülü rüzgarın etkisiyle dönme hareketi yapar



Kubat

Hareket eden bir cisim, arkadan çekme kuvveti uygulanarak durdurulabilir.

8 Hareket eden cisimlerle ilgili olarak hangi çocuđun verdiđi bilgi yanlıştır?

- A) Badem
- B) Aslı
- C) Cahit
- D) Hamit

- I. Kaza yapan araç
- II. Kağıttan yapılan uçak
- III. Kırılan su bardađı

9 Yukarıdaki örnekler kuvvetin cisimler üzerindeki hangi etkisiyle ilgilidir?


- A) Döndürme
- B) Şekil değıştirme
- C) Durdurma
- D) Yön değıştirme

10 Aşağıdakilerden hangisi üzerine uygulanan kuvvet ortadan kalktıđında eski haline dönebilir?

- A) Fındık
- B) Lastik
- C) Vazo
- D) Tahta

11 Yola kaçan topun peşinden koşan Akın fren sesi ile çok korkmuştur. Araba fren yaptıđı için Akın'a bir şey olmamıştır. Akın bir daha böyle davranışta bulunmayacağına söz vermiştir. Sizce fren yapan araçta kuvvetin hangi etkisi gerçekleşmiştir?

- A) Hızlanma
- B) Şekil değıştirme
- C) Döndürme
- D) Durdurma



12 Masa tenisinde topa hareket yönünden farklı bir yönde ve topa uygulanan kuvvetten daha büyük bir kuvvet uygulandığında aşağıdakilerden hangisi gerçekleşmiş olur?

- A) Yön değiştirme
- B) Şekil değiştirme
- C) Sallanma
- D) Durdurma



Arif

Elma



Zeynep

Silgi



Sila

Tahta



Kubat

Tencere

13 Yukarıdaki çocuklardan hangisi esnek maddeye doğru örnek vermiştir?

- A) Arif B) Zeynep C) Sila D) Kubat

- I. Yaydan çıkan ok
- II. Kırmızı ışığa yaklaşan araba
- III. Sıkılan diş macunu kabı

14 Yukarıda kuvvetin cisimler üzerindeki etkileri yazılmıştır. Aşağıdaki şıklardan hangisinin örneği yukarıda yoktur?

- A) Hızlanma
- B) Şekil değiştirme
- C) Döndürme
- D) Yavaşlama

15 Aşağıda verilen hangi durumda cisme itme kuvveti uygulanır?

- A) Kapalı bir kapıyı açmak
- B) Ağaçtan meyve toplamak
- C) Yerdeki oyuncakları toplamak
- D) Televizyon kumandasına tuşuna basmak

Sarmal yay gibi esnek cisimlere kuvvet uygulayınca şeklini değiştiririz. Ancak bu kuvvetin etkisi kalkınca sarmal yay eski haline geri döner.

16 Buna göre aşağıdakilerden hangisinde kuvvet kalktığında aynı durum oluşur?

- A) Karton kutu
- B) Oyun hamuru
- C) Sünger
- D) Bakır tel

● Aşağıda verilen görsellerin hangi kültürel öğeleri oluşturduğunu altlarındaki boşluklara yazalım.




## MINİ DEĞERLENDİRME -4-

1 Karınca yuvalarının girişi daima ..... toprak yağlı kısmı ..... gösterir.

Yukarıdaki boşluğa aşağıdaki şıklarda verilenlerden hangisi sıra ile yazılmalıdır.

- A) kuzey - güney
- B) doğu - güney
- C) güney - kuzey
- D) batı - kuzey

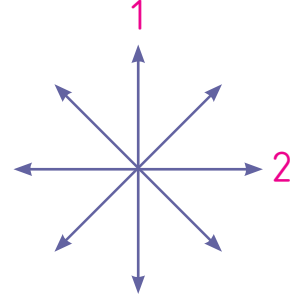
2



Sağ kolumuzu Güneş'in doğduğu yöne, sol kolumuzu battığı yöne doğru uzatırsak arka tarafımız hangi yönü gösterir?

- A) Batı
- B) Kuzey
- C) Güney
- D) Doğu

3



Yukarıdaki şekilde numaralarla gösterilmiş yönler hangi şıkta doğru olarak verilmiştir?

- |               |               |
|---------------|---------------|
| _____ 1 _____ | _____ 2 _____ |
| A) Kuzey      | Doğu          |
| B) Güney      | Doğu          |
| C) Kuzey      | Güneydoğu     |
| D) Güneydoğu  | Batı          |

pekşen yayınları

4 Aşağıdakilerden hangisi ana yönlerden biri değildir?

- A) Kuzey
- B) Kuzeybatı
- C) Doğu
- D) Güney

5 Aşağıdaki yöntemlerden hangisi yön bulma konusunda bize yardımcı olmaz?

- A) Ayın bulunduğu yer
- B) Ağaçlardaki yosunlar
- C) Karınca yuvaları
- D) Mezar taşları



6 Aras bulunduğu yerden saatçiye gitmek için hangi yöne gitmelidir?



- A) Güneybatı      B) Güneydoğu  
C) Kuzeydoğu      D) Kuzeybatı

7 Aşağıdakilerden hangisi krokilerle ilgili yanlış bir bilgidir?

- A) Krokilerde ölçek kullanılmaz.  
B) Krokiler kabataslak çizilir.  
C) Krokiler kuş bakışı çizilir.  
D) Krokilerde kapı numaraları yazılır.

8

1. Bardak
2. Otobüs durakları
3. Mezar taşı
4. Karınca yuvası
5. Güneş
6. Kutup Yıldızı
7. Cami minaresi
8. Ağaç yaprağı
9. Yosun

Yukarıda yön bulmaya yardımcı olmayan kaç tane bilgi verilmiştir?

- A) 2      B) 3      C) 4      D) 5

peksen yayınları

9 Pusulayı ilk bulan ve yön bulmada kullanan millet aşağıdakilerden hangisidir?

- A) Almanlar      B) Japonlar  
C) Çinliler      D) Türkler

● Aşağıdaki sözcükleri bulmacanın içinden bulup işaretleyelim.

Selanik

Şahin Bey

Fevzi  
Çakmak

Çini

Sütçü İmam

Şerife Bacı

Şekerci Ök-  
kes

Sivas

Amasya

Erzurum

Havza

Mondros

Yörük Ali Efe

Kültür

Mangala

Kurban Bayramı

Samsun

Şerife Bacı

Tayyar Rahmiye

O	H	J	H	Ş	A	H	i	N	B	E	Y	m	J	i	J	A	P	C	A
J	Y	L	B	i	J	H	T	i	W	T	L	Z	E	Y	B	E	K	C	K
i	F	W	J	m	Q	m	Z	U	K	F	F	Z	O	m	i	P	Q	D	U
T	T	A	Y	Y	A	R	R	A	H	m	i	Y	E	O	P	C	i	W	R
T	i	T	L	G	R	O	X	F	D	D	L	A	N	Z	P	A	O	N	B
F	E	R	Z	U	R	U	m	G	W	J	A	m	A	S	Y	A	U	V	A
E	K	T	G	P	R	N	S	Y	Ö	R	Ü	K	A	L	i	E	F	E	N
V	D	N	m	T	H	S	S	E	L	A	N	i	K	N	O	T	Q	H	B
Z	U	K	i	W	P	C	D	D	N	B	O	C	A	K	O	Y	B	m	A
i	L	Y	S	F	S	L	Z	Y	N	U	S	X	N	A	T	P	O	O	Y
Ç	J	Ş	i	m	K	S	Ü	T	Ç	Ü	i	m	A	m	N	E	D	L	R
A	O	E	V	m	Ü	Z	Ş	E	K	E	R	C	i	Ö	K	K	E	Ş	A
K	R	R	A	O	L	O	S	A	m	S	U	N	L	m	i	T	m	U	m
m	m	i	S	N	T	B	i	R	Ç	B	C	Z	i	Y	B	i	A	L	i
A	G	F	A	D	Ü	A	U	m	i	H	m	V	E	L	N	i	N	i	N
K	R	E	S	R	R	U	K	m	N	A	B	L	Z	C	A	Z	G	L	Y
m	m	B	K	O	D	P	C	V	i	V	A	i	Y	Q	T	Z	A	A	m
O	i	A	Y	S	S	Z	E	K	J	Z	F	Y	L	A	W	M	L	D	A
B	J	C	N	Z	J	U	i	Y	G	A	N	N	i	U	E	R	A	N	B
Y	K	i	T	B	G	L	U	C	D	E	F	D	B	Y	N	E	Y	P	K

## MINİ DEĞERLENDİRME -5-

1 Aşağıdakilerden hangisi Milli Mücadele döneminde önemli görevler üstlenmiş kadın kahramanlarımızdan değildir?

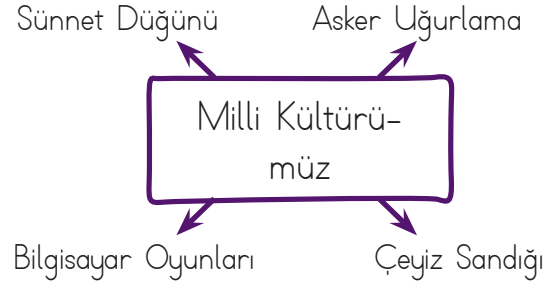
- A. Halide Edip
- B. Şerife Bacı
- C. Şekerci Özge
- D. Nezahat Onbaşı

2 Dedesiyle sohbet eden Yağız aşağıdaki sorulardan hangisini sorarsa sözlü tarih çalışmasına uygun bir soru sormuş olamaz?

- A. Dedeciğim, babanın mesleği neydi?
- B. Çocukken hangi oyunları oynardınız?
- C. Bu yaz bahçene çilek ekecek misin?
- D. Askerliğini nerede yaptın?

3 Milli Kültürümüz ile ilgili aşağıdaki görüşlerden hangisi yanlıştır?

- A. Kültürel farklılıklar toplumlar arası kargaşaya yol açar.
- B. Her toplumun kendine özgü kültürel değerleri vardır.
- C. Toplumlar zaman zaman birbirlerinin kültürlerinden etkilenir.
- D. Her toplum kendi milli kültürünü korumalıdır.



4 Yukarıdaki şemada hangisi kültürel öğelerimizden biri değildir?

- A. Asker uğurlama
- B. Sünnet düğünü
- C. Çeyiz Sandığı
- D. Bilgisayar Oyunu

5 Milli Mücadelenin başlatıldığı tarih ve yer hangi şıkta doğru verilmiştir?

- A. 19 Mayıs 1919-Samsun
- B. 23 Nisan 1920-Ankara
- C. 29 Ekim 1920- Ankara
- D. 19 Nisan 1920-Erzurum

6 Aşağıdaki devletlerden hangisi yurdumuzu hiç savaşmadan terketmiştir?

- A. Yunanlılar
- B. Ruslar
- C. Fransızlar
- D. Ermeniler

**7** Kurtuluş Savaşı'nda cephe gerisinde kadın, erkek, genç, yaşlı herkes mücadele etmiş ve bağımsızlık için canını ortaya koymuştur. Öğrenciler bile okullarına ara vererek savaşa katılmıştır.

Bu bilgiden yola çıkarak aşağıdakilerden hangisine ulaşamayız?

- A. Türk milleti bağımsızlığa önem vermiştir.
- B. Sadece askerler savaşmıştır.
- C. Öğrenciler bile katılım göstermiştir.
- D. Millet bir arada savaşmıştır.

**8** Osmanlı Devleti'nin 1. Dünya Savaşı'nda düşmanı yendiği ve Atatürk'ün dünyaca tanındığı cephe aşağıdaki şıkların hangisinde doğru vermiştir?

- A. Suriye Cephesi
- B. Trablusgarp Cephesi
- C. Çanakkale Cephesi
- D. Balkan Savaşı

- I - Sivas Kongresi
- II - TBMM'nin açılışı
- III - Erzurum Kongresi
- IV. Amasya Genelgesi

**9** Yukarıdaki olayların kronolojik sıralaması aşağıdakilerden hangisidir?

- A. I - II - III - IV
- B. II - I - IV - III
- C. IV - III - I - II
- D. IV - III - II - I

**10** Aşağıdaki savaşların hangisinden sonra Mustafa Kemal'e "Gazi" unvanı ve "Mareşallik" rütbesi verilmiştir?

- A. I. İnönü Savaşı
- B. Sakarya Meydan Savaşı
- C. Büyük Taarruz
- D. II. İnönü Savaşı

**11** Aile tarihini oluşturmak isteyen bir öğrenci aşağıdaki kaynaklardan hangisinden yararlanamaz?

- A. Aile büyüklerinden
- B. Aile fotoğraflarından
- C. Geçmiş dönem gazetelerinden
- D. Aile büyüklerimizden kalan eşyalar

- 1. Güreş
- 2. Yüzme
- 3. Bale
- 4. Futbol

**12** Yukarıdaki sporlardan hangisi milli kültürümüzde yer alan bir spordur?

- A. 1
- B. 2
- C. 3
- D. 4

**13** Sözlü tarih çalışması ile ilgili aşağıdakilerden hangisi doğrudur?

- A. İnsanın zihnine ve anlatımına dayanır.
- B. Yazılı kaynaklardan bilgi toplanır.
- C. Bir asırlık zaman dilimini kapsar.
- D. Tarihî yapılar hakkında bilgi verir.

## MINİ DEĞERLENDİRME -6-

1 Yeni kimlik kartında kişiye ait aşağıdaki bilgilerden hangisine ulaşamaz?

- A) Baba ve anne adı  
B) Okuduğu okul  
C) T.C. kimlik numarası  
D) Doğum tarihi

2 Aşağıdaki verilenlerden hangisi yalnızca tek bir kişiye özeldir?

- A) Saç rengi  
B) T.C. kimlik no  
C) Memleketi  
D) Sevdiği yemek

3 Aşağıda verilen bilgilerden hangisi yanlıştır?

- A) Nüfus cüzdanımızın ön yüzünde doğduğumuz yıl yazar.  
B) Nüfus cüzdanı T.C. vatandaşı olduğumuzu gösterir.  
C) Anne ve babamızın adı nüfus cüzdanımızın arka yüzünde yazmaktadır.  
D) Kişinin cinsiyet nüfus cüzdanının ön yüzünde yazmaktadır.

4 Yenilenen kimlik belgelerinin arka bölümünde bazı bilgilerimiz çip içerisinde gizlenmektedir. Kimliğimizde bulunan çip bölümüne verilen ad aşağıdakilerden hangisidir?

- A) Yonga  
B) Saklı yer  
C) Kasa  
D) Depo




5 Aşağıdakilerden hangisi bir insanın nüfus cüzdanında bulunan bilgilerden değildir?

- A) Seri numarası  
B) Kan grubu  
C) Doğum tarihi  
D) Oturduğu mahalle

**6** Pasaportun kişilere verilmiş amacı aşağıdakilerden hangisidir?

- A) Yurt dışına gidebilmek için
- B) Araba kullanmak için
- C) Alışveriş yapmak için
- D) Ev satın almak için

**7** Bir kişi hayatını kronolojik olarak sıralamak istediğinde en sona hangisini yazmak durumundadır?

- A)  B) 
- C)  D) 

- 8** I. 2010'da doğdum.  
II. 2012'de yürümeye başladım.  
III. 2016'da okula gittim.  
IV. 2011'de baba dedim.  
V. 2015'te anaokuluna gittim.

Yukarıda verilen bilgiler kronolojik olarak sıralandığında doğru seçenek aşağıdakilerden hangisi olur?

- A) I – II – IV – V – III
- B) I – IV – II – V – III
- C) IV – III – V – II – I
- D) I – III – IV – II – V

- 9** 1. İlkokula başladım.  
2. Yürümeye başladım.  
3. İlkokulda satranç turnuvasına katıldım.  
4. Doğdum.  
5. Emeklemeye başladım.

Yukarıda verilen bilgilerin kronolojik olarak sıralaması aşağıdaki şıkların hangisinde verilmiştir?

- A) 1 – 2 – 3 – 4 – 5
- B) 4 – 5 – 2 – 1 – 3
- C) 4 – 2 – 1 – 5 – 3
- D) 4 – 3 – 2 – 1 – 5

## ÜNİTE DEĞERLENDİRME -2-

1 Geçmişte yaşanmış olayların yaşayanlar veya olayı görenler tarafından sözlü olarak gelecek nesillere iletilmesine ..... denir.

Yukarıdaki cümlede boş bırakılan yere aşağıdakilerden hangisi getirilmelidir?

- A) sözlü tarih                      B) yazılı tarih  
C) eski tarih                        D) yersiz tarih

2 Aile tarihi ile ilgili verilen bir ödevi oluştururken sözlü tarih yöntemini kullanmaya karar veren Taner, kiminle görüşürse doğru olur?

- A) Büyükbabası                      B) Öğretmeni  
C) Arkadaşı                            D) Servis şoförü

3 Aşağıdakilerden hangisi millî kültürümüzü oluşturan öğeler arasında yer almaz?

- A) Misafirperverlik  
B) Kına gecesi  
C) Mezuniyet töreni  
D) Asker uğurlaması

4 Aşağıdakilerden hangisi eskiden oynanan çocuk oyunlarından biri değildir?

- A) Bilgisayar oyunları  
B) Saklambaç  
C) Körebe  
D) Çelik çomak

- 5 1. Fotoğraf albümümüz  
2. Geçmişte kullanılan eşyalar  
3. Tutulan eski günlükler  
4. Gittiğimiz bankalar

Ailemizin tarihi hakkında araştırma yaparken yukarıdakilerden hangisi işimize yaramaz?

- A) 1                      B) 2                      C) 3                      D) 4

6 Aşağıdaki görsellerden hangisi kültürümüze ait değildir?



- 7 I. Bütün milletlerin milli kültürü aynıdır.  
II. Dini mekânlarımız milli kültür öğelerimizden biridir.  
III. Milli kültür öğeleri birlik ve beraberliği sağlar.  
IV. Tarihi eserlerimiz milli kültür öğelerimizdendir.

Yukarıdaki ifadelerden hangileri yanlıştır?

- A) Yalnız I                              B) I ve II  
C) Yalnız III                             D) I, II ve III

8 Aşağıdakilerden hangisi kültürümüze ait oyunlar arasında yer almaz?

- A) Beyzbol B) Yakalamaca  
C) Topaç D) Körebe





9 Aile tarihimizi araştırırken eşyalardan ve yazılı kaynaklardan yararlanırsınız. Aşağıdakilerden hangisi yararlandığımız eşya ve kaynaklar arasında gösterilemez?

- A)  B)   
C)  D) 

10 Her milletin kendine özgü ağız tadı ve yemek kültürü vardır. Aşağıdakilerden hangisi bizim kültürümüze ait değildir?

- Sarma Adana kebabı Pizza Baklava

Yukarıdaki boşluğa hangi renk kutudaki sözcük getirilmelidir?

- A)  B)  C)  D) 

11 Yaşamış her milletin kendine özgü milli bir kültürü vardır. Aşağıdakilerden hangisinde milli kültür öğelerimizden biri verilmiştir?

- A) Medrese B) Postane  
C) Okul D) Hastane

12 Aşağıdakilerden hangisi milli bayramlarımız arasında yer alır?

- A) Nevruz Bayramı  
B) Cumhuriyet Bayramı  
C) Kurban Bayramı  
D) Ramazan Bayramı

13 Aşağıda verilen bilgiye göre bu mücadeleyi başlatan kimdir?

Maraş'ta Fransızlara karşı mücadeleyi başlattı.

- A) Şerife Bacı B) Hasan Tahsin  
C) Şahin Bey D) Sütçü İmam

14 Aşağıda verilen bilgiye göre bahsedilen Milli Mücadele kahramanımız kimdir?

"İzmir'de Yunanlılara ilk kurşunu attı."

- A) Şerife Bacı B) Hasan Tahsin  
C) Şahin Bey D) Kara Fatma