

## SIRA SİZDE

Aşağıdaki boşluğa kendi çalışmanı hazırlayabilirsin.

### Kitapçık Hakkında

Bu kitapçıkta konu tekrarı amaçlı etkinlikler ve eğlenceli çalışmalar bulunmaktadır. Haftalık olarak çalışmalar üretilmeye ve paylaşılmaya devam edecektir.

Kontrol Edenin Adı ..... İmzası .....

# 2. SINIF EĞLENCELİ ÇALIŞMALAR 1



ilkokul1.com

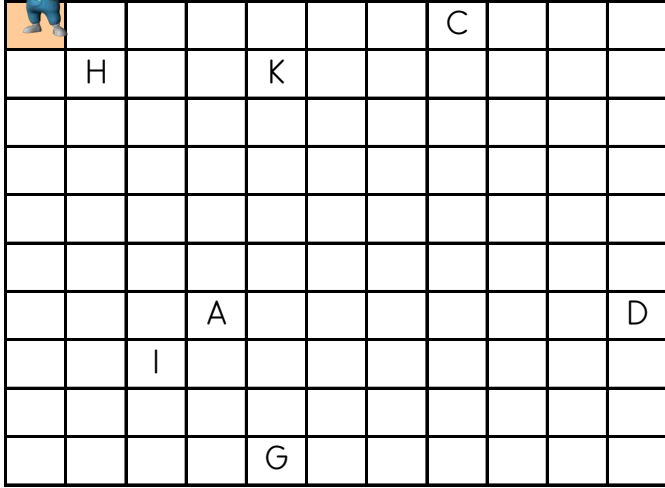
Adı Soyadı:

Sınıfı :

Okulu :

Yunus KÜLCÜ

Yönergeyi takip ederek 30 adımlık yolu oluştur, 'gerçek' hazineyi bul ve işaretle.

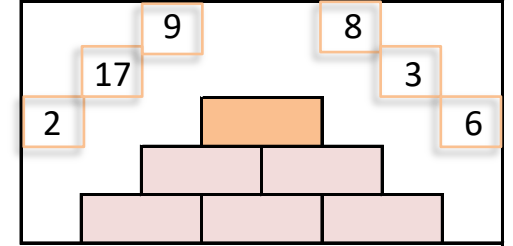
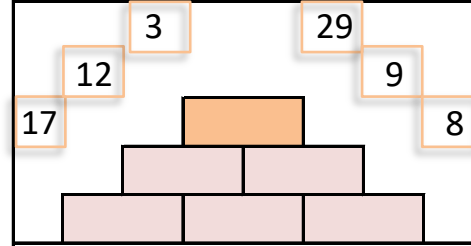
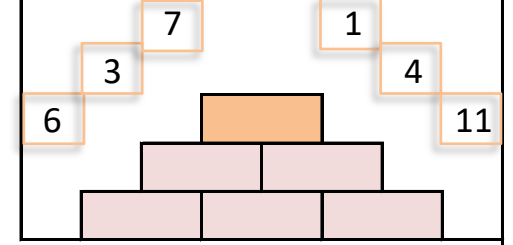
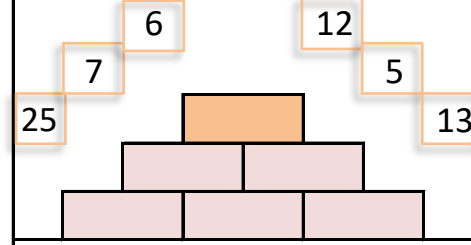


### YÖNERGE

- 8 ➤
- 3 ▼
- 2 ⬅
- 2 ▼
- 6 ⬅
- 3 ▼
- 1 ➤
- 1 ▼
- 3 ➤





### SAYILARI YERLEŞTİR (TOPLAMA PİRAMİDİ)

Toplama piramidi üzerindeki sayılar yerlerinden çıkmış. Sayıları yerlerine yazabilir misiniz?



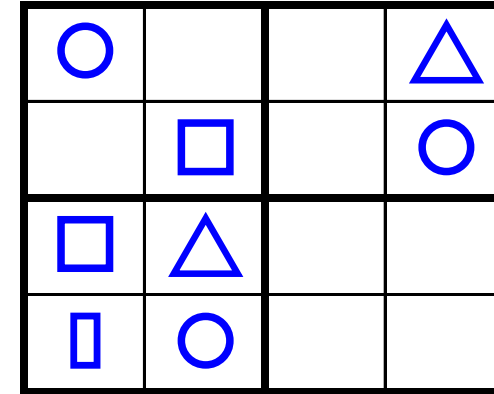
### EŞİ OLMAYANI BUL

Aşağıdaki her bir kutuda eş olmayan şekli bulun ve işaretleyin.



### ŞEKİLLİ SUDOKULAR (Seviye 3)

Çember, üçgen, kare ve dikdörtgen şekillerini; her satır, sütun ve koyu renkli alanlara, benzerleri olmayacak şekilde yerleştiriniz.




## ŞİFRELİ EŞ ANLAMLI KELİMELER



1	DAVET
2	FÜZE
3	TÜMCE
4	YANLIŞ
5	SURAT
6	ANI
7	İHTİYAR
8	SEVİNÇLİ
9	KELİME
10	FENA
11	UFAK

A	HATA
L	SÖZCÜK
R	CÜMLE
E	NEŞELİ
L	HATIRA
R	YÜZ
E	ÇAĞRI
S	ROKET
I	YAŞLI
E	KÖTÜ
K	KÜÇÜK



1	2	3	4	5	6	7	8	9	10	11
---	---	---	---	---	---	---	---	---	----	----

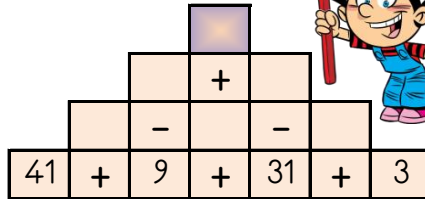
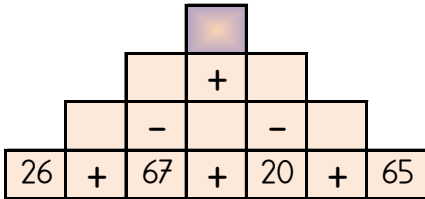
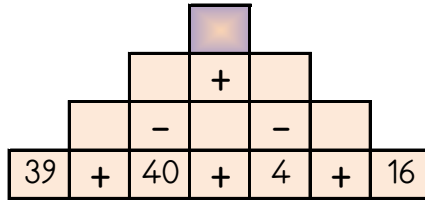
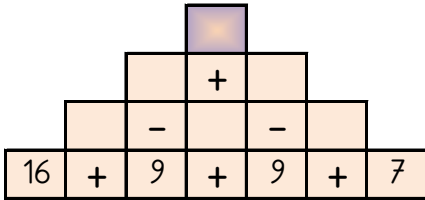
## GİZLİ KUTULAR (SONUCU 10)

14 - 3	7 + 4	2 + 6	3 + 4	7 - 1	7 + 7	18 - 8
12 - 6	16 - 9	4 + 6	3 + 3	14 - 1	9 - 1	6 + 5
11 - 1	2 + 5	19 - 9	6 + 1	13 - 6	16 - 5	8 + 4
19 - 6	1 + 6	6 + 5	12 - 4	3 + 4	8 + 4	17 - 3
8 + 1	1 + 7	8 + 6	9 + 5	1 + 9	11 - 4	7 + 4
3 + 3	18 - 5	7 + 6	13 - 6	7 + 2	5 + 1	8 - 2

Bu işlem kutularının arasında sonucu 10 olan 5 kutu gizlenmiştir. Bu kutuları 4 dakika içinde bulabilir misin?

## PIRAMİT TOPLAMA ÇIKARMA

Sayılar arasındaki işlemleri yaparak piramitin tepesindeki sayıya ulaşın.



9 59 16 8 76



Kod alanındaki komutları kullanarak gerçek hazineyi bulup işaretleyebilir misin?

➤=Sağa; ➤=Sola; ▲=Yukarı; ▼=Aşağı



Başla	B	C	Y	J	Z
N	M	E	Y	I	D
Z	M	R	İ	İ	Ç
D	P	T	B	O	Z
O	B	İ	Ö	İ	M
İ	S	R	Ç	T	A

KOD ALANI

Başla; 5▼; 5➤; 3▲;  
3◀; 1▼; 3➤; 1▼; 2◀;  
1▼; 2◀; Bitir.



Başla	İ	Ş	N	İ	T
A	P	P	J	D	R
Ç	İ	V	M	Ü	O
R	E	Y	V	B	İ
İ	Ş	F	P	T	Z
F	G	N	Z	Z	E

KOD ALANI

Başla; 3➤; 1▼; 2➤;  
4▼; 4◀; 2▲; 1◀;  
2▼; 1➤; 3▲; Bitir.

## ELDELİ TOPLAMA VE ONLUK BOZARAK ÇIKARMA ALIŞTIRMALARI

Aşağıdaki işlemleri yapın ve cevabı seçin.



$$\begin{array}{r} 26 \\ + 27 \\ \hline \end{array}$$
$$\begin{array}{r} 52 \\ - 39 \\ \hline \end{array}$$
$$\begin{array}{r} 42 \\ - 17 \\ \hline \end{array}$$
$$\begin{array}{r} 61 \\ - 29 \\ \hline \end{array}$$
$$\begin{array}{r} 84 \\ - 76 \\ \hline \end{array}$$
$$\begin{array}{r} 47 \\ + 48 \\ \hline \end{array}$$

$$\begin{array}{r} 19 \\ + 31 \\ \hline \end{array}$$
$$\begin{array}{r} 80 \\ - 16 \\ \hline \end{array}$$
$$\begin{array}{r} 72 \\ + 19 \\ \hline \end{array}$$
$$\begin{array}{r} 45 \\ + 38 \\ \hline \end{array}$$
$$\begin{array}{r} 72 \\ - 29 \\ \hline \end{array}$$
$$\begin{array}{r} 48 \\ + 49 \\ \hline \end{array}$$

95 32 25 53 83 64 8 43 13 97 69 50 91

## SUDOKU (KOLAY SEVİYE)

Her satır ve sütunda 1,2,3,4,5 rakamlarını kullanarak boş kutuları doldurun.

	5	2	4	3
	3		1	2
	4	1		5
5			3	
2		3	5	4

## FARKLI OLANI BUL

Aşağıdaki her grupta kelime çiftlerinden anlam ilişkisi bakımından farklı olanı işaretleyin.



	TEMİZ	KİRLİ
	İRİ	BÜYÜK
	AÇIK	KAPALI

	BOLLUK	KITLIK
	TÜMCE	CÜMLE
	ARTMA	AZALMA

	SAVAŞ	BARİŞ
	SAĞLIK	SIHHAT
	İLERİ	GERİ

	ARABA	OTOMOBİL
	AYDINLIK	KARANLIK
	DOKTOR	HEKİM

	KUTLAMA	TEBRİK
	YABANCI	TANIDIK
	İHTİYAR	YAŞLI

	MESELA	ÖRNEĞİN
	VAR	YOK
	GERÇEK	SAHTE

## DİKKAT PROBLEMLERİ (Gereksiz Bilgiler)

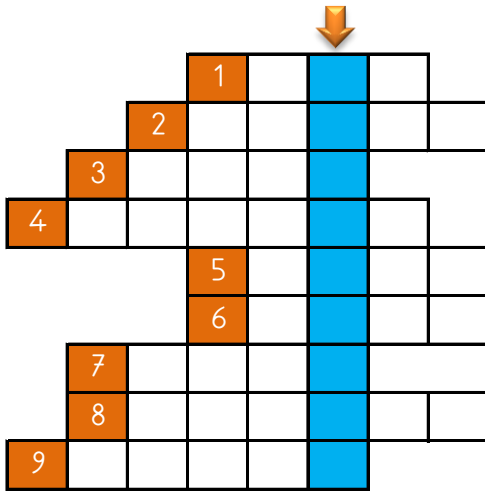
1) Zeynep 3 tane kitabı 14 liraya, 9 tane kalemi 10 liraya satın almıştır. Zeynep kaç lira harcamıştır?

2) Ayşenaz 37, Betül 45 ve Mete 20 yaşındadır. Mete ve Betül' ün yaşları farkı kaçtır?

3) 68 numaralı otobüste 19 yolcu vardı. İlk durakta 30 yolcu, ikinci durakta ise 46 yolcu binmiştir. Son durumda otobüste kaç yolcu vardır?

4) 25 vagonlu bir trenin 19. vagonunda 49 yolcu, 13. vagonunda ise 23 yolcu bulunmaktadır. Bu iki vagonda toplam kaç yolcu vardır?

## ZİT ANLAMLI KELİMELER BULMACASI



- 1) GÖK kelimesinin zıt anlamlısı 2) SICAK kelimesinin zıt anlamlısı 3) CEZA kelimesinin zıt anlamlısı 4) AĞLAMAK kelimesinin zıt anlamlısı 5) KALIN kelimesinin zıt anlamlısı 6) PAHALI kelimesinin zıt anlamlısı 7) GÜNDÜZ kelimesinin zıt anlamlısı 8) KİTLİK kelimesinin zıt anlamlısı 9) GERİ kelimesinin zıt anlamlısı

## ONLUK BOZARAK ÇIKARMA ALIŞTIRMALARI

Aşağıdaki işlemleri yapın ve şifreyi bulun.



K	K	L	R	D	Y
9 1	7 2	4 4	9 3	9 1	8 2
- 4 2	- 6 5	- 3 5	- 4 6	- 5 4	- 3 8
İ	M	A	T	E	U
9 3	5 2	3 4	8 1	9 0	8 0
- 8 5	- 1 9	- 1 6	- 2 2	- 7 6	- 1 3

59	14	47	9	8	7	37	67	44	33	18	49	



## DİKKAT GELİŞTİRME SORULARI

5, 9, 11, 4, 3, 12 | 2, 7, 1, 8, 6, 10

1) Aradığımız sayı 8 sayısının bulunduğu kutudadır. Bu sayı bulunduğu kutunun ilk üç sayısından birisi değildir. Bu sayı aşağıdakilerden hangisi olabilir?

a) 9 b) 4 c) 2 d) 10

8, 4, 5, 6, 12, 9 | 7, 11, 10, 2, 3, 1

3) Aradığımız sayının bulunduğu kutuda 6 sayısı yoktur. Bu sayı bulunduğu kutunun son üç sayısından birisi değildir. Bu sayı aşağıdakilerden hangisi olabilir?

a) 5 b) 9 c) 10 d) 1

12, 5, 7, 4, 10, 11 | 8, 6, 3, 9, 1, 2

2) Aradığımız sayının bulunduğu kutuda 3 sayısı da bulunmaktadır. Bu sayı bulunduğu kutunun son üç sayısından birisi değildir. Bu sayı aşağıdakilerden hangisi olabilir?

a) 12 b) 11 c) 8 d) 1

4, 3, 11, 2, 6, 7 | 1, 9, 5, 12, 8, 10

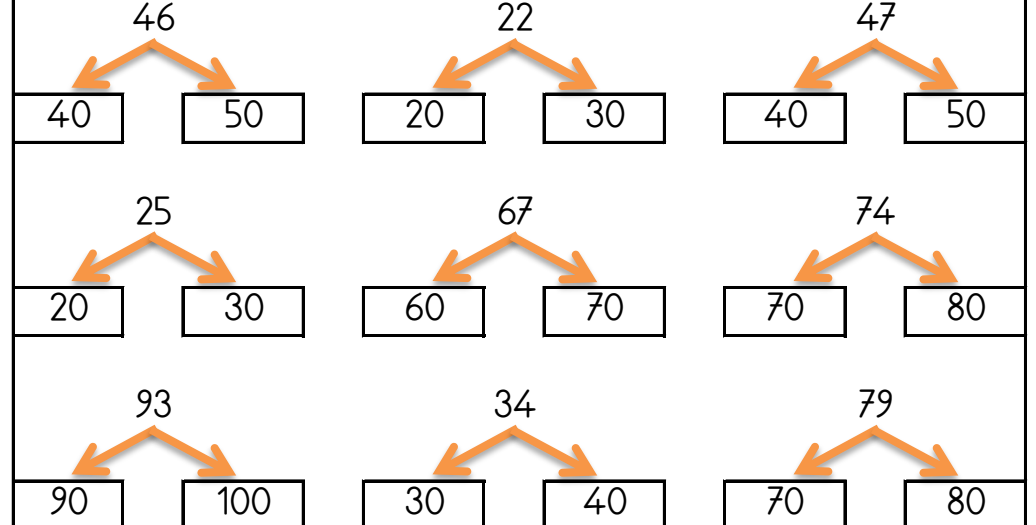
4) Aradığımız sayı 4 sayısının bulunduğu kutudadır. Bu sayı bulunduğu kutunun son üç sayısından birisidir. Bu sayı aşağıdaki sayılardan hangisi olamaz?

a) 2 b) 11 c) 7 d) 6

Bulduğün cevapların toplamı 39 ise başarıdır.

## ONLUĞA YUVARLAMA

Sayıların en yakın oldukları onluk kutularını boyayın.



## BASAMAK ADLARI VE BASAMAK DEĞERLERİ

Basamak adları ve basamak değerlerini yazınız.

5	1	Basamak Değerleri	Basamak Adları
↓	↓	.....	.....
↓	↓	.....	.....

6	9	Basamak Değerleri	Basamak Adları
↓	↓	.....	.....
↓	↓	.....	.....

8	0	Basamak Adları	Basamak Değerleri
↓	↓	.....	.....
↓	↓	.....	.....

7	3	Basamak Adları	Basamak Değerleri
↓	↓	.....	.....
↓	↓	.....	.....

## ÇARPMA İŞLEMİNE HAZIRLIK

Aşağıdaki soruları ritmik sayarak bulun ve cevaplarını işaretleyin.

Dörder ritmik sayarken 3. söylediğimiz sayı kaçtır? .....
İkişer ritmik sayarken 8. söylediğimiz sayı kaçtır? .....
Beşer ritmik sayarken 5. söylediğimiz sayı kaçtır? .....
Beşer ritmik sayarken 4. söylediğimiz sayı kaçtır? .....
İkişer ritmik sayarken 7. söylediğimiz sayı kaçtır? .....

Dörder ritmik sayarken 9. söylediğimiz sayı kaçtır? .....
İkişer ritmik sayarken 9. söylediğimiz sayı kaçtır? .....
İkişer ritmik sayarken 2. söylediğimiz sayı kaçtır? .....
Üçer ritmik sayarken 8. söylediğimiz sayı kaçtır? .....
Dörder ritmik sayarken 7. söylediğimiz sayı kaçtır? .....

4 50 36 18 16 14 28 24 12 20 25

## KOLAY SORULAR

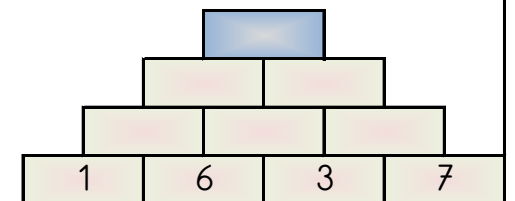
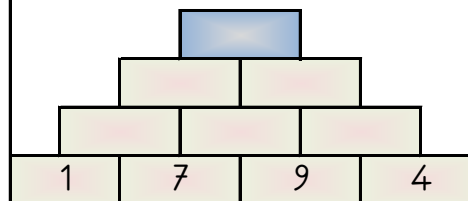
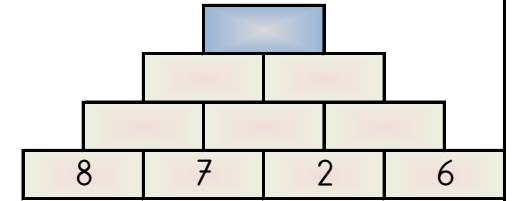
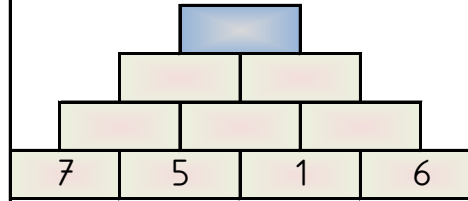
Aşağıdaki soruları çözün ve cevap formunu doldurun.

- Aşağıdaki sayıları küçükten büyüğe sıraladığınızda 2. sayı hangisidir?  
A) 98 B) 88 C) 70
- Hangi kelime alfabemizin 23. harfi ile başlamaktadır?  
A) yapılış B) iştahsız C) şarj
- 'sinsileşme' kelimesinin 8. harfi hangi kelimenin 8. harfidir?  
A) yapıştırıcı B) araştırmak C) gösterişli
- 43 sayısını en yakın onluğa yuvarlayın.  
A) 60 B) 40 C) 50
- 1 birlik ve 5 onluktan oluşan sayıyı işaretleyin.  
A) 50 B) 51 C) 48
- Aşağıdaki sayıları küçükten büyüğe sıraladığınızda 3. sayı hangisidir?  
A) 75 B) 91 C) 18

	A	B	C
1	(A)	(B)	(C)
2	(A)	(B)	(C)
3	(A)	(B)	(C)
4	(A)	(B)	(C)
5	(A)	(B)	(C)
6	(A)	(B)	(C)
7	(A)	(B)	(C)
8	(A)	(B)	(C)
9	(A)	(B)	(C)
10	(A)	(B)	(C)

## PIRAMİT TOPLAMA

Piramitin altındaki sayıları toplayarak tepedeki sayıya ulaşın ve bu sayıyı işaretleyin.



31 35 48 41 53