

SIRA SİZDE

Aşağıdaki boşluğa kendi çalışmanı hazırlayabilirsin.

Kitapçık Hakkında

Bu kitapçıkta konu tekrarı amaçlı etkinlikler ve eğlenceli çalışmalar bulunmaktadır. Haftalık olarak çalışmalar üretilmeye ve paylaşılmaya devam edecektir.

Kontrol Edenin Adı İmzası

2. SINIF EĞLENCELİ ÇALIŞMALAR 3

18 Eğlenceli Çalışma
8 Problem



ilkokul1.com

Adı Soyadı:

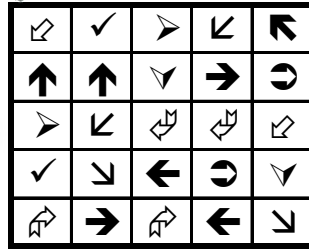



Sınıfı :

Okulu :

Yunus KÜLCÜ

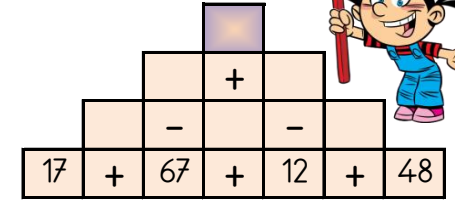
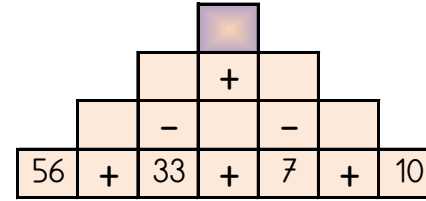
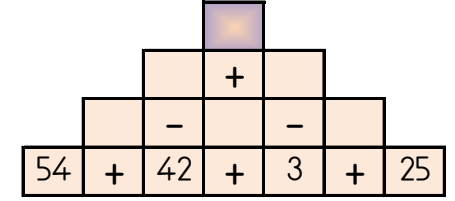
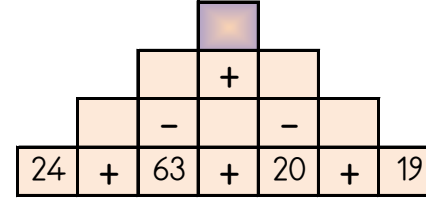
EŞİ OLMAYANI BUL

Aşağıdaki her bir kutuda eş olmayan şekli bulun ve işaretleyin.



PIRAMİT TOPLAMA ÇIKARMA

Sayılar arasındaki işlemleri yaparak piramitin tepesindeki sayıya ulaşın.



45 48 68 24 72

ELDELİ TOPLAMA VE ONLUK BOZARAK ÇIKARMA ALIŞTIRMALARI

Aşağıdaki işlemleri yapın ve cevabı seçin.



$$\begin{array}{r} 92 \\ - 57 \\ \hline \end{array}$$

$$\begin{array}{r} 15 \\ + 49 \\ \hline \end{array}$$

$$\begin{array}{r} 92 \\ - 78 \\ \hline \end{array}$$

$$\begin{array}{r} 82 \\ - 23 \\ \hline \end{array}$$

$$\begin{array}{r} 45 \\ + 46 \\ \hline \end{array}$$

$$\begin{array}{r} 96 \\ - 29 \\ \hline \end{array}$$

$$\begin{array}{r} 13 \\ + 18 \\ \hline \end{array}$$

$$\begin{array}{r} 93 \\ - 56 \\ \hline \end{array}$$

$$\begin{array}{r} 85 \\ - 59 \\ \hline \end{array}$$

$$\begin{array}{r} 36 \\ + 49 \\ \hline \end{array}$$

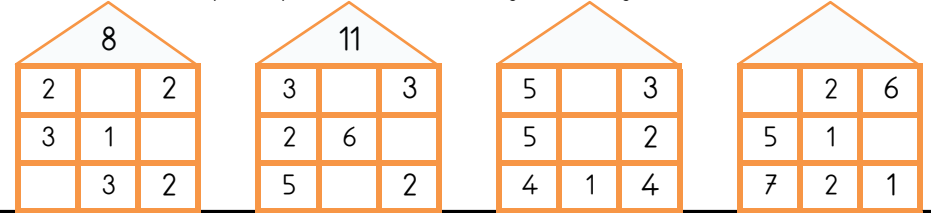
$$\begin{array}{r} 31 \\ + 39 \\ \hline \end{array}$$

$$\begin{array}{r} 66 \\ + 29 \\ \hline \end{array}$$

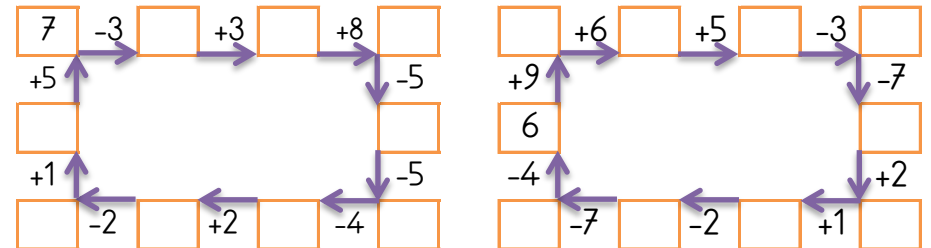
67 31 64 37 85 70 26 14 59 35 9
95 91

EĞLENCİLİ MATEMATİK - 2

Her katın toplamı apartman numarasını veriyor. Verilmeyen numaraları bulunuz.



Verilen sayıdan başlayarak ok yönünde işlemleri yapın ve verilmeyen sayıları bulun.



KOLAY SORULAR

Aşağıdaki soruları çözün ve cevap formunu doldurun.

- En büyük olan sayıyı işaretleyin.
A) 49 B) 37 C) 12
- Aşağıdaki sayıları büyükten küçüğe sıraladığınızda 3. sayı hangisidir?
A) 33 B) 61 C) 67
- Bir desteye 7 eklersek sonuç kaç olur?
A) 12 B) 17 C) 13
- Yılın 5. ayı hangi aydır?
A) Eylül B) Mart C) Mayıs
- Zümra 42 yaşındadır. Zümra'nın 6 yıl önceki yaşını bulun.
A) 34 B) 40 C) 36
- 5 onluk ve 9 birlikten oluşan sayı kaçtır?
A) 87 B) 55 C) 59

	A	B	C
1	(A)	(B)	(C)
2	(A)	(B)	(C)
3	(A)	(B)	(C)
4	(A)	(B)	(C)
5	(A)	(B)	(C)
6	(A)	(B)	(C)
7	(A)	(B)	(C)
8	(A)	(B)	(C)
9	(A)	(B)	(C)
10	(A)	(B)	(C)

FARKLI OLANI BUL

Aşağıdaki her grupta kelime çiftlerinden anlam ilişkisi bakımından farklı olanı işaretleyin.



	VATAN	YURT
	BEYAZ	SİYAH
	İLERİ	GERİ

	OTURMAK	KALKMAK
	AFERİN	BRAVO
	GECE	GÜNDÜZ

	BEDEN	VÜCUT
	ARKA	ÖN
	HEDİYE	ARMAĞAN

	ÇOK	AZ
	BÜYÜK	KÜÇÜK
	BİÇİM	ŞEKİL

	GİTMEK	GELMEK
	DUYGU	HİS
	ÖNDER	LİDER

	DOLU	BOŞ
	YER	GÖK
	YAŞ	ISLAK

SUDOKU (NORMAL SEVİYE)

Her satır ve sütunda 1,2,3,4 rakamlarını kullanarak boş kutuları doldurun.

Sudoku 1

		3	
3			2
	2		
4	3		1

Sudoku 2

			3
1			2
4	2		1
		2	

Sudoku 3

		3	
	2		1
	1	2	
2	3	1	



Sudoku 4

			3
1			
2		3	1
3			2

Sudoku 5

4	1		3
		4	1
2			
			2

Sudoku 6

		1	
	1		4
	3		
	2	3	1



ZİHİNDEN ZİNCİRLEME SAYI PROBLEMLERİ

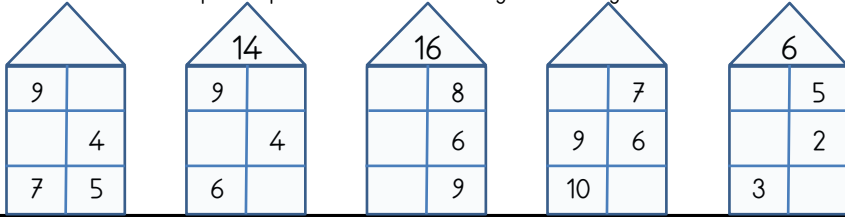
Aşağıdaki soruları zihinden çözün ve cevaplarını yazıp işaretleyin.

- 9 sayısının 4 eksiğinin 8 fazlası kaç eder?
- 7 sayısının 7 fazlasının 8 eksiği kaç eder?
- 1 sayısının 10 fazlasının 3 eksiği kaç eder?
- 5 sayısının 4 eksiğinin 8 fazlası kaç eder?
- 2 sayısının 4 fazlasının 3 eksiği kaç eder?
- 5 sayısının 1 eksiğinin 8 fazlası kaç eder?
- 8 sayısının 3 eksiğinin 5 fazlası kaç eder?
- 10 sayısının 4 eksiğinin 5 fazlası kaç eder?
- 4 sayısının 4 fazlasının 3 eksiği kaç eder?
- 10 sayısının 1 eksiğinin 7 fazlası kaç eder?
- 7 sayısının 1 fazlasının 6 eksiği kaç eder?
- 4 sayısının 8 fazlasının 8 eksiği kaç eder?

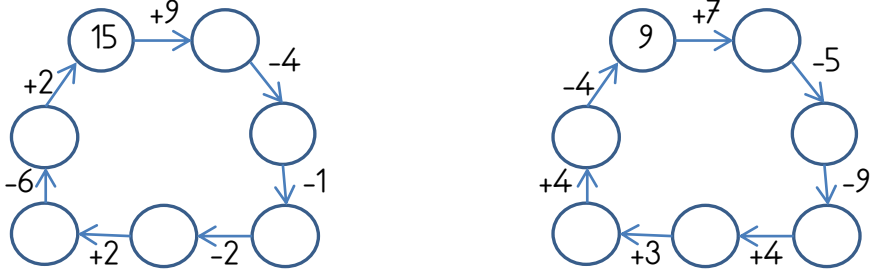
- | |
|----|
| 6 |
| 2 |
| 4 |
| 3 |
| 13 |
| 9 |
| 16 |
| 8 |
| 11 |
| 12 |
| 5 |
| 10 |

EĞLENCİLİ MATEMATİK

Her katın toplamı apartman numarasını veriyor. Verilmeyen numaraları bulunuz.

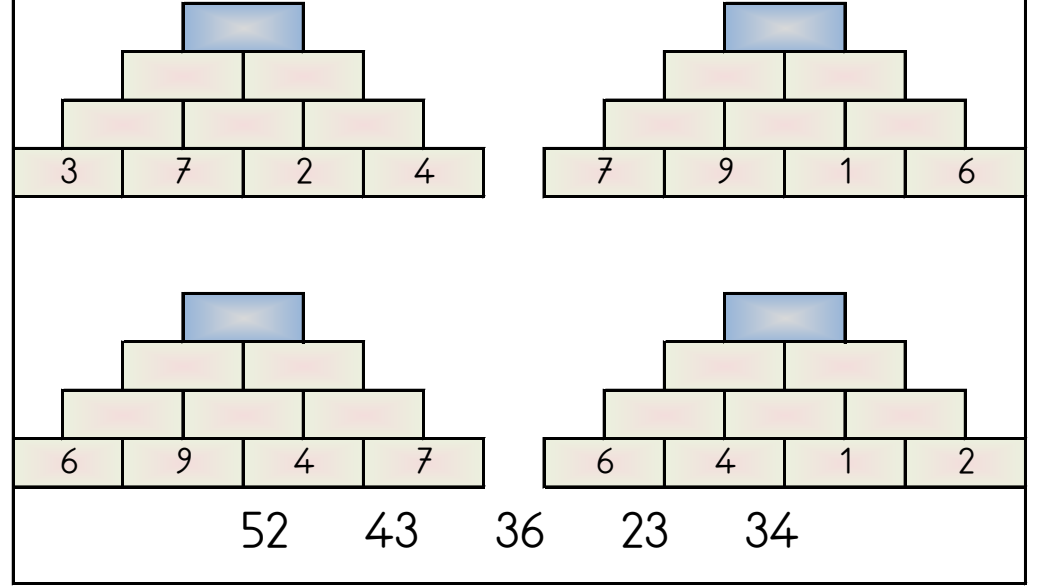


Verilen sayıdan başlayarak ok yönünde işlemleri yapın ve verilmeyen sayıları bulun.



PİRAMİT TOPLAMA

Piramitin altındaki sayıları toplayarak tepedeki sayıya ulaşın ve bu sayıyı işaretleyin.



ALFABEMİZ (ÖNCEKİ SONRAKİ HARF)

" \Leftarrow " işareti verilen harften önceki harfi, " \Rightarrow " işareti ise verilen harften sonraki harfi göstermektedir. Çalışmayı doğru şekilde tamamlayabilmen için harflerin sıralanışını iyi bilmen gerekir. Aşağıya alfabeği yazman işini oldukça kolaylaştırıcaktır.

Verilen Yönerge	C \Rightarrow ; B \Leftarrow ; O \Leftarrow ; U \Leftarrow ; B \Leftarrow
Oluşan Gizli Kelime	
Verilen Yönerge	J \Rightarrow ; V \Leftarrow ; R \Rightarrow ; L \Rightarrow ; D \Rightarrow ; J \Rightarrow
Oluşan Gizli Kelime	
Verilen Yönerge	S \Rightarrow ; D \Rightarrow ; N \Leftarrow ; Ş \Leftarrow ; I \Rightarrow ; Z \Leftarrow ; F \Leftarrow
Oluşan Gizli Kelime	

DESTE, DÜZİNE, ONLUK VE BİRLİK SORULARI

Aşağıdaki problemleri çözün ve cevaplarını işaretleyin.

- 4 onluk ve 5 birlikten oluşan sayının 2 eksiği kaçtır? 43
- 44 sayısı 4 desteden kaç fazladır. 39
- 1 deste ve 2 düzinenin 7 eksiği kaç eder? 6
- 6 destenin 9 eksiği kaç eder? 51
- 18 sayısına kaç eklersek 2 düzine olur? 4
- 4 düzinenin 9 eksiği kaç eder? 27
- 7