

SIRA SİZDE

Aşağıdaki boşluğa kendi çalışmanı hazırlayabilirsin.

Kitapçık Hakkında

Bu kitapçıkta konu tekrarı amaçlı etkinlikler ve dikkat geliştirici eğlenceli çalışmalar bulunmaktadır. Haftalık olarak çalışmalar üretilmeye ve paylaşılmaya devam edecektir.

Kontrol Edenin Adı İmzası

4. SINIF EĞLENCELİ ÇALIŞMALAR 5

28 Eğlenceli Çalışma



ilkokul1.com

Adı Soyadı:

Sınıfı :

Okulu :

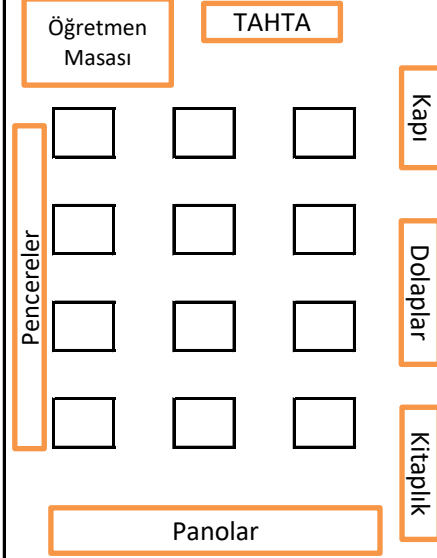
Yunus KÜLCÜ

ÇARPIM TABLOSU EŞLEŞTİRME (Zor)

Aşağıdaki tablodan işlemleri cevaplarıyla eşleştirdiğinizde hangi sayı boşta kalır?

5×5	72	56	40	81
48	8×8	54	7×8	9×5
5×6	8×5	45	7×9	30
7×5	64	35	63	8×9
42	9×6	25	9×9	7×6

NEREDE OTURUYOR? (KOLAY SEVİYE)



12 kişilik bir sınıfta Zümra kapı tarafında son sırada, İsmail dolapların olduğu tarafta ilk sırada, Yunus pencere tarafında birinci sırada, Sukeyna orta tarafta sondan üçüncü sırada, Osman pencere tarafında dördüncü sırada, Berranur dolapların olduğu tarafta üçüncü sırada, Ertuğrul orta tarafta sondan dördüncü sırada, Mete pencere tarafında üçüncü sırada, Suna kapı tarafında sondan üçüncü sırada, Ayşenaz pencere tarafında sondan üçüncü sırada, Mehmet orta tarafta son sırada oturmaktadır. Bu bilgileri kullanarak Eymen'in hangi sırada oturduğunu işaretleyiniz.

SAYI PROBLEMLERİ

7780'in 1058 eksiğinin 3898 eksiği kaçtır?

3832

3766'nın 458 fazlasının 3045 fazlası kaçtır?

2824

2912 ekleyince 6744 eden sayı kaçtır?

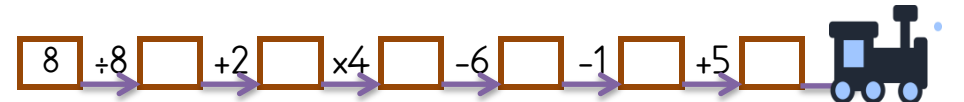
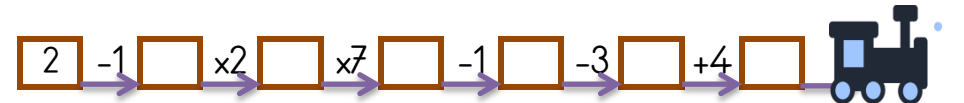
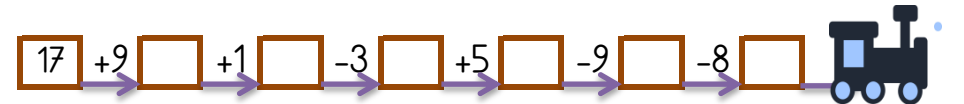
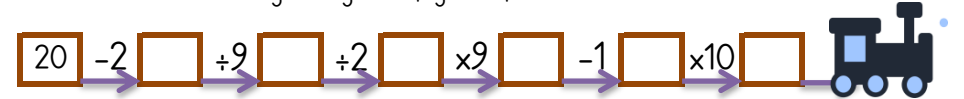
1017

7247 sayısının 2658 fazlasının 6434 eksiği kaçtır?

7269

VAGONLARI DOLDUR (DÖRT İŞLEM)

Son vagona verilen sayıdan başlayıp verilen işlemleri yaparak bütün vagonları doldurabilir misin? Her trende son bulduğun vagonu aşağıdan işaretlemelisin.



2 80 14 12 10

SAYI ÇİFTLERİNİ BUL (Seviye 1)

Yandaki tabloda ikişer tane yazılmış üç basamaklı sayıları bulup farklı renklere boyayın ve noktalı yerlere yazınız.

2	8	4	8	7
4	4	5	4	4
7	2	3	2	7
0	4	5	3	0

1. Sayı :
2. Sayı :
3. Sayı :

Yandaki tabloda ikişer tane yazılmış üç basamaklı sayıları bulup farklı renklere boyayın ve noktalı yerlere yazınız.

5	4	1	5	5
2	8	4	8	2
4	5	1	5	4
6	7	5	7	8

1. Sayı :
2. Sayı :
3. Sayı :

EŞ ANLAMLI KELİME BULMACASI

Aşağıdaki eş anlamlı kelime çiftlerini boyayın. Hangi kelimenin boşta kalacağını bulun.

TEBRİK	ARKA	SONBAHAR	KOCAMAN	BÜYÜK
ESİR	BEYAZ	GÜZ	HEKİM	KUTLAMA
TUTSAK	GERİ	DOKTOR	SÜRATLI	HIZLI

SAYI PROBLEMLERİ

958 fazlası 9666 olan sayının 4226 eksiği kaçtır?

2370

2412 sayısının 2519 fazlasının 2199 eksiği kaçtır?

6104

3865 eksiği 1428 eden sayının 811 fazlası kaçtır?

9650

2732

1345 sayısının 5720 fazlasının 2585 fazlası kaçtır?

4482

DOĞRU İŞLEMLERİ BUL


Noktalı yerlere "+, -, x, ÷" işaretlerinden uygun olanları yazınız.

$$(7 \dots 3) \dots 2 = 2$$

$$(6 \dots 5) \dots 9 = 9$$

$$(4 \dots 2) \dots 2 = 1$$

$$(8 \dots 5) \dots 4 = 12$$



4x4 SUDOKU (NORMAL SEVİYE)

Her satır ve sütunda 1,2,3,4 rakamlarını kullanarak boş kutuları doldurun.

Sudoku 1

2		4	
4	3		2
3		2	

Sudoku 2

4	1	2	
3			4
	3		2
2			

Sudoku 3

2			4
		2	1
			3
4	3		



Sudoku 4

			4
2		1	3
1			
4	2		1

Sudoku 5

	2		
3		1	
	1	4	3
4			1

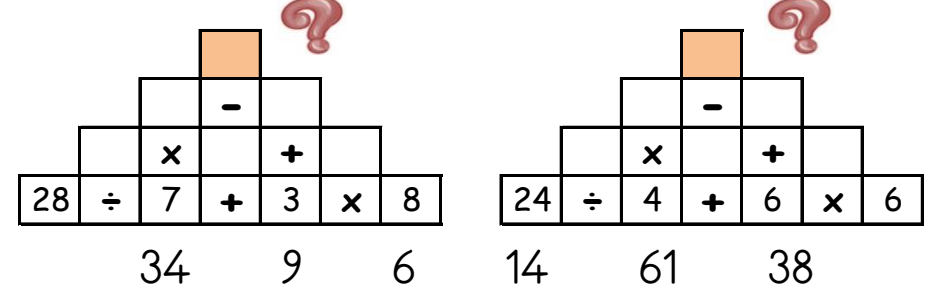

Sudoku 6

		3	4
4			
2	4	1	
	1		2



DÖRT İŞLEM PİRAMİDİ

Piramitte iki sayı arasındaki işlemin sonucunu üst kutuya yazarak tepelerdeki sayılara ulaşın ve cevapları aşağıdan işaretleyin.



ZIT ANLAMLI KELİME BULMACASI

Aşağıdaki zıt anlamlı kelime çiftlerini boyayın. Hangi kelimenin boşta kalacağını bulun.

BİTİŞ	BAŞLANGIÇ	TEMBEL	DAR	YENİ
ISLAK	İTMEK	GENÇ	ÇEKMEK	YAŞLI
FAKİR	GENİŞ	ESKİ	ZENGİN	KURU

SAYI AVI

İki Basamaklılar:

74, 11, 31, 29, 53, 46.

Üç Basamaklılar:

535, 363, 175.

Dört Basamaklılar:

2386, 1328, 3677.

Beş Basamaklılar:

85587.

Altı Basamaklılar:

841476, 851194, 552314,
778356.

						4
						6

ŞİFRELİ ALFABE ÇALIŞMASI



Aşağıda verilen her bir sayı alfabemizde bulunan bir harfi temsil etmektedir. Bu sayılar harfin alfabedeki sırasını göstermektedir. (1=A, 2=B, 3=C ...)

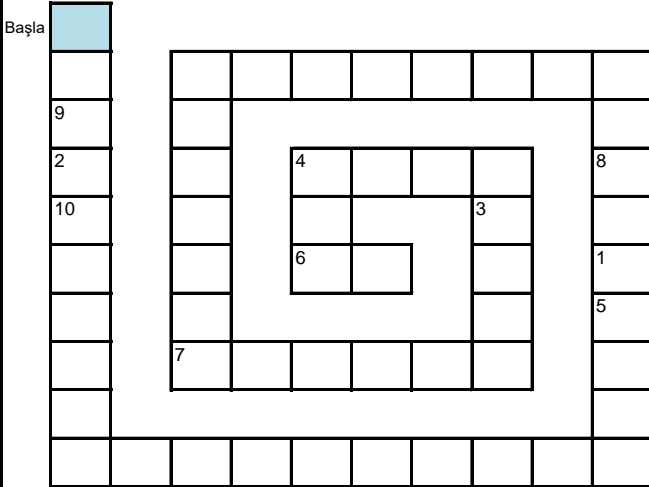
22-1-17-1-24

1-15-24-11-17

2-12-15-6-29-12-14-24-12-21

SARMAL BULMACA

Soruların cevaplarını başla kutusundan başlayarak sırsıyla yazın. Şifreyi oluşturun.



Sorular:

$7 \times 8 = \dots$

$78 + 105 = \dots$

$73 + 70 = \dots$

$122 - 23 = \dots$

$171 - 107 = \dots$

$4 \times 4 = \dots$

1	2	3	4	5	6	7	8	9	10
---	---	---	---	---	---	---	---	---	----

DIKKAT GELİŞTİRME SORULARI

4, 9, 1, 6, 2, 11 | 12, 7, 10, 5, 3, 8

1) Aradığımız sayı 4 sayısının bulunduğu kutudadır. Bu sayı bulunduğu kutunun ilk üç sayısından birisi değildir. Bu sayı aşağıdakilerden hangisi olabilir?

- a) 1 b) 6 c) 10 d) 3

5, 1, 10, 3, 2, 4 | 12, 9, 8, 7, 6, 11

3) Aradığımız sayının bulunduğu kutuda 7 sayısı da bulunmaktadır. Bu sayı bulunduğu kutunun son üç sayısından birisidir. Bu sayı aşağıdakilerden hangisi olabilir?

- a) 10 b) 4 c) 9 d) 11

3, 5, 9, 1, 6, 10 | 4, 12, 8, 2, 7, 11

2) Aradığımız sayı sağ kutuda değildir. Bu sayı bulunduğu kutunun son üç sayısından birisi değildir. Bu sayı aşağıdaki sayılardan hangisi olamaz?

- a) 5 b) 3 c) 11 d) 9

7, 11, 12, 1, 4, 6 | 3, 2, 5, 10, 9, 8

4) Aradığımız sayının bulunduğu kutuda 3 sayısı da bulunmaktadır. Bu sayı bulunduğu kutunun son üç sayısından birisi değildir. Bu sayı aşağıdakilerden hangisi olabilir?

- a) 7 b) 1 c) 2 d) 8

Bulduğunuz cevapların toplamı 30 ise başarılıdır.

ZİHİNDEN BÖLME (10,100 ve 1000 ile)

Aşağıdaki bölme işlemlerinin cevaplarını yazınız.

$390 \div 10 = \dots$

$77000 \div 100 = \dots$

$934000 \div 100 = \dots$

$6000 \div 1000 = \dots$

$36000 \div 10 = \dots$

$88000 \div 1000 = \dots$

$18600 \div 100 = \dots$

$86000 \div 1000 = \dots$

$541000 \div 10 = \dots$

$51300 \div 100 = \dots$

FARKLI OLANI BUL

Aşağıdaki her grupta kelime çiftlerinden anlam ilişkisi bakımından farklı olanı işaretleyin.



YAŞLI	GENÇ
TAMİR	ONARIM
SISKA	ZAYIF

YABANCI	EL
İŞİTMEK	DUYMAK
İLERİ	GERİ

İTMEK	ÇEKMEK
VAR	YOK
ELBİSE	KIYAFET

ÖĞRENCİ	TALEBE
BEYAZ	SİYAH
MUTLU	ÜZGÜN

KOLAY	BASİT
DAR	GENİŞ
MESELA	ÖRNEĞİN

ADALET	HAK
BAŞLANGIÇ	BİTİŞ
IRMAK	NEHİR

TOPLA ÇIKAR BUL

Aşağıdaki işlemlerin cevaplarını tablodan işaretleyin.

$$\begin{array}{r} 6562 \\ - 3967 \\ \hline \end{array} \quad \begin{array}{r} 4892 \\ + 2369 \\ \hline \end{array} \quad \begin{array}{r} 9612 \\ - 4938 \\ \hline \end{array}$$

$$\begin{array}{r} 5905 \\ + 3694 \\ \hline \end{array} \quad \begin{array}{r} 3081 \\ + 5557 \\ \hline \end{array} \quad \begin{array}{r} 8415 \\ - 3897 \\ \hline \end{array}$$

$$\begin{array}{r} 5056 \\ - 3999 \\ \hline \end{array} \quad \begin{array}{r} 6654 \\ - 1595 \\ \hline \end{array} \quad \begin{array}{r} 7108 \\ + 1353 \\ \hline \end{array}$$

9	5	9	9	1	1
2	7	8	6	3	8
5	4	1	2	7	4
9	6	1	8	2	5
5	7	0	4	6	1
4	4	5	6	1	8
2	8	7	1	9	9
9	5	0	5	9	0



ŞEKİLLİ ZEKA SORULARI

Görselleri inceleyerek noktalı alanların değerlerini bulunuz.

$$\begin{array}{c} \text{3 kırmızı at} \\ + \\ 3 \end{array} = 9$$

$$\begin{array}{c} \text{1 kırmızı at} \\ + \\ \text{2 kırmızı at} \end{array} = 3$$

$$\begin{array}{c} 2 \\ + \\ \text{3 kırmızı at} \end{array} = \dots$$

$$\begin{array}{c} \text{2 kırmızı at} \\ - \\ 2 \end{array} = 4$$

$$\begin{array}{c} \text{1 kırmızı at} \\ - \\ \text{1 kırmızı at} \end{array} = 1$$

$$\begin{array}{c} \text{2 kırmızı at} \\ + \\ 6 \end{array} = \dots$$

ALFABEMİZ (ÖNCEKİ SONRAKİ HARF)

"←" işareti verilen harften önceki harfi, "→" işareti ise verilen harften sonraki harfi göstermektedir. Çalışmayı doğru şekilde tamamlayabilmen için harflerin sıralanışını iyi bilmen gerekir. Aşağıya alfabeği yazman işini oldukça kolaylaştıracaktır.

Verilen Yönerge Ş→; B←; L→; İ→; S←

Oluşan Gizli Kelime

Verilen Yönerge U←; V←; L←; F←; U←; J←; L→

Oluşan Gizli Kelime

Verilen Yönerge Ş←; B←; Z←; İ←

Oluşan Gizli Kelime

HANGİSİ DOĞRU

Doğru yazılan kelimenin şifre harfini boş kutulara yazarak şifreyi oluşturun.

1)	S	CIĞER
2)	İ	YAĞMUR
3)	L	GRUP
4)	U	FÜLÜT
5)	İ	AİDAT
6)	N	ÖRETMEN
7)	V	ÖGE
8)	K	DAYRE
9)	S	EYER
10)	İ	EREZYON

T	CIYER
E	YAMUR
K	GURUP
G	FLÜT
A	AYİDAT
Ö	ÖĞRETMEN
R	ÖGE
N	DAİRE
E	EĞER
K	EROZYON



1	2	3	4	5	6	7	8	9	10

ZİHİNDEN VERİLMİYEN SAYILAR

Aşağıdaki işlemlerde verilmeyenleri bularak ilerleyin ve noktalı yerlere cevapları yazın.

$$\begin{aligned} \blacktriangle - 3 &= 5 \\ \star + \blacktriangle &= 14 \\ \blacksquare + \star &= 14 \\ \blacksquare + \square &= 14 \\ \square &= \dots\dots \end{aligned}$$

$$\begin{aligned} 6 + \square &= 13 \\ \heartsuit + \square &= 9 \\ \diamond - \heartsuit &= 8 \\ \diamond + \text{pencil} &= 14 \\ \text{pencil} &= \dots\dots \end{aligned}$$

$$\begin{aligned} 2 + \diamond &= 11 \\ \diamond + \star &= 15 \\ \star - \square &= 3 \\ \square + \blacktriangle &= 12 \\ \blacktriangle + 8 &= \dots\dots \end{aligned}$$

$$\begin{aligned} \blacktriangle - 8 &= 1 \\ \blacktriangle - \square &= 2 \\ \square - \diamond &= 4 \\ \diamond + \text{pencil} &= 8 \\ \text{pencil} + 1 &= \dots\dots \end{aligned}$$

$$\begin{aligned} 12 - \text{pencil} &= 9 \\ \text{pencil} - \diamond &= 2 \\ \blacksquare + \diamond &= 8 \\ \square + \blacksquare &= 12 \\ \square &= \dots\dots \end{aligned}$$

$$\begin{aligned} 4 - \star &= 1 \\ \star + \blacksquare &= 13 \\ \blacksquare + \text{pencil} &= 16 \\ \text{pencil} + \heartsuit &= 10 \\ \heartsuit &= \dots\dots \end{aligned}$$

MANAV ALIŞVERİŞİ



1kg 5 TL



1kg 6 TL



1kg 3 TL



1kg 7 TL

1) 8 kg patates, 4 kg vişne ve 3 kg domates toplam kaç liradır?

2) 7 kg vişne kaç liradır?

3) 7 kg vişne ve 3 kg patates toplam kaç liradır?

4) 4 kg patlıcan kaç liradır?

5) 8 kg patates kaç liradır?

6) 8 kg domates kaç liradır?

EĞLENCELİ KOD ÇÖZME

Aşağıda bazı kelimelerin kodlanmış halleri yanında verilmiştir. Kelimelerin kodlanışlarını inceleyerek verilen diğer kodları çözünüz.

simetri = 3419724 ⇒ 7929 =

mineral = 1948356 ⇒ 35669 =

kamera = 489678 ⇒ 46967 =

sakız = 61598 ⇒ 1895 =

kartal = 458356 ⇒ 35465 =

ÇARP BUL

Aşağıdaki işlemlerin cevaplarını tablodan işaretleyin.

$$\begin{array}{r} 158 \\ \times 91 \\ \hline \end{array}$$
$$\begin{array}{r} 810 \\ \times 17 \\ \hline \end{array}$$
$$\begin{array}{r} 944 \\ \times 66 \\ \hline \end{array}$$
$$\begin{array}{r} 834 \\ \times 87 \\ \hline \end{array}$$

$$\begin{array}{r} 330 \\ \times 82 \\ \hline \end{array}$$
$$\begin{array}{r} 369 \\ \times 60 \\ \hline \end{array}$$

2	5	2	2	1	4	0
5	1	4	3	7	8	6
9	3	0	1	6	2	2
8	7	2	5	5	8	3
1	7	2	7	0	6	0
7	0	8	2	4	2	4



10,100 VE 1000'İN KATLARI İLE ÇARPMA

Aşağıdaki çarpma işlemlerinin cevaplarını yazınız.

$800 \times 902 = \dots\dots\dots$

$90 \times 689 = \dots\dots\dots$

$10 \times 791 = \dots\dots\dots$

$871 \times 20 = \dots\dots\dots$

$854 \times 1000 = \dots\dots\dots$

$154 \times 1000 = \dots\dots\dots$

$358 \times 2000 = \dots\dots\dots$

$90 \times 120 = \dots\dots\dots$

$337 \times 2000 = \dots\dots\dots$

$465 \times 600 = \dots\dots\dots$

ÇARPMA ALIŞTIRMALARI



Aşağıdaki işlemlerin sonuçlarını bulun ve işaretleyin.

$$\begin{array}{r} 707 \\ \times 62 \\ \hline \end{array}$$
$$\begin{array}{r} 634 \\ \times 60 \\ \hline \end{array}$$
$$\begin{array}{r} 158 \\ \times 79 \\ \hline \end{array}$$
$$\begin{array}{r} 676 \\ \times 80 \\ \hline \end{array}$$

$$\begin{array}{r} 427 \\ \times 89 \\ \hline \end{array}$$
$$\begin{array}{r} 216 \\ \times 49 \\ \hline \end{array}$$
$$\begin{array}{r} 924 \\ \times 97 \\ \hline \end{array}$$
$$\begin{array}{r} 828 \\ \times 36 \\ \hline \end{array}$$

10584 54080 89628 29808 38003 12482 43834 42777 38040

HATASIZ YAZIYORUM

Yazım ve noktalama hatalarını bulun ve işaretleyin. Daha sonra yazıyı hatasız bir şekilde sağ tarafa yazın. (4 hata)

kışın ortalarıydı ve
korkunç bir soğuk vardı.
kar ve tipi yüzünden
yolu zor seçiyorlardı.
Minik can babasına
"Baba nereye gidiyoruz."
diye sordu.

.....

.....

.....

.....

.....

.....

.....

.....