

RESİM KÖŞESİ

Kitapçık Hakkında

Bu kitapçıkta konu tekrarı amaçlı etkinlikler ve dikkat geliştirici eğlenceli çalışmalar bulunmaktadır. Yönergeler veliler ve öğretmenler için hazırlandığından küçük puntolarla yazılmıştır. Faydalı olması dileğiyle.

Kontrol Edenin Adı İmzası

1. SINIF EĞLENCELİ ÇALIŞMALAR 7

18 Eğlenceli Çalışma

6 Problem



ilkokul1.com

Adı Soyadı:

Sınıfı :

Okulu :

Yunus KÜLCÜ

SUDOKU (KOLAY SEVİYE)

Her satır ve sütunda 1,2,3,4,5 rakamlarını kullanarak boş kutuları doldurun.

	3	5	2	4
2	5	3	4	1
4				5
		4	5	2
5		2	1	

MINİ TEKRAR ÇALIŞMASI 3

Aşağıdaki zıt anlamlı kelimeleri eşleştirin ve şifreyi bulun.

1 UNUTMAK	R SİYAH	6 ALT	V SABAH
2 KAYBETMEK	N SAHTE	7 AÇIK	E KAPALI
3 GERÇEK	S HATIRLAMAK	8 AKŞAM	P GEÇ
4 BEYAZ	A DÜŞMAN	9 İÇ	C ÜST
5 DOST	O BULMAK	10 ERKEN	A DIŞ

1	2	3	4	5	6	7	8	9	10

Aşağıdaki noktalı alanları doldurun.

Yılın 12. ayı	Yılın 3. ayı	Yılın 8. ayı	Haftanın 3. günü
.....

ADI :

PROBLEM ÇÖZELİM



1) Bir tabakta 8 şeker var. Bu tabağa 9 şeker daha konulursa tabakta kaç şeker olur?

3) *Sukeyna birinci gün 4 soru, ikinci gün birinci gün çözdüğünden 6 fazla soru çözmüştür. Sukeyna iki günde toplam kaç soru çözmüştür?

5) Aklımdan bir sayı tuttum ve bu sayıdan 1 çıkardım. Aklımdan tuttuğum sayı 3 olduğuna göre bulduğum sonuç kaçtır?

2) Ömer' in 9 tane şekeri var. Ömer şekerlerinden 2 tanesini Deniz' e verdiği göre Ömer' in kaç şekeri kalmıştır?

4) Kerem' in 10 mavi, 3 tane de beyaz bilyesi var. Kerem' in toplam kaç bilyesi var?

6) Hangi sayının 3 fazlası 11 eder?

2 10 8 13 17 7 14

ZİHİNDEN SAYI SORULARI

Aşağıdaki soruları zihinden çözün ve cevaplarını yazıp işaretleyin.

- | | |
|--|----|
| 1) 9, 1 daha kaç eder? | 3 |
| 2) 6 sayısını 2 artırırsak sonuç kaç olur? | 2 |
| 3) 5 sayısının 1 eksiği kaç eder? | 9 |
| 4) 8 sayısını 6 azaltırsak sonuç kaç olur? | 10 |
| 5) 5 sayısına 7 eklersek sonuç kaç olur? | 8 |
| 6) 6 sayısını 1 artırırsak sonuç kaç olur? | 14 |
| 7) 5, 9 daha kaç eder? | 4 |
| 8) 3 sayısını 2 eksiltirsek sonuç kaç olur? | 7 |
| 9) 5 sayısının 1 fazlası kaç eder? | 12 |
| 10) 9 sayısından 6 sayısını çıkarırsak sonuç kaç olur? | 1 |
| 11) 8 sayısını 3 eksiltirsek sonuç kaç olur? | 5 |
| 12) 4 sayısının 5 fazlası kaç eder? | 6 |

TOPLA, ÇIKAR VE İLERLE

Sırasıyla işlemlerin sonucunu bul ve Pepee'yi ok yönünde bulduğun sonuç kadar ilerlet.

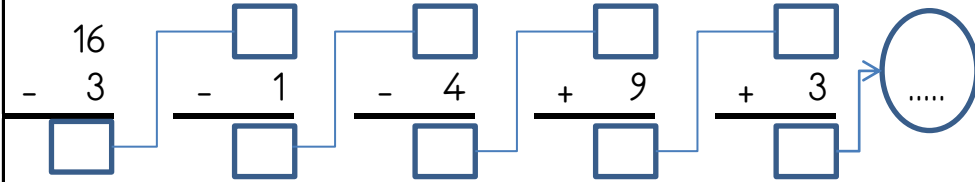
▼	▶	▲	◀	▼	◀
3	5	9	3	1	15
+ 1	+ 9	- 6	- 1	+ 4	- 3



				H					G		
					B						
							F				
	I										
						D					
A											

MINİ TEKRAR ÇALIŞMASI 1

$6 + \dots = 15$	$2 - 1 = \dots$	$8 + 4 = \dots$
------------------	-----------------	-----------------



Kelimelerin zıt anlamlarını karşlarına yazın.

ŞİŞMAN	Z.....	GECE	G.....
YABANCI	T.....	DAR	G.....

Aşağıdaki kelimeleri sözlük sırasına göre numaralandırın.

PORTAKAL	SUCUK	TEHLİKE
ŞAPKA	İHTİYAR	LAMBA
MANGAL	KANUN	BÖREK

EŞİ OLMAYANI BUL (ŞİFRELİ)

Her bir kutuda eşî olan harfleri boya ve tek kalan harfleri şifre bölümüne yazarak şifreyi oluşturun.

1	2	3	4
O G L	U T N	Y Z E	E İ O
L K O	U R N	A E A	N T T
K U U	R Ü T	Ö Ö Y	O İ N

5	6	7	8
K K Ö	M M L	K İ R	Y Y İ
İ L İ	E Ü O	M M A	İ R K
U U Ö	Ü L E	İ A R	R U K

1	2	3	4	5	6	7	8

ŞİFRELİ TOPLAMA ÇIKARMA İŞLEMLERİ

Aşağıdaki işlemleri yapın ve şifreyi bulun.

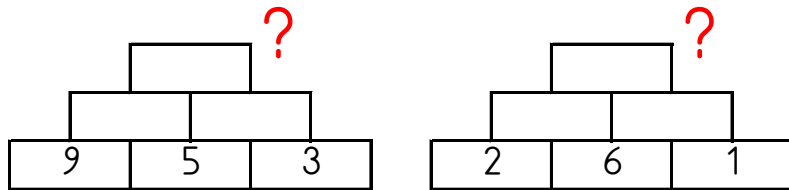
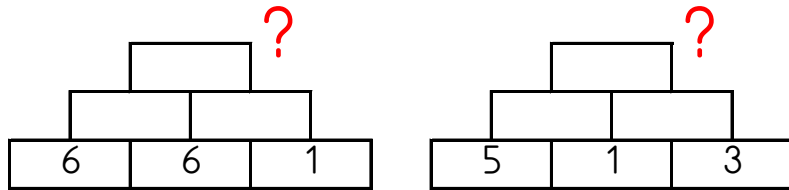


K	A	T	A	O	S
16	11	12	14	2	8
- 9	- 3	- 9	+ 4	+ 14	- 4
<hr/>					

N	I	I	M	L	Y
5	1	18	3	2	13
+ 10	+ 9	+ 1	- 1	+ 4	- 1
<hr/>					

16	6	8	12	2	10	7	15	18	3	19	4		
												+	-

Altındaki iki kutunun toplamını bir üst kutuya yazarak en üstteki sayıyı bul ve işaretle.



15 7 19 10 22

ZİHİNDEN SAYI SORULARI

Aşağıdaki soruları zihinden çözün ve cevaplarını yazıp işaretleyin.

- 1) 4 sayısı ile 7 sayısını toplarsak sonuç kaç olur?
- 2) 8 sayısını 4 artırırsak sonuç kaç olur?
- 3) 10 sayısını 4 artırırsak sonuç kaç olur?
- 4) 6, 9 daha kaç eder?
- 5) 6 sayısının 7 fazlası kaç eder?
- 6) 5 sayısına 1 eklersek sonuç kaç olur?
- 7) 7 sayısından 5 sayısını çıkarırsak sonuç kaç olur?
- 8) 6, 4 daha kaç eder?
- 9) 6 sayısından 1 çıkarırsak sonuç kaç olur?
- 10) 4 sayısını 3 eksiltirsek sonuç kaç olur?
- 11) 7 sayısını 3 azaltırsak sonuç kaç olur?
- 12) 10 sayısından 1 çıkarırsak sonuç kaç olur?

9
11
4
13
10
6
14
15
1
12
2
5

MINİ TEKRAR ÇALIŞMASI 2

Aşağıdaki işlemleri yapın ve şifreyi bulun.

R	12 + 1 =	E	19 - 8 =	U	5 + 4 =
B	10 - 5 =	A	4 - 3 =	U	12 - 2 =
R	6 - 4 =	A	1 + 6 =	B	3 + 14 =
T	3 + 15 =	A	8 - 2 =	T	16 - 2 =

7	13	6	5	1	2	9	14	10	17	11	18
---	----	---	---	---	---	---	----	----	----	----	----

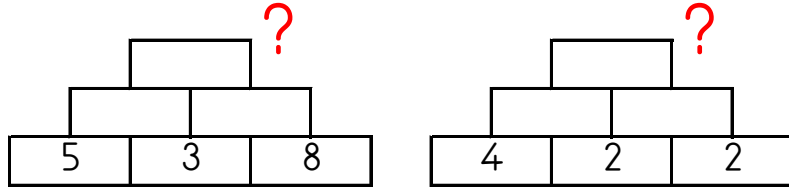
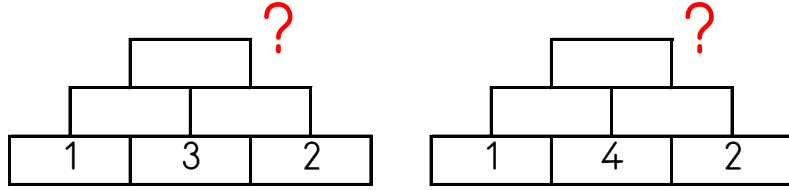
Aşağıdaki tabloda bulunan boşlukları doldurun

<i>DÜN</i>	<i>BUGÜN</i>	<i>YARIN</i>
ÇARŞAMBA		
		CUMA
	PAZARTESİ	

Aşağıdaki boşlukları doldurun.

2	4	6			
9	10	11			
16	14	12			
20	25	30			

Altındaki iki kutunun toplamını bir üst kutuya yazarak en üstteki sayıyı bul ve işaretle.



19 9 22 11 10

Modellere uygun çıkarma işlemlerini yan taraftaki boşluklara örnekteki gibi yazın.

$$6 - 5 = 1$$

Uygun kutuları boyayarak yolu tamamlayın. (bire ger ritmik sayarak)



20	13	18	2	15	20	15	7	6	5
19	18	17	19	13	20	9	8	4	4
9	8	16	15	19	11	10	19	5	3
19	20	3	14	13	12	2	15	7	2
12	8	5	9	9	8	14	3	6	1






Bebegi toplamı 10 olan kutuları boyayarak emziğe ulaştır. Çapraz ilerlemek yok. (11 kutu daha boyanacak.)



9 + 1	7 + 3	7 + 2	8 + 3	1 + 8	4 + 5	7 + 2
3 + 6	4 + 6	3 + 6	7 + 4	7 + 4	8 + 1	1 + 10
5 + 5	7 + 3	5 + 4	1 + 10	1 + 8	3 + 8	4 + 7
5 + 5	1 + 8	1 + 10	8 + 1	6 + 3	1 + 8	2 + 9
7 + 3	6 + 4	9 + 1	9 + 1	1 + 9	2 + 8	8 + 2



Kutulardaki hayvanların on tanesini yuvarlak içine alın. Kutulardaki hayvan sayılarının onluk, birliklerini ve sayılarını altlarındaki tablolarda gösterin.



Onluk	Birlik
.....
.....	

Onluk	Birlik
.....
.....	

Onluk	Birlik
.....
.....	

5x5 SUDOKU (KOLAY SEVİYE)

Sudoku 1

	1	2	4	5
	4	1	5	3
	3	4	2	
1		5	3	
4	5			2

Sudoku 2

5	3	1	4	
1	5	2	3	
	1	3	2	5
3		4		1
	4		1	



4	1		2	3
3	2		5	1
2		1	3	4
	4		1	
1		2		5

1	5	2	4	3
5	3			1
3	4	5	1	
	2	1	3	5
		3		

ZIT ANLAMLI KELİME BULMACASI

Aşağıdaki zıt anlamlı kelime çiftlerini boyayın. Hangi kelimenin boşta kalacağını bulun.

GERİ	BULMAK	OTURMAK	KAYBETMEK	YARAMAZ
İÇ	TATLI	ACI	KALKMAK	GECE
ALT	DİŞ	İLERİ	GÜNDÜZ	USLU

HANGİ KUTULAR (SONUCU 10)

$8 + 6$	$5 + 3$	$7 + 5$	$16 - 9$	$14 - 4$	$7 + 3$	$3 + 7$
$7 + 7$	$5 + 9$	$9 - 2$	$8 + 6$	$16 - 3$	$19 - 7$	$12 - 4$
$15 - 9$	$4 + 7$	$7 + 1$	$13 - 4$	$6 + 8$	$14 - 4$	$16 - 5$
$16 - 3$	$9 + 1$	$20 - 6$	$7 + 3$	$7 + 2$	$5 + 4$	$16 - 6$
$17 - 9$	$13 - 2$	$14 - 8$	$9 + 4$	$7 + 4$	$12 - 2$	$6 + 2$
$16 - 6$	$4 + 6$	$9 - 1$	$19 - 7$	$5 + 6$	$11 - 3$	$9 + 4$

Bu işlem kutularının arasında sonucu 10 olan 10 kutu gizlenmiştir. Bu kutuları bulabilir misin?

