

## SIRA SİZDE

Aşağıdaki boşluğa kendi çalışmanı hazırlayabilirsin.

### Kitapçık Hakkında

Bu kitapçıkta konu tekrarı amaçlı etkinlikler ve eğlenceli çalışmalar bulunmaktadır. Haftalık olarak çalışmalar üretilmeye ve paylaşılmaya devam edecektir.

Kontrol Edenin Adı ..... İmzası .....

# 2. SINIF EĞLENCELİ ÇALIŞMALAR 11

16 Eğlenceli Çalışma  
16 Problem



ilkokul1.com

Adı Soyadı:

Sınıfı :

Okulu :

Yunus KÜLCÜ



## PROBLEMLER



1) Betül'ün 65 lirası vardı. Teyzesi Betül'e 21 lira daha verdi. Betül'ün kaç lirası oldu?

Cevap: .....

2) Muhammed bir günde 10 sayfa kitap okumaktadır. Muhammed 5 günde kaç sayfa kitap okur?

Cevap: .....

3) Bir çiftlikte 6 inek ve ineklerin 2 katının 23 fazlası kadar da tavşan vardır. Buna göre bu çiftlikte kaç tane tavşan vardır?

Cevap: .....

4) Yunus'un bir miktar parası vardı. Dayısı Yunus'a 48 lira daha verince Yunus'un 99 lirası oldu. Buna göre Yunus'un başlangıçta kaç lirası vardı?

Cevap: .....

5) Ayşenaz'ın 47 lirası vardı. Ayşenaz parasının bir miktarına kalemtraş almıştır. Ayşenaz'ın 43 lirası kaldığına göre Ayşenaz kalemtraş için kaç lira harcamıştır?

Cevap: .....

6) Bir sınıfta 9 erkek öğrenci ve erkeklerin 4 katı kadar da kız öğrenci vardır. Buna göre bu sınıfta kaç kız öğrenci vardır?

Cevap: .....

7) 32 sayısına 3 onluk ve 8 birlik eklersek hangi sayıya ulaşırız?

Cevap: .....


8) Mete cuma günü 20 sayfa, cumartesi günü 7 sayfa, pazar günü ise 10 sayfa kitap okumuştur. Mete bu üç günde toplam kaç sayfa kitap okumuştur?

Cevap: .....

## ŞİFRELE EŞ ANLAMLI KELİMELER



|    |           |
|----|-----------|
| 1  | İSTEK     |
| 2  | MİLLET    |
| 3  | KOCAMAN   |
| 4  | SINAV     |
| 5  | YAŞAM     |
| 6  | KİRLİ     |
| 7  | PROBLEM   |
| 8  | ÖĞRETMEN  |
| 9  | MESELA    |
| 10 | GÜÇ       |
| 11 | EŞANLAMLI |



|   |          |
|---|----------|
| S | HAYAT    |
| L | İMTİHAN  |
| U | ULUS     |
| A | MUALLİM  |
| D | ÖRNEĞİN  |
| S | ARZU     |
| R | SORUN    |
| N | ANLAMDAŞ |
| A | BÜYÜK    |
| I | PİS      |
| A | KUVVET   |



|   |   |   |   |   |   |   |   |   |    |    |
|---|---|---|---|---|---|---|---|---|----|----|
| 1 | 2 | 3 | 4 | 5 | 6 | 7 | 8 | 9 | 10 | 11 |
|---|---|---|---|---|---|---|---|---|----|----|



## SUDOKU (KOLAY SEVİYE)

Sudoku 1

|   |   |   |   |   |
|---|---|---|---|---|
| 1 |   | 2 | 3 | 4 |
| 2 |   |   |   | 3 |
| 4 |   | 5 | 1 | 2 |
| 3 | 1 | 4 |   | 5 |
|   | 2 |   | 4 |   |

Sudoku 2

|   |   |   |   |   |
|---|---|---|---|---|
| 1 | 4 |   | 3 |   |
| 5 | 1 |   | 2 | 4 |
| 3 |   | 4 | 1 | 5 |
| 2 | 5 | 1 | 4 |   |
|   |   | 2 |   | 1 |

Sudoku 3

|   |   |   |   |   |
|---|---|---|---|---|
| 2 | 3 | 4 |   |   |
|   | 2 |   | 5 | 3 |
|   |   | 2 | 4 | 1 |
| 1 | 4 | 5 | 3 | 2 |
|   | 1 | 3 | 2 |   |

Sudoku 4

|   |   |   |   |   |
|---|---|---|---|---|
| 4 | 5 | 2 |   | 3 |
| 5 | 2 |   | 3 | 1 |
| 1 |   | 5 |   |   |
| 2 | 1 |   | 5 | 4 |
|   |   |   | 2 | 5 |



## SUDOKU (NORMAL SEVİYE)

Her satır ve sütunda 1,2,3,4 rakamlarını kullanarak boş kutuları doldurun.

Sudoku 1

|   |   |   |   |
|---|---|---|---|
| 2 |   | 1 |   |
|   |   | 2 | 3 |
| 3 |   |   |   |
|   | 2 | 3 | 1 |

Sudoku 2

|   |   |   |   |
|---|---|---|---|
|   |   |   | 3 |
| 1 |   | 2 | 4 |
|   |   |   |   |
|   | 2 | 4 | 1 |

Sudoku 3

|   |  |   |   |
|---|--|---|---|
| 4 |  |   | 2 |
| 1 |  | 3 | 4 |
|   |  | 2 |   |
|   |  | 4 |   |



Sudoku 4

|   |   |   |   |
|---|---|---|---|
|   |   |   |   |
| 4 | 2 |   | 3 |
| 2 |   | 3 |   |
|   | 4 | 2 |   |

Sudoku 5

|   |   |   |   |
|---|---|---|---|
| 1 | 4 |   | 3 |
|   | 2 |   |   |
| 2 |   | 3 | 4 |
| 4 |   |   |   |

Sudoku 6

|   |   |   |   |
|---|---|---|---|
|   |   |   |   |
|   | 2 | 3 | 1 |
|   | 1 | 2 |   |
| 2 |   | 1 |   |



## EĞLENCİLİ MATEMATİK - 2

Her katın toplamı apartman numarasını veriyor. Verilmeyen numaraları bulunuz.

|    |   |   |
|----|---|---|
| 12 |   |   |
| 1  | 1 | 5 |
|    | 3 | 3 |
| 1  |   | 2 |

|    |   |   |
|----|---|---|
| 15 |   |   |
| 2  |   | 7 |
| 4  | 5 |   |
| 2  |   | 4 |

|    |   |   |
|----|---|---|
| 15 |   |   |
| 5  | 7 |   |
| 10 |   | 4 |
| 6  | 5 |   |

|    |   |   |
|----|---|---|
| 12 |   |   |
| 6  |   | 5 |
| 3  |   | 1 |
| 8  | 1 | 4 |

Verilen sayıdan başlayarak ok yönünde işlemleri yapın ve verilmeyen sayıları bulun.

|    |    |  |    |  |    |    |
|----|----|--|----|--|----|----|
|    | -6 |  | +1 |  | +9 | 12 |
| -7 |    |  |    |  |    | +5 |
|    |    |  |    |  |    |    |
| +7 |    |  |    |  |    | -9 |
|    | +7 |  | -2 |  | -5 |    |

|    |    |  |    |  |    |    |
|----|----|--|----|--|----|----|
|    | -6 |  | +9 |  | -7 |    |
| +9 |    |  |    |  |    | -5 |
| 5  |    |  |    |  |    |    |
| -3 |    |  |    |  |    | +1 |
|    | +3 |  | +4 |  | -5 |    |

## PROBLEMLER



9) Zümra pazartesi günü 37 sayfa, salı günü ise pazartesi gününden 26 sayfa daha az kitap okumuştur. Zümra iki günde toplam kaç sayfa kitap okumuştur?

Cevap: .....

10) Betül'ün 9 deste balonu vardı. Betül balonlarının 68 tanesini kaybetti. Betül'ün kaç tane balonu kalmıştır?

Cevap: .....

11) Meyra 2 yaşındadır. Betül'ün yaşı, Meyra'nın yaşının 10 katıdır. Buna göre Betül 8 yıl önce kaç yaşındaydı?

Cevap: .....

12)  $3 \times 8$  işleminin sonucunun 50 fazlası kaçtır?

Cevap: .....

13) Deniz 29 yaşındadır. Ömer, Deniz'den 3 yaş küçüktür. Buna göre Ömer 4 yıl sonra kaç yaşında olur?

Cevap: .....

14) Ertuğrul tanesi 5 lira olan silgilerden 3 tane aldıktan sonra elinde 11 lira kalmıştır. Buna göre Ertuğrul'un başlangıçta kaç lirası vardı?

Cevap: .....

15) Eymen 44 liraya oyuncak aldı ve 33 lirası kaldı. Buna göre Eymen'in başlangıçta kaç lirası vardı?

Cevap: .....

16) Meyra 27 yıl sonra 29 yaşında olacaktır. Meyra 18 yıl sonra kaç yaşında olur?

Cevap: .....

## FARKLI OLANI BUL

Aşağıdaki her grupta kelime çiftlerinden anlam ilişkisi bakımından farklı olanı işaretleyin.



|      |        |
|------|--------|
| HOŞ  | GÜZEL  |
| AÇIK | KAPALI |
| İCAT | BULUŞ  |

|       |       |
|-------|-------|
| ÖDÜL  | CEZA  |
| SAVAŞ | HARP  |
| BÜYÜK | KÜÇÜK |

|         |        |
|---------|--------|
| SAĞLIK  | SIHHAT |
| GERÇEK  | SAHTE  |
| YARAMAZ | USLU   |

|           |        |
|-----------|--------|
| MUTLU     | ÜZGÜN  |
| KAYBETMEK | BULMAK |
| OKUL      | MEKTEP |

|         |       |
|---------|-------|
| KORKAK  | CESUR |
| PROBLEM | SORUN |
| YÜKSEK  | ALÇAK |

|       |       |
|-------|-------|
| AĞIR  | HAFIF |
| ÖNDER | LİDER |
| GİRİŞ | ÇIKIŞ |

## DİKKAT GELİŞTİRME SORULARI

12, 8, 1, 7, 11, 10 | 4, 3, 2, 9, 6, 5

1) Aradığımız sayının bulunduğu kutuda 8 sayısı da bulunmaktadır. Bu sayı bulunduğu kutunun son üç sayısından birisidir. Bu sayı aşağıdakilerden hangisi olabilir?

a) 1    b) 11    c) 2    d) 6

6, 5, 8, 12, 7, 10 | 3, 11, 4, 2, 9, 1

3) Aradığımız sayı 12 sayısının bulunduğu kutudadır. Bu sayı bulunduğu kutunun son üç sayısından birisi değildir. Bu sayı aşağıdaki sayılardan hangisi olamaz?

a) 5    b) 7    c) 8    d) 6

5, 10, 12, 9, 4, 3 | 1, 11, 8, 2, 6, 7

2) Aradığımız sayının bulunduğu kutuda 8 sayısı da bulunmaktadır. Bu sayı bulunduğu kutunun son üç sayısından birisi değildir. Bu sayı aşağıdaki sayılardan hangisi olamaz?

a) 8    b) 11    c) 1    d) 4

3, 2, 5, 8, 12, 4 | 10, 11, 7, 6, 9, 1

4) Aradığımız sayının bulunduğu kutuda 3 sayısı yoktur. Bu sayı bulunduğu kutunun son üç sayısından birisidir. Bu sayı aşağıdakilerden hangisi olabilir?

a) 3    b) 8    c) 11    d) 6

Bulduğunuz cevapların toplamı 28 ise başarıdır.

## MANAV ALIŞVERİŞİ - 1



1kg 5 TL



1kg 2 TL



1kg 3 TL



1kg 1 TL

1) 3 kg vişne kaç liradır? .....

2) 6 kg patlıcan kaç liradır? .....

3) 7 kg patates kaç liradır? .....

4) 8 kg patates ve 8 kg vişne toplam kaç liradır? .....

5) Manava 50 lira verdim. 5 kg vişne aldım. Kaç lira para üstü almalıyım? .....

6) 3 kg salatalık, 2 kg vişne ve 7 kg patlıcan toplam kaç liradır? .....

## TOPLA, ÇIKAR, ÇARP

Verilen işlemleri yaparak ok yönünde ilerle ve sonuca ulaş.

$$\begin{array}{r} 30 \\ + 10 \\ \hline \end{array} \quad \begin{array}{r} \dots \\ - 33 \\ \hline \end{array} \quad \begin{array}{r} \dots \\ \times 2 \\ \hline \end{array}$$

$$\begin{array}{r} 34 \\ + 53 \\ \hline \end{array} \quad \begin{array}{r} \dots \\ - 84 \\ \hline \end{array} \quad \begin{array}{r} \dots \\ \times 2 \\ \hline \end{array}$$

$$\begin{array}{r} 46 \\ + 52 \\ \hline \end{array} \quad \begin{array}{r} \dots \\ - 95 \\ \hline \end{array} \quad \begin{array}{r} \dots \\ \times 4 \\ \hline \end{array}$$

$$\begin{array}{r} 18 \\ + 17 \\ \hline \end{array} \quad \begin{array}{r} \dots \\ - 30 \\ \hline \end{array} \quad \begin{array}{r} \dots \\ \times 2 \\ \hline \end{array}$$

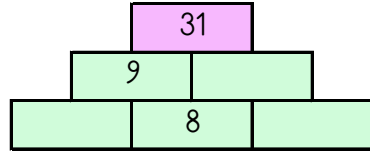
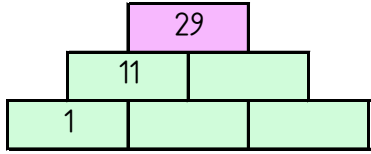
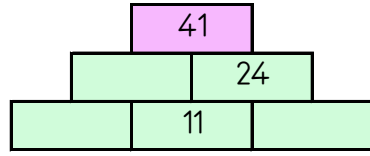
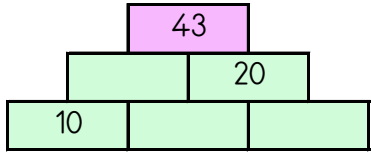
$$\begin{array}{r} 28 \\ + 16 \\ \hline \end{array} \quad \begin{array}{r} \dots \\ - 40 \\ \hline \end{array} \quad \begin{array}{r} \dots \\ \times 4 \\ \hline \end{array}$$

$$\begin{array}{r} 44 \\ + 27 \\ \hline \end{array} \quad \begin{array}{r} \dots \\ - 68 \\ \hline \end{array} \quad \begin{array}{r} \dots \\ \times 8 \\ \hline \end{array}$$

10 6 28 16 12 14 24

## TOPLAMA PİRAMİDİNDE VERİLMİYEN SAYILAR

Toplama piramidi üzerinde bazı sayılar verilmemiştir. Bunları bulabilir misin?



## SAYI YERLEŞTİRME (Seviye1)

Tabloyu, ipuçlarını kullanarak 1,2,3,4,5,6,7,8,9 rakamları ile doldurunuz.

|  |  |   |
|--|--|---|
|  |  | 4 |
|  |  |   |
|  |  |   |

|   |   |   |
|---|---|---|
| 9 |   |   |
| 9 | 5 |   |
|   |   | 6 |
| ✓ |   |   |

|   |   |  |
|---|---|--|
| 7 |   |  |
|   |   |  |
|   |   |  |
|   | ✓ |  |

|   |  |   |
|---|--|---|
| 1 |  |   |
|   |  |   |
|   |  | ✓ |
|   |  |   |

|   |  |  |
|---|--|--|
| 8 |  |  |
| ✓ |  |  |
|   |  |  |
|   |  |  |

|   |   |  |
|---|---|--|
| 3 |   |  |
|   | ✓ |  |
|   |   |  |
|   |   |  |

## ZİHİNDEN VERİLMİYEN SAYILAR

Aşağıdaki işlemlerde verilmeyenleri bularak ilerleyin ve noktalı yerlere cevapları yazın.

$$6 + \blacksquare = 18$$

$$\blacksquare + \heartsuit = 21$$

$$\heartsuit - \blacktriangle = 2$$

$$\blacktriangle - \text{☂} = 3$$

$$\text{☂} = \dots\dots$$

$$13 + \blacktriangle = 22$$

$$\blacktriangle - \text{📎} = 4$$

$$\text{📎} + \heartsuit = 12$$

$$\star - \heartsuit = 2$$

$$\star = \dots\dots$$

$$\text{📎} - 2 = 12$$

$$\text{📎} - \blacksquare = 9$$

$$\blacksquare - \text{☂} = 4$$

$$\diamond - \text{☂} = 1$$

$$\diamond = \dots\dots$$

$$10 - \blacksquare = 9$$

$$\text{☂} - \blacksquare = 8$$

$$\text{☂} - \text{📎} = 1$$

$$\diamond + \text{📎} = 11$$

$$\diamond - 1 = \dots\dots$$

$$\blacksquare + 15 = 24$$

$$\blacksquare - \heartsuit = 4$$

$$\heartsuit - \diamond = 2$$

$$\text{☂} + \diamond = 9$$

$$\text{☂} + 7 = \dots\dots$$

$$\text{☂} + 7 = 8$$

$$\text{📎} - \text{☂} = 6$$

$$\text{📎} + \diamond = 17$$

$$\diamond + \blacktriangle = 14$$

$$\blacktriangle + 10 = \dots\dots$$

## TOPLAMA TABLOSU VERİLMİYENLERİ BULMA

Toplama tablosunda verilmeyen sayıları bulunuz.

|    |    |    |
|----|----|----|
| +  | 5  |    |
|    | 15 |    |
| 12 |    | 14 |
|    | 18 |    |

|    |    |    |
|----|----|----|
| +  |    | 10 |
|    |    | 18 |
| 13 | 24 |    |
|    | 23 |    |

**Bilgi:** Toplama tablosunda "+" işaretinin sağında ve altında bulunan sayılar toplanan sayılardır. Bu sayıların tabloda kesiştikleri yerlere ise toplamlar yazılır.

## ÇARPIM TABLOSU EŞLEŞTİRME

Aşağıdaki tablodan işlemleri cevaplarıyla eşleştirdiğinizde hangi sayı boşta kalır?

|              |              |              |              |              |
|--------------|--------------|--------------|--------------|--------------|
| $3 \times 2$ | 15           | 18           | 45           | $2 \times 2$ |
| 10           | 20           | 12           | $2 \times 7$ | 25           |
| 4            | $5 \times 4$ | $4 \times 6$ | $3 \times 5$ | $5 \times 2$ |
| $2 \times 9$ | 27           | 21           | 14           | $5 \times 5$ |
| $3 \times 4$ | $3 \times 7$ | 24           | 6            | $3 \times 9$ |

## ÇARPMA SORULARI

Soruların cevaplarını bulun ve işaretleyin.

9'un 2 katının 17 eksiği kaçtır?

10 kere 2 kaçtır?

10 x 1 işleminin sonucu kaçtır?

3'ün 4 katı kaçtır?

5'in 4 katının 3 eksiği kaçtır?

1 ile 2'nin çarpımı kaçtır?

5 ile 7'nin çarpımı kaçtır?

5 x 8 işleminin sonucu kaçtır?

9 ile 3'ün çarpımı kaçtır?

9 kere 4 kaçtır?

8 x 2 işleminin sonucu kaçtır?

7'nin 2 katı kaçtır?

36 - 1 - 16 - 40 - 20 - 10 - 17 - 2 - 35 - 8 - 12 - 27 - 14

## HANGİSİ DOĞRU

Doğru yazılan kelimenin şifre harfini boş kutulara yazarak şifreyi oluşturun.

|     |          |          |
|-----|----------|----------|
| 1)  | <b>T</b> | YAĞMUR   |
| 2)  | <b>A</b> | ÖĞRETMEN |
| 3)  | <b>B</b> | SARIMSAK |
| 4)  | <b>N</b> | EYLENMEK |
| 5)  | <b>K</b> | BİRKAÇ   |
| 6)  | <b>E</b> | DAİRE    |
| 7)  | <b>E</b> | GAZTE    |
| 8)  | <b>R</b> | ŞÖFÖR    |
| 9)  | <b>E</b> | JİLET    |
| 10) | <b>T</b> | CANDARMA |

|          |          |
|----------|----------|
| <b>K</b> | YAMUR    |
| <b>N</b> | ÖRETMEN  |
| <b>D</b> | SARMISAK |
| <b>A</b> | EĞLENMEK |
| <b>Ü</b> | BİR KAÇ  |
| <b>A</b> | DAYRE    |
| <b>K</b> | GAZETE   |
| <b>M</b> | ŞOFÖR    |
| <b>K</b> | CİLET    |
| <b>K</b> | JANDARMA |



|   |   |   |   |   |   |   |   |   |    |
|---|---|---|---|---|---|---|---|---|----|
|   |   |   |   |   |   |   |   |   |    |
| 1 | 2 | 3 | 4 | 5 | 6 | 7 | 8 | 9 | 10 |

## SAYILARI YERLEŞTİR (TOPLAMA PİRAMİDİ)

Toplama piramidi üzerindeki sayılar yerlerinden çıkmış. Sayıları yerlerine yazabilir misiniz?

