

RESİM KÖŞESİ

Kitapçık Hakkında

Bu kitapçıkta konu tekrarı amaçlı etkinlikler ve dikkat geliştirici eğlenceli çalışmalar bulunmaktadır. Yönergeler veliler ve öğretmenler için hazırlandığından küçük puntolarla yazılmıştır. Faydalı olması dileğiyle.

Kontrol Edenin Adı İmzası

1. SINIF EĞLENCELİ ÇALIŞMALAR 10

27 Eğlenceli Çalışma



ilkokul1.com

Adı Soyadı:


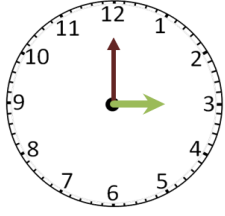


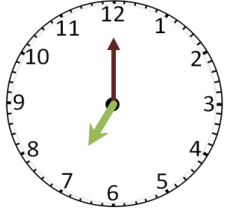

Sınıfı :

Okulu :

Yunus KÜLCÜ

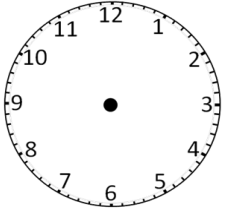
SAATLER

Noktalı alanlara saatlerin kaç gösterdiğini yazınız.

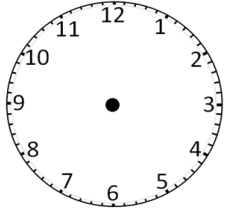


AKREP VE YELKOVANI ÇİZELİM

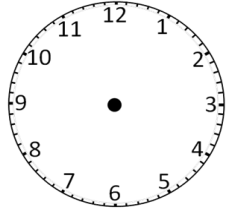
Akrep ve yelkovani belirtilen saatlere uygun şekilde çiziniz.



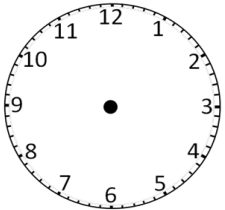
3.30



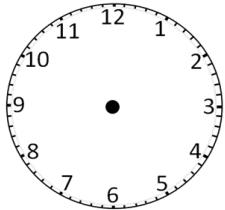
8.30



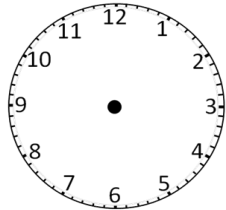
6.30



4.00



10.00



7.30

1. SINIF GENEL TEKRAR ÇALIŞMALARI

İşlemleri zihinden yapın ve şifreyi oluşturun.

C	$8 + 6$
I	$4 + 16$
A	$14 - 7$

N	$20 - 7$
N	$3 + 2$
F	$1 + 9$

10	20	13	14	7	5

Aşağıdaki boşlukları doldurun.

10	9	8			
20	18	16			
3	4	5			

Aşağıdaki noktalı alanları doldurun.

..... + 3 = 19	5 + = 11
12 + = 17 + 3 = 14

Aşağıdaki tabloda bulunan boşlukları doldurun

<i>DÜN</i>	<i>BUGÜN</i>	<i>YARIN</i>
SALI		
		ÇARŞAMBA

Sözlük sırasına göre numaralandırın.

TAZE		NEFRET	
DOLU		SAKAL	
KOLAY		MATARA	

Kelimelerin karşısına zıt anlamlılarını yazın.

YOK	V.....
ÜZGÜN	M.....
YUMUŞAK	S.....

TANIDIK	Y.....
YENİ	E.....
ALÇAK	Y.....

Aşağıdaki noktalı alanları doldurun.

Haftanın 3. günü	Haftanın 2. günü	Yılın 9. ayı	Yılın 3. ayı
.....

Aşağıdaki noktalı alanları doldurun.

6 yarım bütün eder.
 4 yarım bütün eder.
 3 bütün yarım eder.
 1 onluk ile 5 birlik eder?
 1 onluk ile 1 birlik eder?
 0 birlik ile 9 onluk eder?

Kelimelerin doğrularını karşısına yazın.


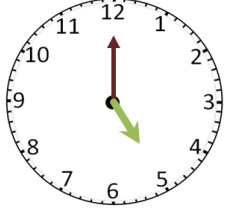
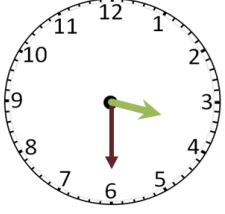
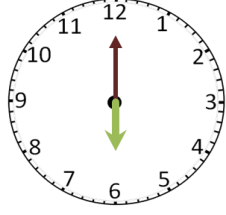

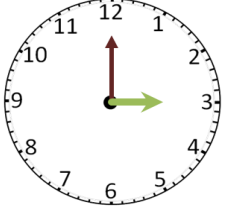
HEYCAN
EŞORTMAN

Aşağıda kaç lira olduğunu bulun.



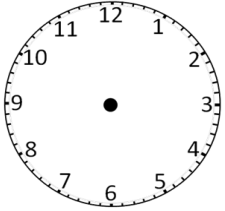
SAATLER

Noktalı alanlara saatlerin kaç gösterdiğini yazınız.

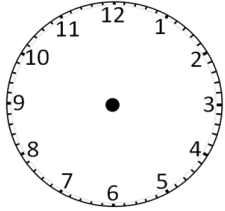


AKREP VE YELKOVANI ÇİZELİM

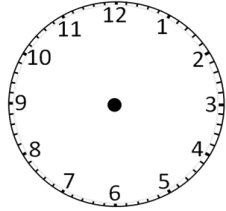
Akrep ve yelkovani belirtilen saatlere uygun şekilde çizin.



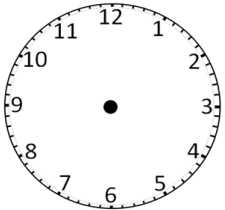
6.00



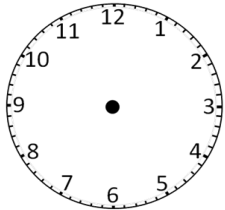
7.00



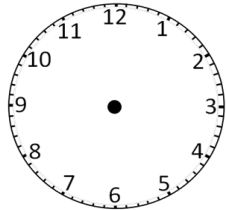
10.00



9.00



5.00



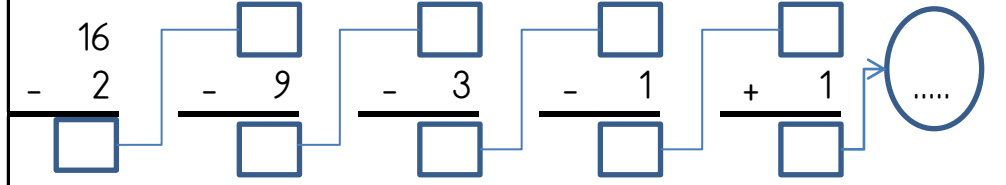
8.00

MINİ TEKRAR ÇALIŞMASI 1

$20 - 5 = \dots\dots$

$\dots\dots + 13 = 17$

$17 + 1 = \dots\dots$



Kelimelerin zıt anlamlarını karşlarına yazın.

KISA	U.....
İNMEK	Ç.....

ZOR	K.....
ÇIKIŞ	G.....

Aşağıdaki kelimeleri sözlük sırasına göre numaralandırın.

ŞAHİT		EĞİTİM		MARKET	
KÖPEK		CEVAP		ŞİŞMAN	
RAMAZAN		TATLI		NİNE	

MINİ TEKRAR ÇALIŞMASI 2

Aşağıdaki işlemleri yapın ve şifreyi bulun.

M	$12 - 7 = \dots\dots$
A	$9 + 11 = \dots\dots$
I	$8 + 10 = \dots\dots$
U	$1 + 3 = \dots\dots$

P	$1 + 18 = \dots\dots$
U	$11 - 5 = \dots\dots$
K	$8 - 5 = \dots\dots$
K	$13 + 4 = \dots\dots$

İ	$17 - 4 = \dots\dots$
L	$10 - 9 = \dots\dots$
Y	$8 - 1 = \dots\dots$
T	$14 - 6 = \dots\dots$

17	13	8	20	19	1	18	3	4	7	6	5

Aşağıdaki tabloda bulunan boşlukları doldurun

<u>DÜN</u>	<u>BUGÜN</u>	<u>YARIN</u>
	CUMA	
		PAZAR
		PAZARTESİ

Aşağıdaki boşlukları doldurun.

14	13	12			
4	5	6			
6	8	10			
5	10	15			

ALFABEMİZ (ÖNCEKİ SONRAKİ HARF)

"←" işareti verilen harften önceki harfi, "→" işareti ise verilen harften sonraki harfi göstermektedir. Çalışmayı doğru şekilde tamamlayabilmen için harflerin sıralanışını iyi bilmen gerekir. Aşağıya alfabeği yazman işini oldukça kolaylaştıracaktır.

Verilen Yönerge	E→; J←; M←; J←; Y→
Oluşan Gizli Kelime	
Verilen Yönerge	Ş←; U→; S←; B←; Ş→; K→; I→
Oluşan Gizli Kelime	
Verilen Yönerge	P→; Ö←; L←; F←; Ş→
Oluşan Gizli Kelime	

GİZLİ KUTULAR (SONUCU 10)

4 + 2	8 - 2	3 + 8	7 + 4	14 - 4	5 + 4	16 - 6
3 + 6	9 + 1	18 - 5	19 - 8	9 - 1	7 + 2	16 - 8
6 + 7	9 - 2	4 + 8	4 + 7	15 - 4	19 - 6	2 + 8
6 + 4	11 - 1	13 - 1	3 + 4	12 - 2	12 - 6	7 + 7
15 - 2	15 - 9	17 - 5	13 - 7	6 + 4	4 + 3	13 - 3
7 + 2	20 - 7	8 + 2	12 - 5	2 + 6	2 + 6	7 + 5

Bu işlem kutularının arasında sonucu 10 olan 10 kutu gizlenmiştir. Bu kutuları bulabilir misin?

ŞİFRELİ TOPLAMA İŞLEMLERİ

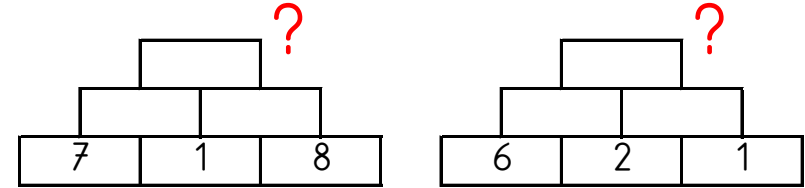
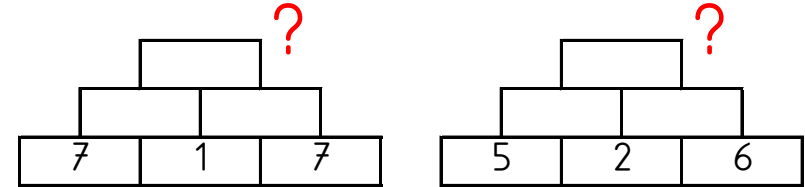
Aşağıdaki işlemleri yapın ve şifreyi bulun.



O	*	K	Ğ	*	Ö
5	1	6	6	18	7
+ 10	+ 10	+ 10	+ 4	+ 1	+ 2
E	E	R	N	V	U
9	5	13	3	4	1
+ 3	+ 12	+ 1	+ 3	+ 14	+ 6
15	16	7	19	18	12
11	9	10	14	17	6



Altındaki iki kutunun toplamını bir üst kutuya yazarak en üstteki sayıyı bul ve işaretle.



17


16

15


13

11


Kutulardaki hayvanların on tanesini yuvarlak içine alın. Kutulardaki hayvan sayılarının onluk, birliklerini ve sayılarını altlarındaki tablolarda gösterin.



Onluk	Birlik
.....
.....	




Onluk	Birlik
.....
.....	



Onluk	Birlik
.....
.....	

Yönergeyi takip ederek 25 adımlık yolu oluştur, 'gerçek' hazineyi bul ve işaretle.



			I					H
			A					
			C					
			I		D			
		B						

YÖNERGE

3 adım sağa
1 adım aşağıya
1 adım sağa
5 adım aşağıya
3 adım sola
3 adım aşağıya
4 adım sağa
2 adım yukarıya
2 adım sağa

4x4 SUDOKU (KOLAY SEVİYE)

Her satır ve sütunda 1,2,3,4 rakamlarını kullanarak boş kutuları doldurun.

Sudoku 1



	1	3	4
	4	2	1
		4	2
4			3

Sudoku 2

4		2	1
	2	3	4
2	1	4	3

Sudoku 3

2			
	1	4	
4	2	1	
1	3	2	4

Sudoku 4

1		4	
	4	1	
4	2		1
3	1	2	

Sudoku 5

3	4		1
2		3	
	3	1	
1	2		3

Sudoku 6

	3	4	
2	4	3	1
3	1		
4		1	

DİKKAT ETKİNLİKLERİ 1. SET

Şekillerin yandaki gibi sıralandığı 2 grubu işaretleyiniz. ⇐↑⇒↓

⇐↑⇒↓

↓↑⇐⇒

↓⇒↑⇐

↓⇒⇐↑

⇒↑↓⇐

↑⇒⇐↓

⇐⇒↑↓

⇐↓↑⇒

⇐↓↑⇒

⇒↑⇐↓

↑↓⇒⇐

⇐↑↓⇒

↓⇒↑⇐

↓⇐↑⇒

⇒↑⇐↓

↑⇒↓⇐

⇐↓⇒↑

↑↓⇒⇐

⇐↑↓⇒

↑↓⇒⇐

⇒↑⇐↓

↓⇐⇒↑

⇐⇒↓↑

↑⇒⇐↓

↓↑⇒⇐

↓⇐⇒↑

↓⇐⇒↑

↓⇐⇒↑

⇒↓↑⇐

⇒⇐↓↑

⇒⇐↑↓

⇐↑⇒↓

↑⇐↓⇒

⇐↓↑⇒

⇒↑⇐↓

↓↑⇐⇒

↓⇒⇐↑

⇒↑⇐↓


↑⇒⇐↓



ŞEKİLLERİ SAYALIM

Aşağıdaki şekillerin kaçar tane olduğunu noktalı yere yazın.

↻ = → =



ZİHİNDEN SAYI SORULARI

Aşağıdaki soruları zihinden çözün ve cevaplarını yazıp işaretleyin.

- 1) 1 sayısının 6 fazlası kaç eder? 6
- 2) 10 sayısı ile 2 sayısını toplarsak sonuç kaç olur? 7
- 3) 7, 9 daha kaç eder? 16
- 4) 6 sayısının 3 fazlası kaç eder? 5
- 5) 9 sayısını 1 azaltırsak sonuç kaç olur? 9
- 6) 6, 5 daha kaç eder? 12
- 7) 10 sayısını 5 eksiltirsek sonuç kaç olur? 11
- 8) 7 sayısını 6 azaltırsak sonuç kaç olur? 1
- 9) 10 sayısının 7 eksiği kaç eder? 4
- 10) 2 sayısına 8 eklersek sonuç kaç olur? 10
- 11) 9 sayısını 3 eksiltirsek sonuç kaç olur? 8
- 12) 10 sayısını 6 eksiltirsek sonuç kaç olur? 3

ZİT ANLAMLI KELİME BULMACASI

Aşağıdaki zıt anlamlı kelime çiftlerini boyayın. Hangi kelimenin boşta kalacağını bulun.

DOĞRU	YER	PAHALI	İNMEK	İLK
ZOR	ÇIKMAK	FAKİR	DÜŞMAN	ZENGİN
SON	YANLIŞ	UCUZ	GÖK	DOST

ZİHİNDEN ZİNCİRLEME SAYI PROBLEMLERİ

Aşağıdaki soruları zihinden çözün ve cevaplarını yazıp işaretleyin.

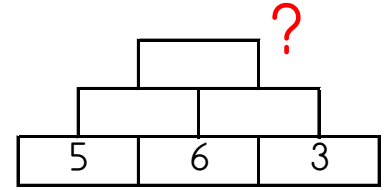
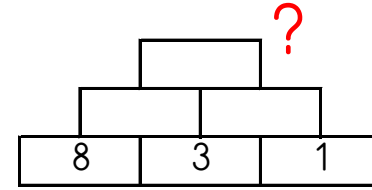
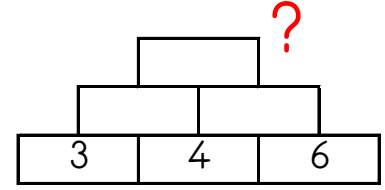
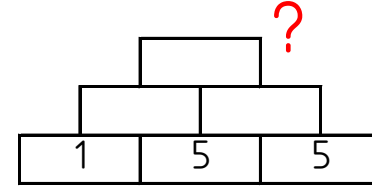
- 1) 8 sayısının 7 eksiğinin 8 fazlası kaç eder? 15
- 2) 8 sayısının 6 eksiğinin 10 fazlası kaç eder? 12
- 3) 10 sayısının 3 fazlasının 2 eksiği kaç eder? 7
- 4) 5 sayısının 1 fazlasının 1 eksiği kaç eder? 16
- 5) 9 sayısının 1 eksiğinin 8 fazlası kaç eder? 4
- 6) 8 sayısının 4 eksiğinin 9 fazlası kaç eder? 11
- 7) 1 sayısının 8 fazlasının 2 eksiği kaç eder? 10
- 8) 8 sayısının 7 eksiğinin 9 fazlası kaç eder? 3
- 9) 8 sayısının 3 eksiğinin 10 fazlası kaç eder? 13
- 10) 9 sayısının 6 eksiğinin 5 fazlası kaç eder? 8
- 11) 4 sayısının 8 fazlasının 8 eksiği kaç eder? 5
- 12) 2 sayısının 4 fazlasının 3 eksiği kaç eder? 9

GİZLİ KUTULAR (SONUCU 9)

$17 - 7$	$11 - 6$	$7 + 6$	$15 - 8$	$15 - 7$	$6 + 4$	$1 + 5$
$1 + 6$	$5 + 2$	$12 - 3$	$1 + 7$	$16 - 6$	$18 - 8$	$7 + 3$
$11 - 2$	$3 + 6$	$8 + 3$	$16 - 3$	$18 - 5$	$3 + 2$	$16 - 7$
$7 - 2$	$8 + 1$	$13 - 4$	$5 + 3$	$13 - 1$	$6 + 7$	$3 + 6$
$6 + 4$	$14 - 7$	$16 - 7$	$14 - 5$	$6 - 1$	$11 - 2$	$2 + 8$
$15 - 5$	$12 - 2$	$15 - 5$	$5 + 7$	$6 + 5$	$2 + 8$	$14 - 4$

Bu işlem kutularının arasında sonucu 9 olan 10 kutu gizlenmiştir. Bu kutuları bulabilir misin?

Altındaki iki kutunun toplamını bir üst kutuya yazarak en üstteki sayıyı bul ve işaretle.



20

15

16

14

17

TOPLA, ÇIKAR VE İLERLE

Sırasıyla işlemlerin sonucunu bul ve Pepee'yi ok yönünde bulduğun sonuç kadar ilerlet.

➤	▼	➤	▼	◀	▲
1	1	9	8	17	4
<u>+ 7</u>	<u>+ 3</u>	<u>- 6</u>	<u>- 6</u>	<u>- 6</u>	<u>+ 2</u>




										I
B										
				K						
							G			
			L	H						

Uygun kutuları boyayarak yolu tamamlayın. (birer geri ritmik sayarak)



20	19	4	13	6	17	14	7	14	11
8	18	16	14	14	9	7	6	5	4
17	17	16	8	4	9	8	12	6	3
17	5	15	14	5	10	8	6	14	2
9	3	13	13	12	11	15	2	12	1



Uygun kutuları boyayarak yolu tamamlayın. (birer ileri ritmik sayarak)



1	8	5	6	7	8	9	10	11	12
2	3	4	5	10	5	11	8	9	13
10	16	12	6	14	14	2	16	15	14
15	8	8	18	12	2	20	17	16	19
6	15	2	20	5	10	7	18	19	20



Kutuları boyayarak yolu tamamla. (onar ileri ritmik sayarak.)



10	40	80	100	30	100
20	30	60	70	40	90
30	40	50	60	80	80
50	90	80	70	80	100
30	60	20	30	90	100



Modellere uygun çıkarma işlemlerini yan taraftaki boşluklara örnekteki gibi yazın.

□ □ ✗ ✗ ✗ ✗

$$6 - 4 = 2$$

□ □ □ □ □ □ □ □ ✗ ✗

□ □ □ ✗ ✗ ✗ ✗ ✗ ✗ ✗ ✗

□ □ □ □ □ ✗

□ ✗ ✗ ✗ ✗

□ ✗ ✗

□ □ □ ✗ ✗ ✗ ✗ ✗ ✗ ✗ ✗

Kutuları boyayarak yolu tamamla. (ikişer ileri ritmik sayarak.)



2	16	16	12	16	4
4	6	2	2	18	18
20	8	10	12	14	16
18	6	10	12	10	18
16	14	10	4	20	20

