

RESİM KÖŞESİ

Kitapçık Hakkında

Bu kitapçıkta konu tekrarı amaçlı etkinlikler ve dikkat geliştirici eğlenceli çalışmalar bulunmaktadır. Yönergeler veliler ve öğretmenler için hazırlandığından küçük puntolarla yazılmıştır. Faydalı olması dileğiyle.

Kontrol Edenin Adı İmzası

1. SINIF EĞLENCELİ ÇALIŞMALAR 12

27 Etkinlik



ilkokul1.com

Adı Soyadı:

Sınıfı :

Okulu :

Yunus KÜLCÜ



DİKKAT ETKİNLİKLERİ 1. SET

Şekillerin yandaki gibi sıralandığı 2 grubu işaretleyiniz. ✨ ✨ ✨ ✨

✨ ✨ ✨ ✨ ✨	✨ ✨ ✨ ✨ ✨	✨ ✨ ✨ ✨ ✨	✨ ✨ ✨ ✨ ✨
✨ ✨ ✨ ✨ ✨	✨ ✨ ✨ ✨ ✨	✨ ✨ ✨ ✨ ✨	✨ ✨ ✨ ✨ ✨
✨ ✨ ✨ ✨ ✨	✨ ✨ ✨ ✨ ✨	✨ ✨ ✨ ✨ ✨	✨ ✨ ✨ ✨ ✨
✨ ✨ ✨ ✨ ✨	✨ ✨ ✨ ✨ ✨	✨ ✨ ✨ ✨ ✨	✨ ✨ ✨ ✨ ✨
✨ ✨ ✨ ✨ ✨	✨ ✨ ✨ ✨ ✨	✨ ✨ ✨ ✨ ✨	✨ ✨ ✨ ✨ ✨
✨ ✨ ✨ ✨ ✨	✨ ✨ ✨ ✨ ✨	✨ ✨ ✨ ✨ ✨	✨ ✨ ✨ ✨ ✨
✨ ✨ ✨ ✨ ✨	✨ ✨ ✨ ✨ ✨	✨ ✨ ✨ ✨ ✨	✨ ✨ ✨ ✨ ✨
✨ ✨ ✨ ✨ ✨	✨ ✨ ✨ ✨ ✨	✨ ✨ ✨ ✨ ✨	✨ ✨ ✨ ✨ ✨
✨ ✨ ✨ ✨ ✨	✨ ✨ ✨ ✨ ✨	✨ ✨ ✨ ✨ ✨	✨ ✨ ✨ ✨ ✨
✨ ✨ ✨ ✨ ✨	✨ ✨ ✨ ✨ ✨	✨ ✨ ✨ ✨ ✨	✨ ✨ ✨ ✨ ✨

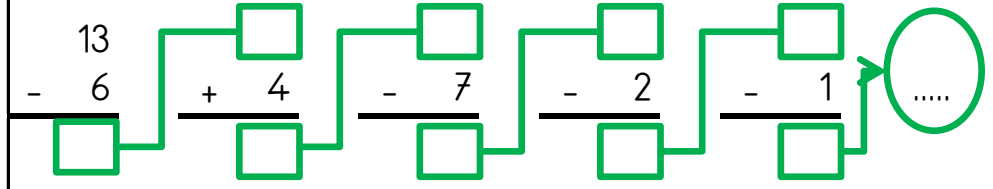


MINİ TEKRAR ÇALIŞMASI 1

$9 + \dots = 11$

$14 + 2 = \dots$

$7 - 2 = \dots$



Kelimelerin zıt anlamlarını karşlarına yazın.

KAPALI	A.....
KIŞ	Y.....

İNMEK	Ç.....
TANIDIK	Y.....

Aşağıdaki kelimeleri sözlük sırasına göre numaralandırın.

ZELZELE		UĞURLU		TAHTA	
SÜRATLİ		BAYAN		KUZU	
FINDIK		SOPA		UYSAL	

KAÇ TANE VAR?

😊
😊 😊 😊 😊 😊 😊 😊	
😊 😊 😊 😊 😊 😊 😊	
😊 😊 😊 😊 😊 😊 😊	
😊 😊 😊 😊 😊 😊 😊	

□
□ □ ◆ □ □ □ □	
□ □ □ □ □ ⊗ □	
⊗ ■ □ ⊗ □ □ ⊗	
□ □ □ □ ⊗ □ □	

💧
☀️ 💧 ☀️ 💧 💧 ☀️	
☀️ 💧 ☀️ 💧 ☀️ 💧 ☀️	
☀️ ☀️ ☀️ ☀️ ☀️ ☀️ ☀️	
☀️ ☀️ ☀️ ☀️ ☀️ ☀️ ☀️	

🕒
🕒 🕒 🕒 🕒 🕒 🕒 🕒	
🕒 🕒 🕒 🕒 🕒 🕒 🕒	
🕒 🕒 🕒 🕒 🕒 🕒 🕒	
🕒 🕒 🕒 🕒 🕒 🕒 🕒	

MINİ TEKRAR ÇALIŞMASI 2

Aşağıdaki işlemleri yapın ve şifreyi bulun.

C	18 - 8 =
A	14 + 4 =
S	5 + 10 =
Ğ	16 - 9 =

İ	2 + 6 =
A	1 + 18 =
K	4 + 8 =
R	16 - 5 =

N	8 + 6 =
Ö	11 - 9 =
E	12 + 1 =
M	10 - 5 =

5	19	12	18	15	2	7	11	13	14	10	8

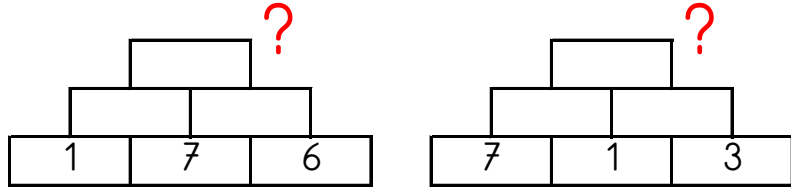
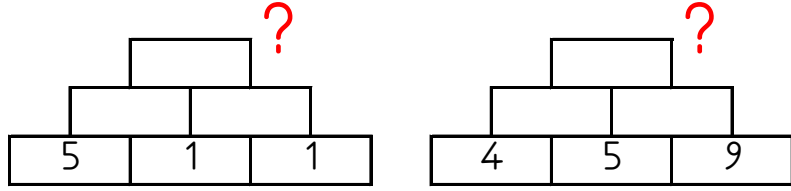
Aşağıdaki tabloda bulunan boşlukları doldurun

<u>DÜN</u>	<u>BUGÜN</u>	<u>YARIN</u>
	CUMARTESİ	
CUMA		
		PAZARTESİ

Aşağıdaki boşlukları doldurun.

12	13	14			
4	6	8			
10	9	8			
14	12	10			

Altındaki iki kutunun toplamını bir üst kutuya yazarak en üstteki sayıyı bul ve işaretle.



21 23 12 19 8

4x4 SUDOKU (KOLAY SEVİYE)

Her satır ve sütunda 1,2,3,4 rakamlarını kullanarak boş kutuları doldurun.

Sudoku 1

	2	4	1
1		2	3
4	1		2

Sudoku 2

		3	4
3	4	2	
2			3
4	3		

Sudoku 3

1	2	3	4
	3	2	
2			3
3	4		



Sudoku 4

2	3		
	4	3	
4	2	1	
3	1	2	

Sudoku 5

3		4	2
2		1	3
			1
1	3		4


Sudoku 6

3		4	1
1		3	2
		2	
2	3		




TAM VE YARIM SAATLER

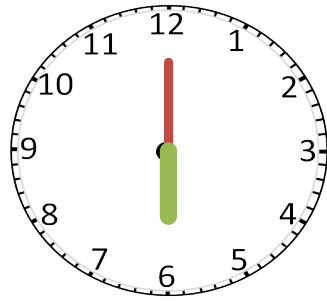
Saatlerin kaçı gösterdiklerini altlarına yazın.



.....



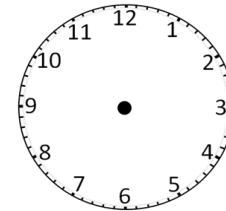
.....



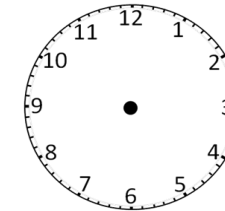
.....

AKREP VE YELKOVANI ÇİZELİM

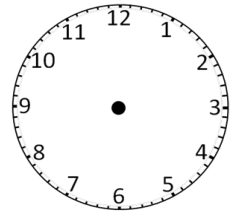
Akrep ve yelkovanı belirtilen saatlere uygun şekilde çiziniz.



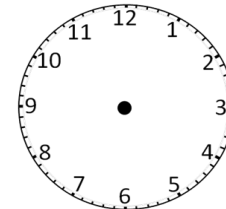
10.30



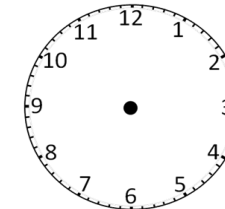
08.30



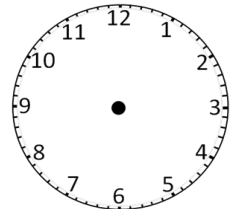
9.00



11.30



06.30



7.00

ZİHİNDEN ZİNCİRLEME SAYI PROBLEMLERİ

Aşağıdaki soruları zihinden çözün ve cevaplarını yazıp işaretleyin.

- 1) 2 sayısının 4 fazlasının 3 eksiği kaç eder? 12
- 2) 9 sayısının 10 fazlasının 5 eksiği kaç eder? 8
- 3) 8 sayısının 4 fazlasının 2 eksiği kaç eder? 16
- 4) 1 sayısının 10 fazlasının 2 eksiği kaç eder? 3
- 5) 9 sayısının 4 fazlasının 8 eksiği kaç eder? 13
- 6) 10 sayısının 4 fazlasının 6 eksiği kaç eder? 7
- 7) 10 sayısının 7 eksiğinin 10 fazlası kaç eder? 6
- 8) 10 sayısının 1 eksiğinin 7 fazlası kaç eder? 10
- 9) 7 sayısının 7 fazlasının 8 eksiği kaç eder? 14
- 10) 8 sayısının 5 fazlasının 1 eksiği kaç eder? 2
- 11) 3 sayısının 7 fazlasının 3 eksiği kaç eder? 5
- 12) 2 sayısının 8 fazlasının 8 eksiği kaç eder? 9

ONLUK BİRLİK SORULARI

- 2 onluk ile 1 birlik kaç eder?
- 3 birlik ile 1 onluk kaç eder?
- 6 birlik ile 1 onluk kaç eder?
- 2 onluk ile 3 birlik kaç eder?
- 6 birlik ile 2 onluk kaç eder?
- 2 onluk ile 2 birlik kaç eder?

ALFABEMİZ (ÖNCEKİ SONRAKİ HARF)

"←" işareti verilen harften önceki harfi, "⇒" işareti ise verilen harften sonraki harfi göstermektedir. Çalışmayı doğru şekilde tamamlayabilmen için harflerin sıralanışını iyi bilmen gerekir. Aşağıya alfabeji yazman işini oldukça kolaylaştıracaktır.

Verilen Yönerge	B⇒; F←; Ü⇒; I⇒; Y⇒
Oluşan Gizli Kelime	
Verilen Yönerge	N←; B←; P⇒; Ü←; M←
Oluşan Gizli Kelime	
Verilen Yönerge	L←; N⇒; B⇒; B←; N←; B←; O←
Oluşan Gizli Kelime	

EŞİ OLMAYANI BUL (ŞİFRELİ)

Her bir kutuda eşî olan harfleri boya ve tek kalan harfleri şifre bölümüne yazarak şifreyi oluştur.

1	2	3	4
U Ö Ö E T E U T G	A Y M O O M Y K K	E O K Y E M M O K	L K K R Ü I L I Ü
5	6	7	8
Y Y Ö E İ R R Ö İ	U T K Ü Ü K U İ İ	A İ İ U L U M A M	I İ Ö I M M O Ö O

1	2	3	4	5	6	7	8
G							

ARADAKİ SAYI

Aşağıda verilen sayı çiftlerinin aralarındaki sayıları yazın.

14		16
----	--	----

2		4
---	--	---

7		9
---	--	---

9		11
---	--	----

10		12
----	--	----

13		15
----	--	----

3		5
---	--	---

12		14
----	--	----

RİTMİK SAYMALAR

Ritmik saymalardaki boşlukları tamamlayın.

9	10	11
---	----	----	-------	-------	-------	-------	-------

19	18	17
----	----	----	-------	-------	-------	-------	-------

12	11	10
----	----	----	-------	-------	-------	-------	-------

5	6	7
---	---	---	-------	-------	-------	-------	-------

11	12	13
----	----	----	-------	-------	-------	-------	-------

13	12	11
----	----	----	-------	-------	-------	-------	-------

GİZLİ KUTULAR (SONUCU 9)

14 - 2	2 + 5	18 - 5	17 - 4	4 + 8	7 + 4	8 + 3
15 - 7	12 - 5	15 - 5	7 - 2	6 + 1	10 - 1	13 - 4
6 + 7	3 + 6	14 - 2	13 - 4	5 + 5	12 - 2	7 + 6
6 + 4	8 + 4	6 + 6	4 + 5	2 + 5	4 + 6	7 + 2
13 - 7	8 + 4	13 - 6	6 + 3	1 + 4	7 + 4	13 - 1
8 + 1	10 - 4	8 + 1	2 + 7	18 - 6	13 - 3	17 - 5

Bu işlem kutularının arasında sonucu 9 olan 10 kutu gizlenmiştir. Bu kutuları bulun ve boyayın.

Verilen harflerle yeni kelimeler oluşturun. Her oluşturduğunuz kelimenin sağına o kelimenin harf sayısı kadar puan yazın.

m, e, ü, a, k, y	
↓	Puan
<input type="text"/>	
<input type="text"/>	
<input type="text"/>	
<input type="text"/>	
<input type="text"/>	
<input type="text"/>	
<input type="text"/>	
Kazandığın Toplam Puan	

a, n, n, t, o, k	
↓	Puan
<input type="text"/>	
<input type="text"/>	
<input type="text"/>	
<input type="text"/>	
<input type="text"/>	
<input type="text"/>	
<input type="text"/>	
Kazandığın Toplam Puan	

1. SINIF GENEL TEKRAR ÇALIŞMALARI

İşlemleri zihinden yapın ve şifreyi oluşturun.

N	17 - 4	Ş	12 - 9
A	14 + 4	V	7 + 12
A	10 - 2	T	20 - 3

Aşağıdaki boşlukları doldurun.

7	8	9			
10	12	14			
70	75	80			

Aşağıdaki noktalı alanları doldurun.

3 + = 10 + 13 = 14
1 + = 5	7 + = 18

17	8	19	3	18	13

Aşağıdaki tabloda bulunan boşlukları doldurun

DÜN	BUGÜN	YARIN
		ÇARŞAMBA
		PERŞEMBE

Sözlük sırasına göre numaralandırın.

UCUZ		ÇAYIR	
GEYİK		ALACAK	
ŞEFFAF		ÖNEM	

Kelimelerin karşısına zıt anlamlılarını yazın.

CESUR	K.....	SAHTE	G.....
ISLAK	K.....	DÜŞMAN	D.....
PAHALI	U.....	FARKLI	A.....

Aşağıdaki noktalı alanları doldurun.

Haftanın 7. günü	Yılın 5. ayı	Yılın 6. ayı	Haftanın 2. günü
.....

Aşağıdaki noktalı alanları doldurun.

- 6 yarım bütün eder.
- 10 yarım bütün eder.
- 1 bütün yarım eder.
- 8 onluk ile 2 birlik eder?
- 7 onluk ile 5 birlik eder?
- 9 onluk ile 5 birlik eder?

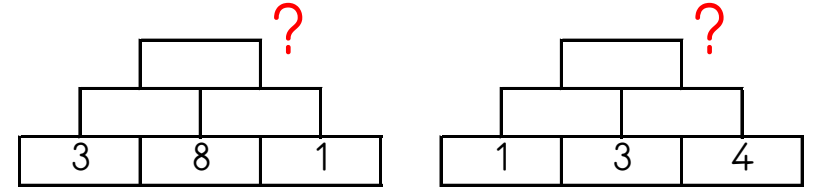
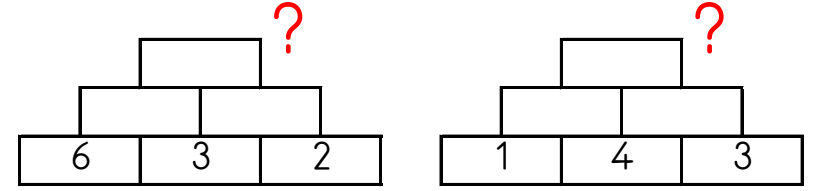
Kelimelerin doğrularını karşısına yazın.

BÜSKÜVÜ
ÖRETMEN

Aşağıda kaç lira olduğunu bulun.



Altındaki iki kutunun toplamını bir üst kutuya yazarak en üstteki sayıyı bul ve işaretle.



14 11 13 20 12

Uygun kutuları boyayarak yolu tamamlayın. (biri geri ritmik sayarak)



20	19	13	11	10	9	8	7	6	13
3	18	17	12	6	20	8	6	5	8
7	17	3	13	12	12	16	14	4	4
4	16	15	14	10	6	3	1	3	2
3	17	20	6	13	3	3	14	10	1



VERİLMİYENERİ BULALIM

Altındaki iki sayının toplamı üstteki sayıya eşit olacak şekilde boş kutulara uygun sayılar yazın.

14		6
15	3	
13	9	
12		7
8		2
9	3	
11	8	
20	14	
16		7

VERİLMİYENERİ BULALIM

Altındaki iki sayının toplamı üstteki sayıya eşit olacak şekilde boş kutulara uygun sayılar yazın.

20	11	
12		9
11	4	
17		8
13	2	
7		3
9	1	
19		10
18	16	

Kutuları boyayarak yolu tamamla. (onar ileri ritmik sayarak)



10	20	30	40	40	30
40	80	30	50	60	70
50	80	30	30	10	80
50	100	40	30	70	90
60	10	50	40	80	100



Yönergeyi takip ederek 30 adımlık yolu oluşturun. 'gerçek' hazineyi bul ve işaretleyin.



						L			
				H					
				C					
	E					G			D
						A			

YÖNERGE

- 4 ▼
- 3 ➤
- 5 ▼
- 7 ➤
- 4 ▲
- 2 ↙
- 1 ▲
- 1 ↙
- 2 ▲