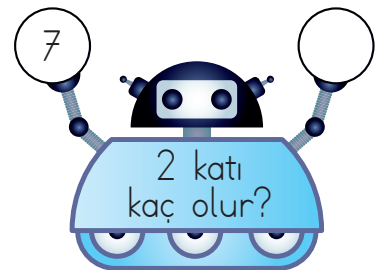
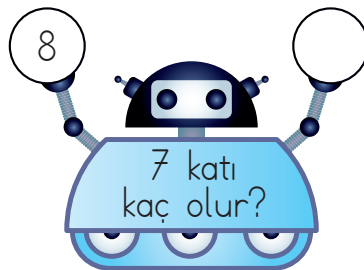
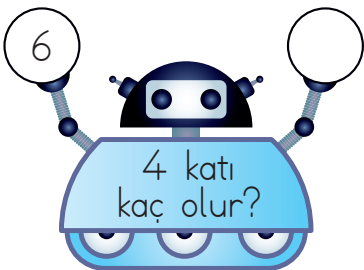
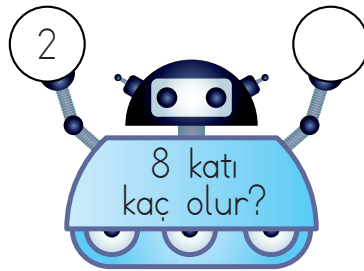
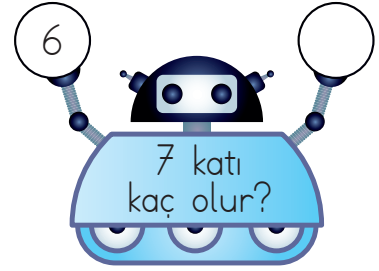
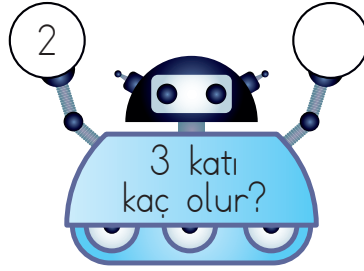
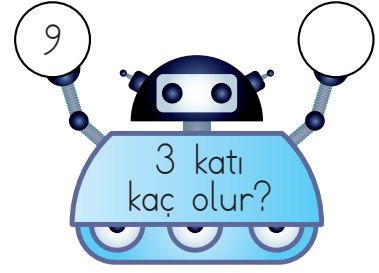
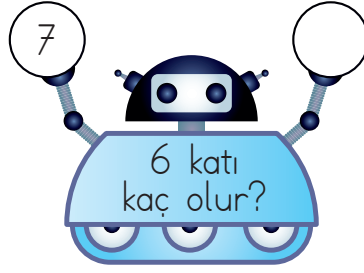
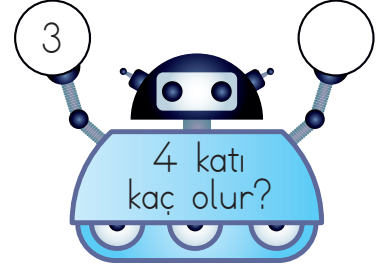
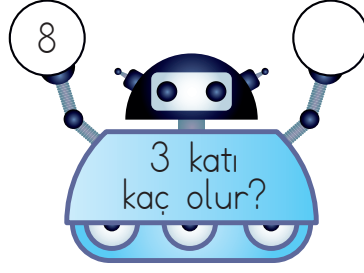


ÇARPMA KAT ANLAMI

- Robotların ellerinde tuttuğu sayıların istenilen katlarını bulup yazınız.



- Aşağıdaki ifadeleri uygun işlemlerle aynı renge boyayarak eşleştir.

3'ün 4 katı kaç eder?

SARI
 $7 \times 4 = 28$

8'in 5 katı kaç eder?

SARI
 $10 \times 8 = 80$

6'nın 7 katı kaç eder?

MAVİ
 $4 \times 4 = 16$

12'nin 2 katı kaç eder?

MAVİ
 $9 \times 5 = 45$

2'nin 9 katı kaç eder?

PEMBE
 $6 \times 7 = 42$

10'un 8 katı kaç eder?

PEMBE
 $8 \times 5 = 40$

4'ün 4 katı kaç eder?

YEŞİL
 $3 \times 4 = 12$

9'un 5 katı kaç eder?

YEŞİL
 $11 \times 2 = 22$

7'nin 4 katı kaç eder?

MOR
 $2 \times 9 = 18$

11'in 2 katı kaç eder?

MOR
 $12 \times 2 = 24$

- Aşağıdaki yüzlük tabloda boş bırakılan yerleri tamamlayınız.

x	1	2	3	4	5	6	7	8	9	10
1										10
2							14			
3				12						
4							28			
5										
6										
7									63	
8						48				
9										
10			30							

ÇARPMADA KAT ANLAMI

1. 4 sayısının 5 katı kaçtır?

ÇÖZÜM:

2. 6 sayısının 3 katı kaçtır?

ÇÖZÜM:

3. 3 sayısının 7 katı kaçtır?

ÇÖZÜM:

4. 3 sayısının 7 katı kaçtır?

ÇÖZÜM:

5. 6 sayısının 4 katı kaçtır?

ÇÖZÜM:

6. 5 sayısının 8 katı kaçtır?

ÇÖZÜM:

7. 3 sayısının 5 katının 5 fazlası kaçtır?

ÇÖZÜM:

8. 4 sayısının 2 katının 2 eksiği kaçtır?

ÇÖZÜM:

9. 9 sayısının 4 katının 3 eksiği kaçtır?

ÇÖZÜM:

ilkokul.com

10. 4 sayısının 10 katı, 50'den kaç eksiktir?

ÇÖZÜM:

11. 3 sayısının 5 katının 7 fazlası kaçtır?

ÇÖZÜM:

12. 7 sayısının 3 katının 10 fazlası kaçtır?

ÇÖZÜM:
