

● Aşağıdaki saatlerin "öğleden önce" ve "öğleden sonra" kaçı gösterdiklerini yazınız.





Öğleden Önce					
Öğleden Sonra					



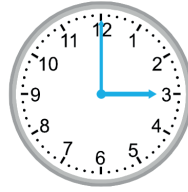
Öğleden Önce					
Öğleden Sonra					



Öğleden Önce					
Öğleden Sonra					



Öğleden Önce					
Öğleden Sonra					



Öğleden Önce					
Öğleden Sonra					