

1. Aşağıda verilen noktalı alanları doldurunuz.

I	E	F	R	Ü	Z	G	A	R	D	C
K	H	A	V	A	D	U	R	U	M	U
L	T	D	F	G	K	Z	A	S	J	K
I	G	E	R	B	A	B	D	F	A	İ
M	E	T	E	O	R	O	L	O	J	G
R	Y	A	Ğ	M	T	R	E	T	Y	U

Hava durumunu inceleyen bilim dalına denir.








Bir bölgede meydana gelen kısa süreli hava olaylarına denir.

Bir bölgedeki uzun süreli meydana gelen hava olaylarının ortalamasına denir.

Havanın soğumasıyla havadaki su buharının yeryüzüne kristal olarak yağmasına denir.

Havanın bir yerden bir başka yere hareketine denir.

2. Aşağıda bir ilin bir haftalık hava durumu verilmiştir. Soruları tabloya uygun cevaplayınız.

Pazartesi	Salı	Çarşamba	Perşembe	Cuma	Cumartesi	Pazar
						

Perşembe günü hava nasıl?

.....








Cuma ve Cumartesi hava nasıl?

.....

Hangi günler hava güneşli?

.....

Aşağıda verilen hava olaylarını ve Erkan, Oya ve Atıf'ı dikkate alarak bir uygun bir günde etkinlik planlayınız.

Pazartesi	Salı	Çarşamba	Perşembe	Cuma	Cumartesi	Pazar
						



Erkan ve Oya

Cumartesi ve Pazar günü ders çalışmamız gerekiyor.

Salı günü mezuniyet törenim var.



Atıf

PLANLANAN ETKİNLİK

