

1. DÖNEM 3. KDS



**ALİ NERKİZ
DENEME SINAVLARI**

3. Sınıf

1. DÖNEM

GENEL KAZANIM

DEĞERLENDİRME SINAVI

*Eğitimde Feda Edilecek
Tek Bir Fert Yoktur.*

**ÖĞRENCİNİN
ADI SOYADI
SINIFI
OKULU**

;

H. Atatürk

.....

: 3 / NO :

: İLKOKULU

ANDS

TÜRKÇE TESTİ

BU BÖLÜMDE CEVAPLAYACAĞINIZ SORU SAYISI 15'TİR. CEVAPLAMAYA İSTEDİĞİNİZ SORUDAN BAŞLAYABİLİRSİNİZ. CEVAPLARINIZI CEVAP KAĞIDININ TÜRKÇE BÖLÜMÜNE İŞARETLEYİNİZ. **BAŞARILAR.**

ÇAY

Zihni Bey (Zihni DERİN), bir akrabasını görmek için Batum'a gitmişti. Batum'da halk, çay yetiştiriyordu. Zihni Bey, çay bahçelerini gezdi, gördü ve inceledi. "Batum'da yetişen çay, Rize'de daha iyi yetişir." dedi.



Gelirken çay fideleri getirdi. Fideleri özenle hazırladığı toprağa dikti. İlbaharla birlikte fideler boy attı. Dördüncü yıl, çay bitkisinin yaprakları koparıldı. Kurutulup buhardan geçirildi. İşlendi ve içecek duruma getirildi.

Bugün severek içtiğimiz çay, bizlere Zihni Bey'in armağanıdır.

Talip APAYDIN

Not: 1. 2. ve 3. soruları metne göre cevaplayınız.

1. Zihni Bey, Batum'a niçin gitmiştir?

- Çay getirmek için
- Bir akrabasını görmek için
- Gezmek için



2. Çay bitkisinin yaprakları ne zaman koparıldı?

- a. İlbaharda
- b. Sonbaharda
- c. Dördüncü yılda

3. Zihni Bey, Batum'dan dönerken yanında neler getirmiştir?

- a. Çay fideleri
- b. Ailesine hediyeler
- c. Çay bardağı



Cumartesi günü mahallesinde bulunan kütüphaneye gitti. Hem projesi için araştırma yapacak hem de güzel bir kitap bulursa tatilde okumak için alacaktı. O sırada kütüphanenin içinde asılı olan bir yazı dikkatini çekti. Yazıda kütüphanede uyulması gereken kurallardan bahsediliyordu. Hemen bu kurallardan bazılarını not aldı. Pazartesi günü okula gider gitmez arkadaşlarıyla paylaşacaktı.



4. Yukarıdaki metinde hikâye unsurlarından hangisi **yoktur**?




- a. Kahraman
- b. Zaman
- c. Yer



5. Aşağıdaki cümlelerin hangisinde aldığı ek nedeniyle anlamı değişen sözcükler vardır?

- a. Kadir, kalemlerini masaya koydu.
- b. Ormancı, yeşillikte bir süre dolaştı.
- c. Mehmet, eve tuz ile şeker almış.

6. Aşağıdaki cümlelerin hangisinde canlı ve cansız varlıklar bir arada kullanılmıştır?

- a.  Sıranın üstünde defter, kitap ve kalemler var.
- b.  Çoban, koyunları ve kuzuları gezdiriyor.
- c.  Bir yandan kitabını okuyor, bir yandan da kuşların cıvıltısını dinliyordu.

“Başarılı olmak için gece gündüz demeden çalışıyordu.”

7. Yukarıdaki cümlelerde altı çizili sözcükler arasındaki anlam ilişkisine benzer ilişki aşağıdakilerden hangisinde vardır?

- a. Muallim – öğretmen
- b. Savaş – Barış
- c. Yıl – Sene

1- geldi

2- mis

3- toprak

4- gibi

5- kokusu

6- burnuma

8. Yukarıdaki sözcüklerden kurallı ve anlamlı bir cümle oluşturulduğunda sıralama nasıl olur?

- a. 6 – 2 – 4 – 3 – 5 – 1
- b. 6 – 3 – 5 – 1 – 4 – 2
- c. 2 – 4 – 1 – 6 – 3 – 5



9. Aşağıdaki sözcükler alfabetik sıralamaya göre sıralandığında hangi sözcük en sonda yer alır?

- a. Öğrenci b. Öğretmen c. Öğrenmek

10. Aşağıdakilerden hangisi yaya geçidini göstermektedir?



11. Hangi öğrencinin kelimeleri anlam ilişkisi bakımından diğerlerinden farklıdır?



özlem – hasret



özgürlük – hürriyet



eğri – doğru

“Sabahtan beri dolu yağıyor.”

12. Yukarıdaki cümlede altı çizili sözcük aşağıdakilerin hangisinde aynı anlamda kullanılmıştır?

- a. Havuz suyla dolu.
- b. Çantam ağzına kadar kitapla dolu.
- c. Dün Ceyhan'a dolu yağıyordu.

13. Aşağıdaki cümlelerden hangisi hecelerine doğru ayrılmıştır?

- a. Yıl-lar son-ra do-ğup bü-yü-dü-ğü kö-ye dö-ne-cek-ti.
- b. T-ren-in gel-mes-ine çok se-vin-miş-tim.
- c. S-por-cu-lar sa-ha-ya in-i-yor-lar.



Atalarım gökten yere
İndirmişler ay yıldızı
Bir buluta sarmışlar ki
Rengi şafaktan kırmızı
Hasan Ali YÜCEL

14. Yukarıdaki şiirde sözü edilen varlık
aşağıdakilerden hangisidir?

- a. Gökyüzü
- b. Bayrak
- c. Bulutlar

“Atatürk, ağaçları çok severdi. Vatanını
..... dolu görmek isterdi.”

15. Cümlesinde noktalı yere hangi sözcük
gelmelidir?

- a. denizle
- b. göllerle
- c. ormanlarla



TÜRKÇE TESTİ BITMİŞTİR.



MATEMATİK TESTİ

BU BÖLÜMDE CEVAPLAYACAĞINIZ SORU SAYISI 15'TİR. CEVAPLAMAYA İSTEDİĞİNİZ SORUDAN BAŞLAYABİLİRSİNİZ. CEVAPLARINIZI CEVAP KÂĞIDININ MATEMATİK BÖLÜMÜNE İŞARETLEYİNİZ. **BAŞARILAR.**

En Sevilen Dersler Çetele Tablosu	
Dersler	Öğrenci Sayısı
Matematik	### ### ###
Türkçe	### ### ### ///
İngilizce	### ### ### //
Fen Bilimleri	### ### ////

Grafik: Atatürk İlkokulu Öğrencilerinin Sevdiği Dersler

NOT: 1, 2 ve 3. Soruları tabloya göre cevaplayınız

1. Öğrencilerin en sevdiği ders hangisidir?

- a. Matematik b. Türkçe c. İngilizce

2. Grafiğe göre Atatürk İlkokulu'nda toplam kaç öğrenci vardır?

- a. 14 b. 53 c. 64

3. Yukarıdaki verilere göre hazırlanan sıklık tablosu aşağıdakilerden hangisidir?

Dersler	Öğr. Sayısı
Matematik	15
Türkçe	18
İngilizce	17
Fen Bil.	14

a.

Dersler	Öğr. Sayısı
Matematik	15
Türkçe	13
İngilizce	12
Fen Bil.	14

b.

Dersler	Öğr. Sayısı
Matematik	12
Türkçe	15
İngilizce	14
Fen Bil.	12

c.

$$84 : 7$$

$$75 : 5$$

4. Yukarıdaki işlemleri sonuçlarıyla eşleştirdiğimizde hangisi dışarıda kalır?

a. 17

b. 12

c. 15

5. Aşağıdaki işlemlerden hangisinin sonucu en büyüktür?

a. $92 : 8$

b. 27×5

c. $147 - 25$

6.

Kumbarasında biriktirdiği 375 TL'si ile alışverişe giden Ümmü, 75 TL'ye bir ayakkabı, 60 TL'ye bir pantolon ve 45 TL'ye de bir gömlek alıyor.

Bu alışverişten sonra Ümmü'nün ne kadar parası kalmıştır?

- a. 180 b. 185 c. 195

7. Aşağıdaki işlemlerden hangisinin sonucu **yanlıştır**?

- a. $XI + V = XVI$
b. $XIX - V = XI$
c. $XX - VII = XIII$

8. Hüseyin 43, Müfide 37 yaşındadır. **7 yıl önce Hüseyin ve Müfide'nin yaşları toplamı kaçtır?**

- a. 66
b. 73
c. 80




DİĞER SORULARIN SEÇİNİZ →

9. Yandaki Pirinçli İlkokulu'nda 481 erkek öğrenci, erkek öğrencilerden 117 eksik kız öğrenci vardır.

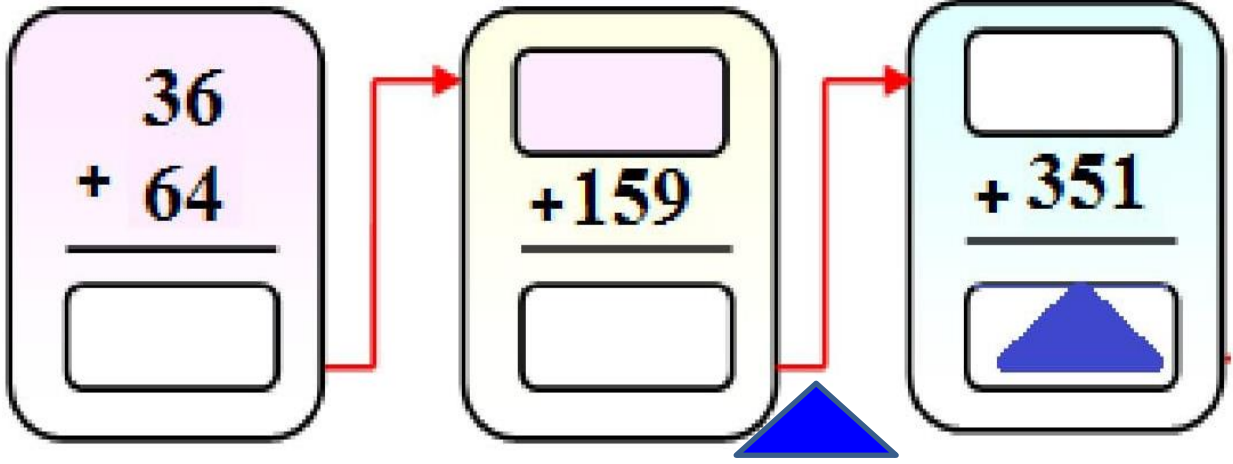
Buna göre Pirinçli İlkokulu'nda toplam kaç öğrenci vardır?

- a. 598
b. 364
c. 845



10. Yukarıdaki rakamlar kullanılarak yazılabilecek en küçük üç basamaklı sayı ile en büyük üç basamaklı sayının toplamı kaçtır?





11. Yukarıdaki işleme göre **yerine** hangi sayı gelmelidir?

- a. 610 b. 500 c. 510

12. Yandaki tabloya göre en çok ekmek satılan gün ile en az ekmek satılan gün arasındaki fark kaçtır?

- a. 14
b. 39
c. 51

Tablo: Satılan Ekmek Sayısı

Günler	Ekmek sayısı
Pazartesi	135
Salı	98
Çarşamba	110
Perşembe	149
Cuma	108

13. 6 yüzlük, 2 birlikten oluşan sayı ile 2 yüzlük, 9 onluk, 6 birlikten oluşan sayının farkı kaçtır?

- a. 360 b. 306 c. 324

14. Murat elindeki 91 tane fıncığı 7 arkadaşına eşit olarak paylaşmak istiyor.

Murat her bir arkadaşına kaç fıncık vermelidir?

- a. 11 b. 13 c. 15

15. 8 sınıflı bir okulun her sınıfında 27 öğrenci vardır.

Bu okulda toplam kaç öğrenci vardır?

- a. 216
b. 117
c. 35



MATEMATİK TESTİ BİTMİŞTİR.

FEN BİLİMLERİ TESTİ

BU BÖLÜMDE CEVAPLAYACAĞINIZ SORU SAYISI 10'DUR. CEVAPLAMAYA İSTEDİĞİNİZ SORUDAN BAŞLAYABİLİRSİNİZ. CEVAPLARINIZI CEVAP KÂĞIDININ FEN BİLİMLERİ BÖLÜMÜNE İŞARETLEYİNİZ. **BAŞARILAR.**

1. Çiçeğin kokusunu alamayan Esra'nın hangi duyu organı rahatsızlanmış olabilir?

- a. Dil b. Burun c. Deri

2. Görme olayının hangisine ihtiyaç yoktur?

- a. Göz b. Işık c. Ses

3. Aşağıdakilerden hangisi kendiliğinden ışık yayan (doğal) ışık kaynağı değildir?

- a. Ay b. Yıldızlar c. Güneş

4. Aşağıdakilerden hangisi hareketli varlıkların oluşturabileceği tehlikelerden değildir?

- a. Dağdan aşağı doğru düşen taşı tutmaya çalışmak.
b. Hareket halindeki bisikletin tekerleğini tutmak.
c. Kağıttan yaptığımız rüzgargülünü tutmak.



5. “Dünya’nın en dışında bulunan tabakadır.”
Sözü edilen tabaka aşağıdakilerden hangisidir?

- a. Hava tabakası
- b. Su tabakası
- c. Kara tabakası

6. Aşağıdakilerden hangisi dünyanın küre şeklinde olduğunu **ispatlamaz**?

- a. Uzaktan gelen bir geminin önce dumanının görünmesi.
- b. Gündüz Güneş’in olması
- c. Hep aynı yöne giden bir uçağın başladığı noktaya geri gelmesi.



7. Aşağıdakilerden hangisinde maddenin halleri doğru verilmiştir?

	KATI	SIVI	GAZ
a.	Defter	Limonata	Balon
b.	Masa	Ayran	Buhar
c.	Buz	Su	soda



8. Kuvvetli ışığa doğrudan bakmak sağlığımıza zarar verir.

Yukarıdaki ifadede noktalı yere aşağıdakilerden hangisi gelmelidir?

a. Göz

b. Deri

c. Dil

9. Hangi seçenekteki ifade **yanlıştır**?

- a. Düz yolda yuvarlanan top, dönme hareketi yapar.
- b. Ağaçtan düşen elma, hızlanma hareketi yapar.
- c. Duvar saatinin sarkacı, yavaşlama hareketi yapar.

- a. Kendiliğinden ışık yayan ışık kaynaklarına doğal ışık kaynağı denir.
- b. Ay, Güneş'ten aldığı ışığı yansıttığından ışık kaynağı değildir.
- c. Yapay ışık kaynakları insanlar tarafından yapılmıştır.

10. Yukarıdaki ifadelerden hangileri doğrudur?

a. I ve II

b. II ve III

c. I, II ve III

FEN BİLİMLERİ TESTİ BITMİŞTİR.



HAYAT BİLGİSİ TESTİ

BU BÖLÜMDE CEVAPLAYACAĞINIZ SORU SAYISI 10'DUR. CEVAPLAMAYA İSTEDİĞİNİZ SORUDAN BAŞLAYABİLİRSİNİZ. CEVAPLARINIZI CEVAP KAĞIDININ HAYAT BİLGİSİ BÖLÜMÜNE İŞARETLEYİNİZ. **BAŞARILAR.**

1. Büyükannesinin çocukluk fotoğraflarını inceleyen Efe aşağıdakilerden hangisini fotoğrafta görebilir?

- a. Soba b. Cep telefonu c. Tablet

2. Her canlının bir yuvaya ihtiyacı vardır.

Buna göre aşağıdaki canlı-yuva eşleştirmelerinden hangisi **yanlıştır**?

- a. Arı – Kovan
b. Köpek - kulübe
c. Ayı – ahır

3. Aşağıdakilerden hangisi temel ihtiyaçlarımızdan biri **değildir**?

- a. Yemek b. Ev c. Futbol topu

4. Aşağıdaki ürünlerden hangisini kullanırken kullanma kılavuzuna ihtiyacımız vardır?

- a. Kitaplık b. Askı c. Bilgisayar



“Grup çalışmalarında başarıyı sağlamak için
.....”

5. Yukarıdaki noktalı yere aşağıdakilerden hangisini yazabiliriz?

- a. Çalışma planına uyarım.
- b. En kolay işleri seçerim.
- c. Sadece kendi düşüncelerimi değerli görürüm.

6. Yandaki krokiye göre oyun parkı, Ali'nin evinin neresindedir?

- a. Kuzeyinde
- b. Batısında
- c. Güneyinde



7. Bir okuldaki öğrenciler ile ilgili hangisi söylenebilir?

- a. Hepsi aynı kilodadır.
- b. Farklı fiziksel özellikleri vardır.
- c. Hepsi aynı boydadır.

8. Okul bahçesinde yaralanan bir arkadaşımıza aşağıdakilerden hangisini yapmamalıyız?

- a. Gerekecekçe yaralıyı hareket ettirmeyiz.
- b. Nöbetçi öğretmene veya bir okul yöneticisine haber veririz.
- c. Yaralanan arkadaşımıza yarasının çok ağır olduğunu söyleriz.

9. Beden eğitimi dersinde, oynadıkları oyunda arkadaşlarını yenen Arif, hangisini yaparsa doğru bir davranış olur?

- a. Arkadaşlarına üzülmemeleri gerektiğini söylerse
- b. Arkadaşlarıyla dalga geçerse
- c. Arkadaşlarını küçümserse

10. Cumhuriyet ile ilgili aşağıda verilenlerden hangisi yanlıştır?

- a. 29 Ekim 1923'te ilan edilmiştir.
- b. Atatürk önderliğinde ilan edilmiştir.
- c. 23 Nisan 1920'de ilan edilmiştir.

HAYAT BİLGİSİ TESTİ BİTMİŞTİR.

İNGİLİZCE TESTİ

BU BÖLÜMDE CEVAPLAYACAĞINIZ SORU SAYISI 10'DUR. CEVAPLAMAYA İSTEDİĞİNİZ SORUDAN BAŞLAYABİLİRSİNİZ. CEVAPLARINIZI CEVAP KAĞIDININ İNGİLİZCE BÖLÜMÜNE İŞARETLEYİNİZ. **BAŞARILAR.**

1. How many crayons are there?

- a. SIXTEEN
- b. SEVENTEEN
- c. NINETEEN



2. This is my

- a. family.
- b. school.
- c. wheel.



3. Aşağıdaki ifadelerden hangisi yandaki görsele aittir?

- a. Spin the Wheel.
- b. Say it again.
- c. Spin the ball..



4. Hangi resim yanlış ifade edilmiştir ?



1



2

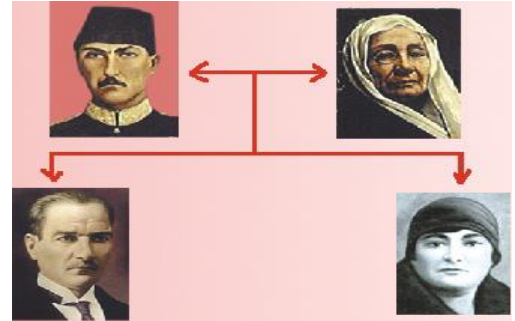


3



- a. 1 → He is my grandfather.
b. 2 → She is my mother.
c. 3 → He is my grandmother.

5. Zübeyde Hanım is Atatürk's

- a. father
b. mother
c. aunt




6. Aşağıdaki eşleştirmelerden hangisi yanlıştır?



7. Is the blue ball small? ●

- a. Yes, it is.
- b. No, it isn't.
- c. No, he isn't.



8. Can he ride a bike?

- a. Yes, he can.
- b. Yes, she can.
- c. No, he can't.



9. He is ▲ . She is ■

	▲	■
a.	sad	angry
b.	sad	happy
c.	happy	angry



10. What is he doing?

- a. He is crying.
- b. He is eating.
- c. He is playing football.



İNGİLİZCE TESTİ BİTMİŞTİR.

DAHA YAŞANABİLİR BİR DÜNYA İÇİN
ENERJİNİ BOŞA HARCAMA!..



Enerji Verimliliği Haftası
12-17 Ocak 2014



İLKOKUL ETKİNLİKLERİ VE ALİ NERKİZ DENEME SINAVLARI

ANDS

<https://www.facebook.com/groups/andset>

