

# 1. DÖNEM 2. KDS



**ALİ NERKİZ**  
**DENEME SINAVLARI**

# 1. Sınıf

**1. DÖNEM**

**2. KAZANIM PEKİŞTİRME**

**ETKİNLİĞİ**



*Eğitimde Feda Edilecek  
Tek Bir Fert Yoktur.*

**ÖĞRENCİNİN**  
**ADI SOYADI**  
**SINIFI**  
**OKULU**

;

*H. Atatürk*

.....

: 1 / ..... NO : .....

: ..... İLKOKULU

**ANDS**

# TÜRKÇE

MERHABA SEVGİLİ ÇOCUKLAR. BU BÖLÜMDEKİ SORULARI ÖĞRETMENİMİZ SİZE OKUYACAK. SİZLER DE DOĞRU CEVABIN ALTINDAKİ YA DA YANINDAKİ BOŞ KUTUCUĞU İŞARETLEYECEKSİNİZ. BAŞARILAR.



## ATATÜRK

Mustafa Kemal ATATÜRK 1881 yılında Selanik'te doğdu. Annesinin adı Zübeyde Hanım, babasının adı Ali Rıza Efendi'dir.

Atatürk, milletimizle birlikte yurdumuzu düşmanlardan kurtarmıştır. Cumhuriyeti kurmuştur. Birçok yenilik yapmıştır.

**NOT: 1. 2. ve 3. Soruyu metne göre cevaplayınız.**

1. Görsellerden hangisi dinlediğiniz metin ile ilgilidir?



2. Atatürk nerede doğmuştur?

- İstanbul'da  Ankara'da  Selanik'te

3. Atatürk'ün annesinin adı nedir?

- Makbule  Latife  Zübeyde

4. Hangisi yandaki görseli ifade etmektedir?

Niloya o okul mu?

Niloya oyun oyna.

Niloya tekneyi itme.



Umut ona matematik .....

5. Yukarıdaki cümlede noktalı yere hangisi gelmelidir?



6. Aşağıdaki görsellerden hangisinin adında ü sesi daha fazla vardır?



Eylül, Ümit ile oyun oyna.

7. Yukarıdaki cümleyi ifade eden görsel hangisidir?



8. Hangisi yandaki görseli ifade etmektedir?

Ülkü montu ütüle.

Tuna o anten.

Ünal o tünel.



9. ve 10. soruda görsellerin adının bulunduğu kutucuğu işaretleyiniz.

9.

- oyun  
 koyun  
 koku



10.

- teneke  
 yetenek  
 yemek



TÜRKÇE BÖLÜMÜ BİTMİŞTİR.

4

DiĞER SAYFAYA GEÇİNİZ



# MATEMATİK

MERHABA SEVGİLİ ÇOCUKLAR. BU BÖLÜMDEKİ SORULARI ÖĞRETMENİMİZ SİZE OKUYACAKLAR. SİZLER DE DOĞRU CEVABIN ALTINDAKİ BOŞ KUTUCUĞU İŞARETLEYECEKSİNİZ. BAŞARILAR.

1. Hangisinde **geriye ikişer sayma** doğru yapılmıştır?

<input type="checkbox"/>	14	12	10	9	8	7	6	4	2
<input type="checkbox"/>	18	16	14	12	10	8	6	4	2
<input type="checkbox"/>	16	15	14	13	12	10	8	6	4

2. Aşağıdakilerden hangisi diğerlerinden daha **hafiftir**?












3. Yukarıdaki görsele göre 3. ağacın  
üzerinde kaç elma vardır?

10

20

16

4. Gövdesindeki sayıya göre tırtıl hangi yaprağı  
yemelidir?

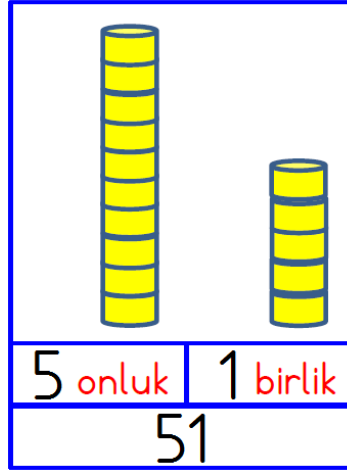


5. Yukarıdaki görselde hangisi ağacın sağındadır?




6. Aşağıdakilerden hangisi onluk ve birliklerine doğru ayrılmıştır?










7. Yukarıdaki lalelerle balıkları bire bir eşleştirdiğimizde hangi cümle doğru olur?


<input type="checkbox"/>	Lalelerin sayısı daha fazladır.
<input type="checkbox"/>	Balıkların sayısı daha fazladır.
<input type="checkbox"/>	Lalelerle balıkların sayısı eşittir.






## 8. Hangisinin sayısı daha fazladır?








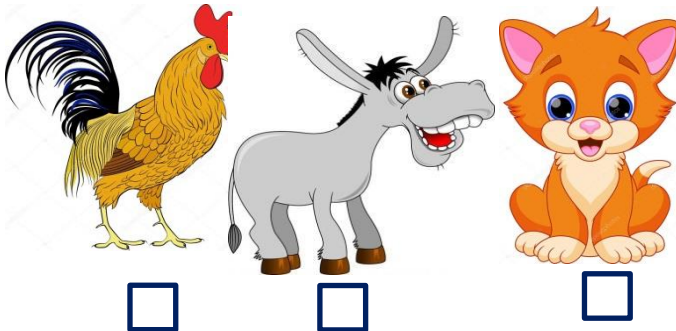

## 9. Yandaki sudoku oyununda yıldız yerine hangi sayı gelmelidir?

1, 2, 3 sayıları yan yana bir kez kullanılır.  
1, 2, 3 sayıları alt alta bir kez kullanılır.

1     2     3



## 10. Yandaki görsele göre en üstte hangi hayvan vardır?



MATEMATİK BÖLÜMÜ BİTMİŞTİR.


# HAYAT BİLGİSİ TESTİ

1. Tanışırken aşağıdaki ifadelerden hangisini kullanırsınız?

- Nereye gidiyorsun?
- Merhaba, benim adım Ayhan.
- Türkiye'nin başkenti Ankara'dır.



2. Çocuklardan hangisi okul kurallarına uymamaktadır?



3. Yemek yemek isteyen Medine hangisine gitmelidir?



4. Ekin'in ailesi, Ekin'i okuldan eve götürmek istediğinde kimden izin almalıdır?

- Okul müdüründen izin almalıdır.
- Sınıf başkanından izin almalıdır.
- Hizmetliden izin almalıdır.

5. Aşağıdakilerden hangisi ders araç gereçlerinden biri değildir?



6. Aşağıdakilerden hangisi doğru bir ifade değildir?

- Silgini verebilir misin?
- Özür dilerim.
- Topu sadece ben oynayacağım.

7. Okulumuzda aşağıdakilerden hangisini kazandığımız söylenemez?

- Kavga etmeyi öğrendim.
- Sayıları ve harfleri öğrendim.
- Yeni arkadaşlar edindim.

HAYAT BİLGİSİ BÖLÜMÜ BITMİŞTİR.

3 ARALIK  
DÜNYA  
ENGELLİLER GÜNÜ



İLKOKUL ETKİNLİKLERİ VE ALİ NERKİZ DENEME SINAVLARI

**ANDS**

<https://www.facebook.com/groups/andset>

