

# 1. DÖNEM 3. KDS



**ALİ NERKİZ**  
**DENEME SINAVLARI**

# 1. Sınıf

**1. DÖNEM GENEL**  
**KAZANIM PEKİŞTİRME**  
**ETKİNLİĞİ**



*Eğitimde Feda Edilecek  
Tek Bir Fert Yoktur.*

*H. Atatürk*

**ÖĞRENCİNİN**  
**ADI SOYADI**  
**SINIFI**  
**OKULU**

;  
: .....  
: 1 / ..... NO : .....  
: ..... İLKOKULU

**ANDS**

## TÜRKÇE

MERHABA SEVGİLİ ÇOCUKLAR. BU BÖLÜMDEKİ SORULARI ÖĞRETMENİMİZ SİZE OKUYACAK. SİZLER DE DOĞRU CEVABIN ALTINDAKİ YA DA YANINDAKİ BOŞ KUTUCUĞU İŞARETLEYECEKSİNİZ. BAŞARILAR.

## GÜVERCİN İLE KARINCA

Bir karınca dereye düşmüştü. Su içen güvercin onu gördü. Hemen gagasıyla bir çöp uzattı, Karınca çöpe tutunup kıyıya çıktı. Tam o sırada oradan geçen bir avcı güvercini görüp nişan aldı, Karınca da avcının ayağını ısırdı. Adamın atışı boşa gitti. Böylece güvercin kurtuldu.

**NOT: 1. ve 2. Soruyu metne göre cevaplayınız.**

1. Görsellerden hangisi dinlediğiniz metin ile ilgilidir?



## 2. Hangi hayvan dereye düşmüştür?



## 3. Hangisi üstteki görseli ifade etmektedir?

Ayşe okula gitti?

Ayşe çorba içiyor.


Ayşe ders çalışıyor.



Dedemle yaylaya gitmeyi .....

4. Yukarıdaki cümlede noktalı yere hangisi gelmelidir?

- yemişler.
- düşünüyoruz.
- oynayalım.



5. Hangisi üstteki görseli ifade etmektedir?

Murat balık tutmuş.

Dersine çalıştın mı?


Çocuklar salıncakta sallanıyor.



## 6. Kaçınıcı sınıfta okuyorsun?

- Birinci sınıfta okuyorum.
- İkinci sınıfta okuyorum.
- Üçüncü sınıfta okuyorum.


## 7. Hangi hayvanın adı yanlış yazılmıştır?



Timsak



Zürafa



Gergedan

## 8. Karın en çok yağdığı mevsim hangisidir?

- İlkbahar
- Kış
- Yaz



Aslan ormanda yürüyüş yapıyor.

9. Yukarıdaki cümleyi ifade eden görsel hangisidir?



10. Hangisinin adı doğru yazılmıştır?



Çorab



Polis





Kurabaya



TÜRKÇE BÖLÜMÜ BİTMİŞTİR.



# MATEMATİK

MERHABA SEVGİLİ ÇOCUKLAR. BU BÖLÜMDEKİ SORULARI ÖĞRETMENİMİZ SİZE OKUYACAKLAR. SİZLER DE DOĞRU CEVABIN ALTINDAKİ BOŞ KUTUCUĞU İŞARETLEYECEKSİNİZ. BAŞARILAR.

20	18	16	14	12	10		6		2
----	----	----	----	----	----	--	---	---	---

1. Üstteki ritmik saymaya göre  +  işleminin sonucu kaçtır?

4

8

12


2. Görsele göre ifadelerden hangisi yanlıştır?

Arı, karıncanın altındadır.

Karınca, mantarın altındadır.

Arı, mantarın üstündedir.



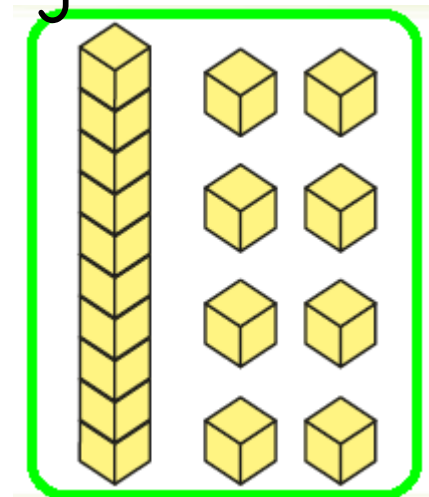


3. Yukarıdaki görselin nesne sayısını gösteren ifade hangisidir?

- 1 Onluk 5 birlik
- 1 Onluk 9 birlik.
- 1 Onuk 7 birlik.


4. Yanda taban bloklarıyla gösterilen sayı kaçtır?

- 18
- 16
- 20



DİĞER SAYFAYA GEÇİNİZ →





5. Yukarıdaki yarışmada hangisi 3. olmuştur?



6. Aysima'nın elindeki balonların 4 tanesi patlarsa geriye kaç balonu kalır?

9

5

4

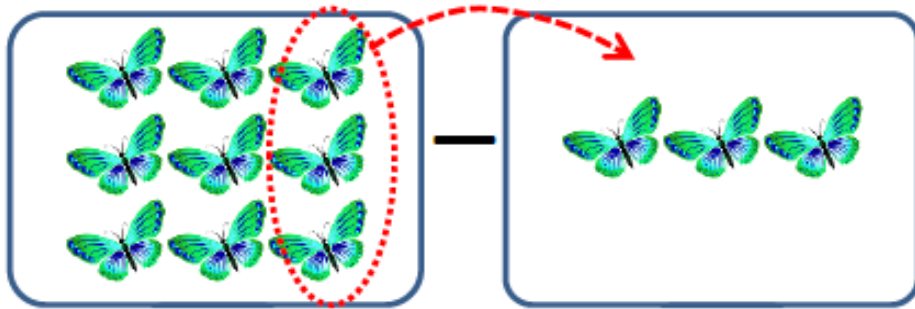


7. Aşağıdaki işlemlerden hangisinin sonucu daha **küçüktür**?

$$\begin{array}{r} 3 \\ + 7 \\ \hline \end{array}$$

$$\begin{array}{r} 5 \\ + 2 \\ \hline \end{array}$$

$$\begin{array}{r} 4 \\ + 6 \\ \hline \end{array}$$



8. Yukarıdaki görseli ifade eden işlem hangisidir?

	$9 - 3$
	$9 + 3$
	$9 - 6$



9. Arda'nın 13 lirası var. Arda hangisini alamaz?



10. Hangisi kuşun sağındadır?



MATEMATİK BÖLÜMÜ BITMİŞTİR.

## HAYAT BİLGİSİ TESTİ

1. Yandaki görsel hangi sınıf kuralını göstermektedir?

- Çöpleri yere atmama.
- Kavga etmeme.
- İzin alıp konuşma.



2. İstiklâl Marşı dinlenirken hangisi yapılmaz?

- Sakız çiğneme.
- Ayakta durma.
- İzin alıp konuşma.



### 3. Okul kütüphanesinde hangisini yapabiliriz?

- Kitap okuruz.
- Yemek yeriz.
- Şarkı söyleriz.



### 4. Okul bahçesinde kalem bulan Ayça ne yapmalıdır?

- Sınıf başkanına vermelidir.
- Kardeşine vermelidir.
- Nöbetçi öğretmene vermelidir.



### 5. Aşağıdakilerden hangisi kişisel bakım ürünü değildir?



## 6. Çocuklardan hangisi zamanı verimli kullanıyor?



## 7. Yemeklerden sonra hangisini yapmamız gerekmez?



## 8. Hangisi aile üyelerimizden değildir?

- Dede
- Amca
- Okul Müdürü



## 9. Yemeği yapan kişiye ne denir?

- Geçmiş olsun.
- Eline sağlık.
- Özür dilerim.



## 10. Kaybolduğumuzda polise hangisini söylememize gerek yoktur?

- Ev adresini
- Ailemizin telefon numarasını.
- Okul numaramı.



HAYAT BİLGİSİ BÖLÜMÜ BİTMİŞTİR.

DAHA YAŞANABİLİR BİR DÜNYA İÇİN  
**ENERJİNİ BOŞA HARCAMA!..**



**Enerji Verimliliği Haftası**  
**12-17 Ocak 2014**

İLKOKUL ETKİNLİKLERİ VE ALİ NERKİZ DENEME SINAVLARI

**ANDS**

<https://www.facebook.com/groups/andset>

