

# 1. DÖNEM 1. ETKİNLİK



**ALİ NERKİZ  
DENEME SINAVLARI**

# 1. Sınıf

**1. DÖNEM**

**1. KAZANIM PEKİŞTİRME  
ETKİNLİĞİ**

**ÖĞRENCİNİN  
ADI SOYADI  
SINIFI  
OKULU**

*29 Ekim  
Cumhuriyet  
Günümüzü  
kaldırılsun*



: 1 / .....

NO : .....

İLKOKULU

**ANDS**

## TÜRKÇE

MERHABA SEVGİLİ ÇOCUKLAR. BU BÖLÜMDEKİ SORULARI ÖĞRETMENİMİZ SİZE OKUYACAKLAR. SİZLER DE DOĞRU CEVABIN ALTINDAKİ BOŞ KUTUCUĞU İŞARETLEYECEKSİNİZ. BAŞARILAR.

### DOKTOR TILKI

Tilkinin biri, bir gün doktor kıyafetlerini giymiş. Köyün yolunu tutmuş. Niyeti tavukları kandırıp, yemekmiş. Kümese varınca tavuklara seslenmiş:

Tavuk kardeşlerim. Hasta olduğunuzu duydum. Size ilaç getirdim. Kapıyı açın da vereyim, demiş. Horoz, tilkinin hilesini anlamış. Ona:

Tilki Kardeş. Biz hasta değiliz. Hasta olan çiftliğin köpeği Karabaş. İstersen çağıralım da sen onu muayene et, demiş.

Tilki:

Yok yok! Bugün benim ziyaret edecek başka hastalarım da var. Gidip onları muayene edeyim, diyerek hızla oradan uzaklaşmış.

**NOT: 1. ve 2. Soruyu metne göre cevaplayınız.**

1. Görsellerden hangisi dinlediğiniz hikâye ile ilgilidir?



## 2. Tilkinin hilesini kim anlamış?




Mesut, babasıyla futbol oynuyor.

## 3. Aşağıdaki görsellerden hangisi yukarıdaki cümleyle ilgilidir?



## 4. Aşağıdaki görsellerden hangisinin adında k sesi vardır?



5. Hangisi yandaki görseli ifade etmektedir?

- Ela, Lale el ele.  
 Ela lale al.  
 Ele Lale ele.



6. Aşağıdakilerden hangisinde a sesi hem başta hem ortada yer alır?



Ela lale al.

7. Yukarıdaki cümleyi ifade eden görsel hangisidir?



8. Hangisi yandaki görseli ifade etmektedir?

elek

kale

kek



9. Görsellerden hangisinin adı doğru yazılmıştır?



kale



kek



elek

TÜRKÇE BÖLÜMÜ BİTMİŞTİR.



## MATEMATİK

MERHABA SEVGİLİ ÇOCUKLAR, BU BÖLÜMDEKİ SORULARI ÖĞRETMENİMİZ SİZE OKUYACAKLAR. SİZLER DE DOĞRU CEVABIN ALTINDAKİ BOŞ KUTUCUĞU İŞARETLEYECEKSİNİZ. BAŞARILAR.

1. Aşağıdakilerden hangisi diğerlerinden daha **ağırdır**?



2. Yandaki çocukların sayısı hangisinde doğru verilmiştir?


- 2  
 3  
 4




3. Yandaki kutuda hangisinin eşi yoktur?




4. Aşağıdakilerden hangisi 5 tanedir?



5. "İneklerin kaç tane ayağı var?" sorusuna hangi çocuk doğru cevap vermiştir?



6. Aşağıdakilerden hangisi diğerlerinden daha hafiftir?




7. Yandaki görsele göre hangi meyve sepetin içindedir?



8. Yukarıdaki görsele göre ağaca en yakın hayvan hangisidir?



9. Yandaki görsele göre köpeğin altında hangi hayvan vardır?





## HAYAT BİLGİSİ TESTİ

MERHABA SEVGİLİ ÇOCUKLAR, BU BÖLÜMDEKİ SORULARI ÖĞRETMENİMİZ SİZE OKUYACAKLAR. SİZLER DE DOĞRU CEVABIN ALTINDAKİ BOŞ KUTUCUĞU İŞARETLEYECEKSİNİZ. BAŞARILAR.

1. Aşağıdakilerden hangisi sınıfımızdaki eşyalardan biri **değildir**?



2. Aşağıdaki çocuklardan hangisi tuvalet kurallarına uymaktadır?



3. Spor yapmak isteyen Duru hangisine gitmelidir?



4. Hilal elindeki meyve suyunu yanlışlıkla yere döktü. Bu durumda kimden yardım almalıdır?



5. Aşağıdakilerden hangisi bizim bayrağımızdır?



6. Aşağıdakilerden hangisi güvenlik kurallarına uymamaktadır?



7. Çocuklardan hangisi bayrak töreninde doğru durmaktadır?



HAYAT BİLGİSİ BÖLÜMÜ BİTMİŞTİR.

29 Ekim  
Cumhuriyet  
bayramımız  
kutlu olsun



*"Benim naçiz vücudum nasıl olsa bir gün toprak olacaktır.  
Fakat Türkiye Cumhuriyeti ebediyen yaşayacaktır."*

*K. Atatürk*



1923 — ∞

İLKOKUL ETKİNLİKLERİ VE ALİ NERKİZ DENEME SINAVLARI (KDS)

**ANDS**

<https://www.facebook.com/groups/andset/>

