

KARIŐIK PROBLEMLER -10-

➡ AŐağıdaki problemleri işlem yaparak çözüünüz.

1	Ali'nin 8 kalemi vardı. Ali 3 kalem daha aldı. Ali'nin toplam kaç kalemi oldu?																			
---	--	--	--	--	--	--	--	--	--	--	--	--	--	--	--	--	--	--	--	--

6	Tarık'ın 6 kağıdı vardır. Tarık 2 kağıt kaybetti. Tarık'ın kaç kağıdı kaldı?																			
---	--	--	--	--	--	--	--	--	--	--	--	--	--	--	--	--	--	--	--	--

2	Merve'nin 9 topu vardı. Merve 4 topu arkadaşına verdi. Merve'nin kaç topu kaldı?																			
---	--	--	--	--	--	--	--	--	--	--	--	--	--	--	--	--	--	--	--	--

7	Elif 9 yaşındadır. Mahir 7 yaşındadır. İkişinin yaşları toplamı kaçtır?																			
---	---	--	--	--	--	--	--	--	--	--	--	--	--	--	--	--	--	--	--	--

3	Seda'nın 7 şekeri vardı. Seda 2 şeker yedi. Seda'nın kaç şekeri kaldı?																			
---	--	--	--	--	--	--	--	--	--	--	--	--	--	--	--	--	--	--	--	--

8	Kemal'in 6 elması vardır. Kemal 1 elma yedi. Kemal'in kaç elması kaldı?																			
---	---	--	--	--	--	--	--	--	--	--	--	--	--	--	--	--	--	--	--	--

4	Efe'nin 7 misketi vardır. Efe 2 misket daha aldı. Efe'nin kaç misketi oldu?																			
---	---	--	--	--	--	--	--	--	--	--	--	--	--	--	--	--	--	--	--	--

9	Defne'nin 7 çiçeği vardı. Defne 3 çiçek suladı. Defne'nin sulamadığı kaç çiçek kalmıştır?																			
---	---	--	--	--	--	--	--	--	--	--	--	--	--	--	--	--	--	--	--	--

5	Veda'nın 5 lirası vardır. Veda, dedesinden 6 lira aldı. Veda'nın kaç lirası oldu?																			
---	---	--	--	--	--	--	--	--	--	--	--	--	--	--	--	--	--	--	--	--

10	Kadir önce 5 sayfa kitap okudu. Daha sonra 8 sayfa kitap okudu. Kadir toplam kaç sayfa kitap okudu?																			
----	---	--	--	--	--	--	--	--	--	--	--	--	--	--	--	--	--	--	--	--

KARIŞIK PROBLEMLER -11-

👉 Aşağıdaki problemleri işlem yaparak çözünüz.

1	Ali'nin 4 oyuncuğu vardır. Ali 3 oyuncak daha alırsa kaç oyuncuğu olur?																			
---	---	--	--	--	--	--	--	--	--	--	--	--	--	--	--	--	--	--	--	--

6	Gamze 5 yaşındadır. Ekrem, Gamze'den 4 yaş büyüktür. Ekrem kaç yaşındadır?																				
---	--	--	--	--	--	--	--	--	--	--	--	--	--	--	--	--	--	--	--	--	--

2	Selda'nın 7 kalemi vardır. Selda 2 kalemini arkadaşına verirse kaç kalemi kalır?																				
---	--	--	--	--	--	--	--	--	--	--	--	--	--	--	--	--	--	--	--	--	--

7	Demet'in 5 topu vardır. Figen'in 3 topu vardır. İkisinin toplam kaç topu vardır?																				
---	--	--	--	--	--	--	--	--	--	--	--	--	--	--	--	--	--	--	--	--	--

3	Turgut'un 7 kalemi vardır. Enes'in 4 kalemi vardır. Turgut'un, Enes'ten kaç tane fazla kalemi vardır?																				
---	---	--	--	--	--	--	--	--	--	--	--	--	--	--	--	--	--	--	--	--	--

8	Ali 9 yaşındadır. Ali 2 sene önce kaç yaşındaydı?																				
---	---	--	--	--	--	--	--	--	--	--	--	--	--	--	--	--	--	--	--	--	--

4	Leyla 7 yaşındadır. Leyla 6 yıl sonra kaç yaşında olacaktır?																				
---	--	--	--	--	--	--	--	--	--	--	--	--	--	--	--	--	--	--	--	--	--

9	Şeyda 6 yaşındadır. Şeyda 4 sene sonra kaç yaşında olacaktır?																				
---	---	--	--	--	--	--	--	--	--	--	--	--	--	--	--	--	--	--	--	--	--

5	Kerim 7 yaşındadır. Kerim 5 sene önce kaç yaşındaydı?																				
---	---	--	--	--	--	--	--	--	--	--	--	--	--	--	--	--	--	--	--	--	--

10	Tuna 7 yaşındadır. Ece, Tuna'dan 1 yaş küçüktür. Ece kaç yaşındadır?																				
----	--	--	--	--	--	--	--	--	--	--	--	--	--	--	--	--	--	--	--	--	--

KARIŞIK PROBLEMLER -12-

☞ Aşağıdaki problemleri işlem yaparak çözünüz.

1

Mine 9 yaşındadır. Hüseyin, Mine'den 2 yaş büyüktür. Hüseyin kaç yaşındadır?

2

Bir sınıfta 8 kız vardır. Erkekler, kızlardan 3 kişi fazladır. Sınıfta kaç erkek vardır?

3

Bir sınıfta 9 erkek vardır. Kızlar, erkeklerden 2 kişi eksiktir. Sınıfta kaç kız vardır?

4

Bir kutuda 7 kırmızı top vardır. Mavi toplar, kırmızı toplardan 4 eksiktir. Kutuda kaç mavi top vardır?

5

Bir bahçede 5 gül vardır. Laleler, güllerden 3 fazladır. Bahçede kaç lale vardır?

6

Ali 7 yaşındadır. Elif, Ali'den 2 yaş küçüktür. Elif kaç yaşındadır?

7

Bahar 6 yaşındadır. Kasım, Bahar'dan 5 yaş büyüktür. Kasım kaç yaşındadır?

8

Sait 7 yaşındadır. Fikriye, Sait'ten 5 yaş küçüktür. Fikriye kaç yaşındadır?

9

Aslı 5 yaşındadır. Suat, Aslı'dan 2 yaş küçüktür. Suat kaç yaşındadır?

10

Ayşe'nin 9 TL'si vardır. Ahmet'in parası Ayşe'den 8 TL daha fazladır. Ahmet'in kaç TL'si vardır?

KARIŞIK PROBLEMLER -13-

👉 Aşağıdaki problemleri işlem yaparak çözünüz.

1	Ahmet 7, Fatih 5, Kerim 8 yaşındadır. Üçünün yaşlarının toplamı kaçtır?																		
---	---	--	--	--	--	--	--	--	--	--	--	--	--	--	--	--	--	--	--

6	8 misketin 7 fazlasının 5 eksiği kaç misket eder?																			
---	---	--	--	--	--	--	--	--	--	--	--	--	--	--	--	--	--	--	--	--

2	Yavuz'a 8 TL babası, 7 TL annesi veriyor. Yavuz 4 TL'ye kalem alırsa kaç TL parası kalır?																			
---	---	--	--	--	--	--	--	--	--	--	--	--	--	--	--	--	--	--	--	--

7	Biröl 14 yaşındadır. Seda Biröl'dan 3 yaş küçüktür. Seda kaç yaşındadır?																			
---	--	--	--	--	--	--	--	--	--	--	--	--	--	--	--	--	--	--	--	--

3	Bakkaldan 12 balon aldım. 6 tanesini arkadaşima verdim. Kaç balonum kalır?																			
---	--	--	--	--	--	--	--	--	--	--	--	--	--	--	--	--	--	--	--	--

8	Bir kasada 18 balkabağı var. Balkabaklarının 5 i satıldı. Geriye kaç balkabağı kaldı?																			
---	---	--	--	--	--	--	--	--	--	--	--	--	--	--	--	--	--	--	--	--

4	Kantindeki 20 tane sudan 9 tanesi satıldı. Kantinde kaç tane su kaldı?																			
---	--	--	--	--	--	--	--	--	--	--	--	--	--	--	--	--	--	--	--	--

9	Sınıfımızın mevcudu 24'tür. 9 öğrenci hastalandığı için gelmedi. Sınıfta kaç öğrenci vardır?																			
---	--	--	--	--	--	--	--	--	--	--	--	--	--	--	--	--	--	--	--	--

5	Ağaçta 14 kuş vardı. 5 tanesi uçtu. Sonra 3 tanesi geri geldi? Ağaçta kaç kuş olur?																			
---	---	--	--	--	--	--	--	--	--	--	--	--	--	--	--	--	--	--	--	--

10	Sabah 7, öğlen 9, akşam 5 fındık yedim. Bir günde kaç tane fındık yemiş oldum?																			
----	--	--	--	--	--	--	--	--	--	--	--	--	--	--	--	--	--	--	--	--

KARIŞIK PROBLEMLER -14-

👉 Aşağıdaki problemleri işlem yaparak çözünüz.

1	8 misketin 7 fazlasının 5 eksiği kaç misket eder?								
---	---	--	--	--	--	--	--	--	--

6	Emin 18 lirası ile önce 3 liralık tost, sonra da 2 liralık gofret alıyor. Emin'in geriye kaç lirası kaldı?								
---	--	--	--	--	--	--	--	--	--

2	Melisa 13 tokasının 8 tanesini arkadaşlarına verdi. Melisa'nın kaç tokası kalır?								
---	--	--	--	--	--	--	--	--	--

7	Bekir günde 4 sayfa kitap okuyor. 3 günde toplam okuduğu sayfa sayısı kaçtır?								
---	---	--	--	--	--	--	--	--	--

3	1 onluk 6 birlikten oluşan sayının 4 fazlası kaçtır?								
---	--	--	--	--	--	--	--	--	--

8	Ekin'in yirmi cevizi vardı. Altı tanesini annesine verdi. Ekin'in kaç cevizi kaldı?								
---	---	--	--	--	--	--	--	--	--

4	Görkem ile babası balık tutmaya gitmişler. Görkem 9, babası 14 balık tutmuş, toplam kaç balık tutmuşlar?								
---	--	--	--	--	--	--	--	--	--

9	On dört sayısının beş fazlası kaçtır?								
---	---------------------------------------	--	--	--	--	--	--	--	--

5	Bir saksıda 14 tane menekşe var. Menekşelerden 7 tanesi soldu. Geriye canlı kaç menekşe kaldı?								
---	--	--	--	--	--	--	--	--	--

10	Otobüsteki on dört yolcudan üç tanesi inerse kaç yolcu kalır?								
----	---	--	--	--	--	--	--	--	--

$① \square + 9 = 11$

$② \square + 3 = 10$

$③ 5 + \square = 11$

$④ 5 + \square = 12$

$⑤ \square + 9 = 16$

$⑥ 4 + \square = 10$

$⑦ \square + 11 = 20$

$⑧ \square + 4 = 13$

$⑨ 9 + \square = 16$

$⑩ 8 + \square = 12$

$⑪ 8 + \square = 15$

$⑫ 9 + \square = 11$

$⑬ 9 + \square = 23$

$⑭ 4 + \square = 16$

$⑮ \square + 6 = 15$

$⑯ 7 + \square = 13$

$⑰ 6 + \square = 14$

$⑱ \square + 15 = 24$

$⑲ 4 + \square = 13$

$⑳ \square + 13 = 18$

$㉑ \square + 7 = 13$

$㉒ 4 + \square = 12$

$㉓ \square + 12 = 20$

$㉔ \square + 13 = 21$

$㉕ \square + 9 = 12$

$㉖ 8 + \square = 11$

$㉗ 3 + \square = 13$

$㉘ \square + 11 = 16$

$㉙ \square + 12 = 19$

$㉚ 5 + \square = 14$

$㉛ \square + 14 = 17$

$㉜ \square + 10 = 17$

$㉝ 8 + \square = 23$

$㉞ \square + 12 = 17$

$㉟ \square + 9 = 18$

$㊱ \square + 14 = 18$

$㊲ 2 + \square = 14$

$㊳ \square + 14 = 16$

$㊴ 4 + \square = 19$

$㊵ 3 + \square = 18$

$㊶ 1 + \square = 11$

$㊷ \square + 14 = 20$

$㊸ \square + 4 = 10$

$㊹ 2 + \square = 12$

$① \square + 5 = 13$

$② 5 + \square = 13$

$③ \square + 10 = 15$

$④ 3 + \square = 10$

$⑤ \square + 3 = 10$

$⑥ 6 + \square = 15$

$⑦ 2 + \square = 13$

$⑧ \square + 4 = 10$

$⑨ 5 + \square = 19$

$⑩ \square + 15 = 24$

$⑪ \square + 10 = 12$

$⑫ \square + 10 = 17$

$⑬ \square + 13 = 15$

$⑭ \square + 9 = 10$

$⑮ \square + 13 = 19$

$⑯ \square + 9 = 11$

$⑰ 7 + \square = 19$

$⑱ 6 + \square = 16$

$⑲ 4 + \square = 18$

$⑳ \square + 7 = 15$

$㉑ 2 + \square = 10$

$㉒ 6 + \square = 21$

$㉓ 7 + \square = 12$

$㉔ 8 + \square = 17$

$㉕ \square + 10 = 14$

$㉖ \square + 10 = 13$

$㉗ 9 + \square = 21$

$㉘ 5 + \square = 17$

$㉙ \square + 5 = 11$

$㉚ \square + 11 = 16$

$㉛ \square + 14 = 22$

$㉜ 4 + \square = 11$

$㉝ 6 + \square = 20$

$㉞ \square + 2 = 10$

$㉟ 7 + \square = 11$

$㊱ 8 + \square = 11$

$㊲ \square + 1 = 10$

$㊳ 6 + \square = 18$

$㊴ 9 + \square = 20$

$㊵ 3 + \square = 11$


$㊶ \square + 6 = 13$

$㊷ 6 + \square = 13$

$㊸ \square + 8 = 16$

$㊹ 5 + \square = 12$


Meraklı Mert
sizler için araştırıyor.
Merak edilen pek çok
konu açıklığa
kavuşuyor.



Adım-Soyadım:




Tırtıl Kelebeğe **NASIL** dönüşür?



Tırtıl küçük bir yumurtadan çıkar. Ana besin kaynağı yapraktır. Tırtıl büyüdüğünde, taze fasülyeye benzeyen komik bir şekil alır. Buna krizalit denir. Bir kaç gün sonra krizalit yırtılır. İçinden olağanüstü güzellikte bir kelebek çıkar.

Yetişkin kelebeklerin ömrü, türüne bağlı olmak üzere 1 hafta ile 1 yıl arasında değişebilir.



1 - Tırtıl nereden çıkıyormuş?

2- Tırtıl büyüdüğünde neye benziyormuş?

3- Tırtılın komik olan şekline ne deniyormuş?


4- Krizalitin içinden ne çıkıyormuş?



Yukarıdaki resmi inceleyelim.
Sonrasında aşağıdaki yönergelere göre,
çocukları numaralandıralım ve soruları cevaplayalım.

- 1 Mina bisiklet sürüyor ve çok mutlu.
- 2 Zeynep yerde oturmuş ve kendisine kumdan kale yapıyor.
- 3 Melike salıncakta neşe içinde sallanıyor.
- 4 Özge'nin elinde 3 tane balon var.
- 5 Özge'nin hemen yanındaki gözlüklü çocuğun adı Müslüm.
- 6 Efe kaydıraktan kayıyor.
- 7 Damla tahteravalliye binmiş ve bize göz kırpmıyor.
- 8 Ecrin de tahteravalliye binmiş ve çok eğleniyor.

Okuduğunuz yönergelere göre çocukların isimlerini yazınız.



1) Bisiklet süren çocuğun adı nedir?

a) melike

b) Zeynep

c) mina

2) Parkta oynayan kaç tane erkek çocuk vardır?

a) 2

b) 6

c) 8

3) Özge'nin elinde kaç tane balon var?

a) 1

b) 2

c) 3

4) Parkta gözlük kullanan kız çocuğunun adı nedir?

a) Ecrin

b) melike

c) Özge

5) Parkta toplam kaç tane çocuk vardır?

a) 8

b) 7

c) 6

Adı-Soyadı:.....



Yukarıdaki resmi inceleyelim.
Sonrasında aşağıdaki yönergelere göre,
çocukları numaralandıralım ve soruları cevaplayalım.

- 1 Ayla arkadaşlarına yeni kitaplar getiriyor.
- 2 Alperen ağacın en tepesinde kitap okuyor.
- 3 Elif internetten araştırma yapıyor.
- 4 Belinay salıncakta oturmuş en sevdiği kitabını okuyor.
- 5 Melih yerde ağaca yaslanmış kitap okuyor.
- 6 Belinay'ın tam üstünde kitap okuyan çocuğun adı Erdem.
- 7 Cafer ise ağacın kovuğunda matematik ödevini yapıyor.

Okuduđunuz yönergelere göre çocukların isimlerini yazınız.



1) Matematik ödevini yapan çocuđun adı nedir?

a) Erdem

b) Cafer

c) Alperen

2) Resimde kaç tane çocuk vardır?

a) 5

b) 6

c) 7

3) Ayla'nın elinde kaç tane kitap var?

a) 4

b) 3

c) 2

4) Resimde şapka takan çocuđun adı nedir?

a) Elif

b) Cafer

c) Belinay

5) Resimde gözlük kullanan çocuđun adı nedir?

a) Melih

b) Alperen

c) Elif

Adı-Soyadı:.....



Aras ve Ailesi

Adım Aras. İkiz kardeşimin adı ise Alya'dır. Güney adında bir de küçük kardeşimiz daha doğdu. Çok sevimliydi. Beş kişilik mutlu bir aile olduk. Bir gün annem: "Bugün sağlık ocağına gideceğiz." dedi. Güney'in aşı olması gerekiyormuş. Hemen giyinip sağlık ocağına gittik. Bizi güler yüzlü bir hemşire karşıladı. Güney'e aşı yaptı. Aşı olurken Güney biraz ağladı ama uzun sürmedi. Güney'in sağlıklı olması için aşı olması şarttı. Babam kucağına alınca hemen gülümsemeye başladı.

1- Aras'ın kardeşlerinin isimleri nelerdir?

2- Aras ve ailesi nereye gitmişler?

3- Güney neden ağlamış?

4- Güney ne zaman gülümsemeye başlamış?



Aras ve ailesi o gün sađlık ocađında bir fotođraf ektirdiler. Ancak bir hata sonucunda fotođraf siyah beyaz ıktı. Fotođrafı renklendirmemizde bize yardımcı olur musunuz?

Aras o gn kahverengi ayakkabılarını giymiřti. zerinde sarı bir sort ve mavi bir tiřort vardı. Aras'ın siyah saları olduđunu da unutmayalım.

Alya ise yeřil elbisesini giymiřti. Ayakkabıları ve tokası pembe renkti. Alya'nın sapsarı saları vardı.

Annesinin saları Alya ile aynı renkti. O gn annesi kırmızı ceketini ve eteđini giymiřti. Ayakkabıları ise siyahtı.

Aras'ın babası mavi bir pantolon ile turuncu bir kazak giymiřti. Ayakkabıları kahverengiydi. Gney'in tm kıyafetleri sarı renkti.

Hemřire Hanım bembeyaz giyinmiřti. Yalnızca kepindeki hilal kırmızı renkti. Saları ve ayakkabıları siyah renkti.

Aşağıdaki kelimelerin zıt anlamlılarını örnekteki gibi bulmacadan bulalım.


Hızlı	Evli	Eksi	Gece	Eski
Aşağı	Kalın	Erken	Tembel	Temiz
Siyah	Korkak	Dolu	Dost	Kapalı
Genç	Bayat	Sabah	Ucuz	Son
Alt	Sıcak	Önce	Var	Giriş

X	U	C	İ	K	G	E	Ç	L	İ	L	K	H	S	O	Ğ	U	K	B	İ
Q	D	E	Y	A	Ş	L	İ	İ	V	D	İ	C	D	E	İ	N	C	E	C
K	T	S	U	L	D	F	L	J	Y	Z	X	A	U	Y	O	K	A	D	L
Q	R	U	L	H	Y	J	P	V	Q	A	R	S	A	R	T	İ	Ç	Ü	W
Q	P	R	C	O	U	T	A	R	Y	T	A	Z	E	L	P	H	İ	Ş	T
E	M	Q	D	Z	K	B	H	J	B	K	P	İ	W	F	L	X	K	M	U
T	J	Y	A	V	A	Ş	A	M	K	B	B	P	N	B	O	Ş	P	A	İ
G	V	Ç	F	İ	R	Y	L	P	F	D	X	S	O	N	R	A	N	N	Z
Ü	R	İ	G	V	İ	O	İ	Q	Q	İ	G	H	T	X	D	V	W	F	C
N	C	K	X	R	D	B	E	K	A	R	W	D	N	Q	G	E	S	L	Z
D	D	İ	S	İ	Y	Y	D	N	N	Y	Y	T	K	T	İ	F	W	L	R
Ü	J	Ş	Ü	S	T	M	T	N	C	E	G	F	J	B	E	Y	A	Z	C
Z	Ç	A	L	İ	Ş	K	A	N	N	N	S	F	H	A	K	Ş	A	M	M
Y	W	H	E	A	O	E	X	T	R	İ	O	E	E	H	J	N	Y	R	F
O	U	G	S	M	K	İ	R	L	İ	A	M	D	O	V	P	V	İ	Q	G
M	W	B	A	V	W	N	M	S	B	Y	Y	C	Y	Z	P	P	B	Z	S



$$1 + 2 + 3 + 1 = \square$$

BAHAR YAĞMURLARI



2 = kahverengi




4 = kırmızı

6 = mavi

7 = yeşil

10 = sarı

Kelebek





O sabah güneş sapsarı ışıklarını etrafa neşeye yayıyordu. Açık mavi bulutlar ise gökyüzünü süslüyorlardı. Elvin, Doruk ve Doruk'un kardeşi Burak koşu yarışına karar verdiler.

Spor yapmak için en uygun kıyafetlerini seçip, okullarının yakınındaki parka geldiler. Parktaki koşu parkuru yarış yapmak için en uygun yerdi. Koşu parkurunun kenarlarında rengarenk çiçekler vardı. Elvin koştuğunda sarı saçları sağa sola sallanıyordu. Elvin'in pembe, Doruk'un mavi, Burak'ın ise kırmızı şortu vardı. Doruk'un tişörtü şortu ile aynı renkteydi. Elvin'in sarı renkli tişörtü vardı. Doruk'un tişörtü de şortu ile aynı renkteydi. Burak ve Doruk'un ayakkabıları siyah, Elvin'in ise pembe renkti.

Burak ile abisinin saçları kahverengiydi. Yaptıkları koşu yarışını az bir farkla Elvin kazandı. Doruk ikinci, Burak ise üçüncü sırada yarışmayı tamamladı. Çok eğlenmişlerdi. Doruk tekrar yarışmak istedi. Biraz dinlendiler. Daha sonra tekrar yarışmak için yerlerini aldılar.

SORULAR

1- Koşu yarışması yapan çocukların isimleri nelerdir?

2- Çocuklar ne yapmaya karar vermişler?

3- Sarı saçlı olan çocuğun adı nedir?

- a. Elvin
- b. Burak
- c. Doruk

4- Kardeş olan çocuklar hangileridir?

- a. Doruk ve Burak
- b. Doruk ve Elvin
- c. Elvin ve Burak

5- Koşu yarışmasını kim kazanmıştır?

- a. Elvin
- b. Burak
- c. Doruk

6- Tişörtü ve şortu aynı renkte olan çocuk aşağıdakilerden hangisidir?

- a. Elvin
- b. Burak
- c. Doruk


7- Bir daha yarışmak isteyen çocuk aşağıdakilerden hangisidir?

- a. Elvin
- b. Burak
- c. Doruk

8- Gökyüzündeki bulutların sayısının 5 fazlası kaç olur?

- a. 5
- b. 6
- c. 11

OKU VE RENKLENDİR



İşte bizim sınıfımız. Ne kadar güzel görünüyor değil mi? Sınıfımızın ön sıralarında, en sağda Merve vardır. Merve siyah saçlarına kırmızı tokalar takar. Merve'nin tokaları ile ayakkabıları aynı renktedir. Merve'nin hemen yanında Deniz oturuyor. Deniz'in saçları kahverengidir. En solda ise Melih var. Melih ile Deniz'in saçları aynı renktedir. Deniz'in ayakkabıları siyah, Melih'in ayakkabıları ise mavi renklidir.

Arka sırada sağ tarafta Sami oturuyor. Sami sınıfımızın en esmer öğrencisidir. Sami'nin simsiyah saçları ve zeytin gibi gözleri var. Sami'nin ayakkabıları beyazdır. Sami'nin hemen yanında ise Belinay var. Belinay bizim sınıfımızın başkanı. Belinay sarı saçlıdır. Ayakkabıları ise pembe. Erkek öğrencilerin kıyafetleri mavi, kız öğrencilerin kıyafetleri ise sarı renklidir.

Sınıfımızın arka tarafında öğretmenimizin kahverengi dolabı var. Kitaplığımız da dolap ile aynı renkte. Kitaplıkta rengarenk kitaplar var. Çiçeğimiz yemyeşil. Duvarda asılı saat gri, panolar ise turuncu renklidir.

SORULAR

1- Aşağıdaki çocukların isimlerini altlarına yazınız.



2- Siyah saçlı olan çocuğun adı nedir?

- a. Deniz
- b. Melih
- c. Sami

3- Sınıf başkanının adı nedir?

- a. Belinay
- b. Merve
- c. Deniz

4- Arka sırada oturan erkek öğrencinin adı nedir?

- a. Deniz
- b. Melih
- c. Sami

5- Aşağıdaki bulmacanın içinden sadece sınıftaki öğrencilerin isimlerini bulup boyayınız.

H	U	T	F	Q	E	K	C
B	E	L	i	N	A	Y	P
E	R	K	A	N	L	M	N
H	W	D	E	N	i	Z	E
X	U	N	i	J	F	P	R
N	N	C	P	K	V	A	M
O	O	O	Y	m	S	m	i
L	W	B	W	E	Z	P	N
N	m	S	S	R	L	Z	E
P	E	A	D	V	L	S	Z
A	L	m	H	E	R	L	D
Y	i	i	O	Z	E	U	R
Ş	H	D	V	V	F	D	V
E	N	A	m	U	E	U	K

Okuyorum, Çiziyorum, Boyuyorum




Aşağıdaki yönergeleri okuyunuz.

Okuduğunuz yönergelere göre yukarıdaki resmi tamamlayınız.

Eyvah, yangın var! Mahalledeki herkes korkuyla yangını izliyor. Şükürler olsun ki evin içindeki herkes dışarı çıkmayı başardı. Evin yakınında bir ambulans var. Evin yakınında iki tane itfaiye aracı var. Yangını söndürmeye çalışıyorlar. İki tane itfaiyeci büyük hortumlarla yangına su tutuyor. Bir itfaiyeci de itfaiye aracının üzerindeki merdivene çıkmış ve evin çatısına su tutuyor. Tüm itfaiyecilerin koruyucu kıyafetleri ve kaskları var. Yanan evden kalın siyah dumanlar yükseliyor.

Yanan evden çıkmayı başarmış olan üç kişi ambulansın hemen önünde bekliyorlar. Görevliler bu üç kişinin üzerine kahverengi battaniye vermişler.


Meraklı Mert
sizler için araştırıyor.
Merak edilen pek çok
konu açıklığa
kavuşuyor.



Adım-Soyadım:

.....

Ay **NEDEN** Sürekli Şekil Değiştirir?



Ay şekil değiştirmez. Sadece yer değiştirir. Aslında ay bizim etrafımızda döner. Bu şekilde biz ayı konumuna göre farklı şekillerde görürüz. Bazen yandaki gibi hilâl şeklinde, bazen de yusuvarlak yani dolunay olarak görürüz.

Ayın yüzeyinde bazı delikler vardır. Bu deliklere krater deriz. Ayın dünya gibi kendisini koruyan atmosferi yoktur. Bu yüzden uzayda dolaşan taşlar Ayın yüzeyinde delikler açar.

1- Ayı neden farklı şekillerde görmüşüz?

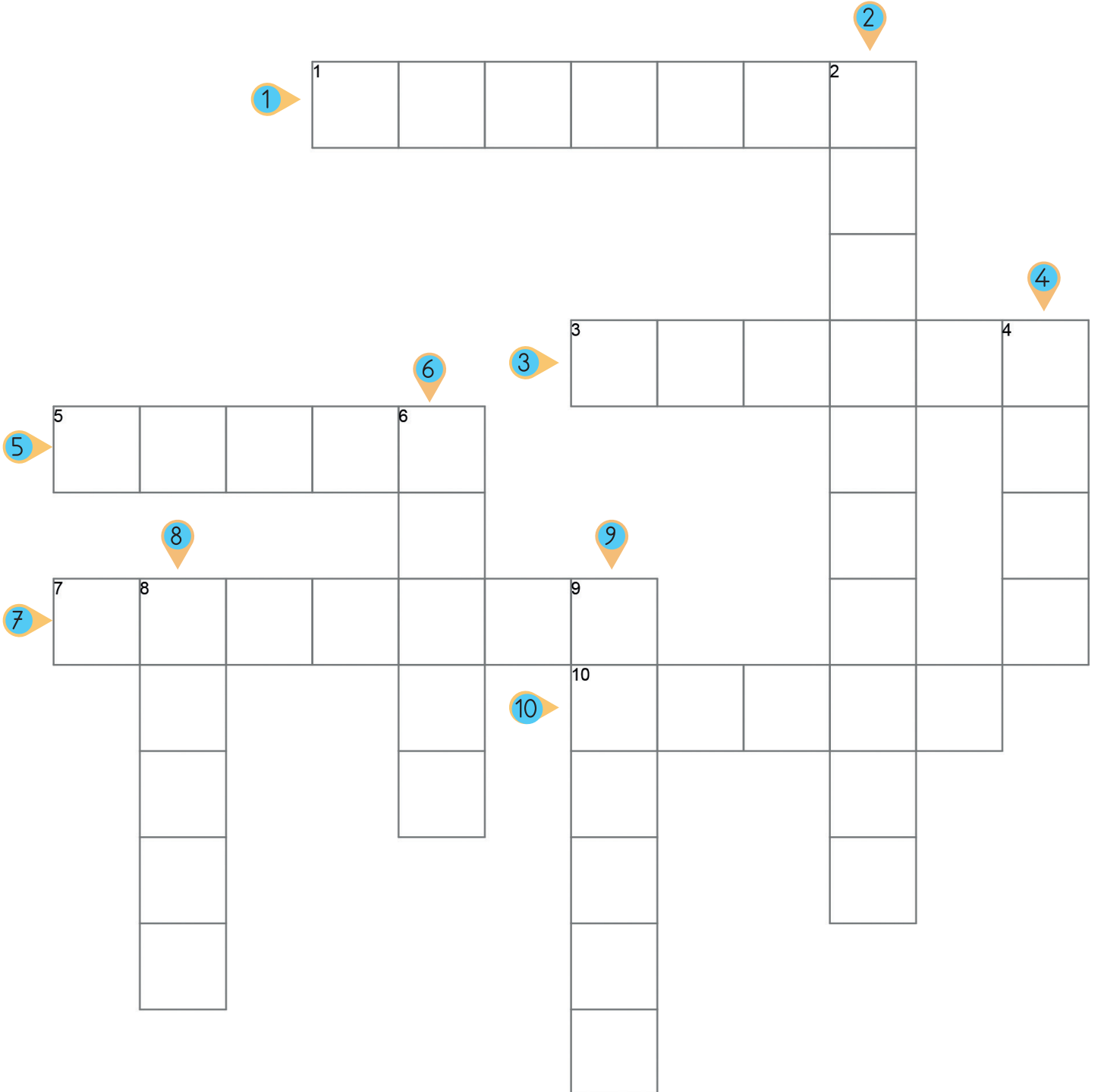




2- Ayın yusuvarlak haline ne deriz?

3- Ayın yüzeyindeki deliklere ne denirmiş?


4- Bayrağımızdaki Ayın şekline ne deriz?

BULMACA ÇÖZELİM

● Aşağıdaki hayvanların isimlerini bulmacaya yerleştiriniz.



● 1'den başlayarak noktaları birleştir. Sonra resmi istediğin renklerle boyayabilirsin.




KANGURU İLE KURBAĞA

Virak virak virak,
Seslendi kasılarak,
Kanguruya kurbağa .
Var mısın benimle dedi,
Sıçrama yarışına.
Varım dedi kanguru.

Bu büyük yarışmada,
Hakem oldu kaplumbağa.
Düdüğünü çalar çalmaz,
Başladılar sıçramaya.
Kanguruyu geçmek için,
Kazanmak için yarış,
Bacağını kırdı kurbağa.

Düdüğünü çaldı hakem,
Alkışlar arasında.
Kanguru birinci geldi.
Hastaneye kaldırıldı,
Kasılgan kurbağa.

Ali YÜCE





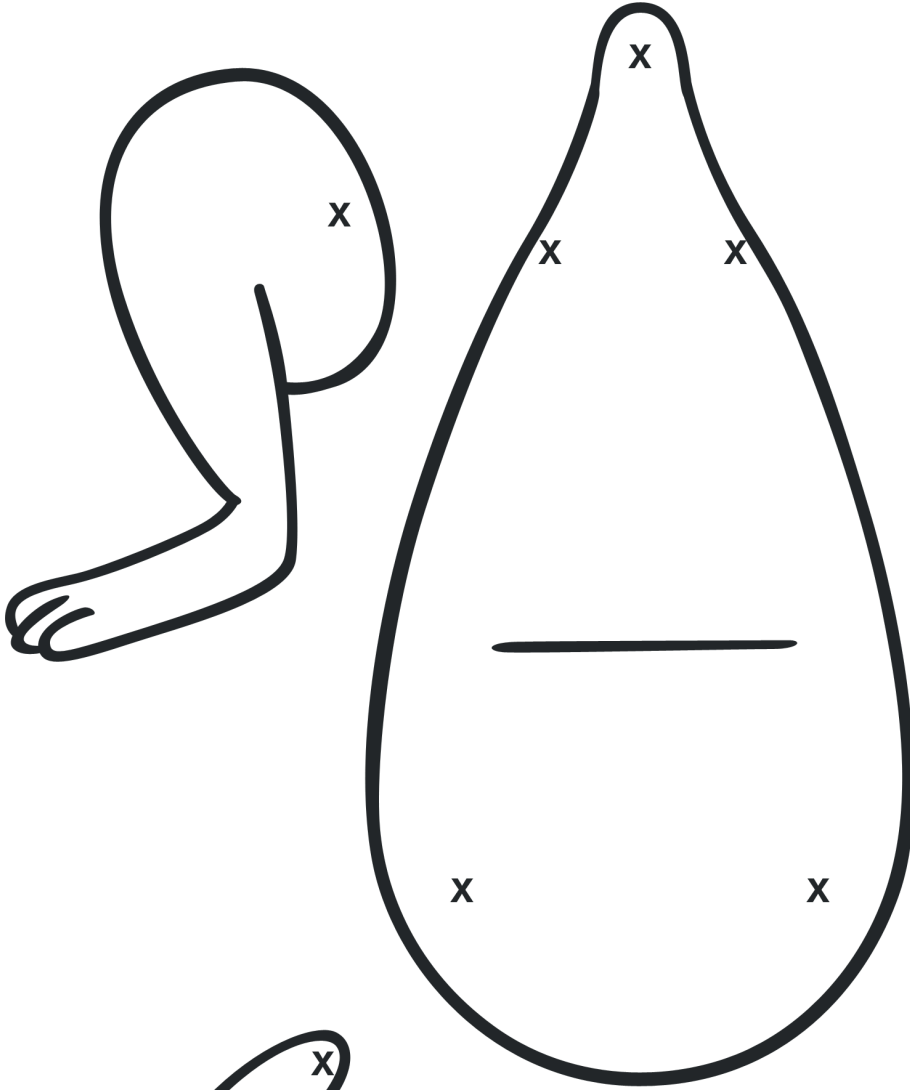

1- Hangi hayvanlar sıçrama yarışını yapmışlar?

2- Yapılan yarışta hangi hayvan hakem olmuş?

3- Kanguruyu geçmek isteyen kurbağanın başına ne gelmiş?


4- Yarışta hangi hayvan kazanmış?

KANGURU YAPIYORUZ



KİM KİMDİR?

- Aşağıdaki yönergelere göre görseldeki kişilerin yanındaki alanlara doğru numaraları yazınız.



- 1- Emre ağacın en tepesine çıkmış. İki eli ile dallara tutunuyor.
- 2- Ali, köpeği Fındık'ı gezdiriyor.
- 3- Ayşe Hanım, torunu Selma'ya Kırmızı Başlıklı kız masalını okuyor.
- 4- Tarık, bankın hemen arkasında Selma Hanım'ın okuduğu masalı ilgiyle dinliyor.
- 5- Mine ile Emre ikiz kardeşler. Mine, kardeşi Emre gibi ağaca çıkmış.
- 6- Ali ile Fındık'ın hemen önündeki kızın adı ise Lale.

● Aşağıdaki çocukların isimlerini altlarına yazınız.



● Aşağıdaki soruları yanıtlayınız.

1- Ağaçtaki çocukların isimleri nelerdir?

2- Masal dinleyen çocukların isimleri nelerdir?

3- Köpeğini gezdiren çocuğun adı nedir?

4- Resimde kaç kişi vardır?

TÜRKİYE



Ülkemizin adı Türkiye Cumhuriyeti'dir. Başkentimiz Ankara'dır. Ülkemizin bayrağının rengi kırmızı beyazdır. Bayrağımızın üzerinde ay ile yıldız vardır. Ülkemizin kurucusu ve ilk cumhurbaşkanımız Mustafa Kemal Atatürktür.

Milli marşımız, İstiklâl Marşı'dır. İstiklâl Marşının şairi Mehmet Akif Ersoy'dur. Ülkemizde 81 tane şehir vardır. Şehir sözcüğü yerine il sözcüğünü de kullanabiliriz. Çünkü bu iki sözcük eş anlamlıdır.

● Aşağıdaki bilgiler doğru ise "D", yanlış ise "Y" yazınız.

- Ülkemizin adı Türkiye Cumhuriyeti'dir.
- Ülkemizin başkenti İstanbul'dur.
- Bayrağımızın rengi kırmızı ve beyazdır.
- İstiklâl Marşını Mustafa Kemal Atatürk yazmıştır.

ATATÜRK

Atatürk bin sekiz yüz seksen bir yılında Selanik'te dünyaya gelmiştir. Annesinin adı Zübeyde Hanım, babasının adı Ali Rıza Efendi'dir. Atatürk ilkokuldan sonra askeri okullara gitmiştir. Çok başarılı bir asker olmuştur.

Kurtuluş Savaşı'nı başlatmıştır. Yurdumuzu düşmanlardan kurtarmıştır. Yurdumuz için pek çok yenilikler yapmıştır.

10 Kasım bin dokuz yüz otuz sekizde Dolmabahçe Sarayı'nda hayatını kaybetmiştir. Mezarı Anıtkabir'dedir. Anıtkabir başkentimiz Ankara'dadır.



● Aşağıdaki soruları metne göre yanıtlayınız.

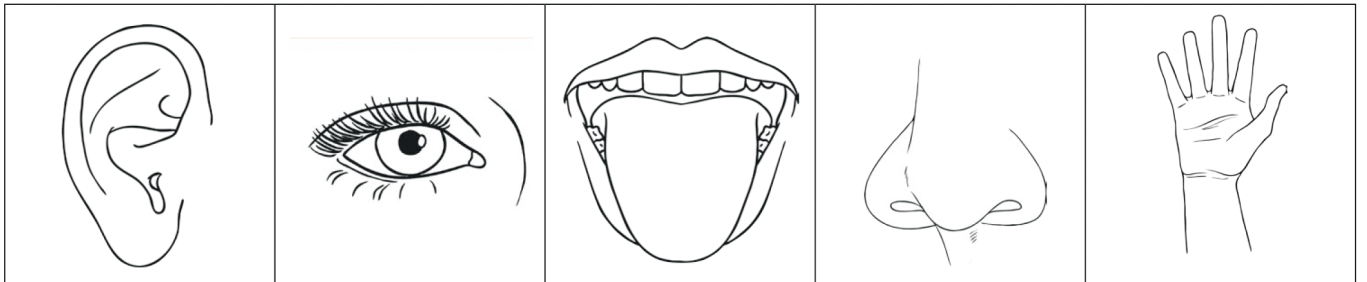


1- Atatürk nerede doğmuştur?

2- Atatürk'ün annesinin ve babasının isimleri nelerdir?

3- Atatürk ne zaman hayatını kaybetmiştir?

4- Anıtkabir hangi şehirdedir?

- Aşağıdaki duyu organlarını kesip uygun olan çocukların altındaki alanlara yapıştırınız.



● Aşağıdaki işlemleri yapınız. Bulduğunuz cevapları bulmacanın içinden bulup boyayınız.

$16 + 9 = \dots\dots$

$11 + 6 = \dots\dots$

$19 - 10 = \dots\dots$

$8 + 8 = \dots\dots$

$14 + 8 = \dots\dots$

$10 + 4 = \dots\dots$

$18 + 1 = \dots\dots$

$10 + 10 = \dots\dots$

$13 - 5 = \dots\dots$

$16 - 11 = \dots\dots$

$18 - 7 = \dots\dots$

$4 + 8 = \dots\dots$

O	D	R	O	W	W	O	N	Y	E	D	i	A	H	R	D
N	O	U	N	X	K	O	N	D	Ö	R	T	E	F	Q	V
A	K	H	D	S	Z	Y	E	W	O	E	Y	i	R	m	i
L	U	S	O	D	O	J	E	N	N	S	T	C	B	Y	O
T	Z	R	K	U	N	W	R	T	i	A	P	O	U	i	T
I	V	R	U	G	B	R	T	C	K	C	J	U	m	R	J
K	R	N	Z	Y	i	S	m	W	i	T	Z	J	S	m	V
W	m	L	T	D	R	O	R	J	J	J	C	J	A	i	W



G	S	E	K	i	Z	B	B
K	C	W	K	E	i	E	E
D	X	V	U	L	J	Ş	Ş
L	m	E	Q	O	N	R	H
m	E	G	N	G	U	F	S
Z	A	N	i	X	m	L	m
J	F	U	N	Z	V	D	Q
Y	i	R	m	i	i	K	i




İrem ile ailesi bir pazar sabahı gezmeye çıkmışlardı. Havalar ısınmaya başlamıştır. İrem en sevdiği pembe elbisesini giymişti. Saçlarına taktığı tokalar da kıyafeti ile aynı renktedir. İrem'in hemen yanında annesi Yasemin Hanım vardı. Yasemin Hanım sarı saçlarına en çok yakışan kırmızı elbisesini giymişti. İrem'in babası Ayhan Bey mavi tişörtünün altına siyah pantolonunu giymişti. Ayhan Bey'in hemen yanında İrem'in sevimli mi sevimli kardeşi Onur vardı. Onur'un üzerinde yeşil tişörtü, altında ise turuncu pantolonu vardı. Ayhan Bey o gün Onur'a kırmızı bir balon almıştı. Balon kalp şeklindeydi.

İrem ile Onur arasında minik köpekleri Biber vardı. Biber'in kahverengi ve yumuşacık tüyleri vardı. Güneş sapsarı ve tüm parlaklığı ile insanları ısıtıyordu.

SORULAR

A- Aşağıdaki görsellerdeki kişilerin isimlerini altlarına yazınız.



B- Aşağıdaki görsellerdeki kişilerin isimlerini altlarına yazınız.

1- Yasemin ve ailesi hangi gün gezmeye çıkmışlardır?

- a. Pazar
- b. Salı
- c. Cuma


2- İrem'in kıyafetleri hangi renktir?

- a. Mavi
- b. Pembe
- c. Kırmızı

3- İrem'in köpeğinin adı neymiş?

- a. Fındık
- b. Biber
- c. Bıdır

B- Biber'in kemiğe ulaşmasını sağ-
lar mısınız?



SAHİLDE 1 GÜN

- Aşağıdaki yönergelere göre görseldeki kişilerin yanındaki alanlara doğru numaraları yazınız.



- 1- Betül sahilde kumdan kale yapmakla meşgul.
- 2- Ahmet ise güneş gözlüklerini takmış. Sahilde güzel bir uyku çekiyor.
- 3- Berna en sevdiği kitabı okuyor.
- 4- Mert denize doğru koşuyor. Sanırım iyi bir atlayış yapacak.
- 5- Burak yüzmeyi çok seviyor. Şu anda denizdeki tek çocuk o.



- Aşağıdaki çocukların isimlerini altlarına yazınız.



● Aşağıdaki resmi dikkatlice inceleyiniz. Verilen görselleri resmin içinden bulup boyayınız.



- Aşağıdaki iki resim arasındaki 6 farkı bulup işaretleyiniz.



- Aşağıdaki ağaçlarla ait oldukları mevsimlerin isimlerini eşleştiriniz. Görselleri mevsimlere uygun bir biçimde boyayınız.



sonbahar

yaz

kış

ilkbahar



● Aşağıda verilen işlemlerle sonuçlarını örnekteki gibi aynı renge boyayınız.

$12 + 4$

$16 - 5$

2

$15 - 3$

20

10

$15 - 9$

$12 + 7$

19

16

18

12

11

$9 - 7$

$6 + 8$

$10 + 10$

$3 + 5$


8

6


$14 + 4$

14

$5 + 5$



KOALA YAPIYORUZ!

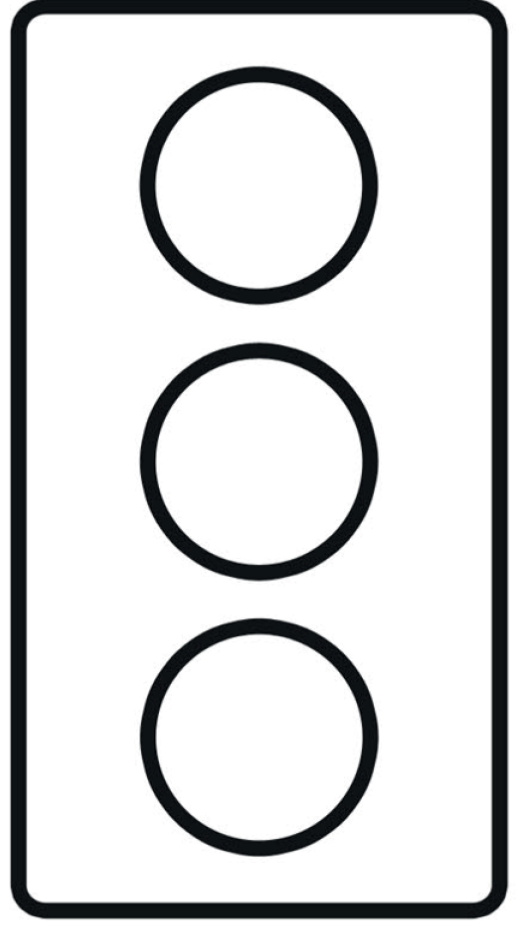


TRAFİK HAFTASI

Kurallara uyalım,
Kaza yapmayalım.
Trafğe çıkmadan önce,
Emniyet kemeri takalım.

Kurallara uyalım
Dikkatli olalım.
12 yaşını doldurmadan,
Ön koltuğa oturmayalım.


Kurallar bizim için.
Uygulamak zor değil.
Mutlu olmak için,
Kurallara uyalım.





1- Trafğe çıkmadan önce ne yapmalıymışız?

2- 12 yaşından önce ne yapmamalıymışız?

3- Trafik ışıklarında hangi renkler vardır? Yazdığın renkleri kullanarak üstteki resmi boyar mısın?







Adahan ile Atahan bu sabah çok mutlu uyanmışlardı. Çünkü abları Defne'nin 23 Nisan gösterisini izlemeye gideceklerdi. Defne bu yıl 1. sınıfa başlamıştı. O da bugün için çok heyecanlıydı.

23 Nisan Bin Dokuz Yüz Yirmi günü Mustafa Kemal Paşa ve arkadaşları Türkiye Büyük Millet Meclisi'ni açmışlardı. Atatürk bu özel günü çocuklara armağan etti. Bugün çocukların bayramıydı.

23 Nisan sabahı erkenden uyanıdılar. Ailece kahvaltılarını yaptılar. En güzel kıyafetlerini giydiler. Gösteri saat 1 0:00'da başlayacaktı. Sonunda Defne sahnede idi. Adahan ve Atahan ablarıyla gurur duydular. Çok yaşa 23 Nisan. Teşekkürler Atatürk.


1 - Gösteriyi kim yapacaktı?

2- 23 Nisan günü Atatürk ne yapmış?

3- Gösteri ne zaman başlayacaktı?

4- Atatürk 23 Nisan'ı kime armağan etmiş?

23 Nisan Sabahı...



23 Nisan günü çok eğlenceli geçmişti. Okul bahçesi balonlar ve bayraklarla süslenmişti. Çocukların ellerinde üzerinde beyaz ay yıldız olan kırmızı balonlar vardı. Adahan'ın kıvrıkcık siyah saçları vardı. Üzerinde mavi bir gömlek ile kırmızı bir şort vardı. Defne'nin üzerindeki kıyafeti ve tokası turuncu renkti. Eteği ise saçları gibi sapsarıydı. Atahan'ın siyah saçları vardı. Üzerinde sarı bir güneş resmi olan kırmızı bir tişört vardı. Lacivert bir şort giymişti. Sibel'in kahverengi saçları vardı. Elbisesi ise mavi renkliydi. Orçun'un sarı saçları vardı. Yeşil tişörtü ve siyah bir şortu vardı. Nimet ise siyah saçlarını iki kırmızı toka ile bağlamıştı. Nimet bayram için en sevdiği mavi elbisesini giymişti.

Sapsarı olan güneş açık mavi bulutların arkasındaydı. Çocukların etrafında rengarenk kelebekler uçuşuyordu. Çocuklar neşe içinde şarkılar söylediler ve bayramlarını kutladılar.

Adı-Soyadı:.....

Önce kelimeleri tek tek okuyalım. Her kelimeyi bir defada doğru okuyana kadar okumaya devam edelim. Ardından şiiri en fazla 45 saniyede hecelemeden okuyalım. Çalışmayı tekrar edelim. 45 saniyede hecelemeden okuduysan çalışmayı bitirebilirsin.


Şiiri defterimize yazalım.

gelen bayram yükseldi ünümüz şerefli günümüz
bayrağı açalım törene teşekkür bugünleri harcanan

BİZİM BAYRAMIMIZ

Bu gelen bizim bayram
Yükseldi bak ünümüz.
23 Nisan bizim
En şerefli günümüz!

Al bayrağı açalım,
Gel gidelim törene.
Bin teşekkür, bizlere
Bugünleri verene...



Bizim için harcanan
Boşa gitmez bu emek,
Çünkü her Türk çocuğu
23 Nisan demek...



23 NISAN KUTLU OLSUN!

OTOBÜSÜN TEKERLEĞİ YUVARLAK

Otobüsün tekerleği yuvarlak, yuvarlak, yuvarlak.

Otobüsün tekerleği yuvarlak dönüyor.

Çocuklar otobüse bindiler, bindiler, bindiler.

Çocuklar otobüse bindiler, oturdular.

Otobüs zıpladı zıp zıp zıp, zıp zıp zıp, zıp zıp zıp.

Otobüs zıpladı zıp zıp zıp, zıııp zıp zıp zıııp.

Yağmur yağdı şıp şıp şıp, şıp şıp şıp, şıp şıp şıp.

Yağmur yağdı şıp şıp şıp, şıııp şıp şıp şıııp.

Korna çaldı düt düt düt, düt düt düt, düt düt düt.

Korna çaldı düt düt düt, düüüt düt düt düüüt.

Bebek ağladı vauv vau va, vauv vauv va, vauv vauv va.

Bebek ağladı vauv vauv va, vauuuv vauv vauv vauuuva.

Annesi bebeği salladı piş piş piş, piş piş piş.

Annesi bebeği salladı pııış piş piş pııış.

Paralar kutuya atıldı çin çin çin, çin çin çin.

Paralar kutuya atıldı, çiiin çin çin çiiin.

Otobüsün motoru bağırdı rın rın rın, rın rın rın.

Otobüsün motoru bağırdı riin rın rın riin.

Otobüsün kapısı açıldı, kapandı, açıldı.

Otobüsün kapısı kapandı ve açıldıııı.

Otobüsün tekerleği yuvarlak yuvarlak yuvarlak.

Otobüsün tekerleği yuvarlak dönüyor.

1- Otobüsün tekerleđi nasılmış?

2- Otobüse kimler binmiş?


3- Şıp şıp diye yağın neymiş?

4- Annesi bebeđi nasıl sallamış?


5- Düt düd diye çalan neymiş?

6- Otobüsün motoru nasıl bađırmış?

8- Aşađıdaki görsellerden hangisi okuduđunuz parçada geçiyorsa boyayınız.




OKU VE RENKLENDİR



- 1- Otobüsün sana göre sol taraftaki tekerleğini kırmızı renge boya.
- 2- Otobüsün sana göre sağ taraftaki tekerleğini mavi renge boya.
- 3- Otobüsün üst katındaki pencerelerin 2 tanesini yeşil renge, geriye kalanları turuncu renge boya.
- 4- Otobüsün alt katındaki pencerelerin 1 tanesini pembe renge, geriye kalanları mor renge boya.
- 5- Otobüsün üzerindeki ok işaretini gördün mü? İşte onun tam yanına en sevdiğin arkadaşının adını ve soyadını yaz.
- 6- Otobüsün geriye kalan kısmını sarı renge boya.

OKU VE RENKLENDİR



- 1- Çocukların koltuğunun önünde üzerindeki toplama işlemini yap. İşlem sonucu 10'dan büyükse o bölgeyi kırmızıya, 10'dan küçükse gri renge boya.
- 2- Sana göre en soldaki çocuğun saçlarını sarıya, kıyafetini maviye boya.
- 3- Ortadaki çocuğun saçlarını siyaha, kıyafetini kırmızıya boya.
- 4- Sana göre en sağdaki çocuğun saçlarını kahverengiye, kıyafetini pembeye boya.

Adı-Soyadı:.....

Aşağıdaki metni okuyup soruları cevaplayınız.

Merhaba, benim adım Birgül. Size annemi tanıtmak istiyorum. Benim annem bir polis. İşi gereği suçlularla mücadele ediyor. İstanbul'da görev yapıyor. Annemin ve onun polis arkadaşları sayesinde evlerimizde korkusuzca yaşayabiliyoruz.

Annemin bir telsizi var. Bu telsizle diğer polislerle konuşabiliyor. Bir düdüğü ve bir de kelepçesi var. Yakaladığı suçlulara kelepçe takıp onları polis karakoluna götürüyor.

Polislerimiz bizim rahat ve güvenli yaşayabilmemiz için çalışırlar.



1- Birgül'ün annesi ne iş yapıyormuş?

.....


2- Birgül'ün annesi hangi şehirde görev yapıyormuş?

.....

3- Birgül'ün annesi suçluları nereye götürüyormuş?

.....

4- Aşağıdaki eşyalardan hangisini Birgül'ün annesi kullanmaz?



5- Polisler aşağıdaki araçlardan hangisini kullanırlar?



Aşağıdaki toplama işlemlerini yapınız.

$$\begin{array}{r} 9 \\ + 8 \\ \hline \end{array}$$

.....

$$\begin{array}{r} 6 \\ + 5 \\ \hline \end{array}$$

.....

$$\begin{array}{r} 7 \\ + 0 \\ \hline \end{array}$$

.....

$$\begin{array}{r} 12 \\ + 5 \\ \hline \end{array}$$

.....

$$\begin{array}{r} 13 \\ + 6 \\ \hline \end{array}$$

.....

Aşağıdaki çıkarma işlemlerini yapınız.

$$\begin{array}{r} 12 \\ - 5 \\ \hline \end{array}$$

.....

$$\begin{array}{r} 18 \\ - 3 \\ \hline \end{array}$$

.....

$$\begin{array}{r} 15 \\ - 9 \\ \hline \end{array}$$

.....

$$\begin{array}{r} 9 \\ - 0 \\ \hline \end{array}$$

.....

$$\begin{array}{r} 16 \\ - 6 \\ \hline \end{array}$$

.....

Ayşe'nin 11 tane kalemi vardı. Annesi ona 8 kalem daha verirse Ayşe'nin kaç tane kalemi olur?

Bir sepette 13 tane yumurta vardı. 9 tanesi kırıldı. Geriye kırılmayan kaç yumurta kalmıştır?


Okulumuzu kim yönetir?

- Öğretmen
- Müdür
- Hizmetli

Bayrağımızın rengi aşağıdakilerden hangisidir?

- kırmızı - sarı
- siyah - beyaz
- kırmızı - beyaz

Meraklı Mert sizler için
araştırıyor.



Merak edilen pek çok konu
açıklığa kavuşuyor.

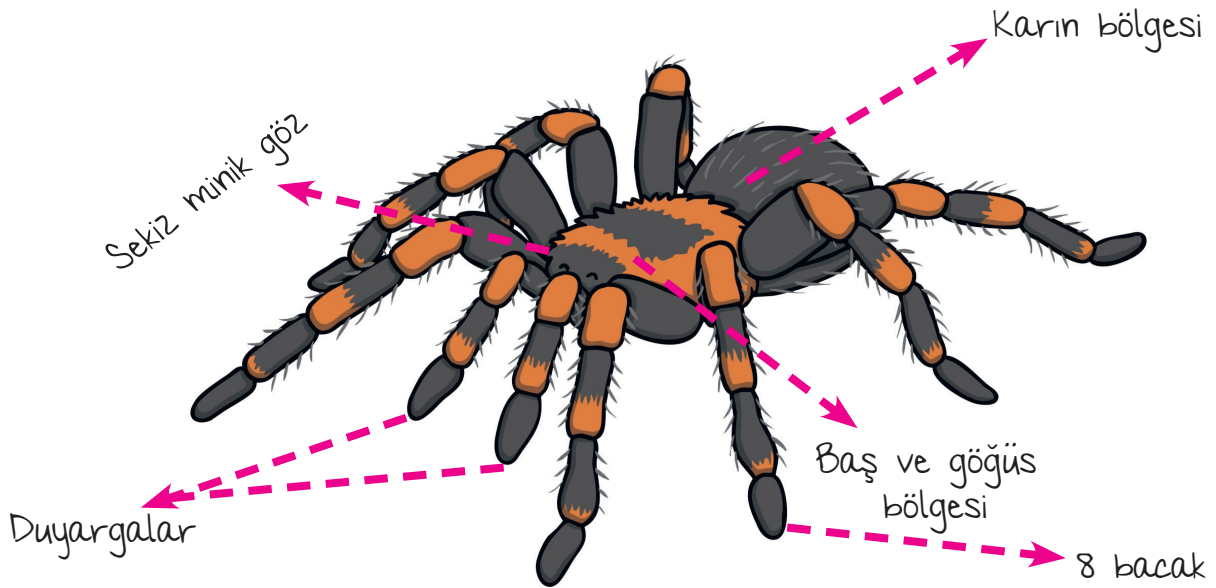
Tarantulalar Neden Tüylüdür?


Tarantulalar diğer örümcek türleri gibi 8 bacaklıdır. Tarantulaların sekiz yüz civarında tüyü vardır. Dünya üzerindeki en zehirli örümcek türlerinden birisidir.

Tüylü olmaları sayesinde duyu organlarını daha iyi kullanabilirler. Etraflarındaki dünyayı daha iyi hissedebilirler. Kendilerini tehlikelere karşı daha iyi koruyabilirler. Aslında bütün örümcekler tüylüdür ama tarantulalar en tüylü olanlarıdır.

Tarantulaların gözleri çok iyi görmez. Tüyleri sayesinde çevrelerinde olan bitenleri daha iyi algılayabilirler. Yuvalarının önünden geçen olası bir yemeği ya da yakınındaki bir tehlikeyi anında fark edebilirler.

Bir tarantula türü bacaklarındaki tüyleri birbirine sürterek ses çıkarır. Bu sayede düşmanlarını kaçırabilir. Bazı tarantula türleri de vücutlarındaki sivri tüyleri düşmanlarına batırır.





Soruları doğru
cevapla ve iyi bir
okur
olduğunu kanıtla!

1. Tarantulaların yaklaşık olarak kaç tane türü vardır?

- a. 8 b. 80 c. 800

2. Tarantulalarla ilgili verilen bilgilerden hangisi yanlıştır?

- a. Dünyadaki en zehirli örümcek türlerinden birisidir.
b. Tarantulalardan daha tüylü örümcek tüyleri vardır.
c. Tüyleri sayesinde tehlikelerden korunabilirler.

3. Okuduğunuz metne göre, tarantulanın bir türü düşmanlarını nasıl kaçırır?

- a. Düşmanının bacaklarını ısırarak
b. Tüylü bacaklarını birbirine sürterek
c. Düşmanlarını yuvalarının içine çekerek

3. Tarantulaların hangi organlarının sayıları birbirine eşittir?

- a. Bacakları ve duyargaları
b. Bacakları ve gözleri
c. Duyargaları ve gözleri

4. Tarantulaların hangi organları iyi çalışmaz-
 mış?


- a. Bacak
b. Göz
c. Duyarga

5. Aşağıda verilen sözcüklerin karşlarına eş anlamlılarını yazınız.

hayat	→
hediye	→
misafir	→
cevap	→
yolculuk	→
kara	→
kırmızı	→
sonbahar	→
talebe	→
uyarı	→
hatıra	→
armağan	→
doktor	→
sözcük	→
mekep	→
sıhhat	→
isim	→
beyaz	→
sene	→
ihtiyar	→

MINİK BİR ÖRÜMCEK

Minik bir örümcek çatıya tırmanmış.
Yağmur yağınca tekrar yere yuvarlanmış.
Güneş açtığında yeniden toparlanmış.
Minik bir örümcek çatıya tırmanmış.



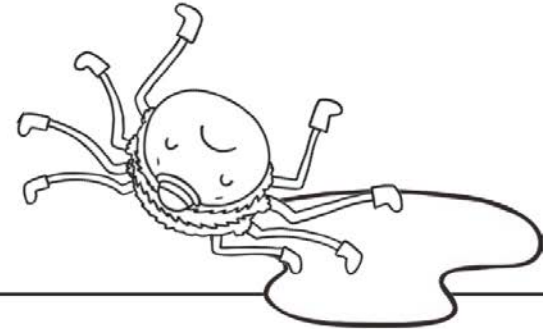
SORULARI YANITLAYALIM


1- Örümcek nereye tırmanıyormuş?


2- Örümcek ne zaman yuvarlanmış?

3- Örümcek ne zaman toparlanmış?


4- Güneş açınca örümcek ne yapmış?








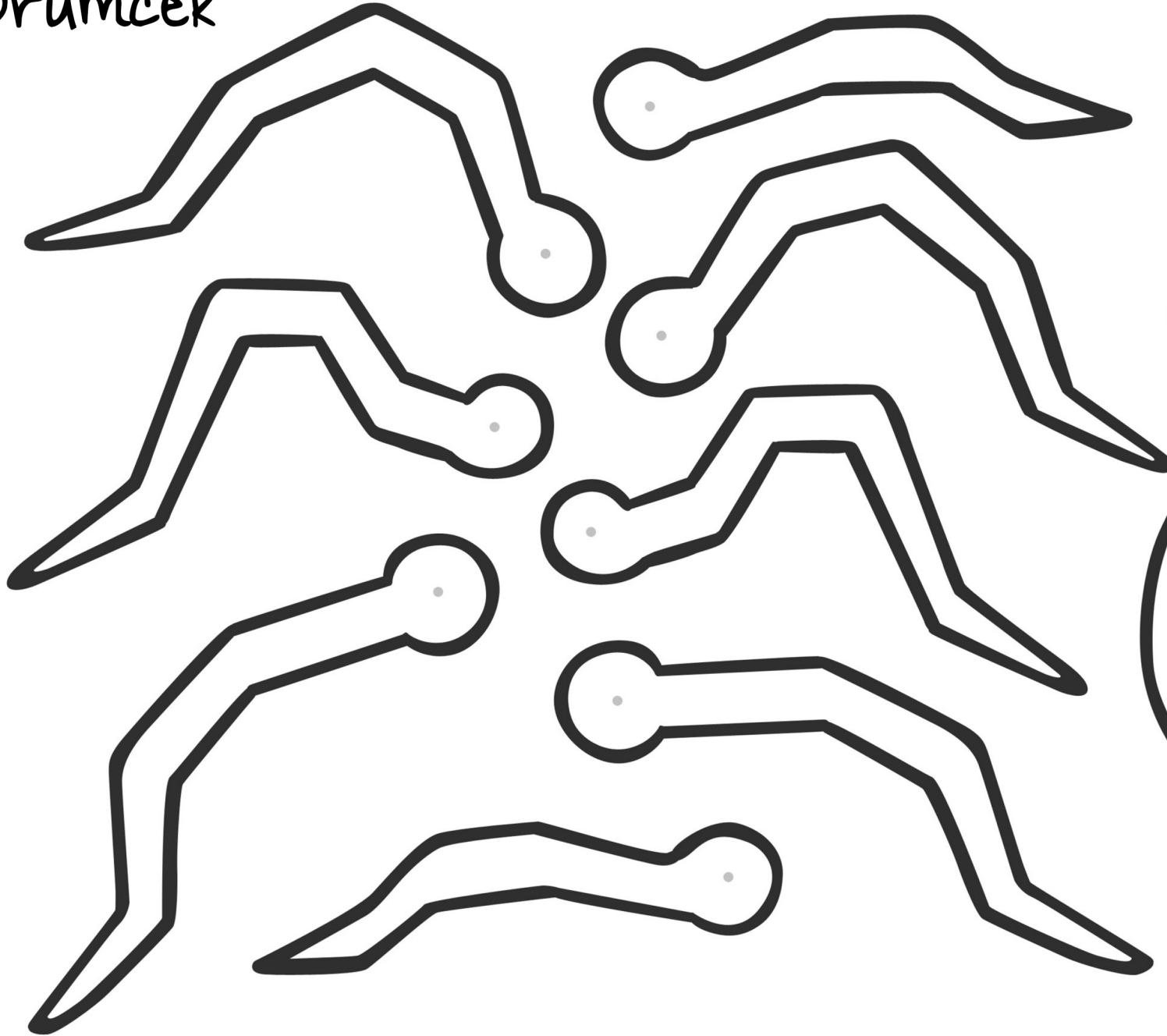
OKU VE RENKLENDİR



Örümceğin 8 tane bacağı var. Bunlardan 2 tanesini maviye boyamalısın. 3 tanesini de kırmızıya boyamalısın. Geriye kalan bacaklarını yeşil renge boyamalısın. Örümceğin ayakkabılarını istediğin renklerle boyayabilirsin. Örümceğin şapkasını gördün mü? İşte o şapkayı sarı ve mavi renklerle boyamalısın. Örümceğin yüzü mor renkli olmalı. Örümceğin vücudundaki tüyleri fark ettin mi? İşte o tüyleri kahverengiye boyamalısın.


Sıra geldi bu örümceğe bir isim bulmaya. Haydi bir isim bul ve örümceğin altındaki noktalı alana yaz.

Örümcek




SIRALA VE YAZ

● Ardından görselleri de numaralandırınız. Sıraladığınız görsellere uygun kısa bir hikaye yazınız.





ASLAN VE FARE



Ormanlar kralı aslan ormanda bir gün avlanmaktan gelmiş, yatmış uyuyormuş. Minik bir fare aslanın üzerinde dolaşmaya başlamış. Aslan sinirlenerek uyanıp fareyi yakalamış. Fare çok korkmuş. Tam öldüreceği sırada fare yalvarmış:


–Ne olur beni bırak! Gün olur benim de

sana bir iyiliğim dokunur, demiş.

Aslan farenin bu sözlerine gülererek:

–Sen küçük bir faresin, bana ne iyiliğin dokunur ki deyip, fareye acımış ve fareyi bırakmış. Fare sevinerek oradan uzaklaşmış.


Aradan zaman geçmiş, Aslan bir gün avcılarının kurduğu tuzığa yakalanmış.



Aslan fırpınmış, bağırmuş ama tuzaktan bir türlü kurtulamamış. Oradan geçmekte olan minik fare aslanın bu durumunu görmüş. Hemen dişleri ile tuzanın iplerini kemirerek kesmiş. Aslanı tuzaktan kurtarmış.

Fare aslana:

– Beni küçük diye beğenmiyordun. Bak. senin canını kurtardım, demiş. Aslan, böylece yapılan bir iyiliğin karşılıksız kalmayacağını anlamış.



1. Okuduğunuz metindeki karakterleri yazınız.

2. Aslan farenin sözlerine neden gülmüş?

3. Fare aslana nasıl bir söz vermiş?

4 Fare, aslana nasıl yardım etmiş?

5. Siz aslanın yerinde olsaydınız sizi kurtaran fareye ne söylerdiniz?

7. Bu hikayeden çıkarmamız gereken ders nedir?

● Aşağıdaki sözcükleri bulmacanın içinden bulunuz.

FARE

ASLAN

KRAL

KORKAK

İYİLİK

UYKU

TUZAK

AVCI

T	Z	U	X	Y	m	Y	K	R	A	L	H	m
m	K	O	R	K	A	K	A	S	L	A	N	O
T	U	Z	A	K	X	Y	O	R	J	D	K	E
i	S	S	B	V	V	E	m	E	J	W	W	C
C	i	R	D					F	D	Z	N	
V	Q	O	Z					i	A	Y	Z	
C	T	Z	U					Q	i	W	O	
C	A	N	C					A	Y	O	Y	
F	m	Q	K					H	i	B	C	
C	Y	A	V	C	I	H	m	F	K	L	A	Z
A	R	K	U	F	Y	O	J	A	V	i	L	W
R	C	F	A	P	L	Z	F	R	B	K	R	Q
F	i	V	U	Y	K	U	Y	E	L	Z	Q	F

