


ÇİRKİN ÖRDEK YAVRUSU



Göl kenarında güzel bir çiftlik varmış. Bu çiftlikte pek çok hayvan yaşarmış. Bunların aralarında bir de anne ördek bulunuyormuş. (19)

Anne ördek bir gün yumurtaların üstüne yatmış. Günlerce bu yumurtaların üstünden hiç kalkmamış. (32)

Zamanı geldiğinde bu yumurtaların içinden minik ördek yavruları çıkacaktı.

Anne ördek yavruları olacağı için çok mutluymuş. (48)


Yumurtalar bir süre sonra çatlamaya başlamış. Çatlayan her yumurtanın içinden birbirine benzeyen yavrular çıkmış. (62)

Minicik sarı yavrular çok sevimliymiş. Bütün yavrular onları çok sevmiş. Üç yumurta çatladığı halde, bir yumurta çatlamamış. Herkes bu yumurtanın içinden ne çıkacağını merak etmeye başlamış. (89)

İçinden koca gagalı, çirkin mi çirkin siyah renkte bir yavru çıkmış. (100)

Bu diğer yavrulara hiç benzemiyormuş. Çirkin yavruyu gören bütün hayvanlar gülmeye başlamış.

"Aaa ne çirkin bir yavru." demişler. Ama anne ördek onu da çok sevmiş. (125)



● Aşağıdaki soruları metne göre yanıtlayınız.


1 Göl kenarında ne varmış?

2 Çatlamayan yumurtanın içinden ne çıkmış?


3 Çirkin yavruyu gören diğer hayvanlar ne yapmışlar?


4 Çirkin yavruyu gören diğer hayvanlar ne yapmışlar?

● Anne ördeğin yumurtasına ulaşmasına yardımcı olur musunuz?



GİZLİ NESNELERİ BULALIM





YANLIŞ YAPTIM

Çok utandım. Neden mi? Hemen anlatayım. Dinleyin. Pazar günü dışarı çıktım. Arkadaşlarımda dışardaydı. Canımız sıkıldığı için oyun kurduk. Hemen top oynamaya başladık. (22) Sonra basket oynadık. Yorulduk. Semih koşu yarışı yapmak istedi. Kazanana içecek alınacaktı. Hepimiz çok hırslıydık. En çokta Timuçin kazanmak istiyordu. Ayakkabısı yeniydi. (44) Yeni ayakkabı sayesinde kazanacağını düşünüyordu. Ama öyle olmadı. En yakınıma üç metre fark atarak kazandım. İçeceği ayaklarımın hakkı ile kazandım. Hemen getirmelerini söyledim. (67) Karşılarında şapırdatarak içmeye başladım. Daha fazla onları kızdırmak istemedim. Eve gideceğimi söyledim. Tam sokağın başında içeceğim bitti. Yerde çöpler vardı. (87) Bende elimdeki plastik kabı attım. Attıktan sonra pişman oldum. Almak için geri döndüm. O an tanıdığım bir ses duydum. Donup kalmıştım. Kıpırdayamıyordum. Bu öğretmenimin sesiydi.(112)



● Aşağıdaki soruları metne göre yanıtlayınız.

1 Koşu yarışmasını en çok kim kazanmak istiyordu?

2 Koşu yarışmasını kazanana ne verilecekti?

3 Çocuk içeceği nasıl içmiş?

4 Çocuklar neden oyun kurmuş?

5 İçecek nerede bitmiş?

6 Çocuk ne zaman dışarı çıkmış?

ÇOK AĞRIYOR

Dişim ağrıyordu. Dişimin ağrısından elimi yanağımdan bile çekemiyordum. Dişçiden çok korkuyordum. O yüzden gitmek istemiyordum. Annem beni ikna etti. Sabah olur olmaz dişçiye gittik. (24) Beklerken annem beni sakinleştirmeye çalışıyordu. Dişçinin kapısı açıldı. Sıra bana geldi. İçeri girdim. Dişçi koltuğuna oturdum. Korkudan kalbim küt küt atıyordu. (45) Doktor geldiğinde koltuğu sıkı sıkı tuttum. Doktor beni böyle görünce:

- Ekrem sakin ol. Korkulacak bir şey yok. Çabucak bitecek, dedi. (65)

Doktora:

- Söz ver acıtmayacağına, dedim?

Doktor:

- Söz veriyorum, dedi.

Çok rahatladım. Bana bakıp gülümsüyordu. Güvendim. Ağzımı açmamı söyledi. Yavaşça açtım. (85) Elindeki demir parçasını ağzıma soktu. Küçük bir sızı oldu. Doktor:

- İşte bitti, dedikten sonra elindeki pamuğu çekilen dişimin yerine koydu. (105)

Çok mutluydum. Hiç acımamıştı. Koltuktan kalktım. Anneme sarıldım. Boşuna korktuğumu söyledim. Yüzüm gülüyordu artık. Anneme:

- Artık benim için her şey iyi olacak anneciğim, diyerek dişçiden ayrıldık. (131)

● Aşağıdaki sözcükleri zıt anlamlıları ile eşleştiriniz.

Yaşlı

Akşam

Zengin

Çalışkan

Çirkin

Tembel


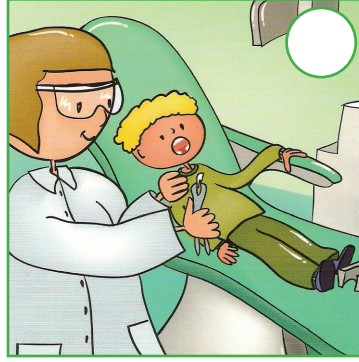


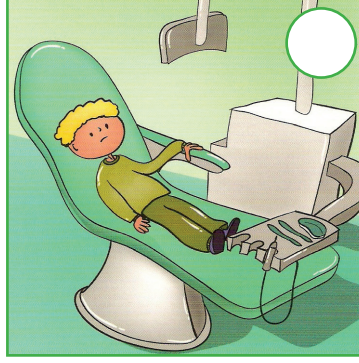

Güzel

Tembel

Genç

Sabah

- Aşağıdaki görselleri metindeki oluş sırasına göre numaralandırınız.



- Aşağıdaki soruları metne göre yanıtlayınız.

1 Ekrem neden dişçiye gitmekten korkuyormuş?

.....

2 Ekrem kimle dişçiye gitmiş?

.....

3 Dişin çekildiği yere doktor ne koymuş?

.....

4 Ekrem dişçiye ne zaman gitmiş?

.....

5 Ekrem'in kalbi nasıl atıyormuş?

.....

6 Ekrem'in yüzü neden gülmeye başlamış?

.....

MAT

Salı günü büyük gündü. Satranç turnuvası bugün olacaktı. Turnuvaya çok iyi hazırlandım. Turnuvanın yapılacağı salona girdik. Kurallar çekilince rakibim belli oldu. (21) Çok heyecanlandım. Masalara oturduk. Rakibimle tokalaşip tanıştık. Adı Reyhan'dı. Oyuna başladık. İyi oynuyordu. Hamle hatası yapmıyordu. Hata yapması için küçük açıklar verdim. (43) Zaman ilerliyordu. O yüzden tedirgin olmaya başladım. Terliyordum. Reyhan şahını son karede tutunca gözlerim fal taşı gibi açıldı. (61) Beklediğim fırsatı vermişti. En güçlü taşım vezir ile şah çektim. Reyhan bu hamlem sonrası çok üzüldü. Kurtulması mümkün değildi. Mat olmuştu. (82) Hakem gelip yendiğimi söyledi. Elindeki deftere adımı yazdı. Mutluluktan havalara uçmuştum ama yerimden kalkamıyordum. (96) Rakibimi kırmak, üzmek istemiyordum. O yüzden ona:

- Çok iyi bir oyuncusun. Umarım diğer rakiplerini yenersin, dedim. O da beni tebrik edip masadan kalktı. (120)



● Aşağıdaki soruları metne göre yanıtlayınız.

1 .Çocuk turnuvaya nasıl hazırlanmış?

2 Çocuğun gözleri neden fal taşı gibi açılmış?

3 Turnuva ne zaman olacakmış?

4 Çocuğun turnuvadaki rakibi kimmiş?

5 Reyhan şahını nerede tutmuş?

6 Çocuk oyunun sonunda Reyhan'a ne demiş?

Adı-Soyadı:.....

Aşağıdaki metni okuyup soruları cevaplayınız.




Cenk cuma günü annesi ile birlikte kontrol için diş doktoruna gitti. Diş doktoru Cenk'e dişinde bir oyuk gördüğünü söyledi. Daha sonra özel aletleri ile oyuğu temizledi. Ardından oyuğa dolgu yaptı.

Diş doktoru Cenk'e 2 önemli uyarıda bulundu:

1

Günde en az 2 kere ve 2 dakika boyunca dişlerini fırçalamalısın.



2

Şekerli yiyecekleri daha az tüketmelisin.

1- Cenk ve annesi neden diş doktoruna gitmişler?

2- Diş doktoru Cenk'in dişlerinde ne görmüş?

3- Diş doktoru Cenk'in dişine ne yapmış?

4- Cenk aşağıdaki yiyeceklerden hangisini daha az tüketmelidir?



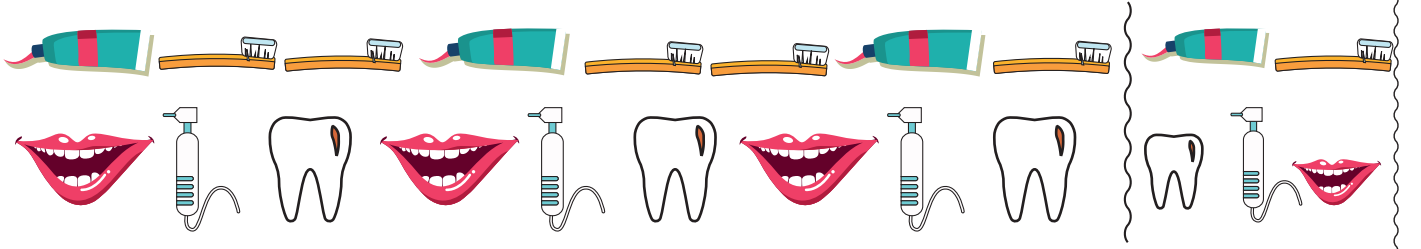
5- Diş doktoru yerine aşağıdakilerden hangisini söyleyebiliriz?

a. Diş hekimi

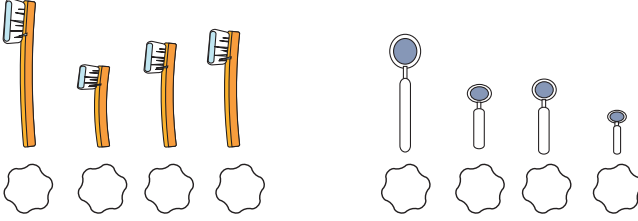
b. Diş hakimi

c. Diş perisi

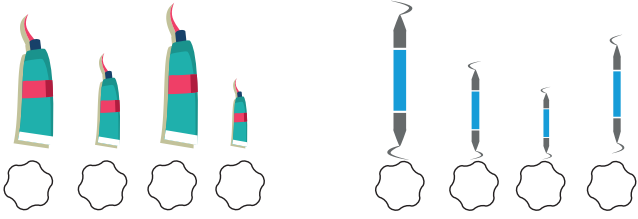
Aşağıdaki örüntüler hangisiyle devam etmelidir? İşaretleyiniz.



Aşağıdaki nesnelere uzun dan kısaya doğru sıralayalım.



Aşağıdaki nesnelere kıstadan uzuna doğru sıralayalım.



Aşağıdaki milli bayramlardan hangisini 23 Nisan günü kutlarız?

- Cumhuriyet Bayramı
- Ulusal Egemenlik ve Çocuk Bayramı
- Gençlik ve Spor Bayramı

Aday Adı	Oy Sayısı
Çağlar	12
Toprak	7
Oğuzhan	4
Deniz	10

Sınıfımızda yaptığımız başkanlık seçiminde öğrenciler yandaki tabloda gördüğümüz oyları aldılar.

Buna göre;

Sınıf başkanı olmuştur.

En az oyu almıştır.

Deniz ve Toprak toplam tane oy almışlardır.

Çağlar, Toprak'tan tane fazla oy almıştır.

Oğuzhan ve Çağlar toplam tane oy almışlardır.

Deniz ile Oğuzhan toplam tane oy almışlardır.

Aşağıdaki işlemlerdeki verilmeyen toplananları bulunuz.

$$\begin{array}{r} 9 \\ + \text{ } \\ \hline 16 \end{array}$$

$$\begin{array}{r} \text{ } \\ + 5 \\ \hline 13 \end{array}$$

$$\begin{array}{r} \text{ } \\ + 7 \\ \hline 15 \end{array}$$

$$\begin{array}{r} 13 \\ + \text{ } \\ \hline 19 \end{array}$$

$$\begin{array}{r} 10 \\ + \text{ } \\ \hline 10 \end{array}$$

TOPLA VE BOYA

● Kutulardaki toplama işlemlerini yapıp bulduğunuz sonuçlara göre kutuların içlerini boyayınız. Boş kutulara herhangi boyama yapmayınız.

17 YEŞİL

9 SIYAH

12 TURLUNCU

	$8 + 9$	$5 + 12$	$1 + 16$		$9 + 8$	$4 + 13$	$16 + 1$	
		$17 + 0$	$11 + 6$	$15 + 2$	$10 + 7$	$1 + 16$		
			$10 + 7$	$5 + 12$	$4 + 13$			
		$6 + 6$	$11 + 1$	$8 + 4$	$10 + 2$	$9 + 3$		
		$3 + 9$	$1 + 8$	$12 + 0$	$6 + 3$	$4 + 8$		
		$6 + 6$	$2 + 10$	$3 + 9$	$1 + 11$	$10 + 2$		
		$0 + 12$	$7 + 2$	$4 + 5$	$1 + 8$	$5 + 7$		
		$4 + 8$	$1 + 11$	$9 + 3$	$7 + 5$	$6 + 6$		
			$6 + 6$	$10 + 2$	$8 + 4$			
			$4 + 8$	$0 + 12$	$11 + 1$			

BOYA VE KEŞFET

● Aşağıdaki verilen yönergeye göre, sayıların bulunduğu kutuları uygun renklerle boyayınız.

1	2	3	4	5	6	7	8	9	10
11	12	13	14	15	16	17	18	19	20
21	22	23	24	25	26	27	28	29	30
31	32	33	34	35	36	37	38	39	40
41	42	43	44	45	46	47	48	49	50
51	52	53	54	55	56	57	58	59	60
61	62	63	64	65	66	67	68	69	70
71	72	73	74	75	76	77	78	79	80
81	82	83	84	85	86	87	88	89	90
91	92	93	94	95	96	97	98	99	100

Kahverengi 2, 3, 8, 9, 12-19, 22, 25, 26,
29, 32, 35, 36, 39, 42, 43, 48, 49,
52-54, 57-59, 62, 69, 91-100






Açık Kahverengi 63-68, 74-77

Beyaz 23, 24, 27, 28, 33, 38

Siyah 34, 37

Sarı 44-47, 55, 56, 84, 87

NOT: Rengi belirtilmeyen kutuları boyamayınız.



KES

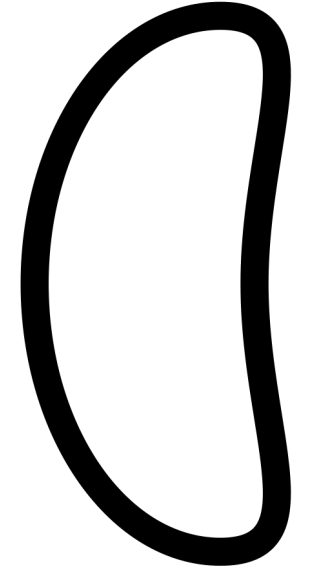

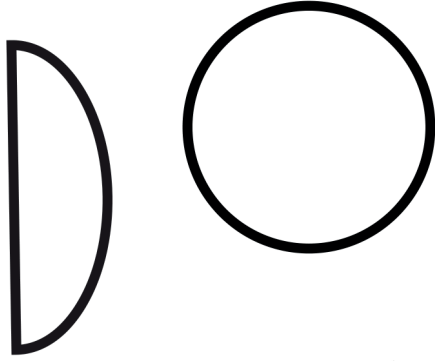



BOYA

YAPIŞTIR



BOYA, KES VE YAPIŞTIR!

İSTERSEN SAĞ ÜSTTEKİ GİBİ, İSTERSEN HAYALİNDEKİNİ YAP!



KES

BOYA

YAPIŞTIR



BOYA, KES VE YAPIŞTIR!
İSTER ŞABLONLU KULLAN İSTERSEN HAYAL GÜCÜNÜ!

PUANLAMA

Test Soruları 5 puan $6 \times 5 = 30$

Harf,hece tablo 1 puan $45 \times 1 = 45$


Sayı okuma 1 puan $5 \times 1 = 5$

Sayı Yazma 1 puan $5 \times 1 = 5$

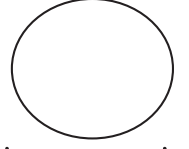
Toplama-Çıkarma 1 puan $15 \times 1 = 15$

Adı-Soyadı:.....

PUAN



Çalışkan Karıncalar



Emre arkadaşları ile sokakta top oynarken karıncalar dikkatini çekmişti. Toprağa küçük bir yuva yapmışlardı. Durmadan yuvalarına yiyecek taşıyorlardı. Çok hızlıydılar. Akşam eve geldiğinde bu konuyu babası ile paylaştı. Emre, babası ile birlikte internetten bir araştırma yaptı. Öğrendiklerine göre karıncaların ömürleri ortalama 45-60 gün arasındaymış. Sadece kraliçe karıncaların 30 yıl kadar yaşayabilmeleri mümkünmüş. Karıncalar kendi ağırlıklarının 10 katı kadar yük taşıyabilirlermiş. Dünya üzerinde 35 bin karınca türü bulunuyormuş. Emre tüm bunlara çok şaşır-mıştı. Ertesi gün bu bilgileri arkadaşları ile paylaşacağı için çok heyecan-lydı.

1. Emre'nin sokakta dikkatini ne çekmişti?

- a. Top oynayan çocuklar
- b. Karıncalar
- c. İşten dönen babası

2. Karıncalar ortalama kaç gün yaşıyorlarmış?

- a. 45-60 yıl
- b. 45-60 gün
- c. 30 yıl

3. Karıncalar ne kadar yük taşıya-bilirlermiş?

- a. Kendi ağırlığı kadar
- b. 10 tane yaprak taşıyabilirlermiş.
- c. Kendi ağırlığının 10 katı kadar.

4. Dünya üzerinde kaç çeşit karın-ca türü varmış?

- a. 35 çeşit
- b. 35 bin çeşit
- c. 10 bin çeşit

5. Emre neden heyecanlıymış?

- a. Öğrendiklerini arkadaşları ile paylaşacağı için
- b. Karınca yuvalarını inceleyeceği için
- c. Babası ile araştırma yapacağı için

6. Karıncalar yuvalarına ne taşı-yorlarmış?

- a. Kum
- b. Yiyecek
- c. Taş

Aşağıdaki tabloyu örnekteki gibi doldurunuz.

Sözcük	Harf Sayısı	Hece Sayısı	Hecelerine Ayır	Ünlü Harf Sayısı	Ünsüz Harf Sayısı
Mutfak	6	2	mut-fak	2	4
Kamera					
Portakal					
Kalemlik					
Otobüs					
Sevimli					
Bakırcı					
İstanbul					
Ürgüp					
Nazilli					

Aşağıdaki sayıların okunuşlarını karşlarına yazınız.

12 → _____
46 → _____
73 → _____
9 → _____
20 → _____

Aşağıda okunuşları verilen sayıları karşlarına yazınız.

Yetmiş bir → _____
Kırk altı → _____
Seksen → _____
Dokuz → _____
Doksan üç → _____

Aşağıdaki işlemleri yapınız.

$6+9=$ _____ $7+7=$ _____ $13+2=$ _____

$15-9=$ _____ $9-1=$ _____ $11-6=$ _____

$$\begin{array}{r} 3 \\ + 8 \\ \hline \end{array}$$

.....

$$\begin{array}{r} 12 \\ + 6 \\ \hline \end{array}$$

.....

$$\begin{array}{r} 9 \\ + 8 \\ \hline \end{array}$$

.....

$$\begin{array}{r} 6 \\ + 5 \\ \hline \end{array}$$

.....

$$\begin{array}{r} 13 \\ + 3 \\ \hline \end{array}$$

.....

$$\begin{array}{r} 6 \\ - 6 \\ \hline \end{array}$$

.....

$$\begin{array}{r} 14 \\ - 8 \\ \hline \end{array}$$

.....

$$\begin{array}{r} 19 \\ - 9 \\ \hline \end{array}$$

.....

$$\begin{array}{r} 8 \\ - 8 \\ \hline \end{array}$$

.....

2. Sınav

Test Soruları 5 puan $6 \times 5 = 30$

Eş anlamlı kelimeler 2 puan $5 \times 2 = 10$

Zıt anlamlı kelimeler 2 puan $5 \times 2 = 10$

Problemler 10'ar puan $2 \times 10 = 20$

Onluk ve Birlik 2 puan $6 \times 2 = 12$

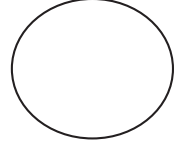
Saatler 2 puan $9 \times 2 = 18$

Adı-Soyadı:.....

PUAN



Tatil Yaklaşıyor



Arda ve ailesi yaz tatilinde nereye gideceklerine bir türlü karar veremiyorlardı. Annesi sakin bir yerde tatil yapmak istiyordu. Yeşilliklerin olduğu güzel bir otele gitmek istiyordu. Ablası için tatil yapacakları yerde mutlaka deniz olmalıydı. Arda ise en çok futbol oynayacağı ve bisiklet süreceği bir yere gitmek istiyordu. Babası ise kararsızdı. Tüm ailenin isteklerini göz önünde bulundurup bir çözüm aradılar. İnternette biraz araştırma yapıp Didim'de bir tatil köyünde karar kıldılar. Gidecekleri yer denize yakın bir yerdı. Aynı zamanda futbol sahası ve bisiklet sürme alanları vardı. Hem de sakin bir yere benziyordu. Arda ve ailesi çok mutlu olmuştu.

1. Arda ve ailesi hangi konuda kararsız kalmışlar?

- a. Bisiklet alıp almamakta
- b. Tatilde gidecekleri yer konusunda
- c. Yeni bir araba alma konusunda

2. Arda'nın ablası nasıl bir yerde tatil yapmak istiyormuş?

- a. Sakin bir yerde
- b. Yeşillik bir yerde
- c. Denize yakın bir yerde

3. Tatil yeri konusunda kararsız olan kimmiş?

- a. Anne
- b. Baba
- c. Arda

4. Arda'nın annesi nasıl bir yerde tatil yapmak istiyormuş?

- a. Kalabalık bir yerde
- b. Sakin bir yerde
- c. Denize uzak bir yerde

5. Arda tatilde ne yapmak istiyormuş?

- a. Kitap okumak - Yüzmek
- b. Bisiklet sürmek - Denize girmek
- c. Bisiklet sürmek - Futbol oynamak

6. Tatilde nereye gitmeye karar vermişler?

- a. Antalya
- b. Didim
- c. Kuşadası

Aşağıdaki kelimelerin eş anlamlılarını yazınız.

Kırmızı → _____

Konuk → _____

Hatıra → _____

Yel → _____

Cevap → _____

Aşağıdaki kelimelerin zıt anlamlılarını yazınız.

Genç → _____

Çirkin → _____

Kötü → _____

Çalışkan → _____

Uzun → _____

Kübra 9 yaşındadır. Ablası Kübra'dan 8 yaş daha büyüktür. Buna göre Kübra'nın ablası kaç yaşındadır?

Ahmet'in 16 lirası vardır. Parasının 8 lirasını harcarsa geriye kaç lirası kalır?


Aşağıdaki sayıları onluk ve birliklerine ayırınız.

onluk	birlik	onluk	birlik
1	4
.....			
On altı			

onluk	birlik	onluk	birlik
1	9	1	5
.....			
.....			

onluk	birlik	onluk	birlik
1	0	1	3
.....			
.....			

Aşağıdaki saatlerin kaç gösterdiğini altlarına yazınız.



3. Sınav

Test Soruları 5 puan $6 \times 5 = 30$

Saatler 2 puan $6 \times 2 = 12$

Sözlük Sıralama 2 puan $8 \times 2 = 16$

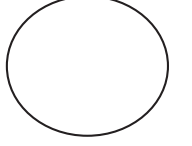
Problemler 5'er puan $2 \times 5 = 10$

Verilmeyen Toplanan 2 puan $2 \times 16 = 32$



Adı-Soyadı:.....

PUAN



Elvan Hasta Oldu

Elvan cuma günü sabah uyandığında kendisini pek iyi hissetmiyordu. Boğazı yanıyordu. Burnu da akıyordu. Annesi onun alınına ve vücuduna dokundu. Ardından annesi onun ateşini ölçtü. Çok ateşi vardı. Annesi Elvan'a ağrı kesici ve ateş düşürücü bir şurup içirdi. Şurubu içtikten sonra Elvan uzun bir uykuya daldı. Uyandıktan sonra annesi ona çorba içirdi. Çorbasını bitirdikten sonra Elvan kendisini daha iyi hissediyordu.

1. Elvan aşağıdaki durumlardan hangisini yaşamamıştır?

- a. Ateşi çıkmış.
- b. Vücudunda lekeler oluşmuş.
- c. Burnu akıyormuş.

2. Elvan hangi gün kendisini kötü hissederek uyanmış?

- a. Pazartesi
- b. Çarşamba
- c. Cuma

3. Elvan'ın annesi aşağıdakilerden hangisini yapmamıştır?

- a. Ateşini ölçmüş.
- b. Doktora götürmüş.
- c. Şurup içirmiş.

4. Uyandıktan sonra Elvan ne yapmış?

- a. Çorba içmiş.
- b. Yemek yemiş.
- c. Tekrar uyumuş.


5. Elvan neden hasta olmuş olabilir?

- a. Dengeli beslendiği için
- b. Terliyken soğuk su içtiği için.
- c. Annesinin sözünden çıkmadığı için


6. Annesi şurup içirdikten sonra Elvan ne yapmış?

- a. Uyumuş.
- b. Çorba içmiş.
- c. Ödevlerini yapmış.


Aşağıdaki saatler kaç gösteriyorsa çiziniz.




6:00



12:00



10:00



7:00



1:00



8:00

Aşağıdaki kelimelerden hangisi sözlükte en başta geliyorsa yuvarlak içine alalım.

→ Kalem Masa Silgi

→ Emre Ayşe Zehra

→ İzmir Aydın Niğde

→ Elma Armut Nar

Aşağıdaki kelimelerden hangisi sözlükte en sonda geliyorsa yuvarlak içine alalım.

→ Gül Papatya Lale

→ Amca Teyze Dayı

→ Güneş Ay Yıldız

→ Gözlük Ceket Zarf

Kardeşimin uçurtma ipi 13 kulaçtır. Benim ipim, kardeşimin ipinden 6 kulaç azdır. Benim kaç kulaç ipim vardır?

Ayşe'nin balonunun ipi 6 karıştır. Benim ipim Ayşe'nin ipinden 3 karış uzundur. Buna göre benim ipim kaç karıştır?

Aşağıdaki işlemlerdeki verilmeyen toplananları bulunuz.

$$\begin{array}{r} \square \\ + 8 \\ \hline 14 \end{array}$$

$$\begin{array}{r} \square \\ + 11 \\ \hline 19 \end{array}$$

$$\begin{array}{r} \square \\ + 7 \\ \hline 9 \end{array}$$

$$\begin{array}{r} \square \\ + 13 \\ \hline 19 \end{array}$$

$$\begin{array}{r} \square \\ + 15 \\ \hline 18 \end{array}$$

$$\begin{array}{r} \square \\ + 9 \\ \hline 15 \end{array}$$

$$\begin{array}{r} \square \\ + 1 \\ \hline 5 \end{array}$$

$$\begin{array}{r} \square \\ + 7 \\ \hline 16 \end{array}$$

$$\begin{array}{r} \square \\ + 1 \\ \hline 2 \end{array}$$

$$\begin{array}{r} \square \\ + 11 \\ \hline 16 \end{array}$$

$$\begin{array}{r} \square \\ + 7 \\ \hline 12 \end{array}$$

$$\begin{array}{r} \square \\ + 4 \\ \hline 6 \end{array}$$


$$\begin{array}{r} \square \\ + 7 \\ \hline 11 \end{array}$$

$$\begin{array}{r} \square \\ + 5 \\ \hline 12 \end{array}$$

$$\begin{array}{r} \square \\ + 3 \\ \hline 12 \end{array}$$

$$\begin{array}{r} \square \\ + 8 \\ \hline 9 \end{array}$$

Meraklı Mert sizler için
araştırıyor.

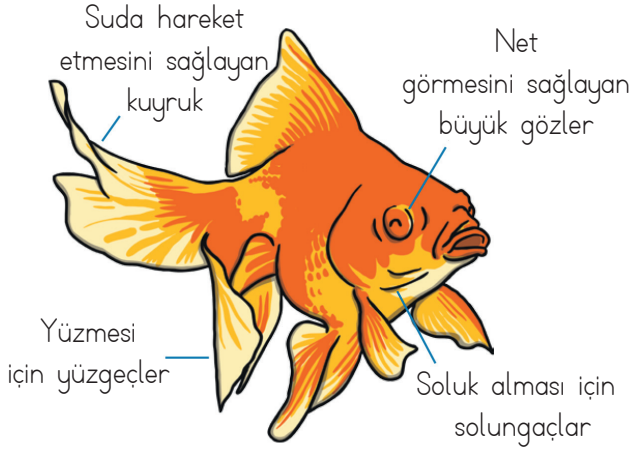


Merak edilen pek çok konu
açıklığa kavuşuyor.


Balık Bakımı Nasıl Olur?

Çok çeşitli renklerde olan balıklar; suda yaşayan ufak hayvanlardır. Yüzgeçleri ve kuyrukları yardımıyla suda hareket ederler. Bir de, su altında soluk almalarına yardımcı olan solungaçları vardır. Buna ek olarak etrafa bakmalarını sağlayan iri gözleri vardır.

Balıklar neye benzer?




Balık Bakımı İçin Gerekli Malzemeler



Akvaryum



Temiz Su




Balık Yemi




Saklanacağı Alan

Balık Bakımında Dikkat Edilmesi Gerekenler



Her balığın bakımı birbirinden farklıdır. Örneğin japon balığı soğuk suya ihtiyaç duyarken, tropikal balıklar ılık suya ihtiyaç duyar. Bazı balıklar tatlı suda yaşarken bazı balıklar tuzlu suda yaşamını sürdürebilir. Balık beslerken balığın yaşayabileceği alanı önceden oluşturmak gerekir.

Balığımı Uzun Süre Nasıl Besleyebilirim?



Balıklar solungaçları sayesinde suda nefes alabilirler. Bu sebeple yaşam alanlarındaki suyun temiz olması gerekir. Eğer akvaryumunuz temiz olmaz ise balıklarınız çok uzun süre yaşayamazlar. Akvaryumunuzdaki suyu filtre ile temiz tutabilirsiniz.



Soruları doğru
cevapla ve iyi bir
balık bakıcısı
olduğunu kanıtla!

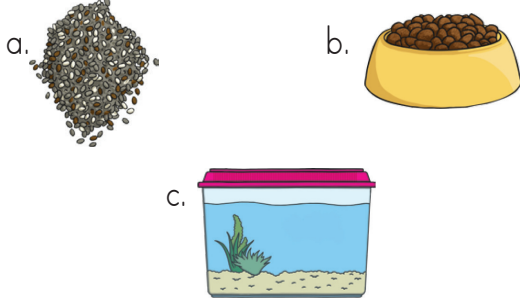
1. Aşağıdakilerden hangisi balıkların bedenlerinde bulunmaz?

- a. Bacaklar b. Solungaçlar
c. Yüzgeçler

2. Balıklar suda nasıl hareket edebilirlermiş?

- a. Solungaçları ve yüzgeçleri sayesinde
b. Gözleri ve kuyrukları sayesinde
c. Yüzgeçleri ve kuyrukları sayesinde

3. Aşağıdakilerden hangisi balık bakımı için gerekli malzemelerden birisi değildir?



4. Balık bakımı ile ilgili aşağıdakilerden hangisi yanlıştır?

- a. Balıkların yaşam alanlarının temiz olması gerekir.
b. Akvaryumunuzun suyunu filtre ile temiz tutabilirsiniz.
c. Balıklar yalnızca soğuk suda yaşamlarını sürdürebilirler.

5. Balıklar suda nasıl nefes alabiliyorlarmış?

- a. Yüzgeçleriyle b. Solungaçlarıyla
c. Kuyruklarıyla

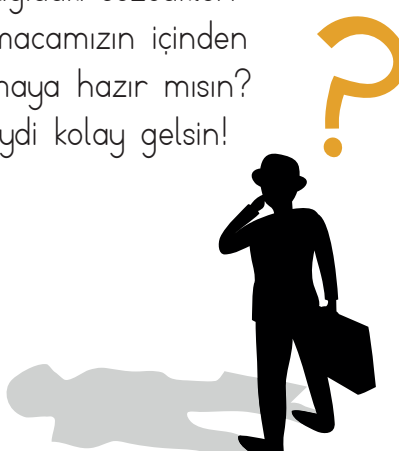
5. Tropikal balıklar hangi tür suda yaşayabilirlermiş?

- a. Soğuk b. Tuzlu c. Ilık

6. Aşağıdaki tabloyu örnekteki gibi uygun sözcüklerle dolduralım.


Harf	İsim	Hayvan	Eşya
B	Birgöl	Balık	Baston
K			
A			
L			
İ			
O			
M			
H			
E			
P			
T			
Y			

SÖZCÜK AVI

q	k	c	d	c	c	ö	c	m	h	l	j	o	a	n	l	u	i	q	w							
h	a	e	k	u	y	n	k	o	h	h	l	c	p	c	p	s	ı	r	a							
d	o	l	a	l	f	l	t	h	k	y	j	e	q	w	c	q	h	p	b							
l	j	w	n	u	m	ü	p	e	t	n	u	s	ı	n	ı	f	u	a	f							
w	h	z	t	x	z	k	a	i	d	w	ö	ğ	r	e	n	c	i	p	x							
b	u	q	i	h	n	m	r	a	w	b	d	s	s	i	c	v	h	l	g							
m	p	x	n	e	h	<p>Aşağıdaki sözcükleri bulmacamızın içinden bulmaya hazır mısınız? Haydi kolay gelsin!</p> 							u	m	ü	d	ü	r								
y	s	s	z	w	g								o	b	o	y	a	x								
e	b	r	q	c	i								m	a	s	a	o	p								
s	i	l	g	i	c								f	m	k	u	k	s								
a	ö	r	t	ü	o								s	e	q	o	u	c								
q	y	q	s	c	a								r	r	m	l	l	s								
n	l	p	u	d	z								b	d	h	f	l	o								
m	h	u	e	z	k								z	i	c	c	p	m								
v	v	r	b	v	k								d	e	o	k	p	e	r	d	e	v	j	x	a	f
c	f	x	y	k	t								h	p	k	z	v	ç	a	k	z	e	v	w	n	c
c	f	b	z	u	j	q	x	l	m	k	a	a	a	u	n	w	s	o	u							
u	b	b	a	y	r	a	k	s	i	w	n	p	l	d	e	f	t	e	r							
p	j	v	x	l	v	w	a	v	o	h	t	b	e	m	f	h	y	k	s							
p	ö	ğ	r	e	t	m	e	n	a	n	a	x	m	k	i	t	a	p	j							

1. sınıf
2. merdiven
3. bayrak
4. kitap
5. çanta
6. okul
7. perde
8. silgi
9. müdür
10. defter
11. masa
12. örtü
13. pano
14. kantin
15. kalem
16. önlük
17. öğretmen
18. boya
19. sıra
20. öğrenci

Meraklı Mert sizler için araştırıyor.

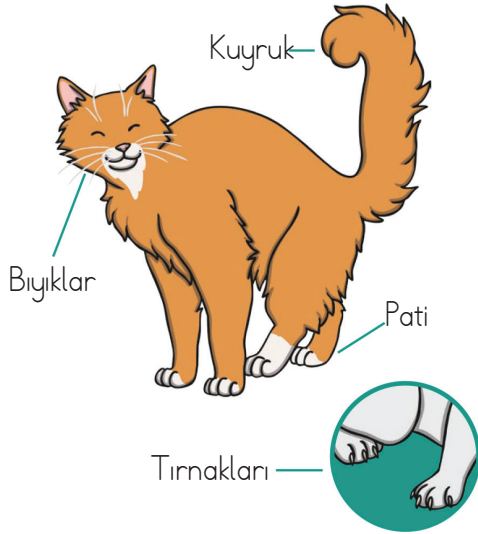


Merak edilen pek çok konu açıklığa kavuşuyor.

Kedi Bakımı Nasıl Olur?

Kediler genel olarak sessiz ve sakin hayvanlardır. İp yumakları ve oyuncaklarla oynamayı çok severler. Kediler onlarla ilgilenilmesinden çok hoşlanırlar. Kedilerin tüyleri, saçlarımız gibi elektrik yüklüdür. Kedileri okşadığımız zaman tüyleri hafifçe kalkar ve küçük çıtırtılar duyulur.

Kediler neye benzer?



Kedi Bakımı İçin Gerekli Malzemeler

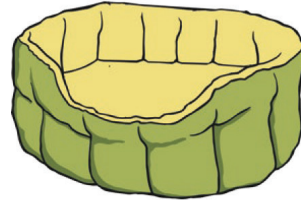
Yemek Kabı



Su Kabı



Rahat Bir Yatak



Eğlenmesi İçin Oyuncak



Kedi Bakımında Dikkat Edilmesi Gerekenler



Kediler diğer evcil hayvanlar gibi taze yiyecek ve temiz suya ihtiyaç duyar. Onları sağlıklı kedi mamaları ile de besleyebilirsiniz.

Ayrıca yaşadıkları ortam da çok önemlidir. Kedilerin kendilerini rahat ve güvende hissedecekleri bir ortamda yaşamaları onların daha huzurlu olmalarını sağlar.

Kedim Hasta Olursa Ne Yapmalıyım?



Eğer kediniz hastalanmış ya da yaralanmışsa, onu hemen bir veterinere götürmeniz gerekir. Veterinerin vereceği krem veya ilaçlar kedinizin daha çabuk iyileşmesini sağlayacaktır.

Kedilerimizin düzenli olarak aşılmasını yaptırmalı ve temizliğine dikkat etmeliyiz.



Soruları doğru cevapla ve iyi bir kedi bakıcısı olduğunu kanıtla!

1. Kediler genellikle nasıl hayvanlarmış?

- a. Sinirli ve yaramaz
- b. Sakin ve sessiz
- c. Uykucu ve uyuşuk




2. Kedilerin tüylerini okşadığımız zaman ne oluyormuş?

- a. Kedilerin sinirleniyormuş.
- b. Kedilerin bıyıkları uzuyormuş.
- c. Tüyleri kalkıyor ve çıtırtılar duyuluyormuş.

3. Aşağıdakilerden hangisi kedi beslerken dikkat etmemiz gereken şeylerden birisi değildir?

- a. Taze yiyecek ve temiz su ile beslemeliyiz.
- b. Her zaman annelerinin sütünü içmeleri gerekir.
- c. Sağlıklı kedi mamaları ile de kedileri besleyebiliriz.

4. Aşağıdakilerden hangisi kedilerin beslenmeleri için kullanılan malzemelerden birisi değildir?

- a. 
- b. 
- c. 

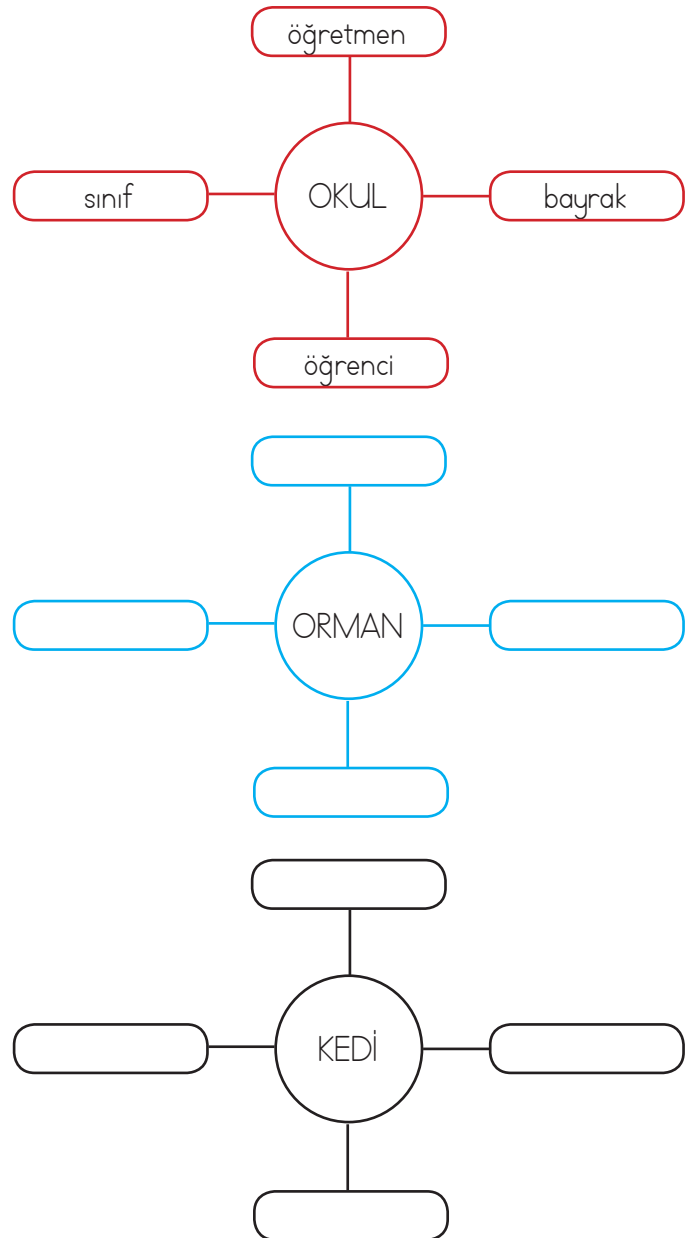
5. Kedilerimiz hasta olduklarında veya yaralandıklarında ne yapmalıyız?

- a. Hemen veterinerine götürmeliyiz.
- b. Eczaneden ilaç alıp onları kendimiz iyileştirmeliyiz.
- c. Kendi kendilerine iyi olmalarını beklemeliyiz.


6. Veterinerler kedileri iyileştirmek için ne yapıyorlarmış?

- a. Kedilerin tüylerini okşuyolarmış.
- b. Kedilerin bıyıklarını temizliyolarmış.
- c. Kedileri iyileştirmek için gerekli olan ilaç veya kremleri veriyolarmış.

7. Ortada verilen sözcüklerin size çağrıştırdıklarını örnekteki gibi yazınız.



Meraklı Mert sizler için
araştırıyor.




Merak edilen pek çok konu
açıklığa kavuşuyor.

Tavşan Bakımı Nasıl Olur?

Tavşanlar en popüler evcil hayvanlardan bir tanesidir. Pek çok çocuk tavşan beslemeyi hayal eder. Ancak tavşan beslerken dikkat etmeniz gereken bazı noktalar vardır. Tavşanlara karşı sakin ve dikkatli bir şekilde davranırsanız iyi bir tavşan bakıcısı olabilirsiniz. Şimdi tavşan bakımı ile ilgili diğer detayları öğrenelim.

Tavşanlar neye benzer?



Tavşan Bakımı İçin Gerekli Malzemeler



Yemek Kabı



Su Kabı



Uyuması İçin
Rahat Bir Ortam




Bir Miktar
Saman

Tavşan Bakımında

Dikkat Edilmesi Gerekenler

Tavşan beslerken en dikkat edilmesi gereken konuların başında diş sağlığı gelmektedir. Tavşanların dişlerinin çok uzaması onları hasta


edebilir. Tavşanlar, saman, çimen, sebze ve ahşap şeyler kemirerek dişlerini sağlıklı ve kısa tutabilirler.



Mutlu Bir Tavşanımız Olması İçin

Ne Yapmalıyız?

Tavşanlar yalnız yaşamayı sevmezler. Mutlu bir tavşanınız olsun istiyorsanız ona en az bir tane arkadaş almalısınız. Çünkü tavşanlar bir araya geldiklerinde oyun oynamayı, oradan oraya atlamayı ve zıplamayı çok severler. Tavşanlar çok zeki hayvanlardır. Onlara sevecekleri oyuncaklar alırsanız çok mutlu olurlar ve çok eğlenceli vakit geçirirler.





Soruları doğru cevapla ve iyi bir tavşan bakıcısı olduğunu kanıtla!

1. Tavşanlar aşağıdakilerden hangisi ile oynamayı severlermiş?

- a. Kedilerle
- b. Köpeklerle
- c. Başka tavşanlarla

2. Tavşanların neden samana ihtiyaçları varmış?

- a. Yumuşak bir yerde uyumaları için
- b. Üzerinde zıplamaları için
- c. Çiğnemeleri için

3. Tavşanların dişlerinin sağlıklı olması için aşağıdakilerden hangisini çiğnemesi gerekir?

- a. Ahşap
- b. Plastik
- c. Metal

4. Tavşanlar aşağıdakilerden hangisi ile oynamayı severmiş?

- a. Telefonlarla
- b. Kitaplarla
- c. Oyuncaklarla

5. Tavşanımızın daha mutlu olmasını istiyorsak aşağıdakilerden hangisini yapmalıyız?

- a. Onu yalnız bırakmalıyız.
- b. Bir şeyleri kemirmelerine izin vermeliyiz.
- c. Yanına en az bir tane daha tavşan almalıyız.

6. Sözcüklerin zıt anlamlılarını aşağıdaki kutucuklardan bulup yazınız.

küçük

çok

zengin

doğru

tatlı

ön

gündüz

sağ

evli

yavaş

barış

dost

büyük



düşman



sol



yanlış



hızlı



acı



bekar



az



gece



fakir



arka



savaş



BENİM GÖZÜMDEN

● Aşağıdaki resmi inceleyip, resimle ilgili kısa bir hikaye yazınız. Hikayenize uygun bir başlık yazınız. Hikayenizi, yazım kurallarına dikkat ederek yazmayı unutmayınız.



SAATLERİ TANIYALIM

TAM SAATLER



Saatlerdeki **uzun** kola **yelkovan** denir.

Saatlerdeki **kısa** kola **akrep** denir.

Tam saatlerde akrep sayının üzerinde, yelkovan ise 12'nin üzerinde olmalıdır.

YARIM SAATLER



Yarım saatlerde **yelkovan** **6'yı** gösterir.

Yarım saatlerde **akrep** iki sayının **tam ortasını** gösterir.

Yarım saatler **buçuk** diye okunur.

DOĞRU MU YANLIŞ MI?

👉 Aşağıdaki ifadeler doğru ise "D", yanlış ise "Y" harfini boyayınız.

D Y Saatlerdeki kısa kola yelkovan denir.

D Y Saatlerdeki uzun kola akrep denir.

D Y Tam saatlerde akrep hep 12'yi gösterir.

D Y Yarım saatlerde yelkovan 6'yı gösterir.

D Y Tam saatlerde akrep sayının üzerindedir.

D Y Yarım saatler buçuk diye okunur.

D Y Yarım saatlerde akrep iki sayının ortasındadır.

D Y Yarım saatlerde yelkovan 12'yi gösterir.

SAATLERİ YAZALIM

👉 Aşağıdaki saatlerin kaç gösterdiğini yazınız.




Saat:04.00.....




Saat:



Saat:



Saat:



Saat:

Saat:dört.....

Saat:

Saat:

Saat:

Saat:



Saat:



Saat:



Saat:



Saat:



Saat:

Saat:

Saat:

Saat:

Saat:

Saat:

SAATLERİ YAZALIM

👉 Aşağıdaki saatlerin kaçı gösterdiğini yazınız.




Saat:



Saat:



Saat:



Saat:



Saat:

Saat:

Saat:

Saat:

Saat:

Saat:



Saat:



Saat:



Saat:



Saat:



Saat:

Saat:

Saat:


Saat:

Saat:


Saat:

SAATLERİ ÇİZELİM


👉 Aşağıdaki saatlerin akrep ve yelkovanlarını örnekteki gibi çizin.




Saat: 09.00




Saat: 06.00



Saat: 01.00



Saat: 02.00



Saat: 12.00


Saat: Dokuz

Saat: Altı


Saat: Bir

Saat: İki


Saat: On iki




Saat: 05.00




Saat: 03.00



Saat: 10.00



Saat: 07.00



Saat: 09.00

Saat: Beş

Saat: Üç


Saat: On

Saat: Yedi


Saat: Dokuz

SAATLERİ ÇİZELİM


👉 Aşağıdaki saatlerin akrep ve yelkovanlarını örnekteki gibi çizin.




Saat: 05.30




Saat: 09.30



Saat: 11.30



Saat: 02.30



Saat: 04.30


Saat: Beş buçuk

Saat: Dokuz buçuk


Saat: On bir buçuk

Saat: İki buçuk


Saat: Dört buçuk




Saat: 12.30




Saat: 03.30



Saat: 06.30



Saat: 01.30



Saat: 08.30

Saat: On iki buçuk

Saat: Üç buçuk

Saat: Altı buçuk

Saat: Bir buçuk

Saat: Sekiz buçuk

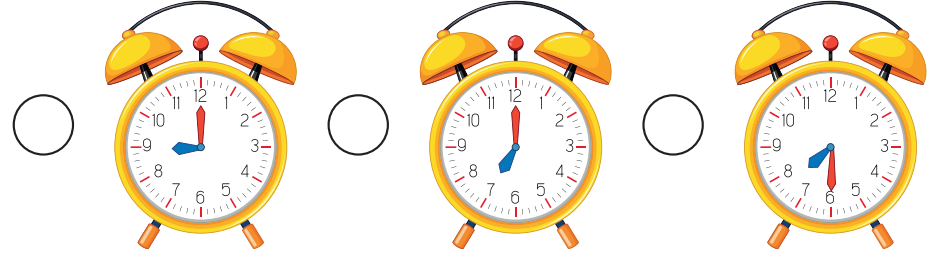
👉 Aşağıdaki metni okuyup soruları yanıtlayınız.

ELVİN'İN BİR GÜNÜ


Merhaba benim adım Elvin, 7 yaşındayım. Ben her sabah saat 07.00'da uyanırım. Elimiyüzümü yıkayıp kahvaltımı yaptıktan sonra saat 08.00'da evden çıkarım. 09.00'da dersimiz başlar. Saat 10:30'da beslenmemi yaparım.




✓ Elvin'in uyandığı saati işaretleyiniz.



✓ Elvin'in dersinin başladığı saati işaretleyiniz.



✓ Elvin'in beslenmesini yaptığı saati işaretleyiniz.

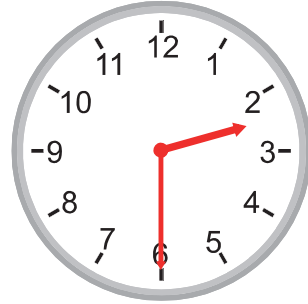
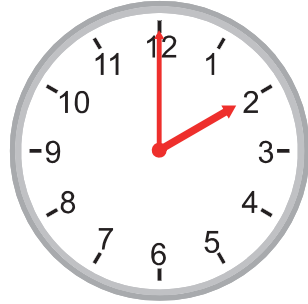
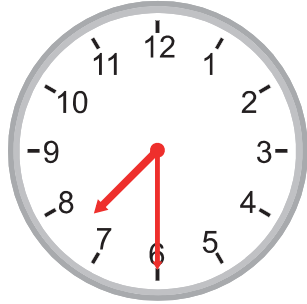
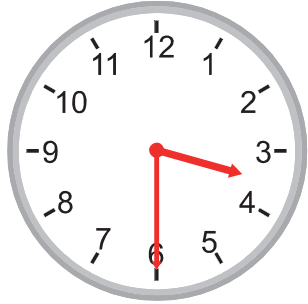
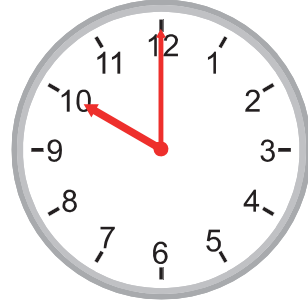
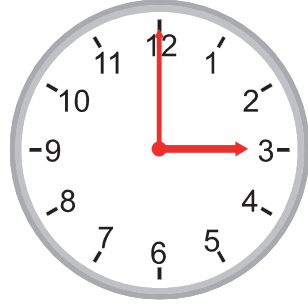
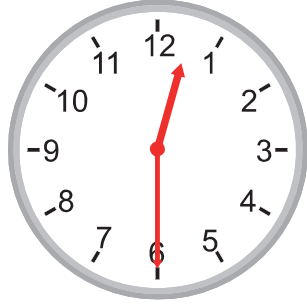
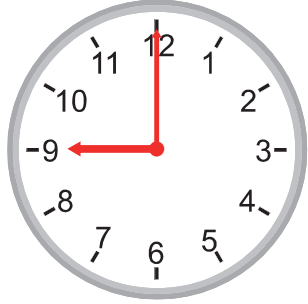
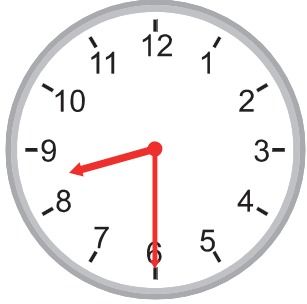
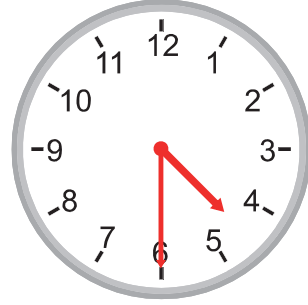

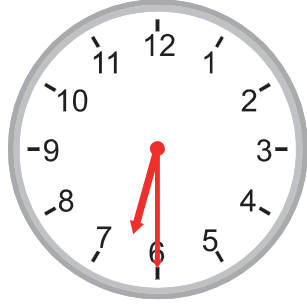
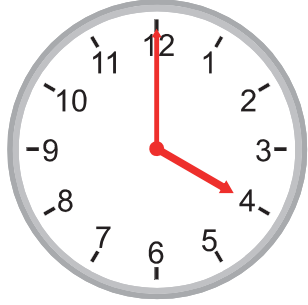
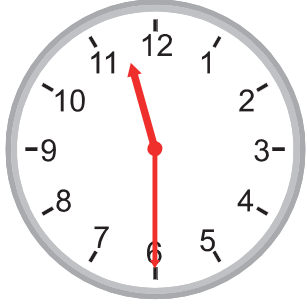


✓ Elvin'in evden çıktığı zamanı yandaki saatin üzerine çiziniz



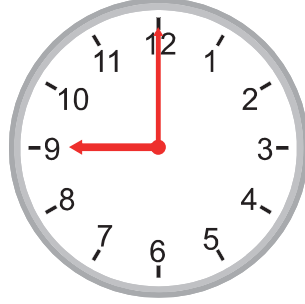
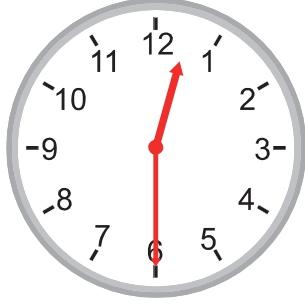
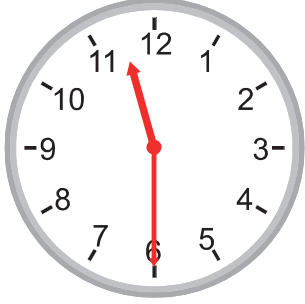
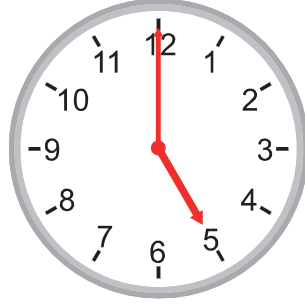
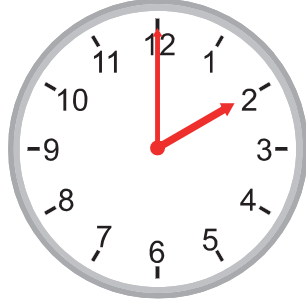
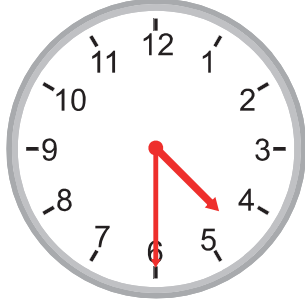
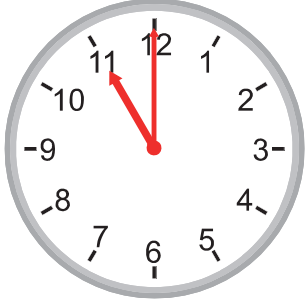
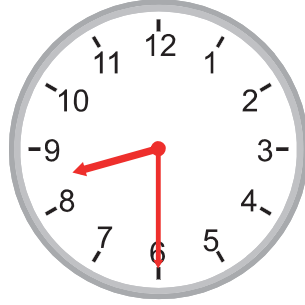
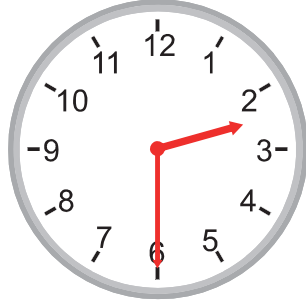

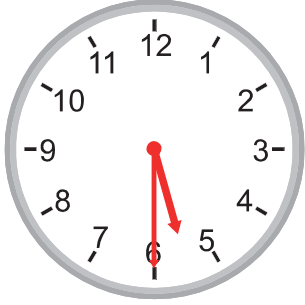
ALİŖTIRMALAR -1-

☞ AŖağıdaki saatlerin kaçı gösterdiğini yazınız.



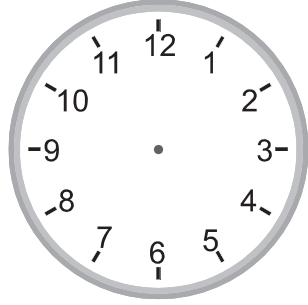
ALİŞTIRMALAR -2-

👉 Aşağıdaki saatlerin kaçı gösterdiğini yazınız.

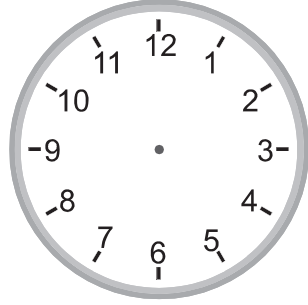


ALİŖTİRMALAR -3-


☞ AŖağıdaki saatlerin akrep ve yelkovanlarını çiziniz.




8:00




10:30



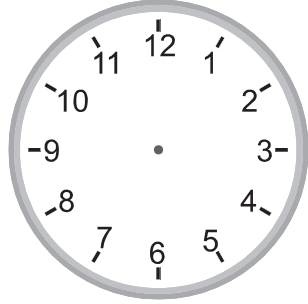
9:00



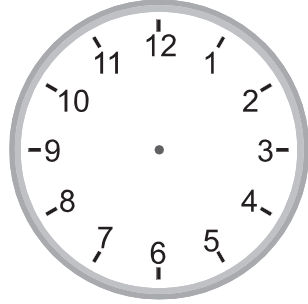
3:30




1:30




4:30




12:30



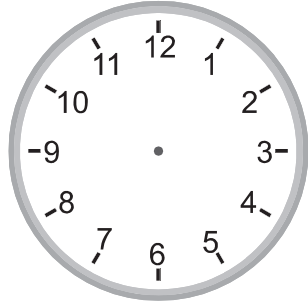
6:30



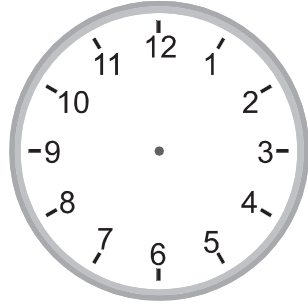
8:30



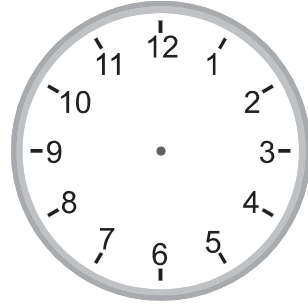
12:00




9:30




2:00



2:30



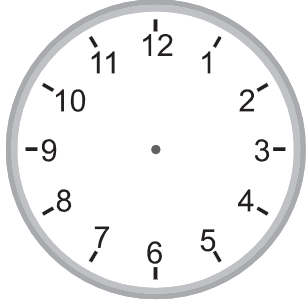
6:00



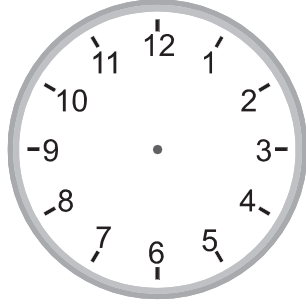
5:00

ALİŖTİRMALAR -4-

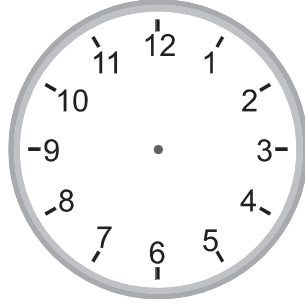
☞ AŖağıdaki saatlerin akrep ve yelkovanlarını çiziniz.




2:30




1:00



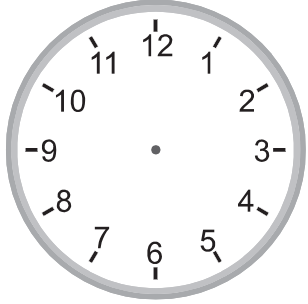
4:00



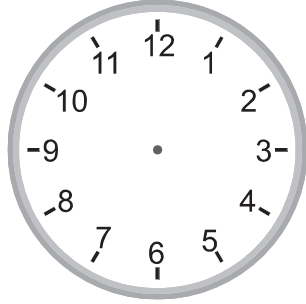
12:00



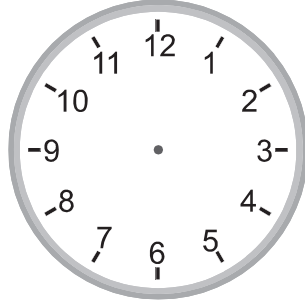
2:00




11:30



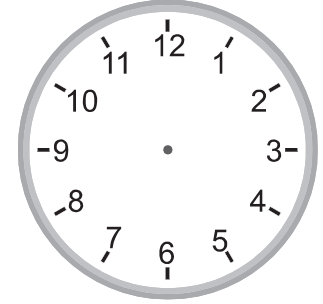
6:00



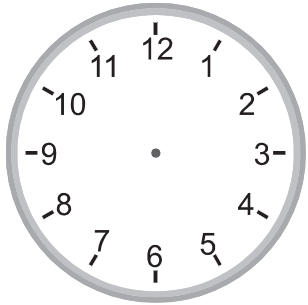
10:30



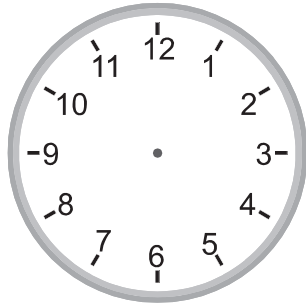
8:30



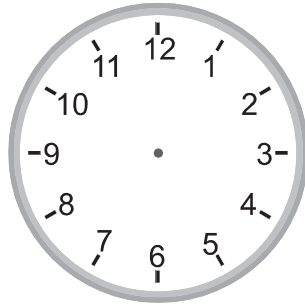
5:00




9:00



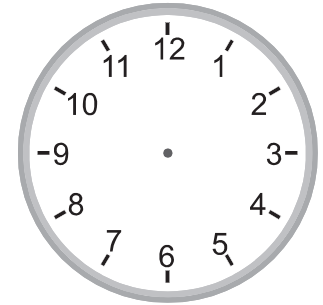
7:00



6:30



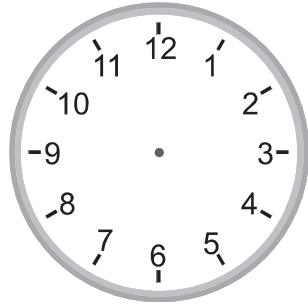

12:30




7:30

SAATLERİ YAZALIM / ÇİZELİM

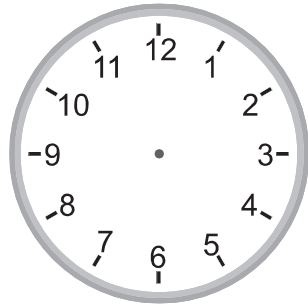


☞ Aşağıda bazı saatlerin okunuşu, bazı saatlerin ise akrep ve yelkovanları verilmiştir. Buna göre aşağıdaki alıştırmaları yapınız.





11:30



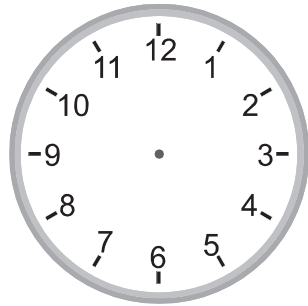
4:00






9:30



3:30



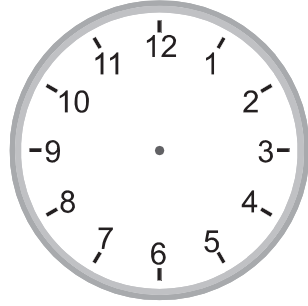

7:00



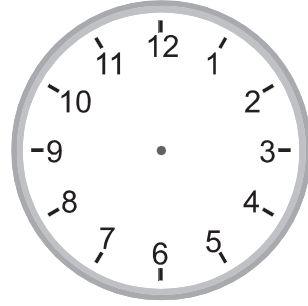
8:00

SAATLERİ YAZALIM / ÇİZELİM -2-



☞ Aşağıda bazı saatlerin okunuşu, bazı saatlerin ise akrep ve yelkovanları verilmiştir. Buna göre aşağıdaki alıştırmaları yapınız.



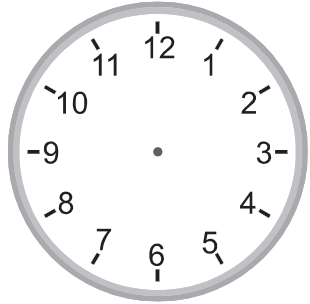
9:00



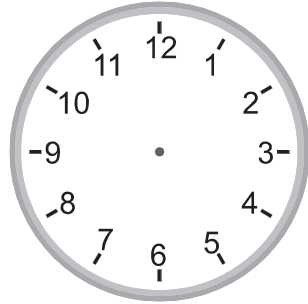
1:00



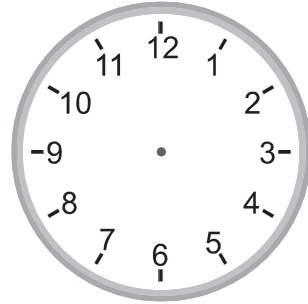
8:30





3:00



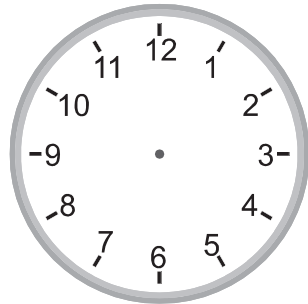
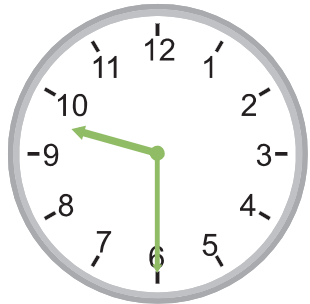
11:30






1:30



6:00



12:30



ZAMANI ÖLÇME

ZAMANI ÖLÇME

Takvim, ayı, haftayı ve günü takip etmek için kullandığımız araçtır.

Bir yıl 12 aydır:

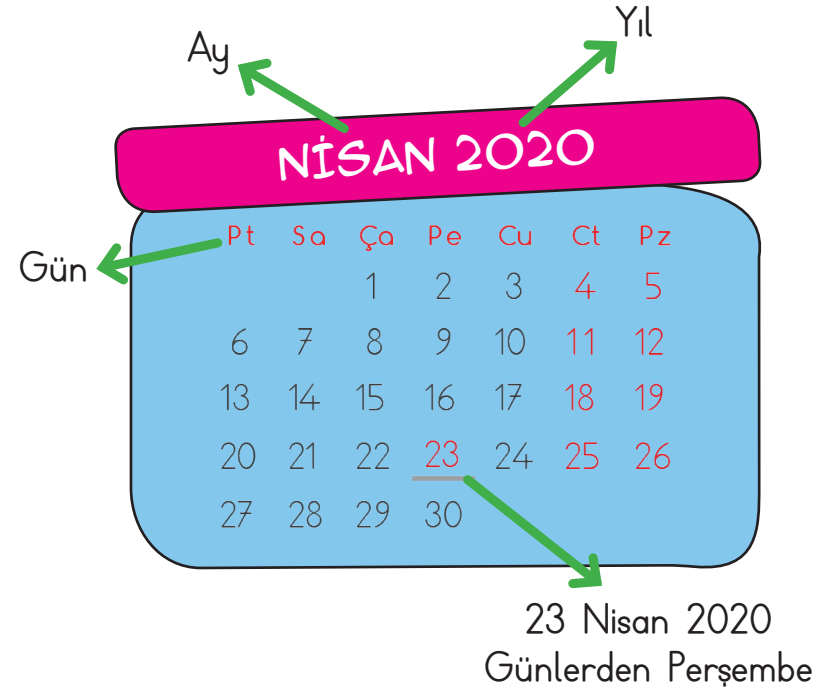
Ocak, Şubat, Mart, Nisan, Mayıs, Haziran, Temmuz, Ağustos, Eylül, Ekim, Kasım, Aralık yılın aylarıdır.

Bir hafta 7 gündür:

Pazartesi, Salı, Çarşamba, Perşembe, Cuma, Cumartesi ve Pazar haftanın günleridir.

Bir yılda 4 mevsim vardır:

Sonbahar, Kış, İlkbahar, Yaz



- ✓ Haftanın ilk günü pazartesi günüdür.
- ✓ Hafta sonu günleri cumartesi ve pazardır.
- ✓ Bir ayda 4 hafta vardır.
- ✓ Her mevsimde 3 ay vardır.
- ✓ **Sonbahar ayları:** Eylül, Ekim, Kasım
- Kış ayları:** Aralık, Ocak, Şubat
- İlkbahar Ayları:** Mart, Nisan, Mayıs
- Yaz Ayları:** Haziran, Temmuz, Ağustos

ALİŖTIRMA ZAMANI

☞ AŖağıdaki tabloya haftanın gnlerini yazınız. Ardından soruları yanıtlayınız.

HAFTANIN GNLERİ

1. Gn	2. Gn	3. Gn	4. Gn	5. Gn	6. Gn	7. Gn
.....	PerŖembe

✓ Haftanın ilk gn hangisidir?

.....

✓ Haftanın son gn hangisidir?

.....

✓ Bir haftada ka gn vardır?

.....

✓ Haftadaki tatil gnleri hangileridir?

.....

✓ Okullar hangi gn baŖlar?

.....

✓ PerŖembe gnden sonra hangi gn gelir?

.....

✓ Salı gnnden nce hangi gn gelir?

.....

✓ Cumadan 2 gn sonra hangi gn olur?

.....

ALİŞTİRMA ZAMANI

👉 Aşağıdaki kutucuklara yılın aylarının isimlerini yazınız.

1.Ocak....	2.	3.	4.	5.	6.
7.	8.	9.	10.	11.	12.

👉 Aşağıdaki kutucuklara belirtilen günleri yazınız.

DÜN	BUGÜN	YARIN
.....	Salı

DÜN	BUGÜN	YARIN
Cuma

DÜN	BUGÜN	YARIN
.....	Çarşamba

DÜN	BUGÜN	YARIN
.....	Perşembe

DÜN	BUGÜN	YARIN
Pazar

DÜN	BUGÜN	YARIN
.....	Çarşamba

DÜN	BUGÜN	YARIN
.....	Pazartesi

DÜN	BUGÜN	YARIN
.....	Cumartesi

ALİŖTIRMA ZAMANI

☞ AŖađıda verilen takvimi inceleyerek soruları yanıtlayınız.

MART 2020

Pt	Sa	Ça	Pe	Cu	Ct	Pz
						1
2	3	4	5	6	7	8
9	10	11	12	13	14	15
16	17	18	19	20	21	22
23	24	25	26	27	28	29
30	31					

✓ Ayın ilk günü hangisidir?

.....

✓ Ayın son günü hangisidir?

.....

✓ Mart ayının kaç gündür?

.....

✓ 5 Mart hangi gündür?

.....

✓ 8 Mart hangi gündür?

.....

✓ 14 Mart hangi gündür?

.....

✓ 20 Mart hangi gündür?

.....

✓ 27 Mart hangi gündür?

.....

✓ 2 Mart hangi gündür?

.....

✓ 18 Mart hangi gündür?

.....

✓ 31 Mart hangi gündür?

.....

✓ Hangi günler okullar tatildir?

.....

ALİŖTİRMA ZAMANI

☞ AŖağıdaki ifadeler doęru ise "D", yanlıŖ ise "Y" harfini boyayınız.

- D Y Bir hafta 12 gndr.
- D Y Bugn pazartesi ise yarın salıdır.
- D Y Haftanın ilk gn pazartesidir.
- D Y Cumartesi haftanın son gndr.
- D Y Salıdan nceki gn pazartesidir.
- D Y Haftanın çnc gn arŖambadır.
- D Y PerŖembeden sonraki gn arŖambadır.
- D Y Haftanın son gn pazardır.
- D Y Bir hafta 7 gndr.
- D Y Haftanın 6. gn cumartesidir.

☞ AŖağıdaki noktalı yerlere uygun ifadeleri yazınız.

- 12 7 nisan
- ocak aralık 4

- 1 ayı yılın son ayıdır.
- 2 Bir yılda ay vardır.
- 3 Bir yılda mevsim vardır.
- 4 Mart ayından sonra ayı gelir.
- 5 ayı yılın ilk ayıdır.
- 6 Bir haftada gn vardır.