

👉 Aşağıdaki metni okuyup sonrasında soruları yanıtlayınız.



## KÖY OKULU



Umut'un anne ve babası öğretmendi. Bir köy okulunda öğretmenlik yapacaklardı. Umut, kardeşi Defne, annesi ve babası ile birlikte köye taşındılar. Köy, onların daha önce yaşadıkları yelere benzemiyordu. Bahçede oynamak, hayvanlarla ilgilenmek, tavukların yumurtalarını toplamak çok hoşlarına gitti.

Defne, daha küçük olduğu için okula gitmiyordu. Umut'un ise babası öğretmeni olmuştu. Köy okulu küçüktü. Okulda sadece 27 öğrenci vardı. Umut okulda en çok bahçedeki ağaçların altında kitap okumayı ve resim yapmayı seviyordu.

Okul çıkışı köyedeki çocuklarla oyun oynuyorlardı. Köyde çocuk olmak daha eğlenceliydi.

1 Umut ve ailesi neden köye taşındılar?

Cevap:

2 Umut'un kardeşinin adı nedir?

Cevap:

3 Umut okulda en çok ne yapmayı seviyordu?

Cevap:

4 Köy okulunda kaç öğrenci vardı?

Cevap:

5 Aşağıdaki sözcüklerin eş anlamlılarını karşılıklı-

na yazınız.

fakir ➡ .....

ihtiyar ➡ .....

beyaz ➡ .....

kırmızı ➡ .....

👉 Aşağıdaki metni okuyup sonrasında soruları yanıtlayınız.

## KAFESTEKİ KUŞ

Kafesin içindeki kuşu, Osman amcaya gösterdim.

- Amca, kuşu kafesten çıkarır mısınız, dedim.

Osman amca:

- Olur. Madem çok istiyorsun, çıkarayım, dedi.

Kafesin ağzını açtı. Elini sokup kuşu tuttu, çıkardı. Minicik bir kuştur. Osman Amca, kuşu öptü. Sonra incitmemeye çalışarak bana verdi. Kuş, heyecan ve korku içindeydi. Minik yüreği hızlı hızlı atıyordu. Onu ben de Osman Amca gibi sevgiyle öptüm. Sonra da salıverdim. Avcumdan "pırr" diye uçtu. Gidip duvar saatinin üstüne kondu.



1 Yazar, Osman amcaya neyi gösteriyor?

Cevap:

2 Yazar, Osman amcadan ne yapmasını istiyor?

Cevap:

3 Osman amca, kafesin ağzını açtıktan sonra ne yapıyor?

Cevap:

4 Kuş ne içindeydi?

Cevap:

5 Kuşun yüreği nasıl atıyor?

Cevap:

6 Yazar kuşu öptükten sonra ne yapıyor?

Cevap:

👉 Aşağıdaki metni okuyup sonrasında soruları yanıtlayınız.

**İzmir**



Ege Denizi'nin kıyısında, insanı büyüleyen İzmir, Türkiye'nin en kalabalık üçüncü şehridir. Aynı zamanda bir liman şehri olan İzmir, bu yönüyle Türkiye'nin ekonomisine can katar. İzmir de İstanbul gibi tarih kokan bir şehirdir. Efes Antik Kenti, İzmir'in Selçuk ilçesinin sınırları içinde yer alır. Efes Antik Kenti'nin tarihi binlerce yıl öncesine kadar uzanır. İzmir denilince akla gelen şeylerden birisi de İzmir Fuarı'dır. İzmir Fuarı, Türkiye'nin en çok tanınan fuarlarının başında gelir. Her yıl İzmir'in kurtuluş tarihi olan Dokuz Eylül'ü de içine alan bir zaman diliminde on gün sürer. Fuar ülkemizin tanıtımında ve ticaretinin gelişmesinde önemli bir işlev görür. Tire köftesi, lokma tatlısı ve İzmir'in damak tadı ile özdeşleşmiş, mayasız bir hamur işi olan boyoz, İzmir'in en meşhur lezzetlerindedir.

1 Efes Antik Kenti hangi ilçededir?

Cevap:

2 Boyoz nedir?

Cevap:

3 İzmir hangi denize yakındır?

Cevap:

4 İzmir Fuarı ne kadar sürer?

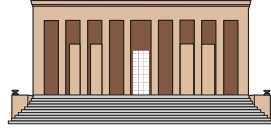
Cevap:

5 Dokuz Eylül tarihinin önemi nedir?

Cevap:

6 İzmir, Türkiye'nin kaçını büyük şehridir?

👉 Aşağıdaki metni okuyup sonrasında soruları yanıtlayınız.



Başkentimiz olan Ankara, ülkemizin en kalabalık ikinci şehridir. Şehrin adını taşıyan Ankara Tavşanı, Ankara Keçisi ve Ankara Kedisi dünya çapında bilinir. Ülkemizin yönetildiği yer olan Türkiye Büyük Millet Meclisi, Ankara'dadır. Ankara, Türkiye'nin ortasındadır. Zaten başkent olmasının nedenlerinden biri de budur. Ankara'da çok önemli bir yapı vardır. O da Atatürk'ün anıtmezarı olan Anıtkabir'dir. Anıtkabir, aslanlı yoluyla her gün binlerce ziyaretçiyi ağırlar. Ziyaretçiler Anıtkabir'de, Atatürk'ün kabrinde, ona saygılarını ve minnettarlıklarını sunarlar. Ankara deyince akla gelen başka bir şey de Seymenler'dir. Eski zamanlarda silahlı birlikler olan Seymenler, günümüzdeki bayram ve törenlerde kılıçlarını kuşanıp, yöresel tarihi kıyafetlerini giyip, yaptıkları gösteriler ile izleyenleri kendilerine hayran bırakırlar.

1 Ankara, Dünya'da neleri ile tanınır?

Cevap:

2 Ülkemizin yönetildiği yer neresidir?

Cevap:

3 Ziyaretçiler Anıtkabir'de ne yaparlar?

Cevap:

4 Seymenler gösterilere nasıl çıkarlar?

Cevap:

5 Ankara ülkemizin en kalabalık kaçınıcı şehridir?

Cevap:

6 Ankara, ülkemizin neresindedir?

# NOKTA - SORU İŞARETİ

👉 Aşağıdaki cümleleri okuyunuz. Cümlenin sonuna gelmesi gereken noktalama işaretlerini boyayınız.

1 Yarın okula gelecek misin . ?

2 Umut ile Ahmet birlikte oyun oynadı . ?

3 Seninle gelmemi ister misin . ?

4 Çok yakında yağmur yağacak . ?

5 Elimdeki kalemleri yere düşürdüm . ?

6 Dedemin okuduğu kitabın adı nedir . ?

7 Babam bir fabrikada çalışıyor . ?

8 O eski günlerimize ne zaman döneceğiz . ?

9 Bu günlerde size gelmeyi düşünüyorum . ?

10 Öğretmenin sorusunu doğru cevapladım . ?

11 Dün beni telefonla arayan sen miydin . ?

12 Masanın altındaki defterimi verir misin . ?

13 Ali'nin kırmızı kalemi çok güzel . ?

14 Birazdan annem gelip beni alacak . ?

15 Yağmurlu havalarda yürümeyi severim . ?

16 Erkenden kalkıp ödevlerimi bitirdim . ?

17 Benimle oyun oynamak ister misin . ?

18 Türkiye'nin en büyük gölü hangisidir . ?

19 Selin'in yanında oturan kimmiş . ?

20 Valizlerimi hazırlayıp yola çıkacağım . ?

👉 Karışık olarak verilen sözcükleri kullanarak cümleler oluşturunuz. Oluşturduğunuz cümlelerin sonuna uygun noktalama işaretini koyunuz.

✓ okan - olmuş - ikinci - sınavda

✓ Okan sınavda ikinci olmuş.

1 teneffüste - oynar mısın - oyun - benimle

✓

2 arabamız - gittik - bozulunca - tamirciye

✓

3 Atatürk - geldi - dünyaya - nerede

✓

4 gitti - doktora - olunca - hasta

✓

5 derslerimi - okudum - kitap - bitirince

✓

6 annem - içer - çayı - şekersiz

✓

7 dengeli - beslenmek - önemlidir - çok

✓

8 takmalıyız - kemerini - emniyet - araçta

✓

9 nereye - okuldan - gidelim - sonra

✓

10 Elif - verir misin - kalemini - kırmızı

✓

11 En - seviyorsun - çok - yemeği - hangi

✓

👉 Aşağıdaki metni okuyup sonrasında soruları yanıtlayınız.



## BENİM HAYATIM ÖNEMLİ DEĞİLDİR!

1921 yılında düşman orduları Sakarya'ya doğru ilerliyordu. Mustafa Kemal Paşa, başkomutan olarak düşman ordusunun ilerleyişini durdurmak için ordunun yönetimini eline aldı. Cepheye gitti.

Bir gün Sakarya'da cephede dolaşırken, atın üzen-  
gisinden ayağı kayarak yere düştü. Kaburga kemikleri  
kırılan Mustafa Kemal, alçılar içinde yatağa girdi. Dok-  
torlar kendisine uzun süre dinlenmesini, böyle yap-  
mazsa hayatının tehlikeye gireceğini söyledikleri zaman  
Mustafa Kemal:

- Hayır, diye cevap verdi. Benim hayatım değil, mem-  
leketin kurtulması önemlidir!

1 Doktorlar, Mustafa Kemal'e ne söylediler?

Cevap:

2 Mustafa Kemal nerede dolaşıyordu?

Cevap:

3 Mustafa Kemal, doktorlara nasıl cevap verdi?

Cevap:

4 Mustafa Kemal, ordu yönetimini niçin ele aldı?

Cevap:

5 Düşman, ne zaman Sakarya'ya doğru ilerliyordu?

Cevap:

6 Başkomutan kimdi?

Cevap:

👉 Aşağıdaki metni okuyup sonrasında soruları yanıtlayınız.



## EREN'İN OKULU

Eren, okulun biraz aşağısında oturuyordu. Mahalleleri çok güzeldi. Her yer yemyeşildi. Oradaki evlerin hepsinin bahçesi vardı. Bahçeler ağaçlarla doluydu. Hele okulun bahçesini bir görseniz. Yüz yıllık ağaçlar vardı. Gövdeleri çok kalındı. Ağacı dört çocuk yan yana gelse ancak elleri yetişirdi.

Eren'in annesi ve dedesi de bu okulda okumuştular. Bu nedenle Eren okulunu çok seviyordu. Her gün okula neşeye, mutlulukla, hevesle gidiyordu. Zaten arkadaşlarının çoğu okula seyerek geliyordu. Çünkü okulda çok iyi vakit geçiriyorlardı. Yeni bilgiler öğrenip, oyun oynuyorlardı.

1 Erenlerin mahallesi nasıldı?

Cevap:

2 Erenlerin mahallesindeki evlerin özelliği neydi?

Cevap:

3 Okulun bahçesindeki ağaçların özelliği neydi?

Cevap:

4 Eren'den başka ailesinden kimler bu okulda okumuşlar?

Cevap:

5 Eren her gün okula nasıl gidiyordu?

Cevap:

6 Eren ve arkadaşları okulda neler yapıyordu?



👉 Aşağıdaki metni okuyup sonrasında soruları yanıtlayınız.

## ÇİFTÇİ İLE KARTAL



Kartalın biri, bir ağa yakalanmış. Oradan bir çiftçi geçiyormuş. Kuşun o güzelliğine, gözlerinin o bakışına dayanamamış, kurtarıp azat etmiş. Kartal da bilmiş kendine edilen iyiliği.

Çiftçi, gidip bir duvarın dibine oturmuş. Kartal bakmış ki duvar çürük, çöküverecek. Hemen adamın üzerine doğru inip başından külahını kapıvermiş. Çiftçi hemen kalkıp arkasından gitmiş. Kartal külahı bırakmış. Çiftçi, külahı alıp yine geldiği yere dönmüş. Bir de ne görsün. Duvar çöküvermemiş mi! Kalsaymış ölecekmış. "Gördüğü iyiliğe karşılık, o kuşcağz, beni kurtarmak istemiş." diye düşünmüş.

İyilik etmekten çekinmeyin, siz de karşılığını görürsünüz.

1 Kartal neye yakalanmış?

Cevap:

2 Kartalı kim kurtarmış?

Cevap:

3 Kartal, külahı ne zaman almış?

Cevap:

4 Çiftçi, nerede dinleniyormuş?

Cevap:

5 Duvar neden çökmüş?

Cevap:

6 İyilik etmek neden önemliymiş?

Cevap:

## “NE?” SORUSUNA YANIT ARIYORUZ!

👉 Aşağıdaki cümlelerdeki hangi sözcük “Ne?” sorusunun yanıtıdır? Örnekteki gibi işaretleyiniz.

✓ Babam eve gelirken fırından ekmek aldı.

1 Arkadaşımdan kalem aldım.

2 Dün akşam ailecek film izledik.

3 Ablam yeni bir elbise aldı.

4 Bu sabah kahvaltıda yumurta yedim.

5 Annem yemekte mantı yaptı.

7 Çalışma odasına masa aldık.

6 Bakkaldan meyve suyu aldım.

7 Dün akşam iki saat kitap okudum.

8 Yere düşen tabak kırıldı.

9 Dedem bayramda bana şeker verdi.

10 Turuncu saksıya çiçek diktik.

11 Kardeşime yeni bir gözlük aldık.

12 Çayın içine şeker attım.

# “KİM?” SORUSUNA YANIT ARIYORUZ!

👉 Aşağıdaki cümlelerdeki hangi sözcük “Kim?” sorusunun yanıtıdır? Örnekteki gibi işaretleyiniz.

✓ Dün akşam bize dayım geldi.

1 Ahmet dün okula gelmedi.

2 Okuldan sonra Büşra bize gelecek.

3 Mehmet ödevlerini bitirmiş.

4 Babam bugün doktora gitti.

5 Beren bugün yeni yaşına girdi.

7 Metin, kalemını kaybetti.

6 Dün yapılan sınavda Ali birinci oldu.

7 Emre en çok matematik dersini seviyor.

8 Pelin, dedesinin çorbasını yaptı.

9 Elif yeni elbisesini giydi.





10 Mesut bugün yeni gözlüklerini taktı.

11 Vedat çok güzel bir gol attı.

12 Efe parkta oyun oynuyor.

# VERİ TOPLAMA VE DEĞERLENDİRME

👉 Aşağıdaki tabloları dikkatlice inceleyip soruları yanıtlayınız.





SINIFIMIZDA SEVİLEN RENKLER	
 mavi	8
 pembe	5
 yeşil	2
 kırmızı	4

- 1 En çok sevilen renk hangisidir?  
.....
- 2 En az sevilen renk hangisidir?  
.....
- 3 Mavi rengi seven kaç kişi vardır?  
.....
- 4 Yeşil rengi seven kaç kişi vardır?  
.....
- 5 Pembe rengi seven kaç kişi vardır?  
.....

## JOKER SORU!

En çok sevilen renk ile en az sevilen rengin farkı kaçtır?  
.....

- 6 Sınıfta toplam kaç kişi vardır?  
.....
- 7 Pembe rengi sevenler ile yeşil rengi sevenlerin toplamı kaçtır?  
.....

HAYVANAT BAHÇESİNDEKİ HAYVANLAR	
	4
	9
	2
	8

- 1 En fazla olan hayvan hangisidir?  
.....
- 2 En az olan hayvan hangisidir?  
.....
- 3 Kaç tane fil vardır?  
.....
- 4 Kaç tane aslan vardır?  
.....
- 5 Kaç tane maymun vardır?  
.....

## JOKER SORU!

En çok olan hayvan ile en az olan hayvanın farkı kaçtır?  
.....

- 6 Toplam kaç hayvan vardır?  
.....
- 7 Fil, maymun ve zürafaların toplamı kaçtır?  
.....

# VERİ TOPLAMA VE DEĞERLENDİRME

Aşağıdaki tabloları dikkatlice inceleyip soruları yanıtlayınız.

SINIF ARKADAŞLARIMIZIN TUTTUĞU FUTBOL TAKIMLARI	
	6
	1
	3
	9

- 1 En az taraftarı olan takım hangisidir?  
.....
- 2 En çok taraftarı olan takım hangisidir?  
.....
- 3 Galatasaray'ı tutan kaç kişi vardır?  
.....
- 4 Beşiktaş'ı tutan kaç kişi vardır?  
.....
- 5 Fenerbahçe'yi tutan kaç kişi vardır?  
.....

## JOKER SORU!

En çok taraftarı olan takım ile en az taraftarı olan takım arasında fark kaçtır?  
.....

- 6 Sınıfta toplam kaç kişi vardır?  
.....
- 7 Beşiktaş ve Trabzonspor'u tutan toplam kaç kişi vardır?  
.....

## ÇOCUKLAR VE YAŞLARI

 Gökhan	10
 Neslihan	6
 Gürhan	9
 Sibel	8

- 1 Yaşı en küçük olan çocuğun adı nedir?  
.....
- 2 Yaşı en büyük olan çocuğun adı nedir?  
.....
- 3 Neslihan kaç yaşındadır?  
.....
- 4 Sibel kaç yaşındadır?  
.....
- 5 Gökhan, Sibel'den kaç yaş büyüktür?  
.....

## JOKER SORU!





3 yıl sonra Sibel ile Gürhan'ın yaşları toplamı kaç olur?  
.....

- 6 Erkeklerin yaşları toplamı kaçtır?  
.....
- 7 Kızların yaşları toplamı kaçtır?  
.....

# VERİ TOPLAMA VE DEĞERLENDİRME

Aşağıdaki tabloyu dikkatlice inceleyip soruları yanıtlayınız.

Tablo: Kümesteki hayvanların sayısı

HAYVANLAR	SAYILARI
Tavuklar	
Civcivler	
Ördekler	
Tavşanlar	

Tavşanların Sayısı

.....

Ördeklerin Sayısı

.....

Civcivlerin Sayısı

.....

Tavukların Sayısı

.....

1 Tavuklarla civcivlerin toplamı kaçtır?

2 Ördeklerle tavşanların toplamı kaçtır?

3 Civcivlerden 4 tanesi kaçarsa kümeste kaç civciv kalır?

4 Tavşanlarla tavukların farkı kaçtır?

# VERİ TOPLAMA VE DEĞERLENDİRME

Aşağıdaki tabloyu dikkatlice inceleyip soruları yanıtlayınız.

Tablo: Futbolcuların attıkları gol sayıları

HAYVANLAR	SAYILARI
Burak	
Vedat	
Cenk	
Cengiz	

Vedat

Cenk

Burak

Cengiz

1 Burak ile Cengiz toplam kaç gol atmıştır?

2 Vedat'ın 20 gole ulaşması için kaç gol daha atması gerekir?

3 Hangi futbolcular aynı sayıda gol atmıştır?

4 En çok gol atan futbolcu, en az gol atan futbolcuya göre kaç gol fazla atmıştır?

Tablo verilerin toparlanarak daha düzenli halde gösterimi için kullanılan bir araçtır. Günlük hayatımızda tabloyu birçok yerde kullanırız.

## ÇETELE TABLOSU

Verileri çizgi çekerek gösterdiğimiz bu tabloya denir. Verileri çizgiyle gösteririz. Kolay saymak için her dördüncü çizgiden sonra bir tane çizgiyi dört çizginin üzerine çizeriz.

| → 1      |||| → 5

## ÖRNEK

1 /A Sınıfının Sevdiği Renkler	
Renkler	Öğrenci Sayısı
Kırmızı	
Yeşil	
Mavi	
Pembe	
Sarı	

## SAYI TABLOSU

Elde ettiğimiz verileri sayılarla gösterdiğimiz tablonun adına "sayı tablosu" deriz. Sayı tablosu yerine sıklık tablosu da diyebiliriz.

## ÖRNEK

1 /A Sınıfının Sevdiği Renkler	
Renkler	Öğrenci Sayısı
Kırmızı	5
Yeşil	2
Mavi	8
Pembe	11
Sarı	4

## TABLO YORUMLAMA

- 🌸 Tabloya göre en sevilen renk hangisidir? \_\_\_\_\_
- 🌸 Tabloya göre en az sevilen renk hangisidir? \_\_\_\_\_
- 🌸 Kırmızı ile mavi renk sevenlerin toplamı kaç kişidir? \_\_\_\_\_
- 🌸 Pembe renk sevenler, sarıdan kaç tane fazladır? \_\_\_\_\_
- 🌸 1 /A sınıfında kaç tane öğrenci vardır? \_\_\_\_\_
- 🌸 Tabloya göre kırmızı sevenlerin sayısı, pembe renk sevenlerin sayısından kaç tane eksiktir? \_\_\_\_\_





Adım-Soyadım:.....

“Defne Oyuncak” mağazasında gün sonunda satılan oyuncaqlarla ilgili çetele tablosu aşağıda gösterilmiştir. Tabloyu dikkatlice inceleyelim. Ardından aşağıdaki etkinlikleri yapalım.

Oyuncaqlar	Satış Adedi

Yukarıdaki çetele tablosununa ait sıklık (sayı) tablosunu aşağıda oluşturalım.

Oyuncaqlar	Satış Adedi

☀ En az satılan oyuncak aşağıdakilerden hangisidir?

- a. b. c.

☀ En çok satılan oyuncak hangisidir?

- a. b. c.

☀ Yandaki oyuncak kaç tane satılmıştır?

- a. 6 b. 7 c. 8

☀ Yandaki oyuncak kaç tane satılmıştır?

- a. 9 b. 10 c. 11

☀ ve toplam kaç adet satılmıştır?

- a. 12 b. 14 c. 16






Pekşen Manav'a hoşgeldiniz. Bu manavda bugün en çok hangi ürünleri sattık merak ediyor musunuz?

Bugün manavda 12 kilo domates, 14 kilo muz, 5 kilo biber, 11 kilo havuç ve 10 kilo çilek satıldı.






Yukarıdaki bilgilere göre sayı tablosunu ve çetele tablosunu oluşturalım.



### ÇETELE TABLOSU

Ürünler	Satış Miktarı
	
	
	
	
	

### SAYI TABLOSU

Ürünler	Satış Miktarı
	
	
	
	
	

Yukarıdaki bilgilere göre aşağıdaki soruları yanıtlayalım.

 En çok satılan ürün aşağıdakilerden hangisidir?

a.



b.



c.



 En az satılan ürün aşağıdakilerden hangisidir?

a.



b.



c.



 Aşağıdaki işlemleri tabloya göre yapalım.

$$\text{strawberry} + \text{green pepper} = \dots \text{ kilo}$$

$$\text{banana} - \text{carrot} = \dots \text{ kilo}$$



**Kulaç** : İki kolumuzu yana doğru açtığımızda iki kolumuz arasındaki mesafedir.



**Parmak** : El parmağının eni kadar olan uzunluk ölçüsüdür.



**Adım**: Bir adım attığımızda öndeki ve arkadaki ayağımız arasındaki mesafedir.



**Ayak**: Baş parmak ile topuğumuz arasındaki mesafedir.



**Karış** : Elimizin baş parmağı ile küçük parmağı arasındaki mesafedir.



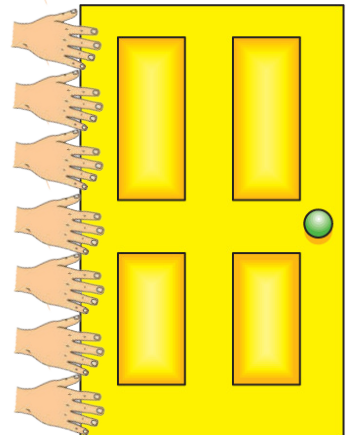
Deniz ile topun arası ..... adımdır.



Ayla ile topun arası ..... adım ve ..... ayaktır.




Çantanın boyu 3 ..... dir.



Kapının boyu 7 ..... dir.

## Uzunlukları Karşılaştırma



Halit, Filiz, Tarık, Türkan, Kemal ve Hülya dondurmacıya gittiler. Aldıkları dondurmaların boylarını inceleyelim. Ardından aşağıdaki soruları yanıtlayınız.

1. En kısa boylu dondurmanın sahibi kimdir?

- a. Türkan  
b. Tarık  
c. Filiz

2. En uzun boylu dondurmanın sahibi kimdir?

- a. Hülya  
b. Türkan  
c. Kemal

3. Dondurmaların boylarını en uzundan en kısaya doğru sıralayalım.

1. ....  
2. ....  
3. ....  
4. ....  
5. ....  
6. ....

Aşağıdaki cümlelerin başında doğru ise "D" yanlış ise "Y" yazalım.

..... Türkan'ın dondurması, Kemal'in dondurmasından kısadır.

..... Hülya'nın dondurması, Tarık'ın dondurmasından uzundur.






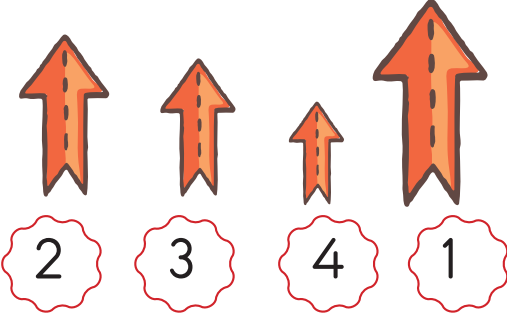
..... Filiz'in dondurması, Halit'in dondurmasından uzundur.

..... Kemal'in dondurması en uzun olandır.





..... Türkan ile Filiz'in dondurmalarının boylarını toplarsak, Halit'in dondurmasının boyu ile aynı olur.



Aşağıdaki nesnelere en uzundan en kısaya doğru sıralayalım.



Aşağıdaki nesnelere en kısıdan en uzuna doğru sıralayalım.



## Standart Olmayan Ölçü Birimleri Problemleri

Kardeşimin uçurtma ipi 18 kulaçtır. Benim ipim ise ondan 9 kulaç azdır. Benim kaç kulaç ipim vardır?


Odamın boyu 13 ayaktır. Eni ise 7 ayaktır. Odamın eni boyundan ne kadar kısadır?


Sıramın uzunluğu 8 karıştır. Öğretmenimin masasının uzunluğu benim sıramdan 4 karış fazla ise öğretmenimin masası kaç karıştır?


Babamın kitabının boyu 12 parmaaktır. Benim kitabımın boyu 3 parmaaktır ise babamın kitabının boyu benimkinden ne kadar fazladır?


Ayşe'nin balonunun ipi 6 karıştır. Benim ipim Ayşeden 3 karış uzundur. Buna göre benim ipim kaç karıştır?


Ali'nin oltasının misinası 12 kulaçtır. Benim misinam Aliden 6 kulaç kısadır. Buna göre benim misinam kaç kulaçtır?
