





- Aşağıdaki terazi dengede olduğuna göre noktalı alanlara uygun sayıları yazınız.



- 1 kilogram = gram
- 1000 gram = kilogram
- 1kg = 1000 g
- 1000 g = kilogram
- 500 g + 500 g = g
- 1kg = g + 500 g
- 500 g + 500 g = kg

- Görsellerdeki varlıkların ağırlıklarını tahmin ederek eşleştirmeleri yapınız.



- Aşağıdaki ifadeler doğru ise "D" yazan kutucuğu, yanlış ise "Y" yazan kutucuğu boyayınız.

Bir çay bardağı kadar toz şekerin kütlesini kilogram ile ölçeriz.

D

Y

1 kilogram, 100 gramdan daha ağırdır.

D

Y

1 çuval patatesin kütlesini kilogram ile ölçeriz.

D

Y

Eczanedeki ilaçlar kilogram ile ölçülür.

D

Y

Kuyumcudan aldığımız takılar kilogram ile ölçülür.

D

Y

Buzdolabının kütlesini gram ile ölçeriz.

D

Y

Kilogramı kısaca "kg" sembolü ile gösteririz.

D

Y

Günlük hayatımızda kullanılan ağırlık ifadesi aslında küttedir.

D

Y

Bir mandalınanın ağırlığı yaklaşık 4 kilogram kadardır.

D

Y