

FEN BİLİMLERİ TESTİ

1



Dünyanın küre şeklinde olduğunu gözlemledim.

Yukarıdaki bilgileri veren kişi aşağıdakilerden hangisidir?

- A. Galileo Galilei
- B. Kopernik
- C. Biruni

2

Yağmur kar gibi hava olayları oluşur. Atmosfer ve ozon tabakası buradadır.

Yukarıda bahsedilen katman hangisidir?

- A. Su tabakası
- B. Hava tabakası
- C. Kara tabakası

3

Bu akşam denizin sesini dinledim. Kokusunu içime çektim. Ne de güzel görünüyor?

Yukarıdaki cümleleri kuran Ali, hangi duyu organını kullanmamıştır?

- A. Kulak
- B. Göz
- C. Dil

4

- ☞ Sıklıkla banyo yapmak.
- ☞ Çok sıcak ve soğuk nesnelere uzak durmak.
- ☞ Dövme yapıştırmamak.

Yukarıdaki ifadeler hangi duyu organımızın sağlığı için gereklidir?

- A. Deri
- B. Göz
- C. Burun

5




Hangisi diğerlerinden farklı bir hareket yapar?

- A. İleri atılan ok
- B. Geriye dönen araba
- C. Kalkış yapan uçak

FEN BİLİMLERİ TESTİ

- 6 Dokunma Burun
Tat Alma Deri
Koklama Dil

Duyu organları ile görevleri eşleştirildiğinde nasıl bir şekil oluşur?

- A.  B.  C. 




7 "Babam dolabı hareketi ile ileri, reketi ile geri hareket ettirdi." cümlesinde boşluklara hangi kelime gelmelidir?

- A. itme, çekme
B. itme, sallama
C. tutma, itme

8 Dünyanın katmanlarından hangisi en ağırdır?

- A. Çekirdek
B. Atmosfer
C. Magma

9 Aşağıdaki görsellerden hangisi diğerlerinden farklı hâdedir?

- A.  B. 
C. 

10 I. Maddelerin kokusunu burnumuz ile alırsız.

II. Pürüzlü yüzeylerin üzeri dümdüzdür.

III. Kırılgan maddeler eski haline dönebilir.

Yukarıda verilen ifadelerden hangisi veya hangileri doğrudur?

- A. I B. II ve III
C. I ve III