


TEST 12



1 Yukarıdakilerden hangisinin doğal yaşam alanı denizlerdir?

- A) 3
- B) 1
- C) 2

2 Aşağıdakilerden hangisi bir bitki değildir?



3 Aşağıdakilerden hangisinde yapay çevreye ait bir yapı yoktur?



4 Yukarıdakilerden hangileri doğal çevrenin yok olmasının nedenlerinden biri değildir?

- A) Fabrika bacalarına filtre takılması
- B) Ormanların yok edilmesi
- C) Plansız ve yanlış kentleşme

5 Şehirde yaşayan üçüncü sınıf öğrencisi Umut çevresinde aşağıdakilerden hangisini göremez?

- A) Park ve bahçeleri
- B) Araba ve otobüsleri
- C) Yılan ve gergadan

6 Aşağıdakilerden hangisi doğal bir çevre değildir?



TEST 12




7 Hangisi doğal çevreye örnek gösterilebilir?

- A) Okul
- B) Ev
- C) Orman

8 Aşağıdakilerden hangisi bir akarsuyun kirlenmesinin nedenlerinden biri değildir?

- A) Deterjanlı sular
- B) Yağmur suları
- C) Fabrika atıkları

9 Aşağıdakilerden hangisi doğal çevrenin yok olmasında etkilidir?

- A) 
- B) 
- C) 




10 Doğal bir çevrede aşağıdakilerden hangisinin olması beklenmez?

- A) Araba
- B) Ağaç
- C) Dağ

11 Aşağıdakilerden hangisi insan etkisi olmadan kendiliğinden oluşmuştur?

- A) Bisiklet yolu
- B) Göl
- C) Alışveriş merkezi

12 Aşağıdakilerden hangisi doğal anıtlardan biri değildir?

- A) 
- B) 
- C) 

13 Aşağıdakilerden hangisi geri dönüşüme gidebilecek evsel atıklar arasında yer almaz?

- A) 
- B) 
- C) 

TEST 12

14 Aşağıdaki verilen bilgilerden hangisi yanlıştır?

- A) Doğal çevre insanlar tarafından bozulmuştur.
- B) Doğal çevre yapay çevreden daha fazla yer kaplar.
- C) Yapay çevrede yalnızca insanlar yaşar.

15 Aşağıdakilerden hangisi doğal çevreye zarar veren bir davranış değildir?

- A) Ağaç ve çalıları kesmek
- B) Çevredeki atıkları çöpe atmak
- C) Denizlere plastik poşet atmak

16 Aşağıdakilerden hangisi yapay çevre ile doğal çevre arasındaki farklardan biri değildir?

- A) Doğal çevrede az insan ve araca rastlanır.
- B) Yapay çevre insanlar tarafından oluşturulmuştur.
- C) Her ikisinde de canlılar yaşar.

17 Aşağıdakilerden hangisi canlılar için olmazsa olmazlardan biri değildir?

- A) Hava
- B) Su
- C) Sevgi

18 Aşağıdakilerden hangisi doğal varlıklara örnek olamaz?

A)



B)



C)



19 Aşağıdakilerden hangisinin doğal bir çevrede olması beklenmez?

A)



B)



C)

