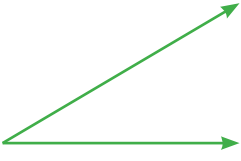
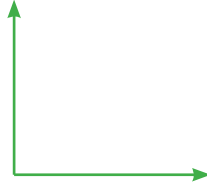


EV ALIŐTIRMALARI

● AŐağıdaki açları ölçelim. Açların kenar ve köşelerini isimlendirelim. Açı ölçülerini ve açların çeşitlerini altlarına yazalım.



.....



.....



.....

● AŐağıda ölçüleri verilen açları çizelim.

$s(\hat{A})=55^\circ$

$s(\hat{T})=115^\circ$


$s(\hat{L})=120^\circ$

$s(\hat{F})=165^\circ$


$s(\hat{H})=100^\circ$

$s(\hat{R})=90^\circ$

● AŐağıdaki kare, dikdörtgen ve üçgeni isimlendirip altlarına yazalım.



.....

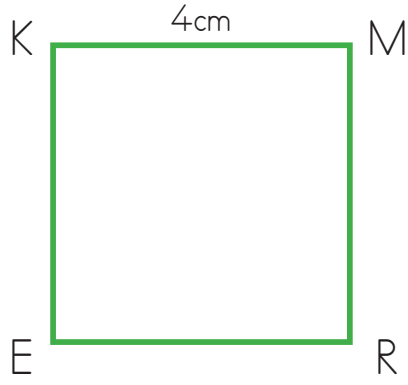


.....

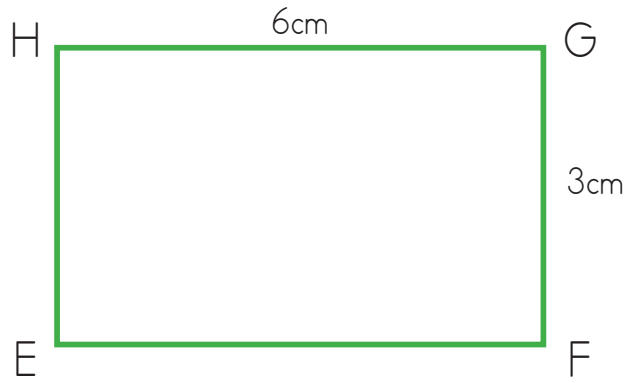


.....

- Aşağıdaki kare ve dikdörtgenin özelliklerini boş bırakılan alanlara yazalım.



ERMK Karesinin Kenarları	Kenar Uzunlukları	Köşe Açılarının Ölçüsü	Köşe Açılarının Çeşidi



EFGH Karesinin Kenarları	Kenar Uzunlukları	Köşe Açılarının Ölçüsü	Köşe Açılarının Çeşidi