

Adı-Soyadı:.....

Aşağıdaki metni okuyup soruları cevaplayınız.




Cenk cuma günü annesi ile birlikte kontrol için diş doktoruna gitti. Diş doktoru Cenk'e dişinde bir oyuk gördüğünü söyledi. Daha sonra özel aletleri ile oyuğu temizledi. Ardından oyuğa dolgu yaptı.

Diş doktoru Cenk'e 2 önemli uyarıda bulundu:

1

Günde en az 2 kere ve 2 dakika boyunca dişlerini fırçalamalısın.



2

Şekerli yiyecekleri daha az tüketmelisin.

1- Cenk ve annesi neden diş doktoruna gitmişler?

2- Diş doktoru Cenk'in dişlerinde ne görmüş?

3- Diş doktoru Cenk'in dişine ne yapmış?

4- Cenk aşağıdaki yiyeceklerden hangisini daha az tüketmelidir?



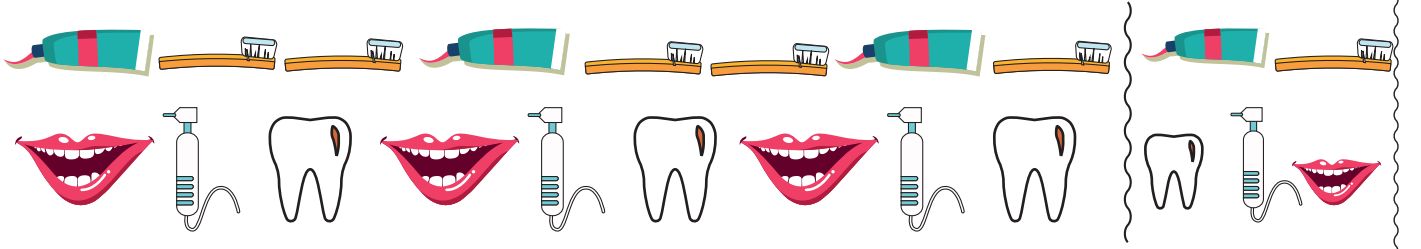
5- Diş doktoru yerine aşağıdakilerden hangisini söyleyebiliriz?

a. Diş hekimi

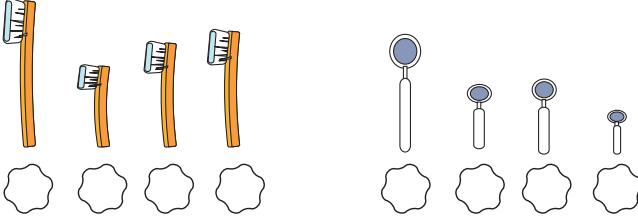
b. Diş hakimi

c. Diş perisi

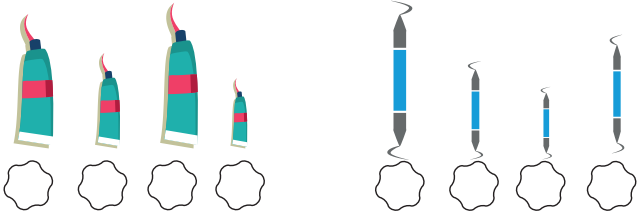
Aşağıdaki örüntüler hangisiyle devam etmelidir? İşaretleyiniz.



Aşağıdaki nesnelere uzun dan kısaya doğru sıralayalım.



Aşağıdaki nesnelere kıstadan uzuna doğru sıralayalım.



Aşağıdaki milli bayramlardan hangisini 23 Nisan günü kutlarız?

- Cumhuriyet Bayramı
- Ulusal Egemenlik ve Çocuk Bayramı
- Gençlik ve Spor Bayramı

Aday Adı	Oy Sayısı
Çağlar	12
Toprak	7
Oğuzhan	4
Deniz	10

Sınıfımızda yaptığımız başkanlık seçiminde öğrenciler yandaki tabloda gördüğümüz oyları aldılar.

Buna göre;

Sınıf başkanı olmuştur.

En az oyu almıştır.

Deniz ve Toprak toplam tane oy almışlardır.

Çağlar, Toprak'tan tane fazla oy almıştır.

Oğuzhan ve Çağlar toplam tane oy almışlardır.

Deniz ile Oğuzhan toplam tane oy almışlardır.

Aşağıdaki işlemlerdeki verilmeyen toplananları bulunuz.

$$\begin{array}{r} 9 \\ + \text{ } \\ \hline 16 \end{array}$$

$$\begin{array}{r} \text{ } \\ + 5 \\ \hline 13 \end{array}$$

$$\begin{array}{r} \text{ } \\ + 7 \\ \hline 15 \end{array}$$

$$\begin{array}{r} 13 \\ + \text{ } \\ \hline 19 \end{array}$$

$$\begin{array}{r} 10 \\ + \text{ } \\ \hline 10 \end{array}$$