

PARALARIMIZ

- Paralarımızın isimlerini örnekteki gibi yerleştirelim.

elli lira	yirmi beş kr.	elli kr.	beş lira	bir kr.	beş kr.
yirmi lira	yüz lira	on kr.	bir lira	on lira	iki yüz lira



.....
-------	-------



elli lira
-----------	-------	-------	-------	-------



.....
-------	-------	-------	-------	-------

- Aşağıda verilen para gruplarından hangilerinin 1 ₺ ettiğini işaretleyiniz.




- Aşağıda verilen para gruplarından hangisinin miktarı 100 ₺ dir. İşaretleyiniz.






PARAMIZIN DEĞERİ


● Aşağıda modellenen paraların değerlerini karşılaştırıp "<", ">" veya "=" işaretlerinden uygun olanını yazınız.



● Aşağıda modellenen paraların 1 ₺ ye eşit olabilmesi için kaç kuruş daha eklenmesi gerekir. Hesaplayıp noktalı alanlara yazınız.



● Aşağıda modellenen paraların toplam miktarlarını yazınız.



.....
₺

































.....
₺



.....
₺

PARALARIMIZ

- Aşağıda modellenen paraların toplam miktarlarını yazınız.

	+		+		=	₺
	+		+		=	₺
	+		+		=	₺
	+		+		=	₺
	+		+		=	₺
	+		+		=	₺
	+		+		=	₺
	+		+		=	₺
	+		+		=	₺
	+		+		=	₺

Sevgi Lokantası



Sevgi Lokantası'ndaki yemeklerin fiyatlarını inceleyelim.
Sonrasında soruları yanıtlayalım

MENÜ

Başlangıçlar

Patates	-----	13 ₺
Çorba	-----	8 ₺
Börek	-----	9 ₺



Ana Yemekler



Pilav	-----	16 ₺
Köfte	-----	19 ₺
Dolma	-----	17 ₺

Salatalar

Çoban Salata	---	13 ₺
Mevsim Salata	--	14 ₺



İçecekler



Ayran	-----	4 ₺
Limonata	-----	6 ₺
Süt	-----	3 ₺

Tatlılar

Pasta	-----	11 ₺
Baklava	-----	14 ₺



Elvin



Çorba

Köfte

+

.....

Çınar



Dolma

Ayran

+

.....

Ege



Patates

Pasta

+

.....

Berfin



Börek








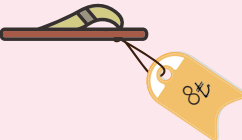
Süt

+

.....


























ÖDEME ZAMANI

● Aşağıdaki tabloda, bir mağazadaki ürünlerin fiyat listesi verilmiştir. Bu ürünlerin fiyatlarına karşılık gelen paraları örnekteki gibi işaretleyiniz.

ÜRÜNLER	50 TL	20 TL	10 TL	5 TL	1 TL	1 TL	1 TL	1 TL
	X			X	X	X	X	
								
								
								
								
								
								
								

BİZE NE KADAR KALDI?

● Mağazadaki ürünleri alırken görevliye verilen paralar tabloda belirtilmiştir. Alınması gereken para üstünü örnekteki gibi işaretleyiniz.

ÜRÜNLER	ÖDENEN						
 58₺	 		X		X	X	
 72₺							
 89₺							
 64₺	 						
 25₺	 						
 19₺							
 43₺							
 6₺							

PARA PROBLEM DEĞİL

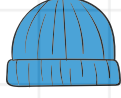
● Bir kıyafet mağazasında satılan ürünlerin fiyat listesi aşağıda verilmiştir. İnceleyip ardından problemleri çözünüz.



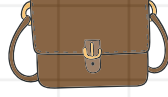
70 ₺



16 ₺



38 ₺



75 ₺



69 ₺



49 ₺



28 ₺

1 Bir pantolon ile fular alan bir kişi ne kadar para öder?

5 Çanta kazaktan kaç ₺ daha pahalıdır?

2 Bere çantadan kaç ₺ daha ucuzdur?

6 En pahalı üründen en ucuz ürünün fiyatını çıkarırsak sonuç kaç olur?

3 90 ₺ parası olan Elvin, bir kazak alırsa geriye kaç ₺ para üstü alır?

7 50 ₺ parası olan Ebru, çanta almak istiyor. Ebru'nun kaç ₺'ye ihtiyacı vardır?

4 2 gözlük ile 1 bere alan bir kişi satıcıya 80 ₺ öderse geriye kaç ₺ para üstü alır?

8 50 ₺ parası olan Sude, 1 kazak aldığında geriye kaç ₺ para üstü almalıdır?