

# DOĞRU, DOĞRU PARÇASI VE IŞIN



Doğru, iki ucundan sonsuza kadar uzatılabilir.  
Doğru parçasının iki ucu da kapalıdır. Uzatılamaz.  
Işın, bir ucundan kapalıdır. Diğer ucu sonsuza kadar uzatılabilir.

● Aşağıda verilen çizgi modellerinin altına "doğru", "doğru parçası" veya "ışın" adlarından uygun olanını yazınız.



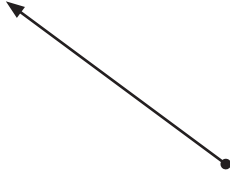
.....




.....




.....



.....




.....



.....

● Aşağıda verilen noktalı zemin üzerinde mavi renkli 3 tane doğru, kırmızı renkli 3 tane doğru parçası ve yeşik renkli 3 tane ışın modeli çiziniz.



● Aşağıdaki görselleri inceleyiniz. Altlarına "doğru", "doğru parçası" veya "ışın" adlarından uygun olanını yazınız.




.....



.....



.....



.....



.....



.....



.....



.....

● Aşağıdaki cümlelerin sonundaki noktalı yerlere "doğru", "ışın", "doğru parçası" ifadelerinden uygun olanları yazınız.

✓ İki ucu da açılmamış olan kalem .....  
..... modeline örnektir.

✓ Arabaların gittiği yol .....  
..... modeline örnektir.

✓ Cetvel ..... modeline  
örnektir.

✓ Başımızda uzayan saçlarımız .....  
..... modeline örnektir.




✓ Çubuk makarnalar .....  
..... modeline örnektir.

✓ İki ucu da açılmış kurşun kalem .....  
..... modeline örnektir.

✓ Çiviler ..... modeline  
örnektir.

● Aşağıdaki test sorularını yanıtlayınız.

1. Aşağıdaki eşleştirmelerden hangisi yanlıştır?

- a.  doğru  
b.  ışın  
c.  doğru parçası

2. Aşağıdakilerden hangileri doğrudur?

1. Doğru parçası iki ucundan sınırlıdır.  
2. Doğru iki ucundan da sınırsızdır.  
3. Işın bir ucundan sınırlı bir ucundan sınırsızdır.

- a. 1 ve 2  
b. 2 ve 3  
c. 1, 2 ve 3

3. Doğrunun çizgi modelinin her iki ucundaki okun anlamı aşağıdakilerden hangisidir?

- a. İki ucundan da uzatılmayacağı  
b. İki ucundan istenildiği kadar uzatılabileceği  
c. Bir ucundan istenildiği kadar uzatılabileceği



4. Aşağıdaki ifadelerden hangisi yanlıştır?

- a. Doğru iki ucu sınırsız çizgidir.  
b. Doğru parçası iki ucu sınırlı çizgidir.  
c. Doğru bir ucu sınırlı çizgidir.

5. "F" harfinde kaç adet doğru parçası vardır?

- a. 2  
b. 3  
c. 4

6. Aşağıdaki çizgi modellerinden hangisi "ışın" değildir?

- a.   
b.   
c. 