











2.
HAFTA

 Rakamları görsellerle şifreledik. Bu şifrelere çözüp aşağıdaki işlemleri yapabilir misin?

  +   = 79

									
5	2	7	3	4	9	6	8	0	1

1   +   =

2   +   =

3   +   =

4   -   =

5   -   =

6   +   =

7   -   =





▲ Aşağıdaki metni okuyup soruları yanıtlayınız.

BEKLE BENİ MARS



Güneş Sistemi'nde hangi gezegene gitmek istersiniz? Bana bu soru sorulduğunda Mars'a gitmek istediğimi söylemiştim. Neden mi? Dünya'dakinden üç kat daha fazla yukarı zıplayabiliyorum. Ne kadar güzel. Her yere zıplayarak giderdim. Kırmızı Gezegen veya Kızıl Gezegen olarak da biliniyor Mars. En sevdiğim renktir kırmızı. Sonra, kırmızı gezegende büyük kum fırtınaları olurmuş. Yani rüzgar da çok esiyormuş. Bende bol bol uçurtma uçururdum. Hiç canım sıkılmazdı. Dağcılıkla uğraşırdım. Güneş Sisteminde

20 en büyük dağa Mars ev sahipliği yapmaktaymış. Olympos Dağı'nın yüksekliği 25 kilometre. Bizim Everest'ten üç kat daha yüksek bir dağ. Ne kadar yüksek bir dağ. Suyumda var ama donmuş halde. Kutupları Dünya'daki gibi buzullarla kaplı. Suyu da oradan alırım. Oksijen az. Bunun için her gün düşünüyorum. Ağaçta yok. Isınmak için ne yaparım. Belki ısınma sorununu çözebilirim. Evdeki elektrikli ocağı götürürsem sorunu çözmüş olurum galiba. Kalın kazaklarımı da yanıma alırım. Yemeği de anneme yaptırırım. Yıllarca yetecek yemeği bana ancak annem yapar. Büyük bir buzdolabının içine koyarım. Bozulmadan orada saklarım. İşte yemek sorunu da çözüldü. Her şeye bir çözüm buluyorum ama oksijen sorununu nasıl çözeceğim diye düşünüyorum. Daha zamanım var. Durmadan bu işe kafa yoruyorum. Bu sorunu da çözersem hiç beklemeyeceğim. Hemen yola çıkacağım.



 Aşağıdaki soruları okuduğunuz metne göre yanıtlayınız.

1 Aşağıdakilerden hangisi çocuğun Mars'a gitme nedenlerinden değildir?

- A. Üç kat daha yükseğe zıplıyormuş.
- B. Kırmızı renkli olduğu için.
- C. Yüksek bir dağa sahipmiş.

2 Olympus Dağı nasıl bir dağmış?

- A. Dağınık ve geniş bir dağ
- B. Çok yüksek bir dağ
- C. Her yanından sular akan bir dağ

3 Yemek sorununu çözümü için kimden yardım alacaktı?

- A. Baba
- B. Anne
- C. Öğretmeni

4 Sizlerde Güneş Sistemi'nden bir gezegene gidecek olsanız hangi gezegeni seçersiniz? Kısaca nedenlerini yazalım.

.....

.....

 Aşağıda verilen kelimelerden yanlış yazılanların olduğu kutucukları kırmızıya boyayınız.

Doğru	Pirens	Tıraş	İspat	Yalnız
Soğan	Gaste	Fiyat	Çenber	Tramvay

 Aşağıdaki olayları oluş sırasına göre sıralayıp eşleştiriniz.

İçinden çizim kâğıtlarını çıkardı. ●

Çantasını açtı. ●

Cetveli kullanarak çizim yaptı. ●

Boya kalemlerini çıkardı. ●

Çizimleri tamamladı. ●

Çalışma masasına oturdu. ●

Çizimlerini dosyaya koydu. ●

1

2

3

4

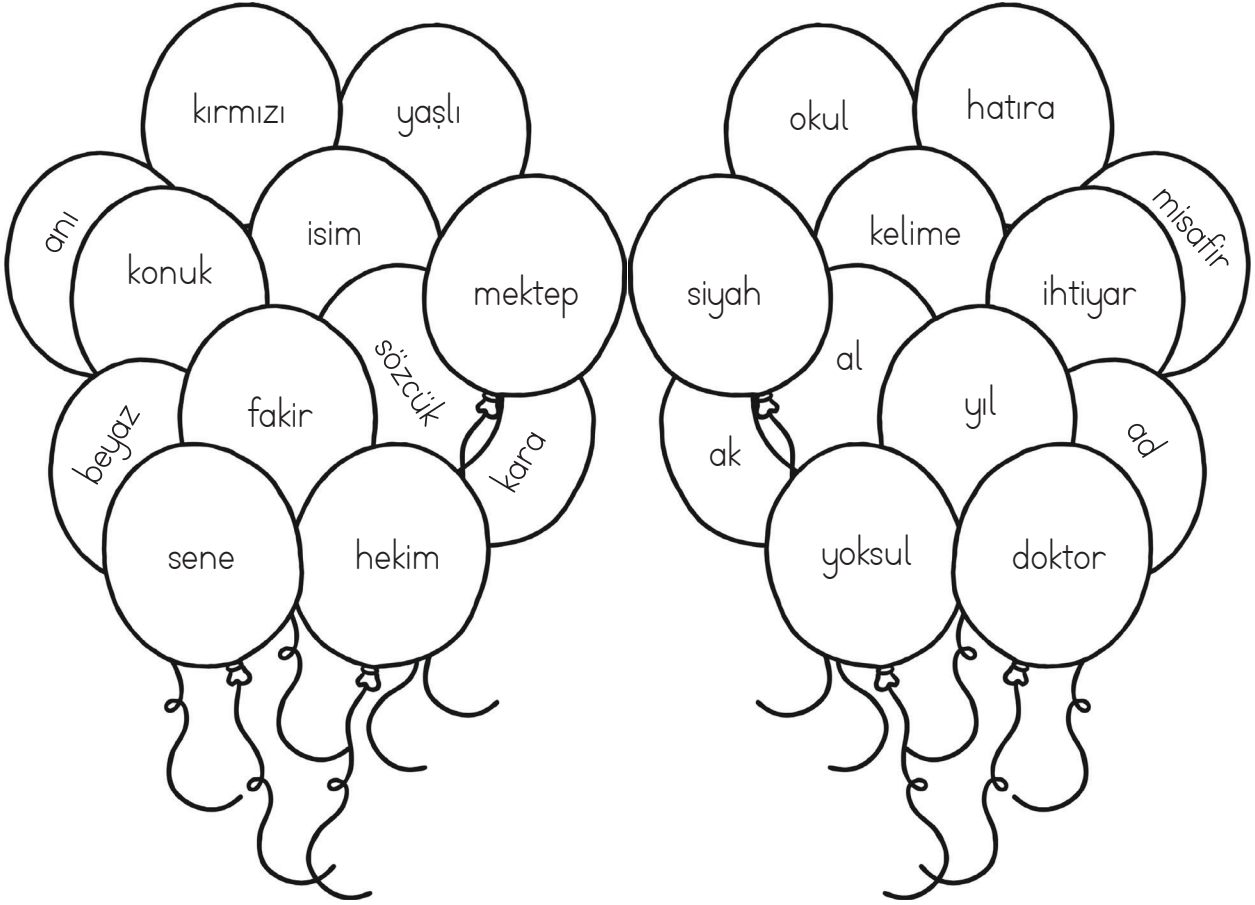
5

6

7


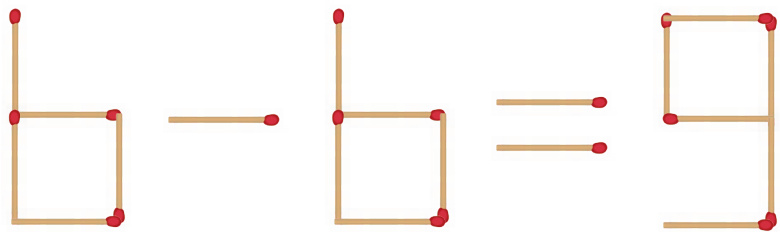
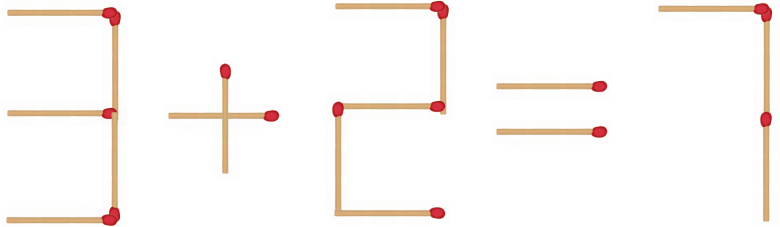


Balonların üzerindeki eş anlamlı sözcükleri aynı renge boyayalım.



22

1 adet kibrit çöpünün yerini değiştirerek eşitliği sağlayınız.



MINİ TEST -3-

1 Aşağıdaki sözcüklerden hangisinin eş anlamı yoktur?

- a) talebe b) masa c) kuvvet

2 Aşağıdaki cümlelerin hangisinde çoğul anlam taşıyan bir kelime vardır?

- a) Gofret rafta bayatlamış.
b) Bisikletlerimizi buraya bırakalım.
c) İskemle yağmurda kalmış.

3 Aşağıdakilerden hangisi çoğul kelimedir?

- a) Çiçekçi
b) Çiçekler
c) Çiçek

4 Aşağıdaki sözcüklerden hangisinin zıt anlamı yoktur?

- a) kırmızı b) hafif c) ön




5 Aşağıdaki hangi sözcüğün yazımında hata yapılmıştır?

- a) sofra b) herkez
c) gündelik

6 Ünlü Harf: 

Ünsüz Harf: 

Buna göre "Evcil" sözcüğünün sembolle yazılışı aşağıdakilerden hangisidir?

- a)     
b)     
c)     

7 Aşağıdakilerden hangisinde hediye kelimesinin eş anlamlısı vardır?

- a) Eve gitmek için ayrıldı.
b) Bir kitap satın aldı.
c) Çok güzel bir armağan aldım.

8 "Ayakkabı" kelimesinin eş anlamlısı aşağıdakilerden hangisinde vardır?

- a) Ayaklarım çok ağrıyor.
b) Bu bot sana yakışmış.
c) Pabuçlarımı kimseye vermem.

9 "Hem cesurdur, hem kurnaz." cümlesinde kaç hece vardır?

- a) 6 b) 7
c) 8

Resmin üzerindeki sayıları en yakın olduğu onluklara yuvarlayıp buldukları yerleri uygun renklerle boyayalım.

ÖNCE YUVARLA, SONRA BOYA!

10'a yuvarlanan sayıları



40'a yuvarlanan sayıları



20'ye yuvarlanan sayıları



50'ye yuvarlanan sayıları




30'a yuvarlanan sayıları



60'a yuvarlanan sayıları



24



Aşağıdaki toplama işlemlerini yapıp şifrelenmiş sözcüğü bulalım.

$$\begin{array}{r} 47 \\ + 28 \\ \hline \end{array}$$

Ü

$$\begin{array}{r} 58 \\ + 39 \\ \hline \end{array}$$

S

$$\begin{array}{r} 38 \\ + 25 \\ \hline \end{array}$$

I

$$\begin{array}{r} 49 \\ + 49 \\ \hline \end{array}$$

G

$$\begin{array}{r} 44 \\ + 36 \\ \hline \end{array}$$

M

$$\begin{array}{r} 53 \\ + 37 \\ \hline \end{array}$$

E

$$\begin{array}{r} 49 \\ + 26 \\ \hline \end{array}$$

Ü

$$\begin{array}{r} 39 \\ + 38 \\ \hline \end{array}$$

C

$$\begin{array}{r} 54 \\ + 38 \\ \hline \end{array}$$

N

$$\begin{array}{r} 39 \\ + 17 \\ \hline \end{array}$$

F

$$\begin{array}{r} 38 \\ + 26 \\ \hline \end{array}$$

T

$$\begin{array}{r} 58 \\ + 12 \\ \hline \end{array}$$

İ

$$\begin{array}{r} 34 \\ + 47 \\ \hline \end{array}$$

Ç


$$\begin{array}{r} 52 \\ + 29 \\ \hline \end{array}$$

Ç

$$\begin{array}{r} 42 \\ + 33 \\ \hline \end{array}$$

Ü

25



$$\begin{array}{r} 35 \\ + 28 \\ \hline \end{array}$$

I

$$\begin{array}{r} 57 \\ + 15 \\ \hline \end{array}$$

A

$$\begin{array}{r} 65 \\ + 27 \\ \hline \end{array}$$

N



75	81	75	92	77	75

97	63	92	63	56	72

98	90	81	64	70	80



MINİ TEST -4-

4 onluk 4 birlik + 3 onluk 8 birlik

1 Yukarıda verilen toplama işleminin sonucu kaçtır?

- a) 78 b) 82 c) 86

A-13-15-18-22-27-Z

2 Yukarıdaki sayılar belirli bir kurala göre, çizilmiştir. A ve Z yerine yazılan sayıların toplamı kaçtır?

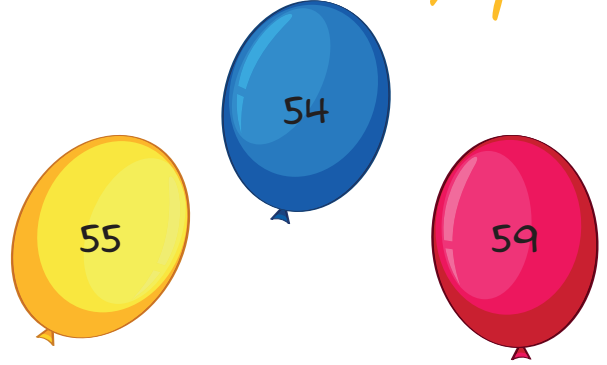
- a) 48 b) 55 c) 59

3 Şeyma'nın 67, Kiraz'ın 83 tokası vardır. Toka sayılarının en yakın onluğa yuvarlanmış hali aşağıdaki seçeneklerin hangisinde doğru verilmiştir?

- a) 70 - 90 b) 80 - 90
c) 70 - 80

4 Can'ın 24 bilyesi vardır. Kuzey'in bilyeleri Can'ın bilyelerinden 26 tane fazla ise ikisinin toplam kaç bilyesi vardır?

- a) 74 b) 76 c) 80



5 Balonlarda yazan sayılardan hangisi diğerlerinden farklı bir onluğa yuvarlanır?

- a) Sarı b) Mavi
c) Pembe

pekişen yayınları



Hami

26 Yaşında



Çağlar

29 Yaşında




Maya

24 Yaşında


6 Hami, Maya ve Çağlar'ın yaşlarını en yakın oldukları onluğa yuvarladığımızda toplam sayı kaç olur?

- a) 70 b) 80 c) 90

Look and write.



Hello/Hi




Good morning

Good night

~~Hello
/Hi~~

Good afternoon

Good evening



Write.

Hello!



Hi. Good morning

What's your name?



....., you?

My name is Lorin. Nice to meet you.



.....

How are you, Greg?



.....

I'm fine. Thanks. Good bye



.....



I'm fine. Thank you. How are you?

My name is Greg.

Nice to meet you, too.

See you. Bye



30 Aşağıdaki konuşma balonlarında doğru ifadeleri maviye, yanlış olanları kırmızıya boyyalım.

Peçete ve tuvalet kâğıtlarını yeterince kullanırım.

Sayfalarımı tamamlamadan diğer sayfalara geçerim.

Okulumu temiz tutarak daha az temizlik malzemesi kullanılmasını sağlarım.

Boya kalemlerinin yarısına geldiğimde atarım.

Açık bırakılan muslukları kapatırım.

Gereksiz yanan lambaları kapatırım.

Ders araçlarını kullanırken dikkat etmem.

Defterlerimi istediğim gibi karalayabilirim.

Okul tuvaletlerindeki sıvı sabunları avucum dolana kadar doldururum.

Aşağıdaki ifadeleri doğru bir şekilde eşleştirelim.

Adil olmak

Güzel olmak

Bencil olmak

Yardımsaver olmak

Zor günlerinde yan yana olmak

Paylaşımçı olmak

Güvenilir olmak

Dürüst olma

Arkadaşlarımda
Olması
Gerekenler

Arkadaşlarımda
Olmaması
Gerekenler

