




Aşağıdaki kodlara uygun olarak sayfanın alt kısmındaki kareli alanları dikkatlice boyayalım.



1	10B
2	1B - 4G - 5B
3	1B - 1G - 1SY - 2G - 5B
4	1SY - 2G - 1K - 4G - 2B
5	1B - 3K - 1G - 4SY - 1B
6	1B - 3K - 1SY - 1B - 4SY
7	2B - 3K - 1G - 1B - 1G - 1SY - 1B
8	3B - 3K - 2G - 2B
9	6B - 1T - 3B
10	5B - 1T - 1B - 1T - 2B

31

1									
2									
3									
4									
5									
6									
7									
8									
9									
10									



 Aşağıdaki şiiri okuyup soruları yanıtlayınız.

EKMEK

Çiftçi sürer tarlayı,
Sonra eker buğdayı.

Boy verir azar azar,
Sapları gittikçe uzar.

Başaklar olgunlaşır,
İçleri dolgunlaşır.

Yazın artınca sıcak,
Sararır her bir başak.

Biçerler ekinleri,
Şenlenir harman yeri.

Olup bitince harman,
Ayrılır buğday saptan.

Bitmedi işler gene,
Oradan değirmene.

Buğdayı götürürler,
Değirmen taşı döner.

Ezer un yapar bunu,
Fırınlardan alır unu.

Su, maya kor yoğurur;
Yapar bir güzel hamur.

Sonra fırına satar,
Pişirir; bize satar.

Hasan Ali YÜCEL

32

1 Şiire göre tarlayı süren kimdir?

- A. Traktör
- B. Veteriner
- C. Çiftçi

2 Harman olduğunda buğdaya ne olur?

- A. Sapından ayrılır.
- B. Güzel kokan ekmeğe olur.
- C. Her yer şenlenir.


3 Başakların sararmasının nedeni nedir?


- A. Yağmurun yağması
- B. Tarlada beklemesi
- C. Yazın artan sıcaklık

4 Çiftçi olmak ister miydiniz? Nedenini kısaca yazınız.

.....



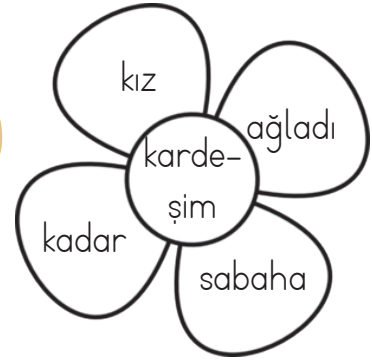

.....



 Zıt anlamlı sözcüklerin yazılı olduğu dondurmaları birbirleriyle örnekteki gibi eşleştiriniz.



 Aşağıdaki çiçeklerin yapraklarında yazan sözcükleri kullanarak anlamlı ve kurallı cümleler oluşturalım.



! Aşağıdaki cümlelerde () ile ayrılmış yerlere uygun noktalama işaretlerini koyalım. Ardından kelebek resmini cümlelerin sıra numarasına ve noktalama işaretinin rengine göre boyayınız.

? Soru İşareti

! Ünlem

• Nokta

/ Virgül

! Kesme İşareti

1 İmdat() Lütfen bana yardım edin.



2 Pazardan elma() armut ve muz aldım.


3 Sınıfça Anıtkabir() i ziyaret ettik.




4 Koşu yarışmasında 3() oldum.

5 Bu akşam birlikte sinemaya gidelim mi()

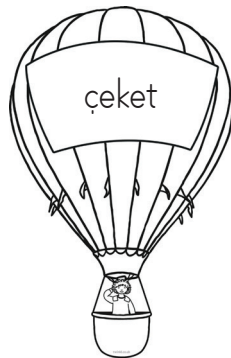
34



 Aşağıdaki balonların üzerinde bazı sözcükler yazmaktadır. Bu sözcüklerin yazımını doğruysa balonu maviye, yanlışsa kırmızıya boyayınız.



35



▲ Aşağıdaki çıkarma işlemlerini yapıp bulduğunuz sonuçları dinozorun üzerindeki beneklerden bulup boyayalım.

$$\begin{array}{r} 53 \\ - 37 \\ \hline \end{array}$$

$$\begin{array}{r} 61 \\ - 19 \\ \hline \end{array}$$

$$\begin{array}{r} 92 \\ - 47 \\ \hline \end{array}$$

$$\begin{array}{r} 83 \\ - 69 \\ \hline \end{array}$$

$$\begin{array}{r} 75 \\ - 58 \\ \hline \end{array}$$

$$\begin{array}{r} 86 \\ - 48 \\ \hline \end{array}$$

$$\begin{array}{r} 54 \\ - 27 \\ \hline \end{array}$$

$$\begin{array}{r} 96 \\ - 78 \\ \hline \end{array}$$

$$\begin{array}{r} 90 \\ - 39 \\ \hline \end{array}$$

$$\begin{array}{r} 88 \\ - 69 \\ \hline \end{array}$$

$$\begin{array}{r} 45 \\ - 38 \\ \hline \end{array}$$

$$\begin{array}{r} 63 \\ - 29 \\ \hline \end{array}$$

$$\begin{array}{r} 83 \\ - 57 \\ \hline \end{array}$$

$$\begin{array}{r} 98 \\ - 59 \\ \hline \end{array}$$



$$\begin{array}{r} 83 \\ - 28 \\ \hline \end{array}$$

$$\begin{array}{r} 53 \\ - 45 \\ \hline \end{array}$$

$$\begin{array}{r} 83 \\ - 37 \\ \hline \end{array}$$

$$\begin{array}{r} 85 \\ - 38 \\ \hline \end{array}$$

36



 Aşağıdaki problemleri çözelim.

1 İki basamaklı en büyük sayı ile en küçük sayının farkı kaçtır?

ÇÖZÜM:

2 Ahmet, 80 sayfalık bir kitabın ilk gün 18, ikinci gün 25 sayfasını okudu. Ahmet'in kitabı bitirmesi için kaç sayfası kalmıştır?

ÇÖZÜM:

3 9 deste yumurtanın 12 tanesi kırılırsa geriye kaç yumurta kalır?

ÇÖZÜM:

4 9 onluk ve 8 birlikten, 2 onluk ve 9 birlik çıkarsa geriye kaç kalır?

ÇÖZÜM:

5 Elma ağacında 33 elma vardı. Efe bunların 17 tanesini topladı. Ağaçta Efe'nin toplamadığı kaç ağaç kalmıştır?

ÇÖZÜM:

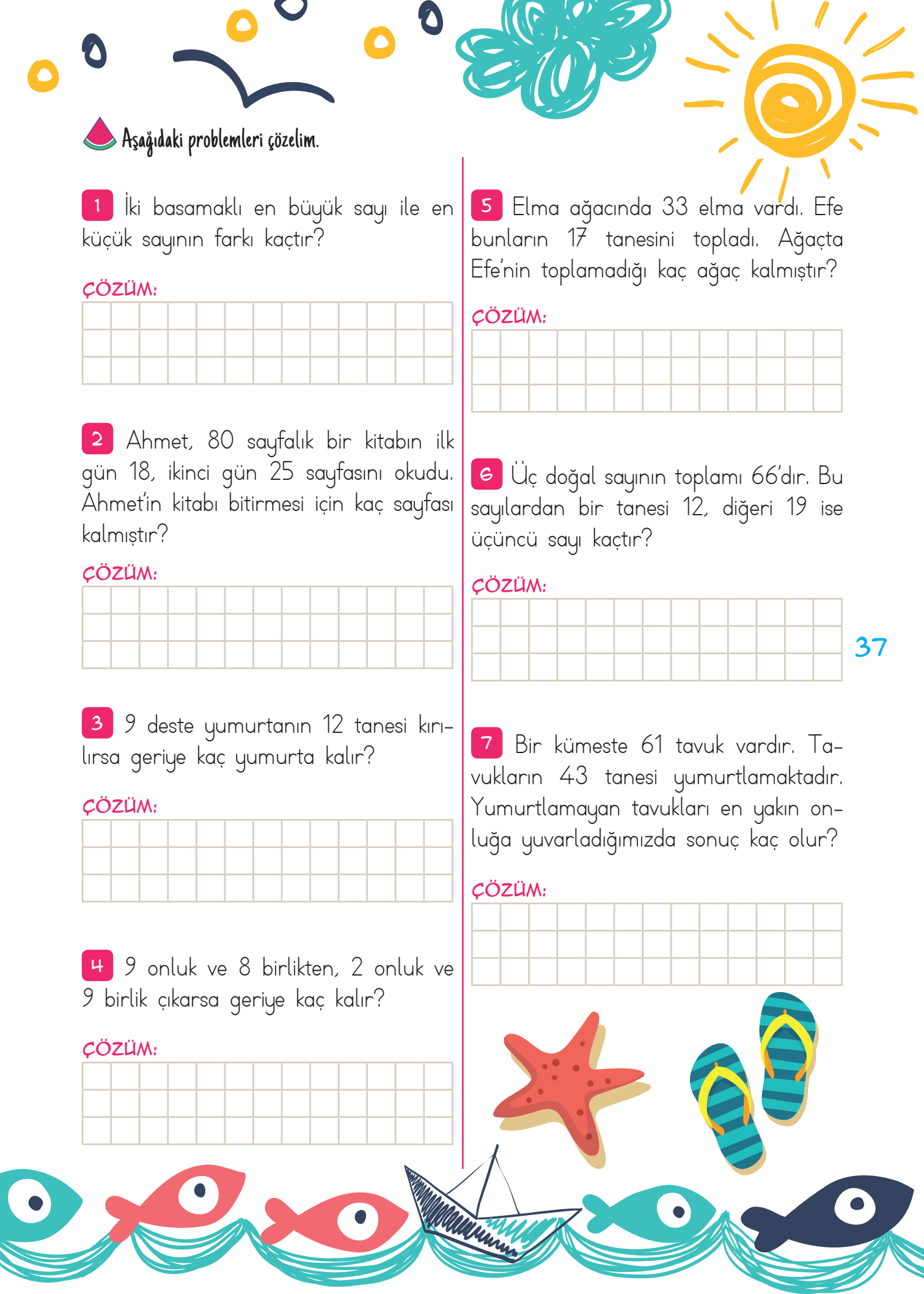
6 Üç doğal sayının toplamı 66'dır. Bu sayılardan bir tanesi 12, diğeri 19 ise üçüncü sayı kaçtır?

ÇÖZÜM:

37

7 Bir kümeste 61 tavuk vardır. Tavukların 43 tanesi yumurtlamaktadır. Yumurtlamayan tavukları en yakın onluğa yuvarladığımızda sonuç kaç olur?

ÇÖZÜM:



MINİ TEST -5-

1 68 sayısının onlar basamağındaki sayının basamak değeri ile 32 sayısının onlar basamağındaki sayısından basamak değeri olarak kaç fazladır?

- a) 20 b) 30 c) 40

2 Cemil Usta yaptığı 71 koltuğun bir kısmını satıyor. Satılmayan 33 koltuk kaldığına göre, Cemil Usta'nın sattığı koltuk sayısı kaçtır?

- a) 20 b) 38 c) 40

3 Bir çiftlikte 86 tavuk vardır. Civcivlerin sayısı tavukların sayısından 19 eksiktir. Civcivlerin sayısını bulmak aşağıdaki hangi işlem yapılmalıdır?

- a) $86 + 19$ b) 86×19
c) $86 - 19$

4 Bir çıkarma işleminde çıkan 30, fark 14 ise eksilen kaçtır?

- a) 38 b) 40 c) 44

5 Bayram Amca bahçesine 82 gül fidanı dikmek istiyor. Oğlu Semih 29 tanesini diktiğine göre Bayram Amca'nın dikmesi için kaç gül fidanı kalmıştır?

- a) 42 b) 53 c) 57

6 Mehtap 84 tane balon şişiriyor. Bunları bahçedeki ipe asmak isterken 18 tanesi patlıyor. Ardından Mehtap 27 balon daha ekleyip tekrar ipe asıyor. Buna göre, ipte kaç balon vardır?

- a) 72 b) 85 c) 93

7 Bir otobüste 61 yolcu vardır. Birinci durakta 9 yolcu inmiş, 6 yolcu binmiştir. İkinci durakta 23 yolcu inmiştir. Son durumda otobüste kaç yolcu vardır?

- a) 28 b) 33 c) 35

8 Ben 17 yaşındayım. Selçuk ise benden 5 yaş küçüktür. Selçuk ve benim yaşlarımızın toplamı kaçtır?

- a) 25 b) 27 c) 39

 Aşağıdaki soruların yanıtlarını bulmacaya yerleştirelim.

1 Toplu taşıma araçlarının yolcu indirip bindirdiği yer

2 Hızın eş anlamlısı

3 İstiklâl Marşımızın bestecisi

4 İnsanların harcamalarından kıstlamaya giderek yaptıkları birikim.

5 Aile bireylerini birbirine bağlayan duygu

6 Atatürk'ün ilk gittiği okul

7 İnsanların yuvası

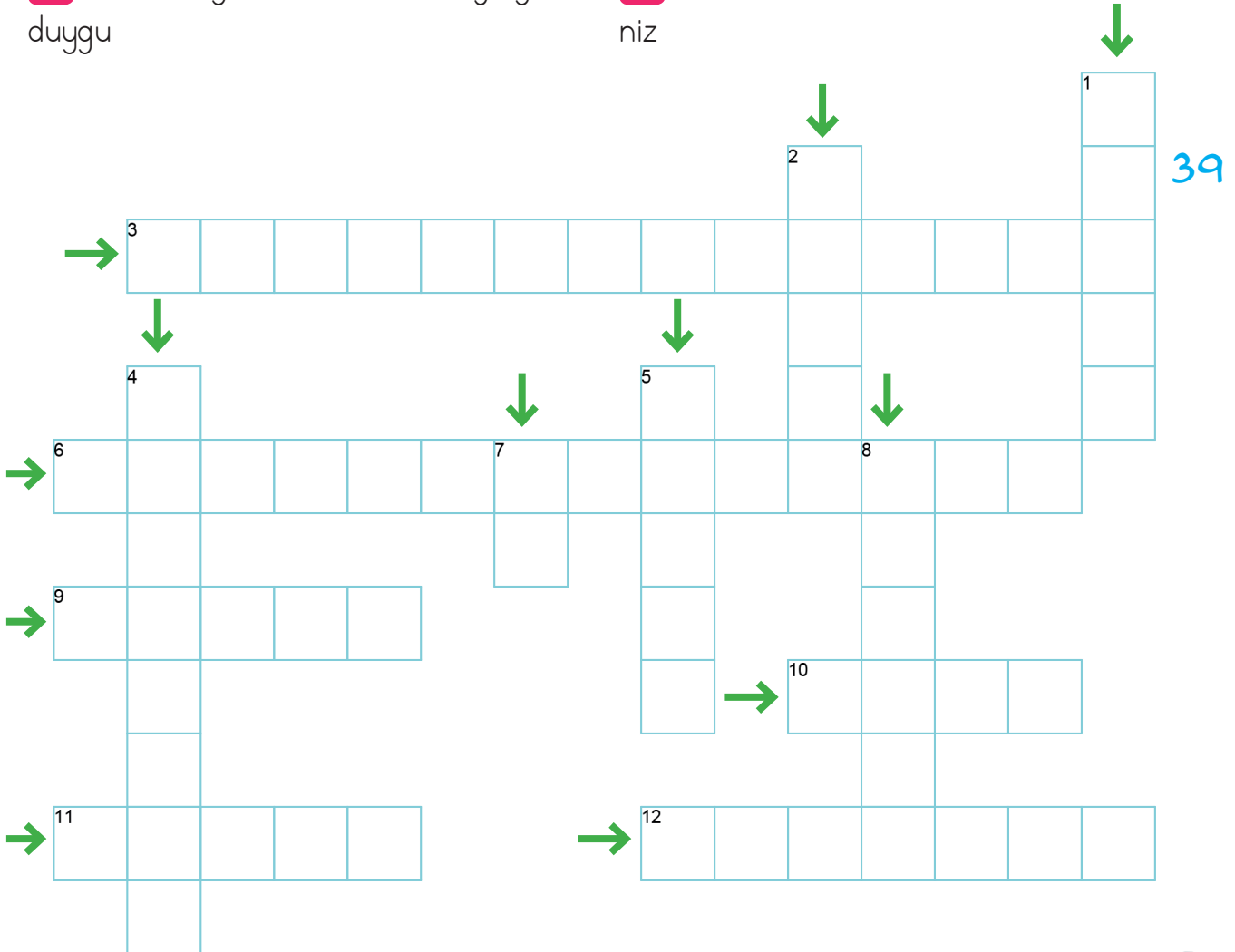
8 İlaçların satıldığı yer

9 Yolcu ve yük taşıyan araç

10 Babamın kız kardeşi

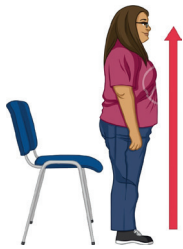
11 Dünyamızı aydınlatan yıldız

12 Yurdumuzun çevresindeki bir deniz





Match



TURN RIGHT


TURN LEFT

OPEN THE DOOR

CLOSE THE DOOR

SIT DOWN

STAND UP



40




Circle

Color

Cut

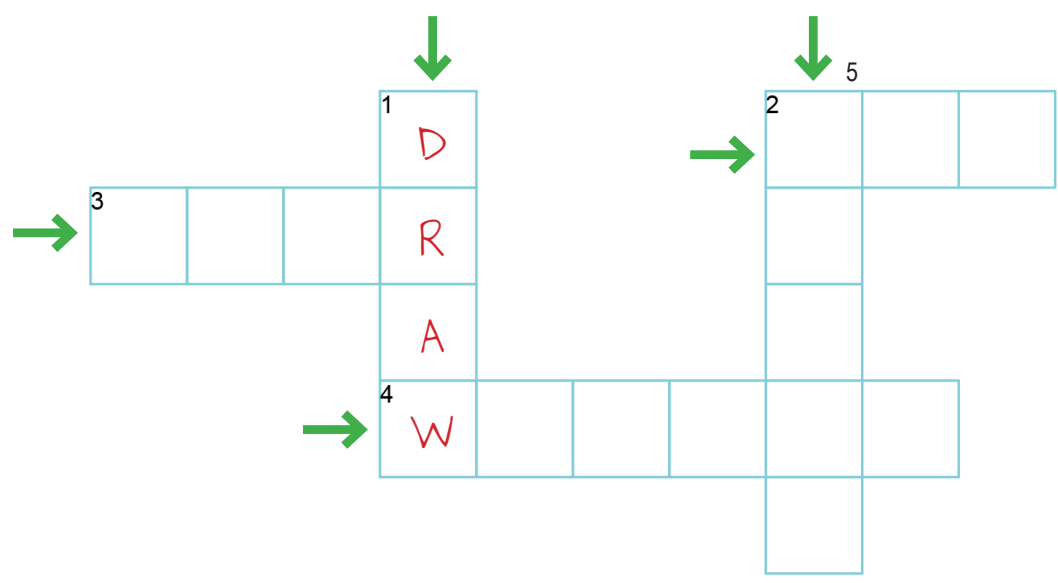
Open the window

Close the window





Do the puzzle



Unscramble and write

s i t k c → *Stick*

u c t →

d w r a →

c l o r o →



 Aşağıdaki ifadelerden doğru olanlarının yanına "Evet", yanlış olanlarına "Hayır" yazalım.


- Duygu ve düşüncelerimizi çekinmeden ifade etmeliyiz.
- Bizlere yardım edildiğinde teşekkür ederek karşılık vermeliyiz.
- Sorunlarımıza birilerini suçlayarak çözüm bulmamalıyız.
- Kendimizce doğru olmayan durumlara itiraz etmeliyiz.
- Hata yapan arkadaşlarımızla hiç konuşmamalıyız.
- İsteklerimizi söylerken nezaket sözcüklerine başvurmalıyız.
- Çevremizdeki arkadaşlarımızı incitecek kelimeler kullanmamalıyız.
- Günlük yaşantımızda başımızdan geçen olaylardan ders çıkarmalıyız.
- Haklılığımızı ağlayarak anlatmamalıyız.


 Aşağıdaki noktalı alanlara uygun sözcükleri yazalım.

42

tebrik	doğal	farklı	kurallarına
uygun	incitecek	yakınlaştırır	eğlenmek

- ➔ Oyun sonunda kaybettiyssek kazananları etmeliyiz.
- ➔ Oyun uymayan arkadaşlarımızı uyarmalıyız.
- ➔ Oyunda kazandığımızda rakibimizi davranışlardan uzak durmalıyız.
- ➔ Oyun sırasında arkadaşlarımıza yapmaları gerekeni bir şekilde söylemeliyiz.
- ➔ Oyun oynarken ilk amacımız olmalı.
- ➔ Her oyunun kuralları vardır.
- ➔ Oyunda kazanmayı ve kaybetmeyi de karşılamalıyız.
- ➔ Oyunlar bizleri birbirimize.....





 Aşağıdaki resimler arasındaki 10 farkı bulalım.



43

